





# 小数の意味と表し方7

● 小数で表す1cmより短い長さ

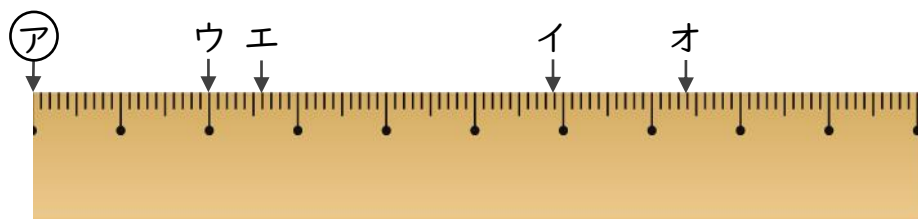


日にち：            月            日

名まえ \_\_\_\_\_

・ ㊦からイ、ウ、エ、オまでの長さは、それぞれ何cmですか。  
(うすい字はなぞりましょう。)

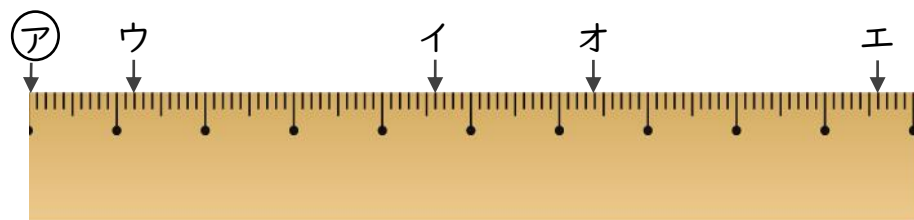
①



答え    ㊦からイ    5.9 cm            ㊦からウ    2 cm

          ㊦からエ                                    ㊦からオ

②



答え    ㊦からイ                                    ㊦からウ

          ㊦からエ                                    ㊦からオ





# 小数の意味と表し方7

● 小数で表す1cmより短い長さ

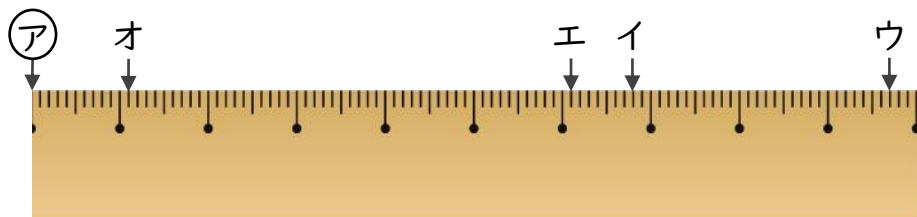


日にち：            月            日

名まえ \_\_\_\_\_

・ ㊦からイ、ウ、エ、オまでの長さは、それぞれ何cmですか。  
(うすい字はなぞりましょう。)

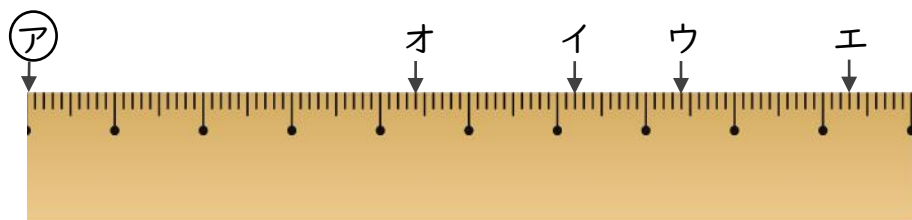
①



答え    ㊦からイ    6.8 cm    ㊦からウ

          ㊦からエ                            ㊦からオ

②



答え    ㊦からイ                            ㊦からウ

          ㊦からエ                            ㊦からオ





# 小数の意味と表し方⑦

● 小数で表す1cmより短い長さ

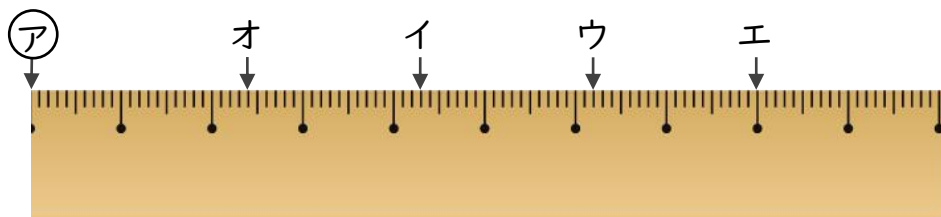


日にち：            月            日

名まえ \_\_\_\_\_

・ ㊦からイ、ウ、エ、オまでの長さは、それぞれ何cmですか。  
(うすい字はなぞりましょう。)

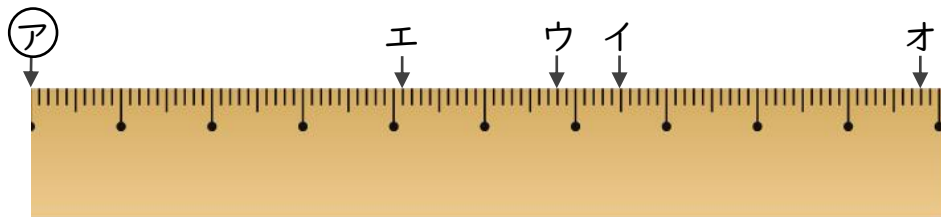
①



答え    ㊦からイ    4.3    cm            ㊦からウ

          ㊦からエ                            ㊦からオ

②



答え    ㊦からイ                            ㊦からウ

          ㊦からエ                            ㊦からオ





# 小数の意味と表し方7

● 小数で表す1cmより短い長さ

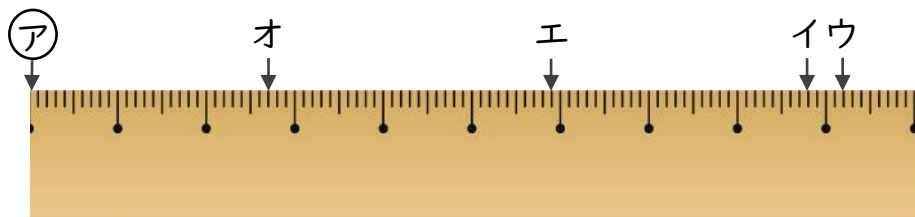


日にち：            月            日

名まえ \_\_\_\_\_

・ ㊦からイ、ウ、エ、オまでの長さは、それぞれ何cmですか。

①



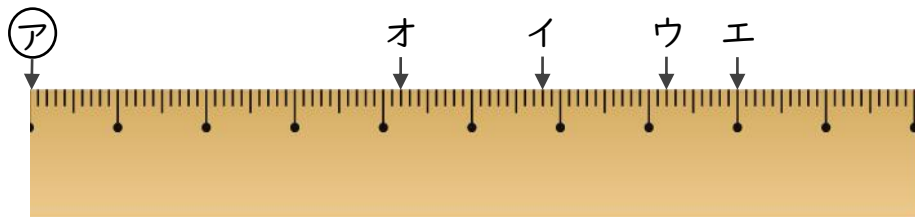
答え ㊦からイ

㊦からウ

㊦からエ

㊦からオ

②



答え ㊦からイ

㊦からウ

㊦からエ

㊦からオ





# 小数の意味と表し方7

● 小数で表す1cmより短い長さ

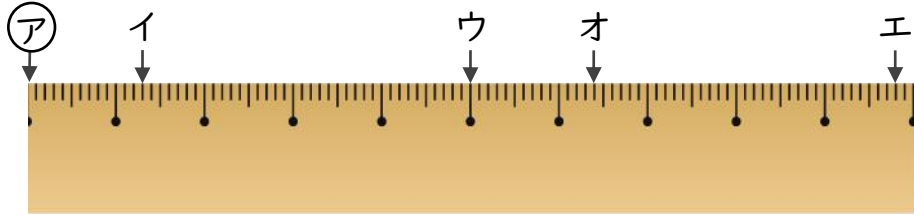


日にち：            月            日

名まえ \_\_\_\_\_

・ ㊦からイ、ウ、エ、オまでの長さは、それぞれ何cmですか。

①



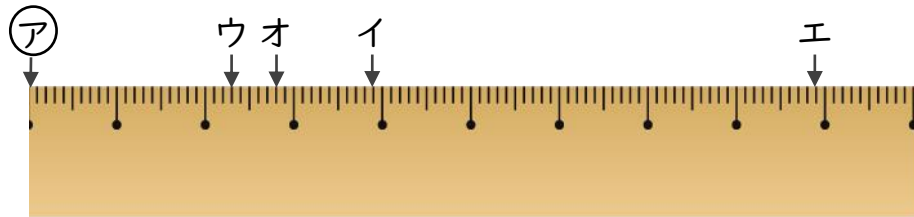
答え    ㊦からイ

㊦からウ

㊦からエ

㊦からオ

②



答え    ㊦からイ

㊦からウ

㊦からエ

㊦からオ

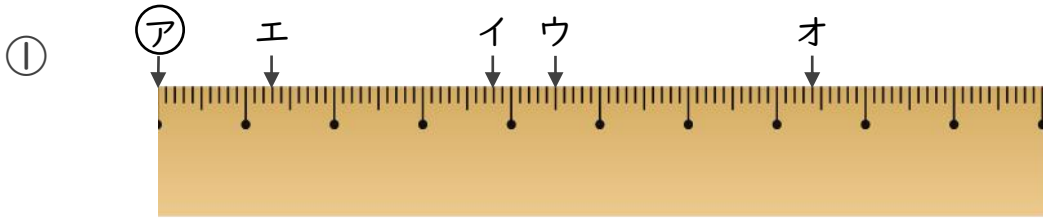








1 ㊦からイ、ウ、エ、オまでの長さは、それぞれ何cmですか。



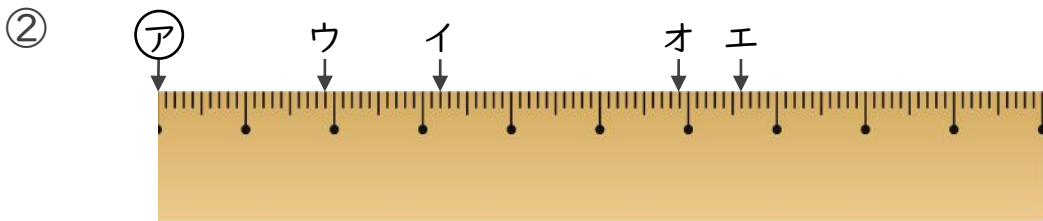
答え    ㊦からイ

㊦からウ

㊦からエ

㊦からオ

---



答え    ㊦からイ

㊦からウ

㊦からエ

㊦からオ

---

2 次のかさは何Lでしょうか。小数で答えましょう。

① 0.1Lの6こ分

答え \_\_\_\_\_

③ 0.1Lの2こ分

答え \_\_\_\_\_

② 4Lと、0.1Lの5こ分

答え \_\_\_\_\_

④ 2Lと、0.1Lの4こ分

答え \_\_\_\_\_



## 小数の意味と表し方7

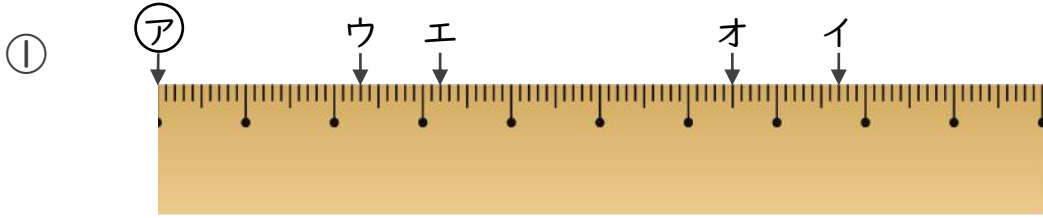
● 小数で表す1cmより短い長さ

# 14

日にち：          月          日

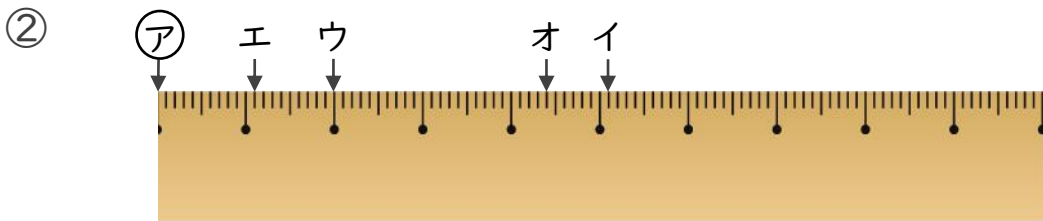
名まえ \_\_\_\_\_

1 ①からイ、ウ、エ、オまでの長さは、それぞれ何cmですか。



答え      ①からイ                                  ①からウ  
             ①からエ                                  ①からオ

---



答え      ①からイ                                  ①からウ  
             ①からエ                                  ①からオ

---

2 次のかさは何Lでしょうか。小数で答えましょう。

① 0.1Lの3こ分

答え \_\_\_\_\_

② 3Lと、0.1Lの9こ分

答え \_\_\_\_\_

③ 4Lと、0.1Lの8こ分

答え \_\_\_\_\_

④ 0.1Lの2こ分

答え \_\_\_\_\_



# 小数の意味と表し方7

● 小数で表す1cmより短い長さ

15

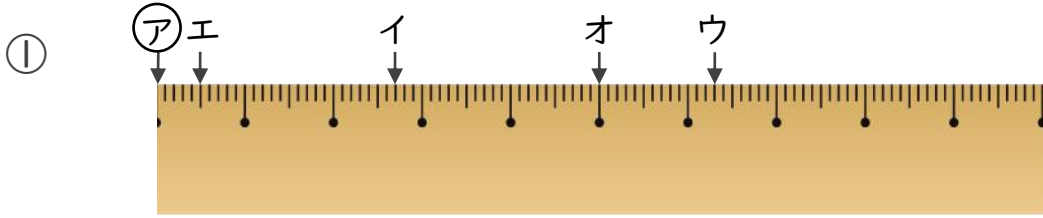
目指せ80点!



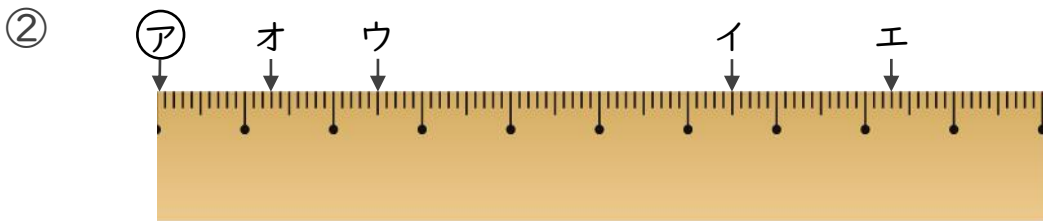
名まえ \_\_\_\_\_

1 ㉠からイ、ウ、エ、オまでの長さは、それぞれ何cmですか。

(各10点)



- 答え
- |      |      |
|------|------|
| ㉠からイ | ㉠からウ |
| ㉠からエ | ㉠からオ |
- 



- 答え
- |      |      |
|------|------|
| ㉠からイ | ㉠からウ |
| ㉠からエ | ㉠からオ |
- 

2 次のかさは何Lでしょうか。小数で答えましょう。(各5点)

① 1Lと、0.1Lの6こ分

答え \_\_\_\_\_

② 0.1Lの8こ分

答え \_\_\_\_\_

③ 0.1Lの3こ分

答え \_\_\_\_\_

④ 3Lと、0.1Lの7こ分

答え \_\_\_\_\_



# 小数の意味と表し方7

① 小数で表す1cmより短い長さ

16

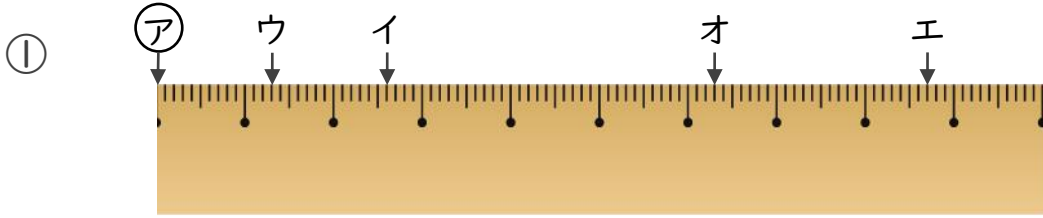
目指せ80点!



名まえ \_\_\_\_\_

1 ①からイ、ウ、エ、オまでの長さは、それぞれ何cmですか。

(各10点)

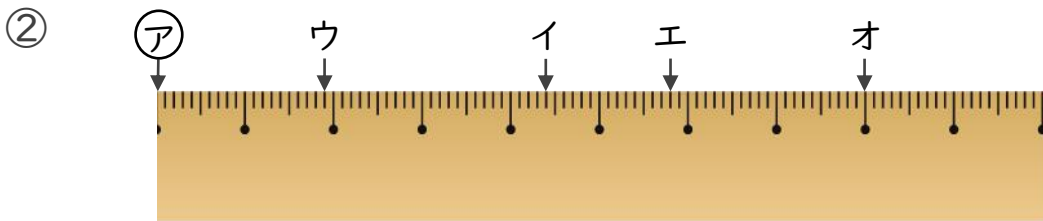


答え ①からイ

①からウ

①からエ

①からオ



答え ①からイ

①からウ

①からエ

①からオ

2 次のかさは何Lでしょうか。小数で答えましょう。(各5点)

① 0.1Lの8こ分

答え \_\_\_\_\_

③ 5Lと、0.1Lの8こ分

答え \_\_\_\_\_

② 1Lと、0.1Lの9こ分

答え \_\_\_\_\_

④ 0.1Lの7こ分

答え \_\_\_\_\_





# 小数の意味と表し方7

● 小数で表す1cmより短い長さ

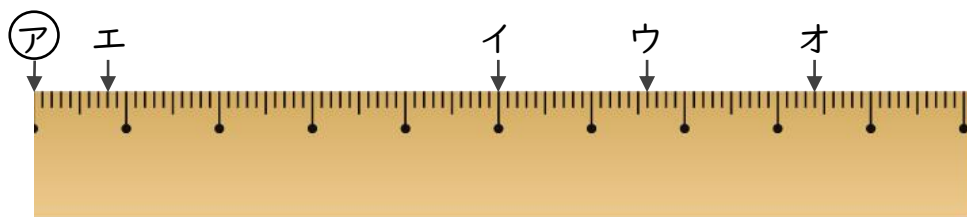


日にち：            月            日

名まえ \_\_\_\_\_

・ ㊦からイ、ウ、エ、オまでの長さは、それぞれ何cmですか。  
(うすい字はなぞりましょう。)

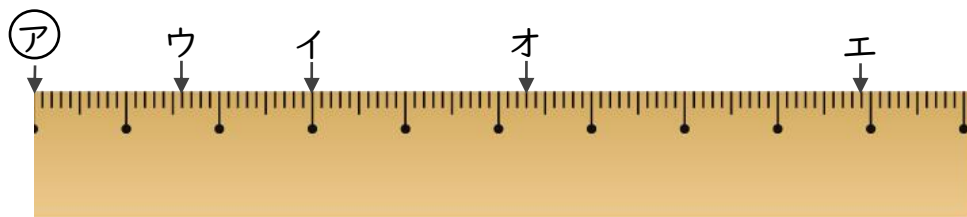
①



答え    ㊦からイ    5    cm            ㊦からウ    6.6    cm

          ㊦からエ    0.8    cm            ㊦からオ    8.4    cm

②



答え    ㊦からイ    3    cm            ㊦からウ    1.6    cm

          ㊦からエ    8.9    cm            ㊦からオ    5.3    cm



# 小数の意味と表し方7

● 小数で表す1cmより短い長さ

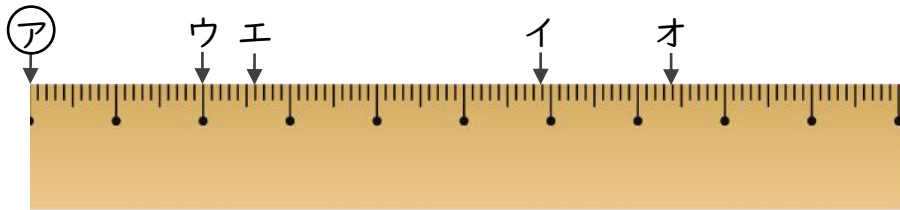


日にち：            月            日

名まえ \_\_\_\_\_

・ ㊦からイ、ウ、エ、オまでの長さは、それぞれ何cmですか。  
(うすい字はなぞりましょう。)

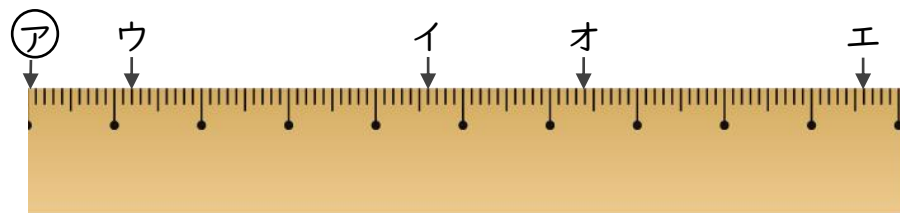
①



答え ㊦からイ 5.9 cm      ㊦からウ 2 cm

㊦からエ 2.6 cm      ㊦からオ 7.4 cm

②



答え ㊦からイ 4.6 cm      ㊦からウ 1.2 cm

㊦からエ 9.6 cm      ㊦からオ 6.4 cm



# 小数の意味と表し方7

● 小数で表す1cmより短い長さ

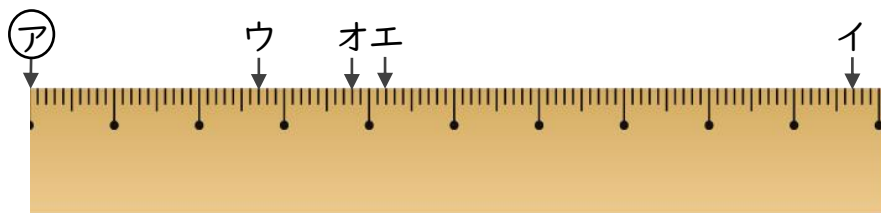


日にち：            月            日

名まえ \_\_\_\_\_

・ ㊦からイ、ウ、エ、オまでの長さは、それぞれ何cmですか。  
(うすい字はなぞりましょう。)

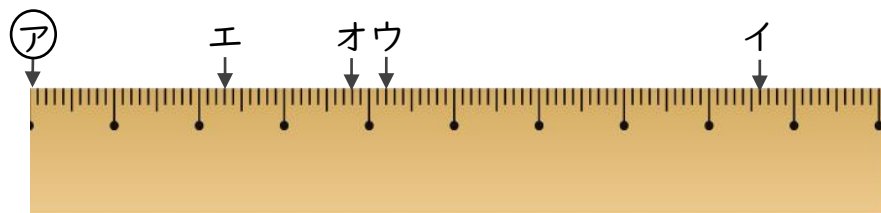
①



答え    ㊦からイ    9.7 cm            ㊦からウ    2.7 cm

          ㊦からエ    4.2 cm            ㊦からオ    3.8 cm

②



答え    ㊦からイ    8.6 cm            ㊦からウ    4.2 cm

          ㊦からエ    2.3 cm            ㊦からオ    3.8 cm



# 小数の意味と表し方7

● 小数で表す1cmより短い長さ

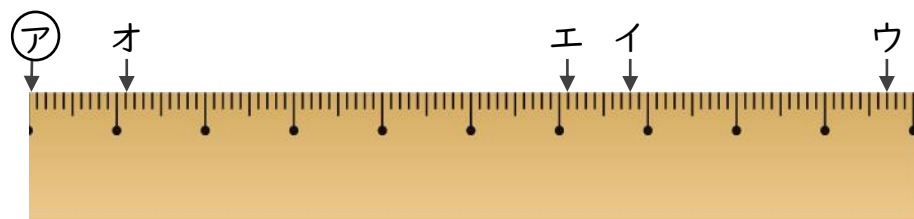


日にち：            月            日

名まえ \_\_\_\_\_

・ ㊦からイ、ウ、エ、オまでの長さは、それぞれ何cmですか。  
(うすい字はなぞりましょう。)

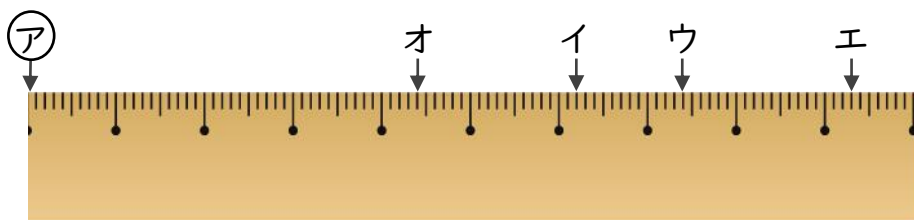
①



答え    ㊦からイ    6.8 cm            ㊦からウ    9.7 cm

          ㊦からエ    6.1 cm            ㊦からオ    1.1 cm

②



答え    ㊦からイ    6.2 cm            ㊦からウ    7.4 cm

          ㊦からエ    9.3 cm            ㊦からオ    4.4 cm



# 小数の意味と表し方7

● 小数で表す1cmより短い長さ

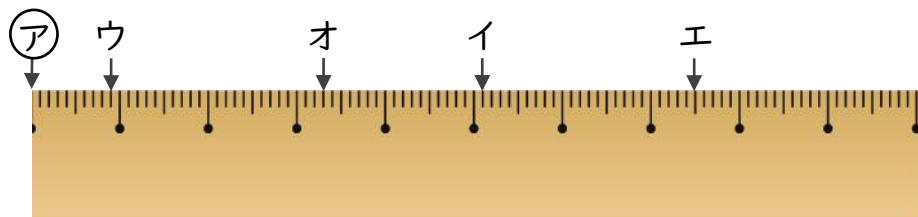


日にち：            月            日

名まえ \_\_\_\_\_

・ ㊦からイ、ウ、エ、オまでの長さは、それぞれ何cmですか。  
(うすい字はなぞりましょう。)

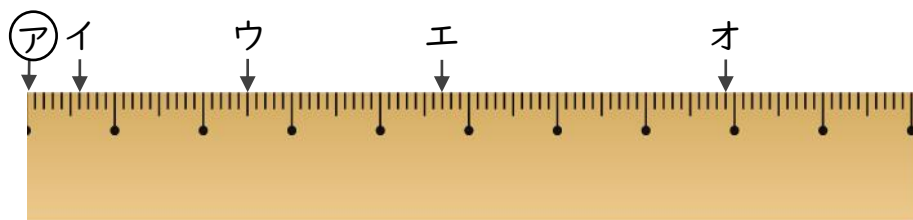
①



答え    ㊦からイ    5.1 cm            ㊦からウ    0.9 cm

          ㊦からエ    7.5 cm            ㊦からオ    3.3 cm

②



答え    ㊦からイ    0.6 cm            ㊦からウ    2.5 cm

          ㊦からエ    4.7 cm            ㊦からオ    7.9 cm



# 小数の意味と表し方7

● 小数で表す1cmより短い長さ

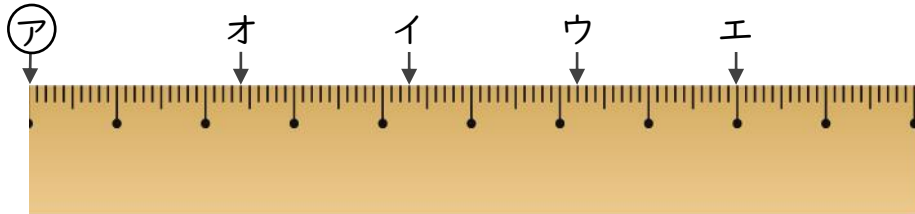


日にち：            月            日

名まえ \_\_\_\_\_

・ ㊦からイ、ウ、エ、オまでの長さは、それぞれ何cmですか。  
(うすい字はなぞりましょう。)

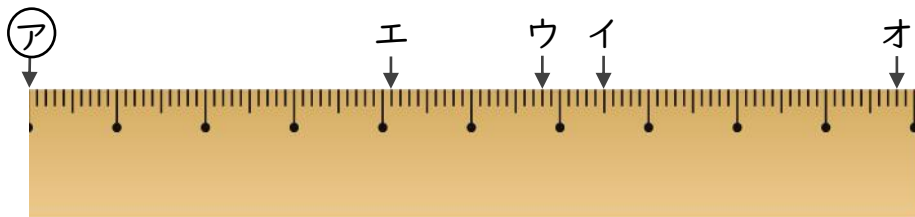
①



答え    ㊦からイ    4.3 cm            ㊦からウ    6.2 cm

          ㊦からエ    8 cm            ㊦からオ    2.4 cm

②



答え    ㊦からイ    6.5 cm            ㊦からウ    5.8 cm

          ㊦からエ    4.1 cm            ㊦からオ    9.8 cm



# 小数の意味と表し方7

● 小数で表す1cmより短い長さ

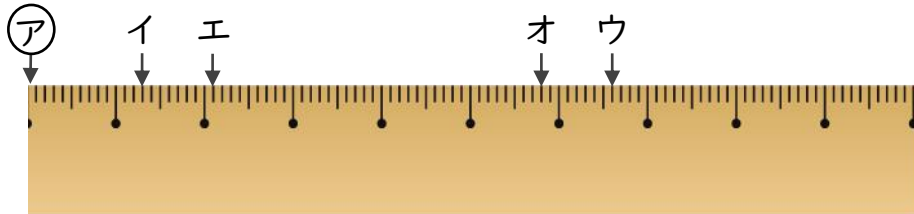


日にち：            月            日

名まえ \_\_\_\_\_

・ ㊦からイ、ウ、エ、オまでの長さは、それぞれ何cmですか。  
(うすい字はなぞりましょう。)

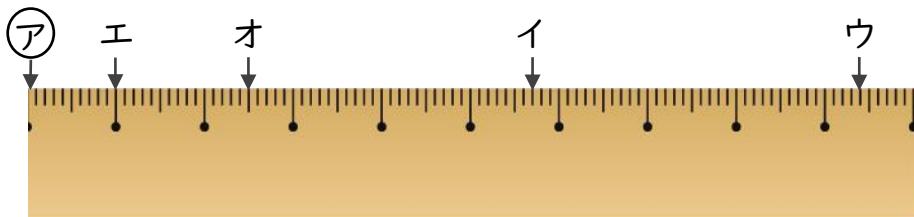
①



答え    ㊦からイ    1.3 cm            ㊦からウ    6.6 cm

          ㊦からエ    2.1 cm            ㊦からオ    5.8 cm

②



答え    ㊦からイ    5.7 cm            ㊦からウ    9.4 cm

          ㊦からエ    1 cm                ㊦からオ    2.5 cm



# 小数の意味と表し方7

● 小数で表す1cmより短い長さ

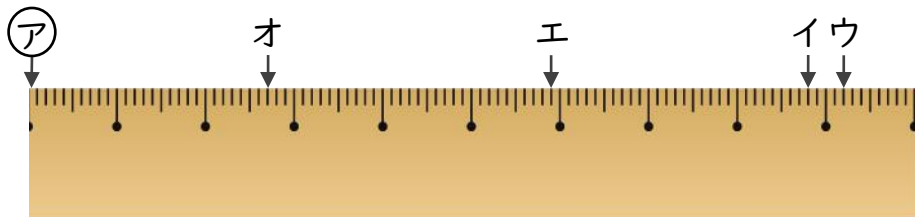


日にち：            月            日

名まえ \_\_\_\_\_

・ ㊦からイ、ウ、エ、オまでの長さは、それぞれ何cmですか。

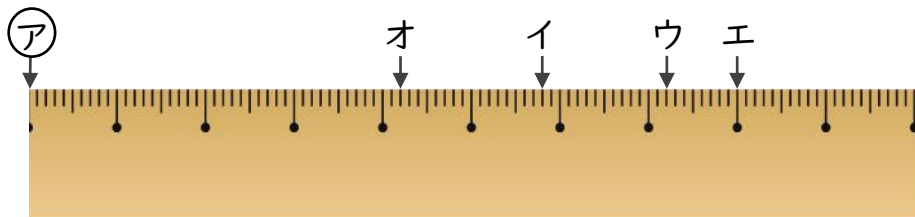
①



答え    ㊦からイ    8.8 cm            ㊦からウ    9.2 cm

          ㊦からエ    5.9 cm            ㊦からオ    2.7 cm

②



答え    ㊦からイ    5.8 cm            ㊦からウ    7.2 cm

          ㊦からエ    8 cm              ㊦からオ    4.2 cm





# 小数の意味と表し方7

● 小数で表す1cmより短い長さ

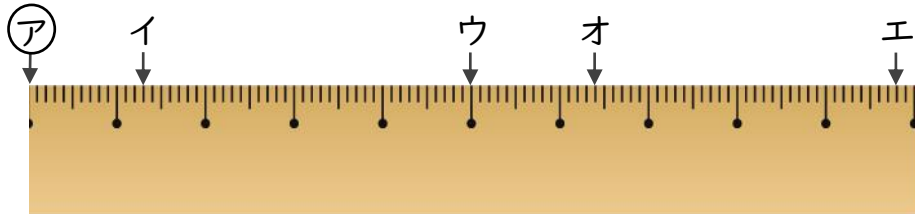


日にち：            月            日

名まえ \_\_\_\_\_

・ ㊦からイ、ウ、エ、オまでの長さは、それぞれ何cmですか。

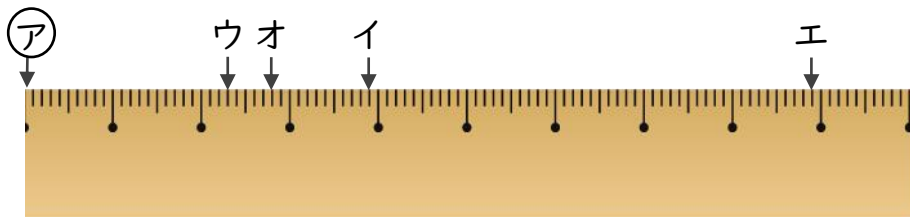
①



答え ㊦からイ 1.3 cm            ㊦からウ 5 cm

㊦からエ 9.8 cm            ㊦からオ 6.4 cm

②



答え ㊦からイ 3.9 cm            ㊦からウ 2.3 cm

㊦からエ 8.9 cm            ㊦からオ 2.8 cm



# 小数の意味と表し方7

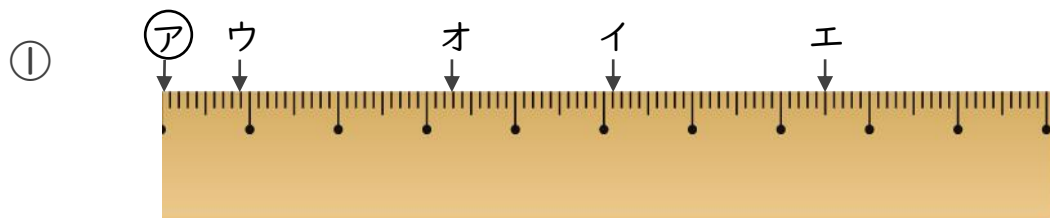
● 小数で表す1cmより短い長さ



日にち： 月 日

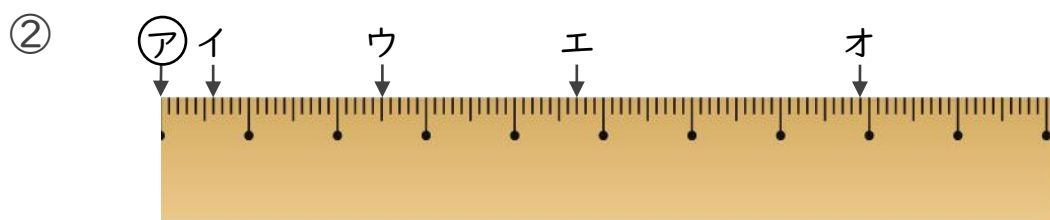
名まえ \_\_\_\_\_

1 ㊦からイ、ウ、エ、オまでの長さは、それぞれ何cmですか。



答え ㊦からイ **5.1 cm** ㊦からウ **0.9 cm**

㊦からエ **7.5 cm** ㊦からオ **3.3 cm**



答え ㊦からイ **0.6 cm** ㊦からウ **2.5 cm**

㊦からエ **4.7 cm** ㊦からオ **7.9 cm**

2 次のかさは何Lでしょうか。小数で答えましょう。

① 0.1Lの9こ分

答え **0.9 L**

③ 0.1Lの6こ分

答え **0.6 L**

② 1Lと、0.1Lの3こ分

答え **1.3 L**

④ 2Lと、0.1Lの7こ分

答え **2.7 L**



# 小数の意味と表し方7

① 小数で表す1cmより短い長さ



日にち： 月 日

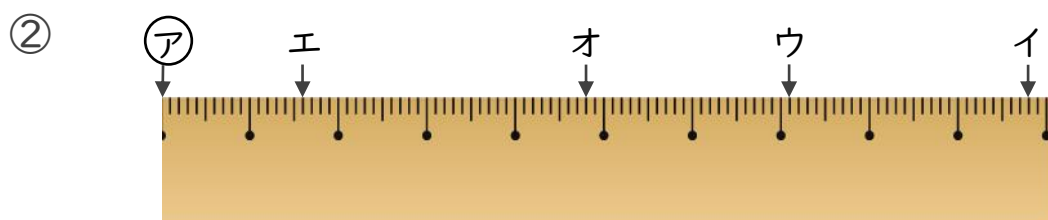
名まえ \_\_\_\_\_

1 ㉞からイ、ウ、エ、オまでの長さは、それぞれ何cmですか。



答え ㉞からイ 6 cm ㉞からウ 7.3 cm

㉞からエ 2.6 cm ㉞からオ 5.6 cm



答え ㉞からイ 9.8 cm ㉞からウ 7.1 cm

㉞からエ 1.6 cm ㉞からオ 4.8 cm

2 次のかさは何Lでしょうか。小数で答えましょう。

① 1Lと、0.1Lの4こ分

答え 1.4 L

③ 0.1Lの8こ分

答え 0.8 L

② 0.1Lの5こ分

答え 0.5 L

④ 2Lと、0.1Lの3こ分

答え 2.3 L



# 小数の意味と表し方7

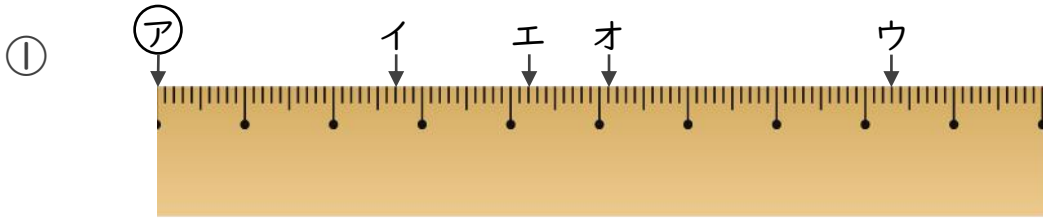
① 小数で表す1cmより短い長さ



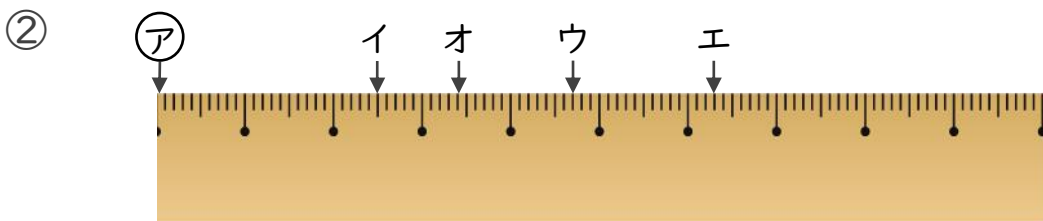
日にち： 月 日

名まえ \_\_\_\_\_

1 ㊦からイ、ウ、エ、オまでの長さは、それぞれ何cmですか。



答え ㊦からイ **2.7 cm**      ㊦からウ **8.3 cm**  
 ㊦からエ **4.2 cm**      ㊦からオ **5.1 cm**



答え ㊦からイ **2.5 cm**      ㊦からウ **4.7 cm**  
 ㊦からエ **6.3 cm**      ㊦からオ **3.4 cm**

2 次のかさは何Lでしょうか。小数で答えましょう。

① 0.1Lの6こ分

答え **0.6 L**

③ 3Lと、0.1Lの9こ分

答え **3.9 L**

② 1Lと、0.1Lの3こ分

答え **1.3 L**

④ 0.1Lの4こ分

答え **0.4 L**



# 小数の意味と表し方7

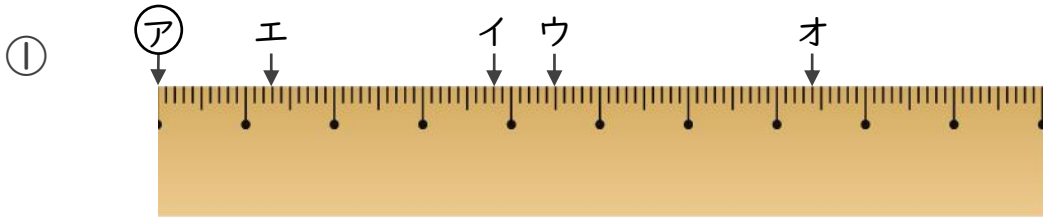
● 小数で表す1cmより短い長さ



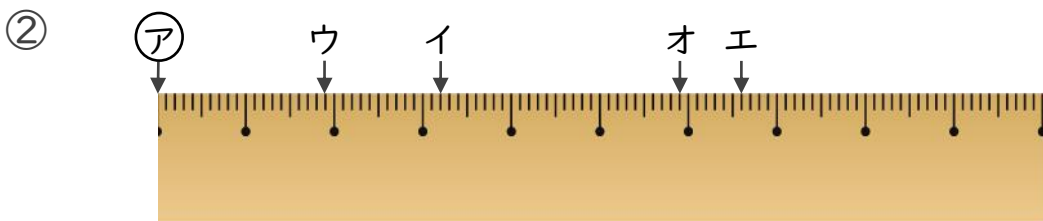
日にち： 月 日

名まえ \_\_\_\_\_

1 ㊦からイ、ウ、エ、オまでの長さは、それぞれ何cmですか。



答え ㊦からイ **3.8 cm**      ㊦からウ **4.5 cm**  
 ㊦からエ **1.3 cm**      ㊦からオ **7.4 cm**



答え ㊦からイ **3.2 cm**      ㊦からウ **1.9 cm**  
 ㊦からエ **6.6 cm**      ㊦からオ **5.9 cm**

2 次のかさは何Lでしょうか。小数で答えましょう。

① 0.1Lの6こ分

答え **0.6 L**

③ 0.1Lの2こ分

答え **0.2 L**

② 4Lと、0.1Lの5こ分

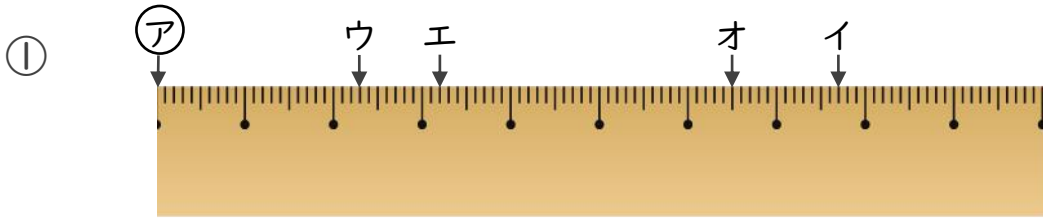
答え **4.5 L**

④ 2Lと、0.1Lの4こ分

答え **2.4 L**

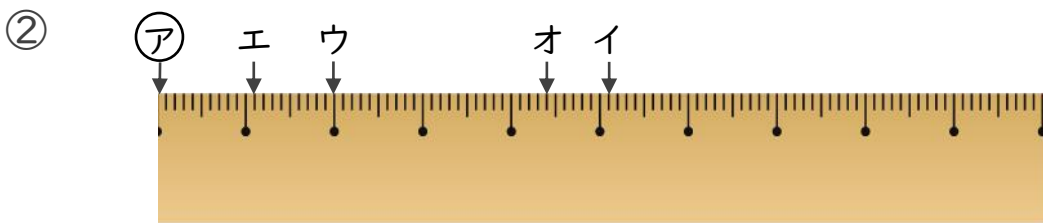


1 ㉞からイ、ウ、エ、オまでの長さは、それぞれ何cmですか。



答え ㉞からイ **7.7 cm**      ㉞からウ **2.3 cm**  
 ㉞からエ **3.2 cm**      ㉞からオ **6.5 cm**

---



答え ㉞からイ **5.1 cm**      ㉞からウ **2 cm**  
 ㉞からエ **1.1 cm**      ㉞からオ **4.4 cm**

---

2 次のかさは何Lでしょうか。小数で答えましょう。

① 0.1Lの3こ分

答え **0.3 L**

---

③ 4Lと、0.1Lの8こ分

答え **4.8 L**

---

② 3Lと、0.1Lの9こ分

答え **3.9 L**

---

④ 0.1Lの2こ分

答え **0.2 L**

---



# 小数の意味と表し方7

① 小数で表す1cmより短い長さ

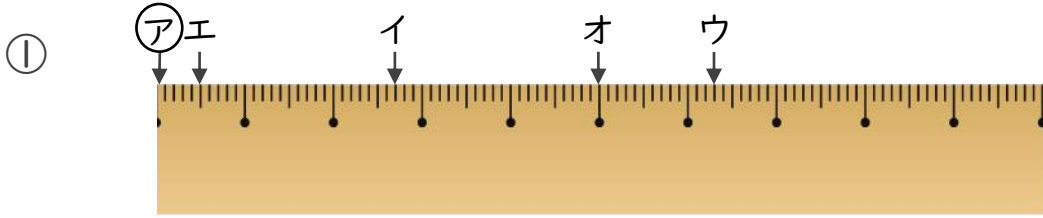
15

目指せ80点!

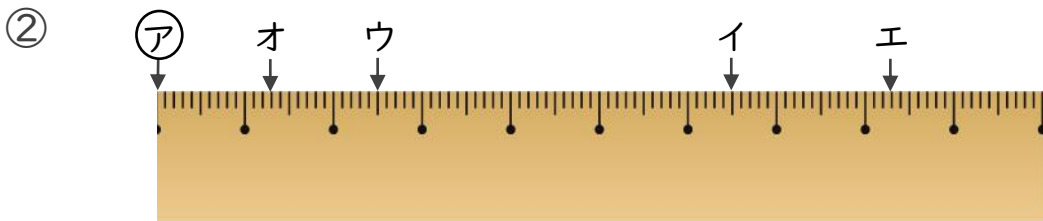


名まえ \_\_\_\_\_

1 ㊦からイ、ウ、エ、オまでの長さは、それぞれ何cmですか。  
(各10点)



答え ㊦からイ **2.7 cm**      ㊦からウ **6.3 cm**  
 ㊦からエ **0.5 cm**      ㊦からオ **5 cm**



答え ㊦からイ **6.5 cm**      ㊦からウ **2.5 cm**  
 ㊦からエ **8.3 cm**      ㊦からオ **1.3 cm**

2 次のかさは何Lでしょうか。小数で答えましょう。(各5点)

① 1Lと、0.1Lの6こ分

答え **1.6 L**

② 0.1Lの8こ分

答え **0.8 L**

③ 0.1Lの3こ分

答え **0.3 L**

④ 3Lと、0.1Lの7こ分

答え **3.7 L**



# 小数の意味と表し方7

① 小数で表す1cmより短い長さ

16

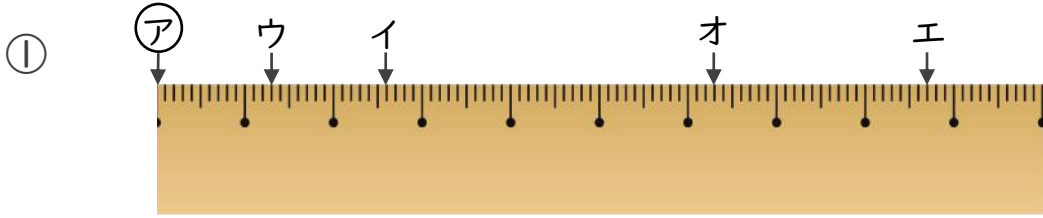
目指せ80点!



名まえ \_\_\_\_\_

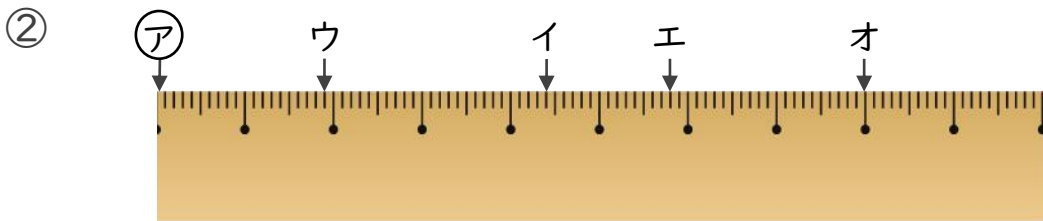
1 ㉞からイ、ウ、エ、オまでの長さは、それぞれ何cmですか。

(各10点)



答え ㉞からイ 2.6 cm      ㉞からウ 1.3 cm

㉞からエ 8.7 cm      ㉞からオ 6.3 cm



答え ㉞からイ 4.4 cm      ㉞からウ 1.9 cm

㉞からエ 5.8 cm      ㉞からオ 8 cm

2 次のかさは何Lでしょうか。小数で答えましょう。(各5点)

① 0.1Lの8こ分

答え 0.8 L

② 1Lと、0.1Lの9こ分

答え 1.9 L

③ 5Lと、0.1Lの8こ分

答え 5.8 L

④ 0.1Lの7こ分

答え 0.7 L