



小数の意味と表し方7

● 小数で表す1cmより短い長さ

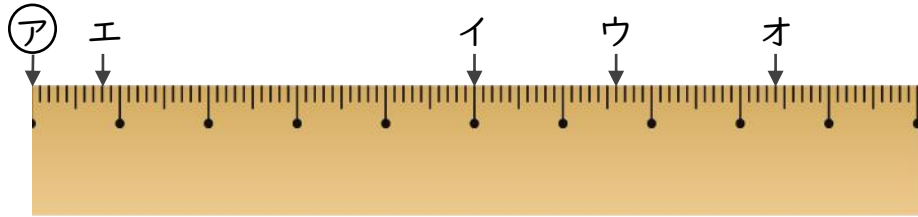


日にち： 月 日

名まえ _____

・ ㊦からイ、ウ、エ、オまでの長さは、それぞれ何cmですか。
(うすい字はなぞりましょう。)

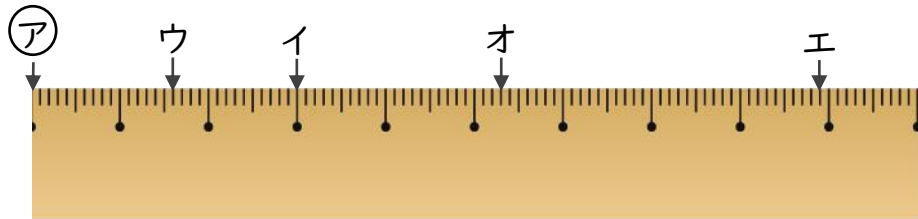
①



答え ㊦からイ 5 cm ㊦からウ 6.6 cm

 ㊦からエ 0.8 cm ㊦からオ 8.4 cm

②



答え ㊦からイ ㊦からウ

 ㊦からエ ㊦からオ



小数の意味と表し方7

● 小数で表す1cmより短い長さ

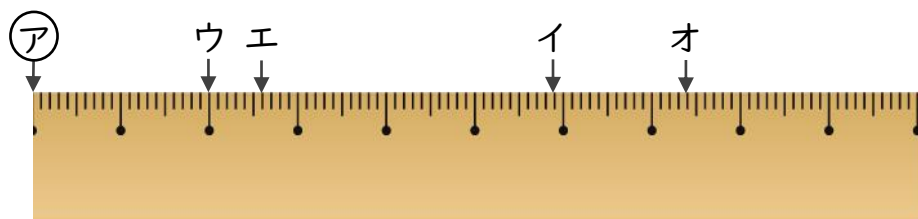


日にち： 月 日

名まえ _____

・ ㊦からイ、ウ、エ、オまでの長さは、それぞれ何cmですか。
(うすい字はなぞりましょう。)

①

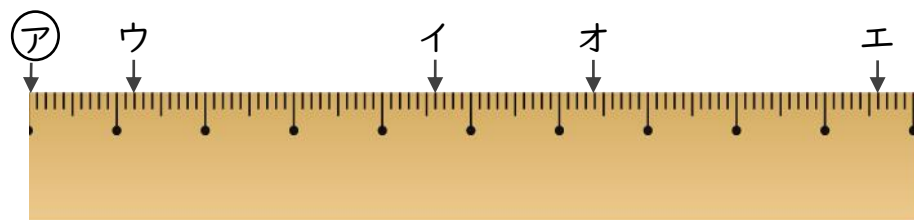


答え ㊦からイ 5.9 cm ㊦からウ 2 cm

㊦からエ

㊦からオ

②



答え ㊦からイ ㊦からウ

㊦からエ

㊦からオ



小数の意味と表し方7

● 小数で表す1cmより短い長さ

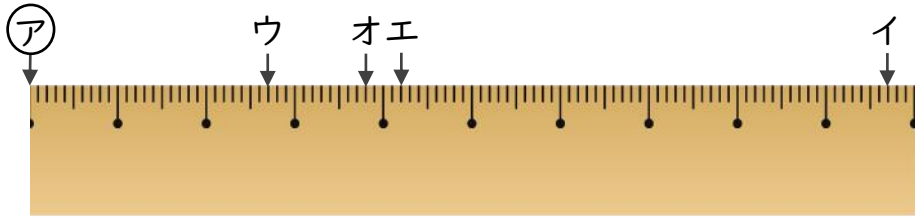


日にち： 月 日

名まえ _____

・ ㊦からイ、ウ、エ、オまでの長さは、それぞれ何cmですか。
(うすい字はなぞりましょう。)

①

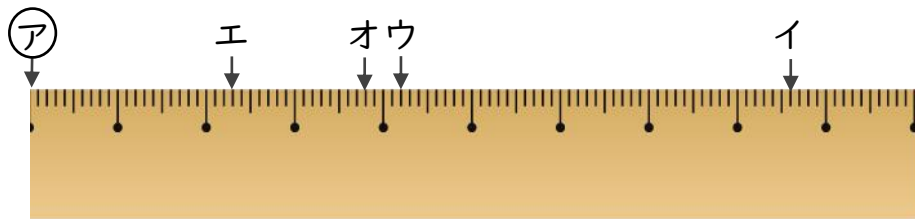


答え ㊦からイ 9.7 cm ㊦からウ 2.7 cm

㊦からエ

㊦からオ

②



答え ㊦からイ ㊦からウ

㊦からエ

㊦からオ



小数の意味と表し方7

● 小数で表す1cmより短い長さ

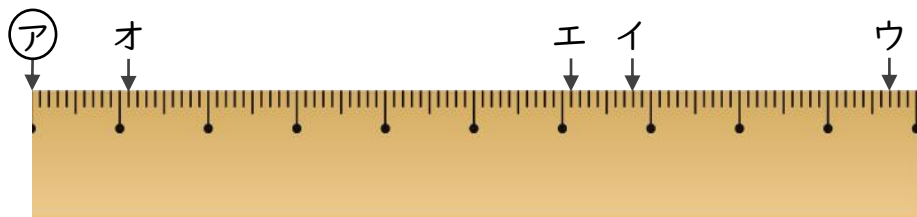


日にち： 月 日

名まえ _____

・ ㊦からイ、ウ、エ、オまでの長さは、それぞれ何cmですか。
(うすい字はなぞりましょう。)

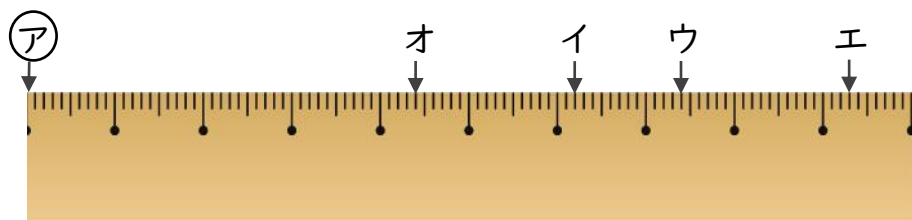
①



答え ㊦からイ 6.8 cm ㊦からウ

 ㊦からエ ㊦からオ

②



答え ㊦からイ ㊦からウ

 ㊦からエ ㊦からオ



小数の意味と表し方7

● 小数で表す1cmより短い長さ

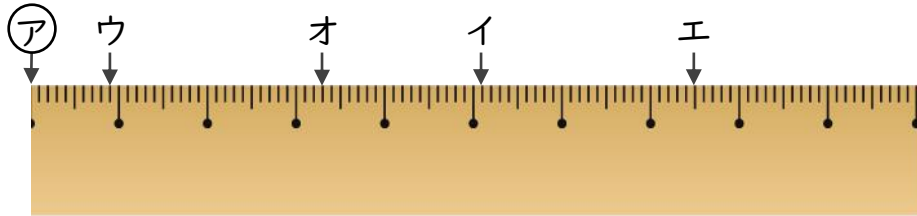


日にち： 月 日

名まえ _____

・アからイ、ウ、エ、オまでの長さは、それぞれ何cmですか。
(うすい字はなぞりましょう。)

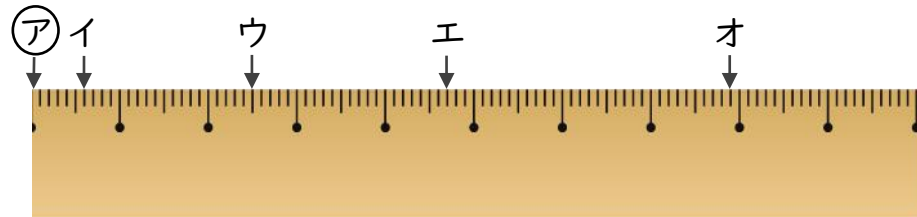
①



答え アからイ 5.1 cm アからウ

 アからエ アからオ

②



答え アからイ アからウ

 アからエ アからオ



小数の意味と表し方⑦

● 小数で表す1cmより短い長さ

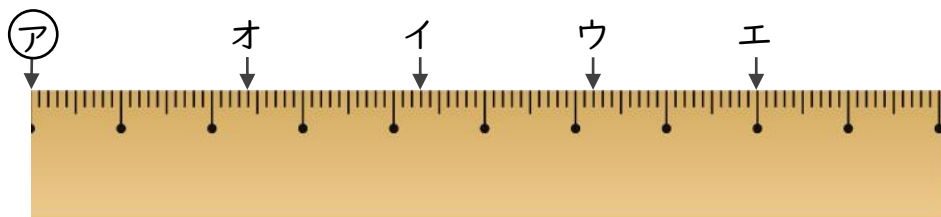


日にち： 月 日

名まえ _____

・ ㊦からイ、ウ、エ、オまでの長さは、それぞれ何cmですか。
(うすい字はなぞりましょう。)

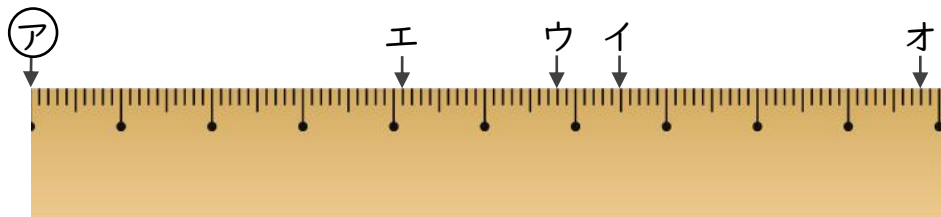
①



答え ㊦からイ 4.3 cm ㊦からウ

 ㊦からエ ㊦からオ

②



答え ㊦からイ ㊦からウ

 ㊦からエ ㊦からオ



小数の意味と表し方7

● 小数で表す1cmより短い長さ

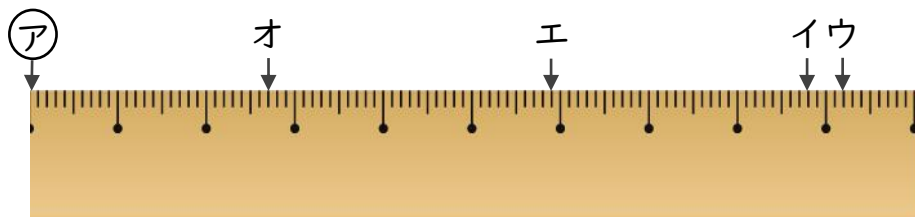


日にち： 月 日

名まえ _____

・ ㊦からイ、ウ、エ、オまでの長さは、それぞれ何cmですか。

①



答え

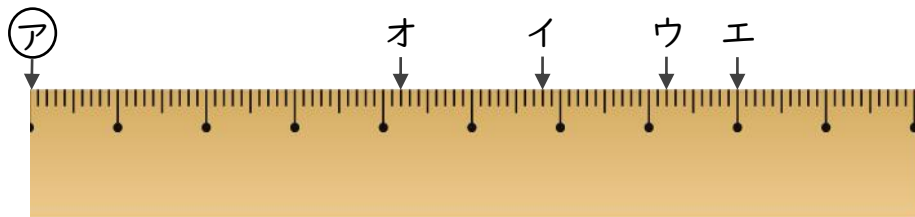
㊦からイ

㊦からウ

㊦からエ

㊦からオ

②



答え

㊦からイ

㊦からウ

㊦からエ

㊦からオ



小数の意味と表し方7

● 小数で表す1cmより短い長さ

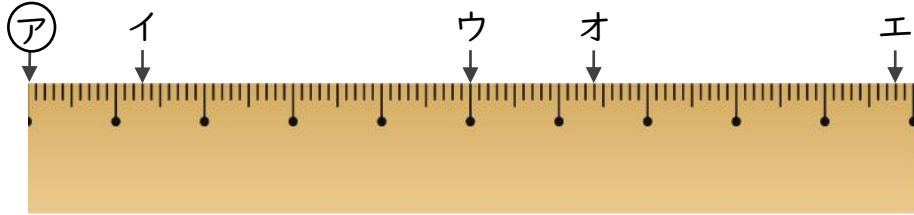


日にち： 月 日

名まえ _____

・ ㊦からイ、ウ、エ、オまでの長さは、それぞれ何cmですか。

①



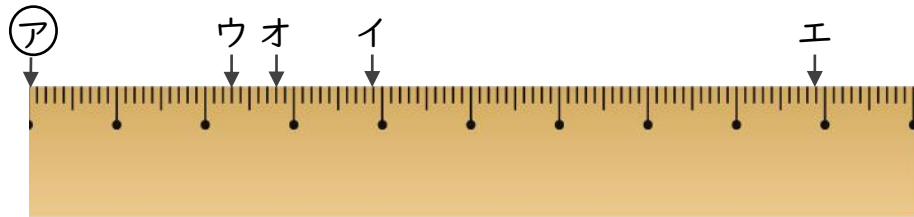
答え ㊦からイ

㊦からウ

㊦からエ

㊦からオ

②



答え ㊦からイ

㊦からウ

㊦からエ

㊦からオ



小数の意味と表し方

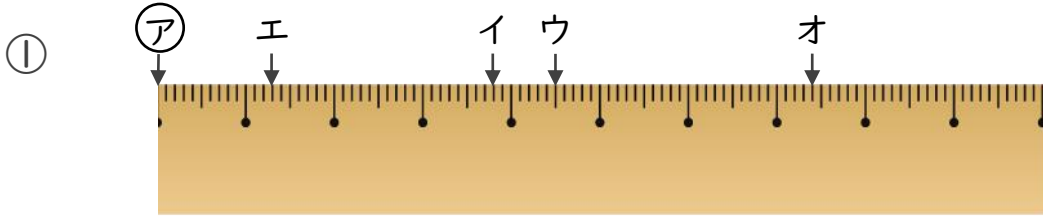
● 小数で表す1cmより短い長さ



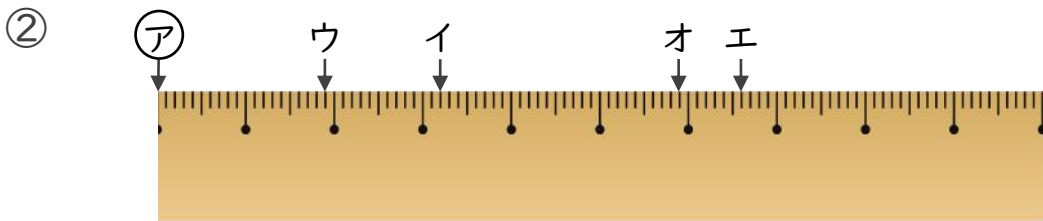
日にち： 月 日

名まえ _____

1 ①からイ、ウ、エ、オまでの長さは、それぞれ何cmですか。



答え ①からイ ①からウ
 ①からエ ①からオ



答え ①からイ ①からウ
 ①からエ ①からオ

2 次のかさは何Lでしょうか。小数で答えましょう。

① 0.1Lの6こ分

答え _____

③ 0.1Lの2こ分

答え _____

② 4Lと、0.1Lの5こ分

答え _____

④ 2Lと、0.1Lの4こ分

答え _____



小数の意味と表し方7

● 小数で表す1cmより短い長さ

15

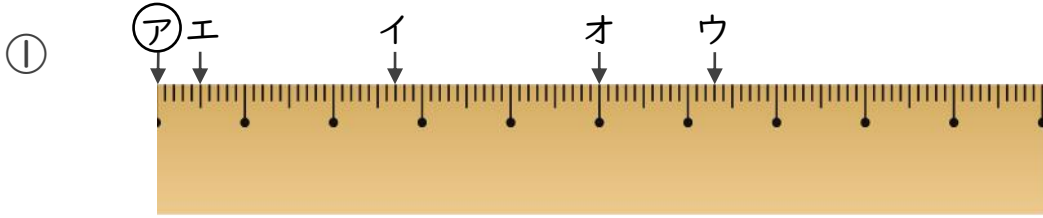
目指せ80点!



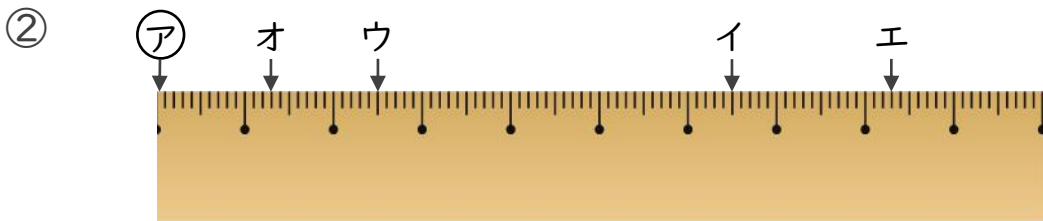
名まえ _____

1 ㉠からイ、ウ、エ、オまでの長さは、それぞれ何cmですか。

(各10点)



- 答え
- | | |
|------|------|
| ㉠からイ | ㉠からウ |
| ㉠からエ | ㉠からオ |
-



- 答え
- | | |
|------|------|
| ㉠からイ | ㉠からウ |
| ㉠からエ | ㉠からオ |
-

2 次のかさは何Lでしょうか。小数で答えましょう。(各5点)

① 1Lと、0.1Lの6こ分

答え _____

② 0.1Lの8こ分

答え _____

③ 0.1Lの3こ分

答え _____

④ 3Lと、0.1Lの7こ分

答え _____



小数の意味と表し方7

● 小数で表す1cmより短い長さ

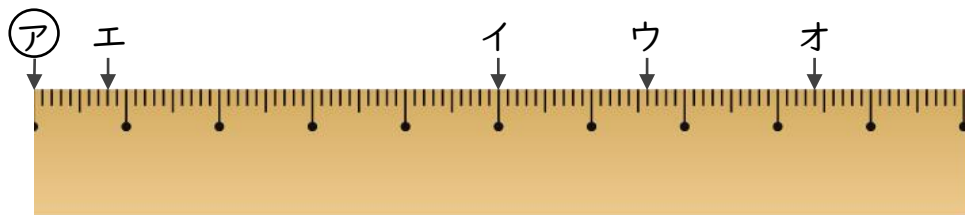


日にち： 月 日

名まえ _____

・ ㊦からイ、ウ、エ、オまでの長さは、それぞれ何cmですか。
(うすい字はなぞりましょう。)

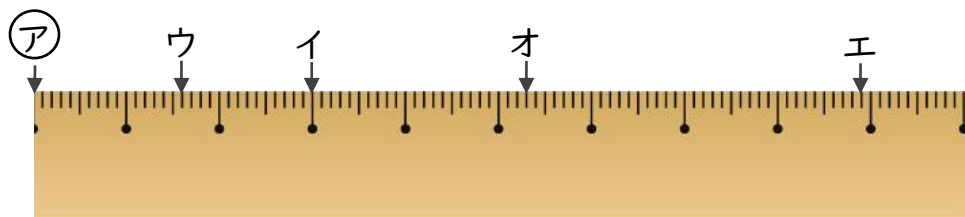
①



答え ㊦からイ 5 cm ㊦からウ 6.6 cm

 ㊦からエ 0.8 cm ㊦からオ 8.4 cm

②



答え ㊦からイ 3 cm ㊦からウ 1.6 cm

 ㊦からエ 8.9 cm ㊦からオ 5.3 cm



小数の意味と表し方7

● 小数で表す1cmより短い長さ

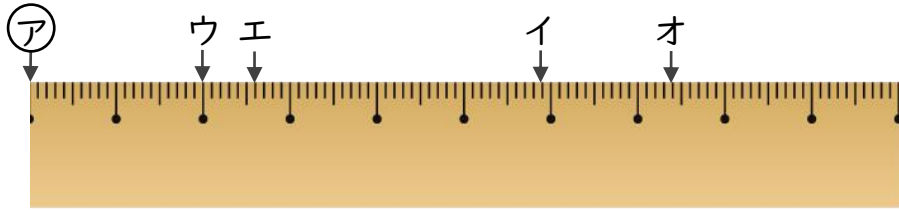


日にち： 月 日

名まえ _____

・ ㊦からイ、ウ、エ、オまでの長さは、それぞれ何cmですか。
(うすい字はなぞりましょう。)

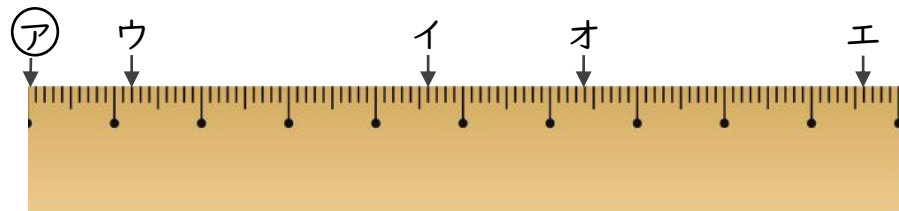
①



答え ㊦からイ 5.9 cm ㊦からウ 2 cm

㊦からエ 2.6 cm ㊦からオ 7.4 cm

②



答え ㊦からイ 4.6 cm ㊦からウ 1.2 cm

㊦からエ 9.6 cm ㊦からオ 6.4 cm



小数の意味と表し方7

● 小数で表す1cmより短い長さ

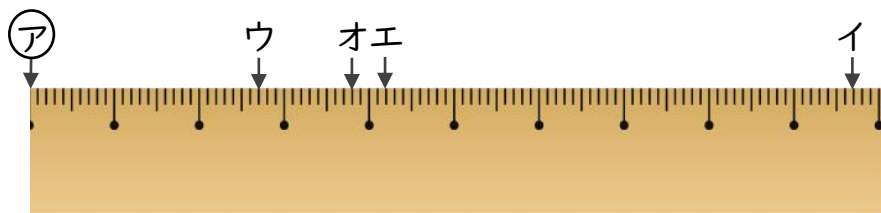


日にち： 月 日

名まえ _____

・ ㊦からイ、ウ、エ、オまでの長さは、それぞれ何cmですか。
(うすい字はなぞりましょう。)

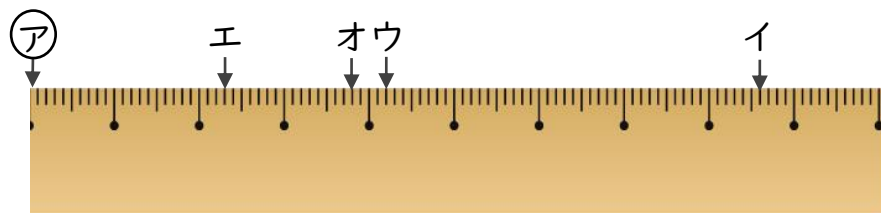
①



答え ㊦からイ **9.7 cm** ㊦からウ **2.7 cm**

 ㊦からエ **4.2 cm** ㊦からオ **3.8 cm**

②



答え ㊦からイ **8.6 cm** ㊦からウ **4.2 cm**

 ㊦からエ **2.3 cm** ㊦からオ **3.8 cm**



小数の意味と表し方7

● 小数で表す1cmより短い長さ

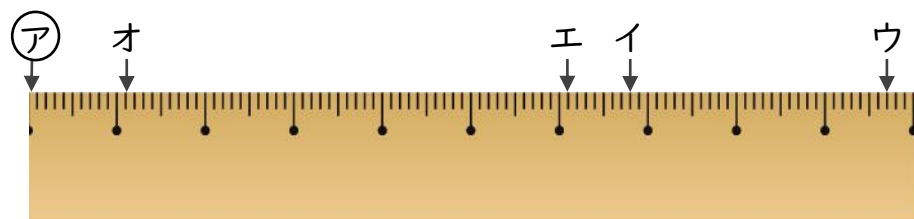


日にち： 月 日

名まえ _____

・ ㊦からイ、ウ、エ、オまでの長さは、それぞれ何cmですか。
(うすい字はなぞりましょう。)

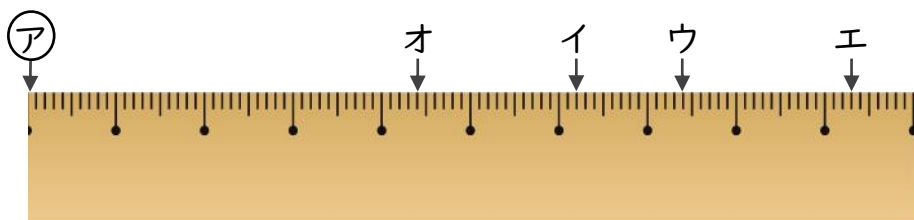
①



答え ㊦からイ 6.8 cm ㊦からウ 9.7 cm

 ㊦からエ 6.1 cm ㊦からオ 1.1 cm

②



答え ㊦からイ 6.2 cm ㊦からウ 7.4 cm

 ㊦からエ 9.3 cm ㊦からオ 4.4 cm



小数の意味と表し方7

● 小数で表す1cmより短い長さ

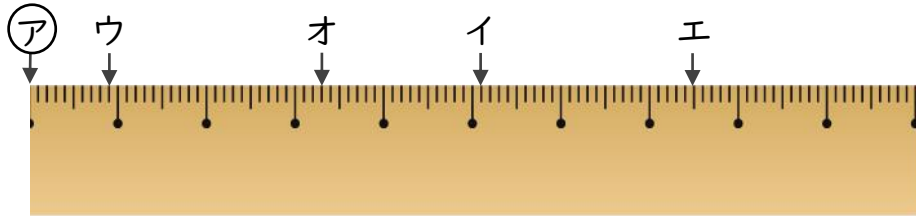


日にち： 月 日

名まえ _____

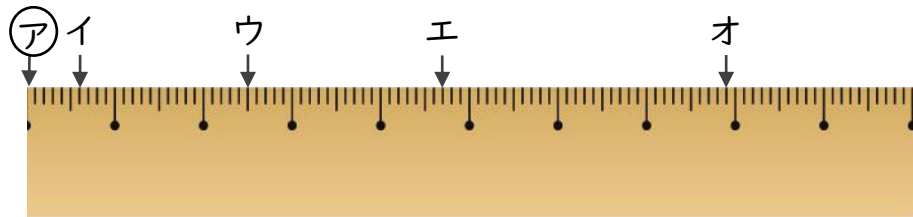
・アからイ、ウ、エ、オまでの長さは、それぞれ何cmですか。
(うすい字はなぞりましょう。)

①



答え アからイ 5.1 cm アからウ 0.9 cm
 アからエ 7.5 cm アからオ 3.3 cm

②



答え アからイ 0.6 cm アからウ 2.5 cm
 アからエ 4.7 cm アからオ 7.9 cm



小数の意味と表し方7

● 小数で表す1cmより短い長さ

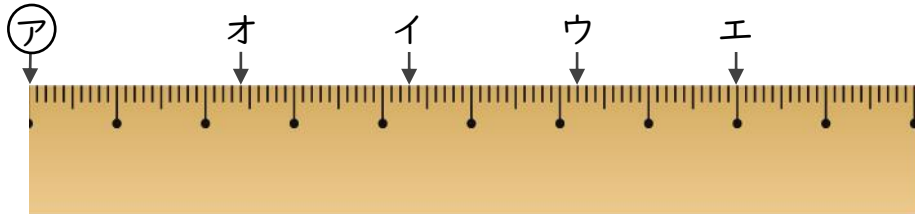


日にち： 月 日

名まえ _____

・ ㊦からイ、ウ、エ、オまでの長さは、それぞれ何cmですか。
(うすい字はなぞりましょう。)

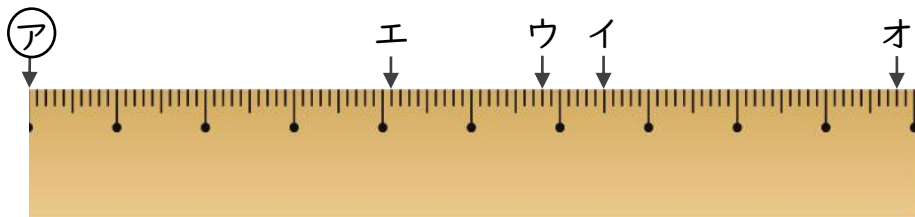
①



答え ㊦からイ 4.3 cm ㊦からウ 6.2 cm

 ㊦からエ 8 cm ㊦からオ 2.4 cm

②



答え ㊦からイ 6.5 cm ㊦からウ 5.8 cm

 ㊦からエ 4.1 cm ㊦からオ 9.8 cm



小数の意味と表し方7

● 小数で表す1cmより短い長さ

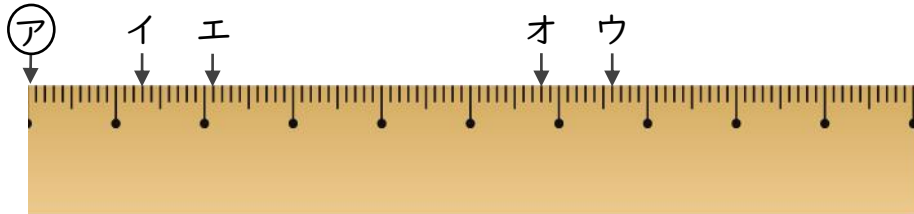


日にち： 月 日

名まえ _____

・ ㊦からイ、ウ、エ、オまでの長さは、それぞれ何cmですか。
(うすい字はなぞりましょう。)

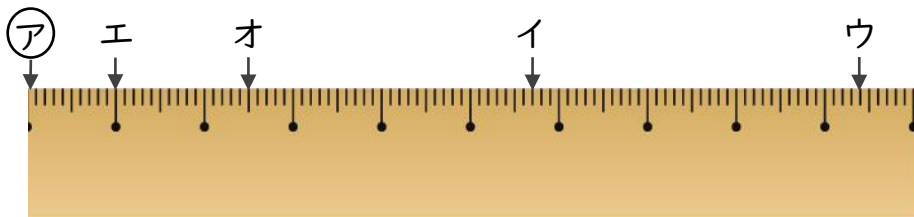
①



答え ㊦からイ 1.3 cm ㊦からウ 6.6 cm

 ㊦からエ 2.1 cm ㊦からオ 5.8 cm

②



答え ㊦からイ 5.7 cm ㊦からウ 9.4 cm

 ㊦からエ 1 cm ㊦からオ 2.5 cm



小数の意味と表し方7

● 小数で表す1cmより短い長さ

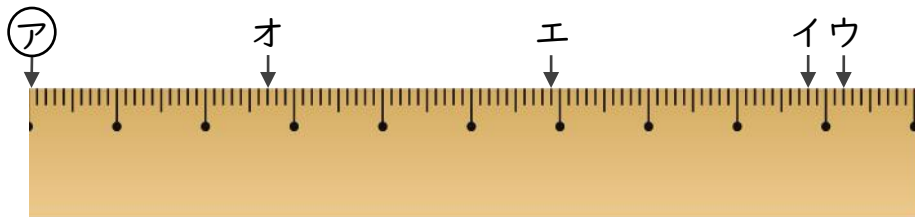


日にち： 月 日

名まえ _____

・ ㉞からイ、ウ、エ、オまでの長さは、それぞれ何cmですか。

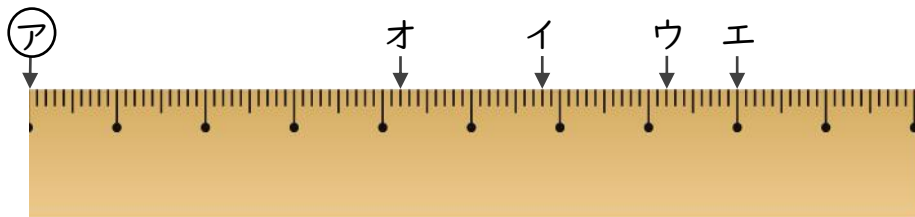
①



答え ㉞からイ **8.8 cm** ㉞からウ **9.2 cm**

 ㉞からエ **5.9 cm** ㉞からオ **2.7 cm**

②



答え ㉞からイ **5.8 cm** ㉞からウ **7.2 cm**

 ㉞からエ **8 cm** ㉞からオ **4.2 cm**



小数の意味と表し方7

● 小数で表す1cmより短い長さ

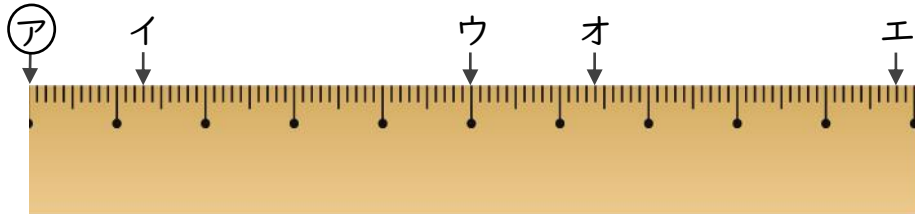


日にち： 月 日

名まえ _____

・ ㊦からイ、ウ、エ、オまでの長さは、それぞれ何cmですか。

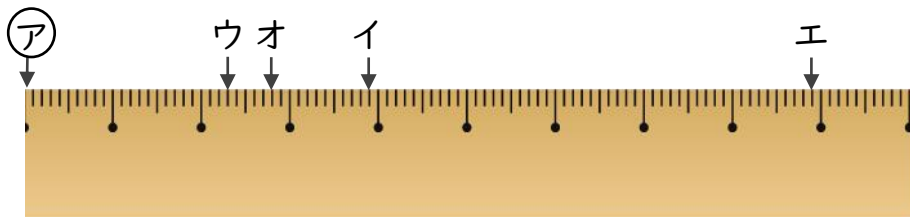
①



答え ㊦からイ 1.3 cm ㊦からウ 5 cm

㊦からエ 9.8 cm ㊦からオ 6.4 cm

②



答え ㊦からイ 3.9 cm ㊦からウ 2.3 cm

㊦からエ 8.9 cm ㊦からオ 2.8 cm



小数の意味と表し方7

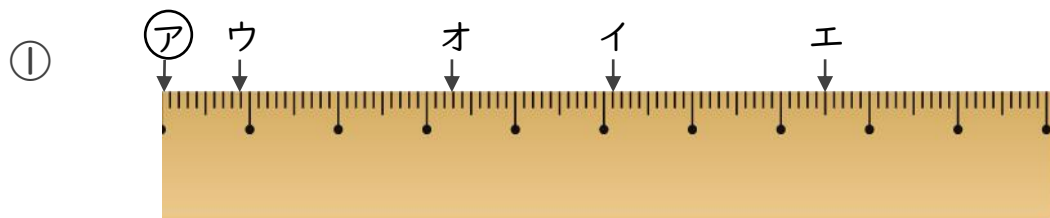
● 小数で表す1cmより短い長さ



日にち： 月 日

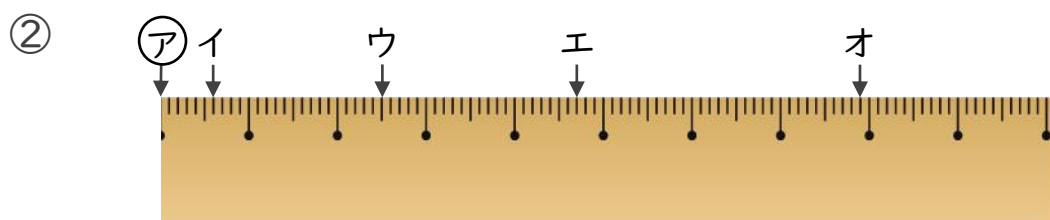
名まえ _____

1 ㊦からイ、ウ、エ、オまでの長さは、それぞれ何cmですか。



答え ㊦からイ **5.1 cm** ㊦からウ **0.9 cm**

㊦からエ **7.5 cm** ㊦からオ **3.3 cm**



答え ㊦からイ **0.6 cm** ㊦からウ **2.5 cm**

㊦からエ **4.7 cm** ㊦からオ **7.9 cm**

2 次のかさは何Lでしょうか。小数で答えましょう。

① 0.1Lの9こ分

答え **0.9 L**

③ 0.1Lの6こ分

答え **0.6 L**

② 1Lと、0.1Lの3こ分

答え **1.3 L**

④ 2Lと、0.1Lの7こ分

答え **2.7 L**



小数の意味と表し方7

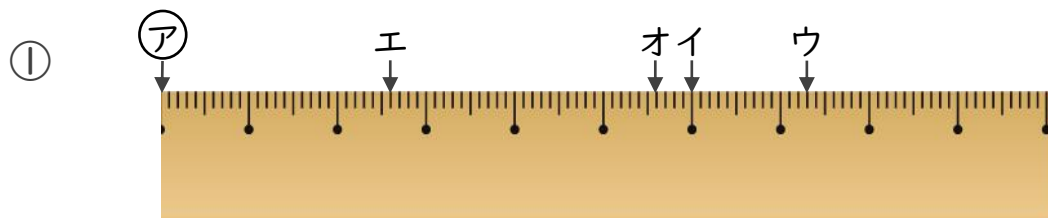
① 小数で表す1cmより短い長さ



日にち： 月 日

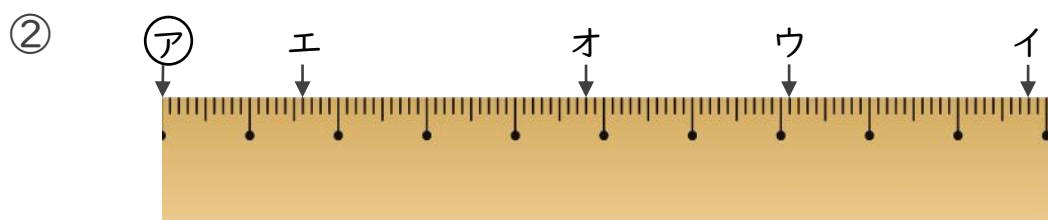
名まえ _____

1 ①からイ、ウ、エ、オまでの長さは、それぞれ何cmですか。



答え ①からイ 6 cm ①からウ 7.3 cm

①からエ 2.6 cm ①からオ 5.6 cm



答え ①からイ 9.8 cm ①からウ 7.1 cm

①からエ 1.6 cm ①からオ 4.8 cm

2 次のかさは何Lでしょうか。小数で答えましょう。

① 1Lと、0.1Lの4こ分

答え 1.4 L

③ 0.1Lの8こ分

答え 0.8 L

② 0.1Lの5こ分

答え 0.5 L

④ 2Lと、0.1Lの3こ分

答え 2.3 L



小数の意味と表し方7

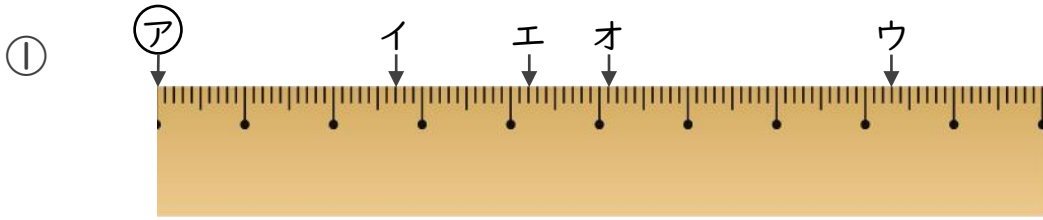
① 小数で表す1cmより短い長さ



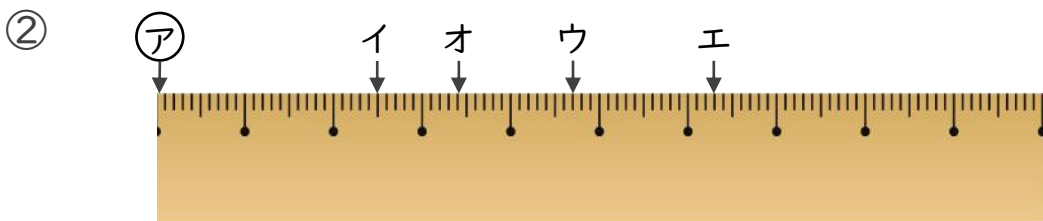
日にち： 月 日

名まえ _____

1 ①からイ、ウ、エ、オまでの長さは、それぞれ何cmですか。



答え ①からイ **2.7 cm** ①からウ **8.3 cm**
 ①からエ **4.2 cm** ①からオ **5.1 cm**



答え ①からイ **2.5 cm** ①からウ **4.7 cm**
 ①からエ **6.3 cm** ①からオ **3.4 cm**

2 次のかさは何Lでしょうか。小数で答えましょう。

① 0.1Lの6こ分

答え **0.6 L**

③ 3Lと、0.1Lの9こ分

答え **3.9 L**

② 1Lと、0.1Lの3こ分

答え **1.3 L**

④ 0.1Lの4こ分

答え **0.4 L**



小数の意味と表し方7

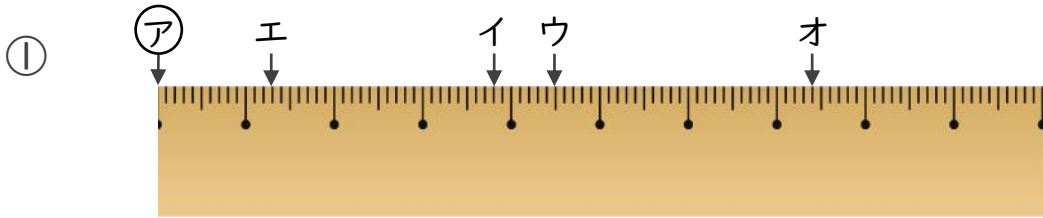
● 小数で表す1cmより短い長さ



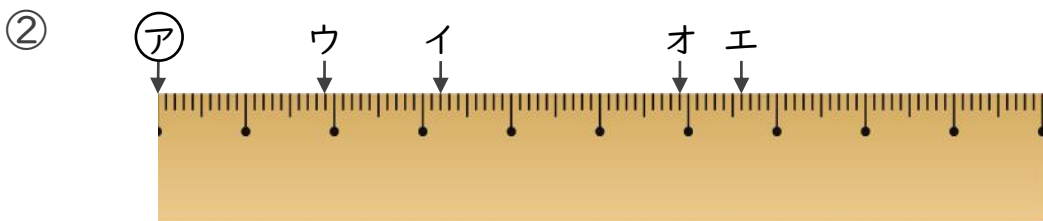
日にち： 月 日

名まえ _____

1 ㊦からイ、ウ、エ、オまでの長さは、それぞれ何cmですか。



答え ㊦からイ **3.8 cm** ㊦からウ **4.5 cm**
 ㊦からエ **1.3 cm** ㊦からオ **7.4 cm**



答え ㊦からイ **3.2 cm** ㊦からウ **1.9 cm**
 ㊦からエ **6.6 cm** ㊦からオ **5.9 cm**

2 次のかさは何Lでしょうか。小数で答えましょう。

① 0.1Lの6こ分

答え **0.6 L**

③ 0.1Lの2こ分

答え **0.2 L**

② 4Lと、0.1Lの5こ分

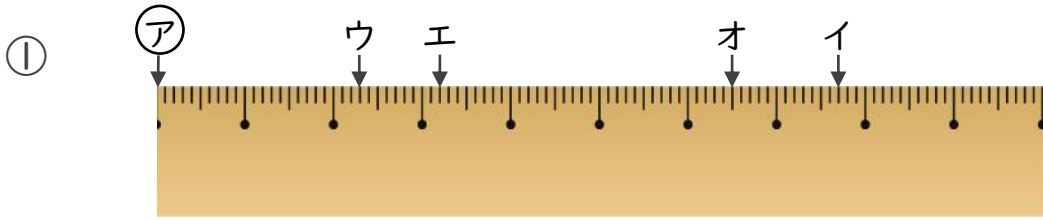
答え **4.5 L**

④ 2Lと、0.1Lの4こ分

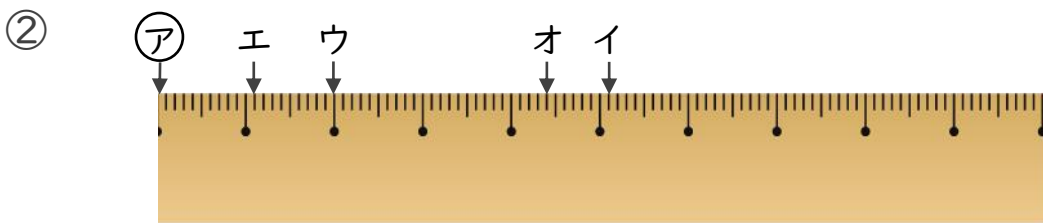
答え **2.4 L**



1 ㊦からイ、ウ、エ、オまでの長さは、それぞれ何cmですか。



答え ㊦からイ **7.7 cm** ㊦からウ **2.3 cm**
 ㊦からエ **3.2 cm** ㊦からオ **6.5 cm**



答え ㊦からイ **5.1 cm** ㊦からウ **2 cm**
 ㊦からエ **1.1 cm** ㊦からオ **4.4 cm**

2 次のかさは何Lでしょうか。小数で答えましょう。

① 0.1Lの3こ分

答え **0.3 L**

③ 4Lと、0.1Lの8こ分

答え **4.8 L**

② 3Lと、0.1Lの9こ分

答え **3.9 L**

④ 0.1Lの2こ分

答え **0.2 L**



小数の意味と表し方7

① 小数で表す1cmより短い長さ

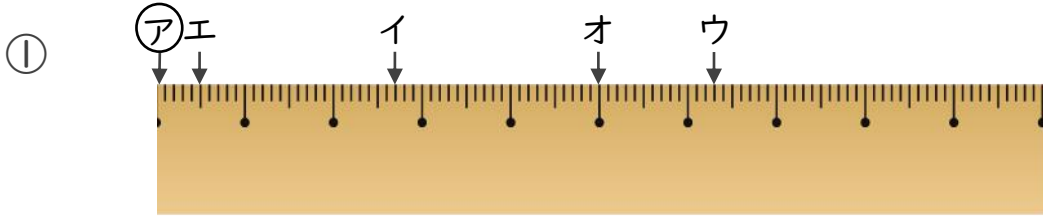
15

目指せ80点!

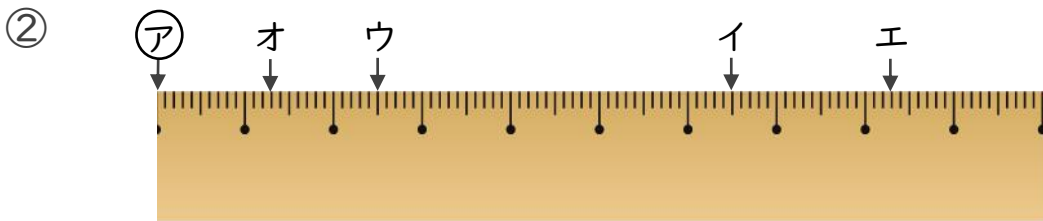


名まえ _____

1 ㊦からイ、ウ、エ、オまでの長さは、それぞれ何cmですか。
(各10点)



答え ㊦からイ **2.7 cm** ㊦からウ **6.3 cm**
 ㊦からエ **0.5 cm** ㊦からオ **5 cm**



答え ㊦からイ **6.5 cm** ㊦からウ **2.5 cm**
 ㊦からエ **8.3 cm** ㊦からオ **1.3 cm**

2 次のかさは何Lでしょうか。小数で答えましょう。(各5点)

① 1Lと、0.1Lの6こ分

答え **1.6 L**

② 0.1Lの8こ分

答え **0.8 L**

③ 0.1Lの3こ分

答え **0.3 L**

④ 3Lと、0.1Lの7こ分

答え **3.7 L**



小数の意味と表し方7

① 小数で表す1cmより短い長さ

16

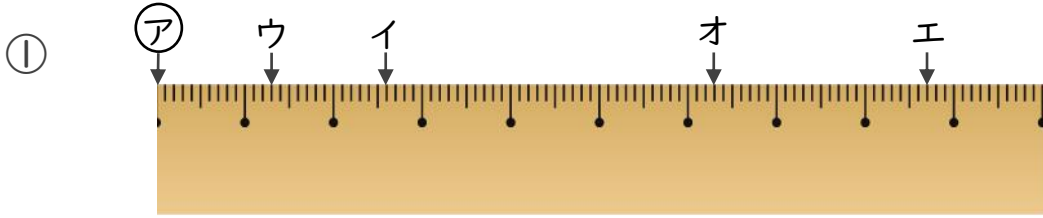
目指せ80点!



名まえ _____

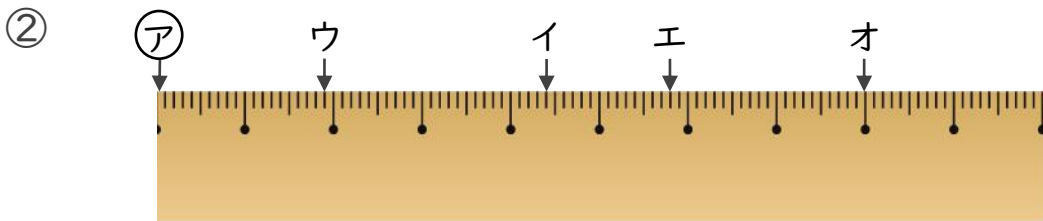
1 ㉞からイ、ウ、エ、オまでの長さは、それぞれ何cmですか。

(各10点)



答え ㉞からイ **2.6 cm** ㉞からウ **1.3 cm**

㉞からエ **8.7 cm** ㉞からオ **6.3 cm**



答え ㉞からイ **4.4 cm** ㉞からウ **1.9 cm**

㉞からエ **5.8 cm** ㉞からオ **8 cm**

2 次のかさは何Lでしょうか。小数で答えましょう。(各5点)

① 0.1Lの8こ分

答え **0.8 L**

② 1Lと、0.1Lの9こ分

答え **1.9 L**

③ 5Lと、0.1Lの8こ分

答え **5.8 L**

④ 0.1Lの7こ分

答え **0.7 L**