

小数の意味と表し方8

mmをcmになおす



日にち： 月 日

名まえ _____

・ にあてはまる数を書きましょう。(うすい字はなぞりましょう。)

① 5 mm = cm

② 17 cm 6 mm = cm

③ 8 mm = cm

④ 4 mm = cm

⑤ 55 cm 9 mm = cm

⑥ 1 mm = cm

⑦ 14 cm 6 mm = cm

⑧ 35 cm 9 mm = cm

⑨ 9 mm = cm

⑩ 4 cm 4 mm = cm

⑪ 3 mm = cm

⑫ 2 mm = cm

⑬ 1 cm 8 mm = cm

⑭ 39 cm 4 mm = cm


⑮ 6 mm = cm

⑯ 47 cm 7 mm = cm

⑰ 9 cm 4 mm = cm

⑱ 7 mm = cm





小数の意味と表し方8

mmをcmになおす



日にち： 月 日

名まえ _____

・ にあてはまる数を書きましょう。(うすい字はなぞりましょう。)

① 1 mm = cm

② 78 cm 4 mm = cm

③ 3 mm = cm

④ 7 mm = cm

⑤ 67 cm 5 mm = cm

⑥ 2 mm = cm

⑦ 3 cm 6 mm = cm

⑧ 16 cm 8 mm = cm

⑨ 5 mm = cm

⑩ 4 cm 4 mm = cm

⑪ 6 mm = cm

⑫ 4 mm = cm

⑬ 4 cm 1 mm = cm


⑭ 22 cm 8 mm = cm

⑮ 9 mm = cm

⑯ 69 cm 8 mm = cm

⑰ 2 cm 5 mm = cm

⑱ 8 mm = cm



小数の意味と表し方8

● mmをcmになおす



日にち： 月 日

名まえ _____

・ にあてはまる数を書きましょう。(うすい字はなぞりましょう。)

① 6 mm = cm

② 18 cm 1 mm = cm

③ 9 mm = cm

④ 3 mm = cm

⑤ 49 cm 9 mm = cm

⑥ 5 mm = cm

⑦ 7 cm 5 mm = cm

⑧ 57 cm 3 mm = cm

⑨ 7 mm = cm

⑩ 5 cm 2 mm = cm

⑪ 4 mm = cm

⑫ 1 mm = cm

⑬ 8 cm 9 mm = cm

⑭ 62 cm 6 mm = cm


⑮ 2 mm = cm

⑯ 23 cm 4 mm = cm

⑰ 4 cm 6 mm = cm

⑱ 8 mm = cm





小数の意味と表し方8

● mmをcmになおす



日にち： 月 日

名まえ _____

・ にあてはまる数を書きましょう。(うすい字はなぞりましょう。)

① 7 mm = cm

② 93 cm 1 mm = cm

③ 4 mm = cm

④ 2 mm = cm

⑤ 40 cm 8 mm = cm

⑥ 1 mm = cm

⑦ 2 cm 9 mm = cm

⑧ 19 cm 6 mm = cm

⑨ 8 mm = cm

⑩ 3 cm 7 mm = cm

⑪ 3 mm = cm

⑫ 5 mm = cm

⑬ 7 cm 3 mm = cm


⑭ 41 cm 9 mm = cm

⑮ 6 mm = cm

⑯ 45 cm 8 mm = cm

⑰ 3 cm 8 mm = cm

⑱ 9 mm = cm



小数の意味と表し方8

● mmをcmになおす



日にち： 月 日

名まえ _____

・ にあてはまる数を書きましょう。(うすい字はなぞりましょう。)

① 1 mm = cm

② 87 cm 1 mm = cm

③ 1 cm 9 mm = cm

④ 3 mm = cm

⑤ 59 cm 6 mm = cm

⑥ 2 mm = cm

⑦ 18 cm 6 mm = cm

⑧ 53 cm 2 mm = cm

⑨ 4 mm = cm

⑩ 2 cm 9 mm = cm

⑪ 16 cm 8 mm = cm

⑫ 5 mm = cm

⑬ 6 cm 7 mm = cm

⑭ 44 cm 3 mm = cm


⑮ 2 mm = cm

⑯ 57 cm 8 mm = cm

⑰ 3 cm 3 mm = cm

⑱ 8 mm = cm





小数の意味と表し方8

● mmをcmになおす

6

日にち： 月 日

名まえ _____

・ にあてはまる数を書きましょう。(うすい字はなぞりましょう。)

① 88 cm 7 mm = cm

② 6 mm = cm

③ 5 cm 3 mm = cm

④ 3 mm = cm

⑤ 17 cm 2 mm = cm

⑥ 7 mm = cm

⑦ 86 cm 3 mm = cm

⑧ 92 cm 6 mm = cm

⑨ 6 mm = cm

⑩ 5 cm 4 mm = cm

⑪ 21 cm 4 mm = cm

⑫ 9 mm = cm

⑬ 8 cm 9 mm = cm

⑭ 11 cm 8 mm = cm


⑮ 1 cm 5 mm = cm

⑯ 18 cm 9 mm = cm

⑰ 6 cm 9 mm = cm

⑱ 4 mm = cm





小数の意味と表し方8

● mmをcmになおす



日にち： 月 日

名まえ _____

・ にあてはまる数を書きましょう。(うすい字はなぞりましょう。)

① 9 cm 2 mm = cm

⑩ 2 cm 9 mm = cm

② 2 mm = cm

⑪ 44 cm 9 mm = cm

③ 37 cm 8 mm = cm

⑫ 4 mm = cm

④ 5 mm = cm

⑬ 3 cm 6 mm = cm

⑤ 46 cm 5 mm = cm

⑭ 28 cm 5 mm = cm

⑥ 7 cm 5 mm = cm

⑮ 3 cm 4 mm = cm

⑦ 97 cm 5 mm = cm

⑯ 6 mm = cm


⑧ 18 cm 2 mm = cm

⑰ 3 cm 4 mm = cm

⑨ 8 mm = cm

⑱ 55 cm 7 mm = cm





小数の意味と表し方8

● mmをcmになおす



日にち： 月 日

名まえ _____

・ にあてはまる数を書きましょう。

① 6 mm = cm

② 13 cm 9 mm = cm

③ 4 cm 6 mm = cm

④ 9 mm = cm

⑤ 23 cm 8 mm = cm

⑥ 8 mm = cm

⑦ 40 cm 2 mm = cm

⑧ 96 cm 3 mm = cm

⑨ 4 mm = cm

⑩ 6 cm 6 mm = cm

⑪ 43 cm 1 mm = cm

⑫ 2 mm = cm

⑬ 3 cm 7 mm = cm

⑭ 93 cm 2 mm = cm


⑮ 4 mm = cm

⑯ 91 cm 4 mm = cm

⑰ 4 cm 7 mm = cm

⑱ 8 mm = cm





小数の意味と表し方8

● mmをcmになおす



日にち： 月 日

名まえ _____

・ にあてはまる数を書きましょう。

① 9 cm 4 mm = cm

② 8 mm = cm

③ 67 cm 3 mm = cm

④ 6 mm = cm

⑤ 32 cm 8 mm = cm

⑥ 3 cm 3 mm = cm

⑦ 52 cm 9 mm = cm

⑧ 72 cm 2 mm = cm

⑨ 1 mm = cm

⑩ 1 cm 4 mm = cm

⑪ 88 cm 7 mm = cm

⑫ 4 mm = cm

⑬ 8 cm 1 mm = cm

⑭ 46 cm 6 mm = cm


⑮ 5 cm 1 mm = cm

⑯ 7 mm = cm

⑰ 6 cm 5 mm = cm

⑱ 59 cm 6 mm = cm





小数の意味と表し方8

mmをcmになおす



日にち： 月 日

名まえ

1 にあてはまる数を書きましょう。

① 4 cm 4 mm = cm

⑤ 8 cm 1 mm = cm

② 6 mm = cm

⑥ 5 cm 1 mm = cm

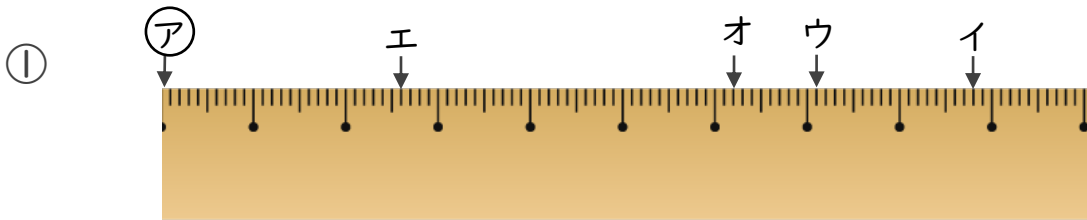
③ 9 mm = cm

⑦ 5 mm = cm

④ 41 cm 9 mm = cm

⑧ 46 cm 5 mm = cm

2 ㉠からイ、ウ、エ、オまでの長さは、それぞれ何cmですか。

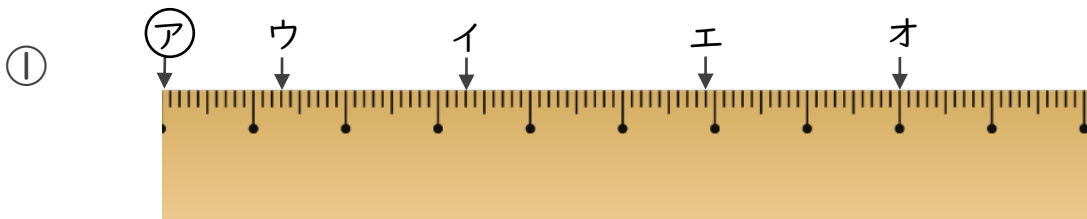


答え ㉠からイ

㉠からウ

㉠からエ

㉠からオ




答え ㉠からイ

㉠からウ

㉠からエ

㉠からオ





小数の意味と表し方8

● mmをcmになおす



日にち： 月 日

名まえ

・ にあてはまる数を書きましょう。(うすい字はなぞりましょう。)

① 5 mm = cm

② 17 cm 6 mm = cm

③ 8 mm = cm

④ 4 mm = cm

⑤ 55 cm 9 mm = cm

⑥ 1 mm = cm

⑦ 14 cm 6 mm = cm

⑧ 35 cm 9 mm = cm

⑨ 9 mm = cm

⑩ 4 cm 4 mm = cm

⑪ 3 mm = cm

⑫ 2 mm = cm

⑬ 1 cm 8 mm = cm

⑭ 39 cm 4 mm = cm


⑮ 6 mm = cm

⑯ 47 cm 7 mm = cm

⑰ 9 cm 4 mm = cm

⑱ 7 mm = cm





小数の意味と表し方8

● mmをcmになおす

2

日にち： 月 日

名まえ

・ にあてはまる数を書きましょう。(うすい字はなぞりましょう。)

① 1 mm = 0.1 cm

② 78 cm 4 mm = 78.4 cm

③ 3 mm = 0.3 cm

④ 7 mm = 0.7 cm

⑤ 67 cm 5 mm = 67.5 cm

⑥ 2 mm = 0.2 cm

⑦ 3 cm 6 mm = 3.6 cm

⑧ 16 cm 8 mm = 16.8 cm

⑨ 5 mm = 0.5 cm

⑩ 4 cm 4 mm = 4.4 cm

⑪ 6 mm = 0.6 cm

⑫ 4 mm = 0.4 cm

⑬ 4 cm 1 mm = 4.1 cm

⑭ 22 cm 8 mm = 22.8 cm


⑮ 9 mm = 0.9 cm

⑯ 69 cm 8 mm = 69.8 cm

⑰ 2 cm 5 mm = 2.5 cm

⑱ 8 mm = 0.8 cm





小数の意味と表し方8

mmをcmになおす



日にち： 月 日

名まえ

・ にあてはまる数を書きましょう。(うすい字はなぞりましょう。)

① 6 mm = 0.6 cm

② 18 cm 1 mm = 18.1 cm

③ 9 mm = 0.9 cm

④ 3 mm = 0.3 cm

⑤ 49 cm 9 mm = 49.9 cm

⑥ 5 mm = 0.5 cm

⑦ 7 cm 5 mm = 7.5 cm

⑧ 57 cm 3 mm = 57.3 cm

⑨ 7 mm = 0.7 cm

⑩ 5 cm 2 mm = 5.2 cm

⑪ 4 mm = 0.4 cm

⑫ 1 mm = 0.1 cm

⑬ 8 cm 9 mm = 8.9 cm


⑭ 62 cm 6 mm = 62.6 cm

⑮ 2 mm = 0.2 cm

⑯ 23 cm 4 mm = 23.4 cm

⑰ 4 cm 6 mm = 4.6 cm

⑱ 8 mm = 0.8 cm



小数の意味と表し方8

● mmをcmになおす



日にち： 月 日

名まえ _____

・ にあてはまる数を書きましょう。(うすい字はなぞりましょう。)

① 7 mm = cm

② 93 cm 1 mm = cm

③ 4 mm = cm

④ 2 mm = cm

⑤ 40 cm 8 mm = cm

⑥ 1 mm = cm

⑦ 2 cm 9 mm = cm

⑧ 19 cm 6 mm = cm

⑨ 8 mm = cm

⑩ 3 cm 7 mm = cm

⑪ 3 mm = cm

⑫ 5 mm = cm

⑬ 7 cm 3 mm = cm

⑭ 41 cm 9 mm = cm


⑮ 6 mm = cm

⑯ 45 cm 8 mm = cm

⑰ 3 cm 8 mm = cm

⑱ 9 mm = cm





小数の意味と表し方8

● mmをcmになおす



日にち： 月 日

名まえ _____

・ にあてはまる数を書きましょう。(うすい字はなぞりましょう。)

① 1 mm = 0.1 cm

② 87 cm 1 mm = 87.1 cm

③ 1 cm 9 mm = 1.9 cm

④ 3 mm = 0.3 cm

⑤ 59 cm 6 mm = 59.6 cm

⑥ 2 mm = 0.2 cm

⑦ 18 cm 6 mm = 18.6 cm

⑧ 53 cm 2 mm = 53.2 cm

⑨ 4 mm = 0.4 cm

⑩ 2 cm 9 mm = 2.9 cm

⑪ 16 cm 8 mm = 16.8 cm

⑫ 5 mm = 0.5 cm

⑬ 6 cm 7 mm = 6.7 cm


⑭ 44 cm 3 mm = 44.3 cm

⑮ 2 mm = 0.2 cm

⑯ 57 cm 8 mm = 57.8 cm

⑰ 3 cm 3 mm = 3.3 cm

⑱ 8 mm = 0.8 cm



小数の意味と表し方8

● mmをcmになおす



日にち： 月 日

名まえ _____

・ にあてはまる数を書きましょう。(うすい字はなぞりましょう。)

① 88 cm 7 mm = cm

② 6 mm = cm

③ 5 cm 3 mm = cm

④ 3 mm = cm

⑤ 17 cm 2 mm = cm

⑥ 7 mm = cm

⑦ 86 cm 3 mm = cm

⑧ 92 cm 6 mm = cm

⑨ 6 mm = cm

⑩ 5 cm 4 mm = cm

⑪ 21 cm 4 mm = cm

⑫ 9 mm = cm

⑬ 8 cm 9 mm = cm

⑭ 11 cm 8 mm = cm


⑮ 1 cm 5 mm = cm

⑯ 18 cm 9 mm = cm

⑰ 6 cm 9 mm = cm

⑱ 4 mm = cm





小数の意味と表し方8

● mmをcmになおす



日にち： 月 日

名まえ _____

・ にあてはまる数を書きましょう。(うすい字はなぞりましょう。)

① 9 cm 2 mm = cm

② 2 mm = cm

③ 37 cm 8 mm = cm

④ 5 mm = cm

⑤ 46 cm 5 mm = cm

⑥ 7 cm 5 mm = cm

⑦ 97 cm 5 mm = cm

⑧ 18 cm 2 mm = cm

⑨ 8 mm = cm

⑩ 2 cm 9 mm = cm

⑪ 44 cm 9 mm = cm

⑫ 4 mm = cm

⑬ 3 cm 6 mm = cm


⑭ 28 cm 5 mm = cm

⑮ 3 cm 4 mm = cm

⑯ 6 mm = cm

⑰ 3 cm 4 mm = cm

⑱ 55 cm 7 mm = cm



小数の意味と表し方8

● mmをcmになおす



日にち： 月 日

名まえ _____

・ にあてはまる数を書きましょう。

① 6 mm = cm

② 13 cm 9 mm = cm

③ 4 cm 6 mm = cm

④ 9 mm = cm

⑤ 23 cm 8 mm = cm

⑥ 8 mm = cm

⑦ 40 cm 2 mm = cm

⑧ 96 cm 3 mm = cm

⑨ 4 mm = cm

⑩ 6 cm 6 mm = cm

⑪ 43 cm 1 mm = cm

⑫ 2 mm = cm

⑬ 3 cm 7 mm = cm

⑭ 93 cm 2 mm = cm


⑮ 4 mm = cm

⑯ 91 cm 4 mm = cm

⑰ 4 cm 7 mm = cm

⑱ 8 mm = cm





小数の意味と表し方8

● mmをcmになおす



日にち： 月 日

名まえ

・ にあてはまる数を書きましょう。

① 9 cm 4 mm = cm

② 8 mm = cm

③ 67 cm 3 mm = cm

④ 6 mm = cm

⑤ 32 cm 8 mm = cm

⑥ 3 cm 3 mm = cm

⑦ 52 cm 9 mm = cm

⑧ 72 cm 2 mm = cm

⑨ 1 mm = cm

⑩ 1 cm 4 mm = cm

⑪ 88 cm 7 mm = cm

⑫ 4 mm = cm

⑬ 8 cm 1 mm = cm

⑭ 46 cm 6 mm = cm


⑮ 5 cm 1 mm = cm

⑯ 7 mm = cm

⑰ 6 cm 5 mm = cm

⑱ 59 cm 6 mm = cm





小数の意味と表し方8

mmをcmになおす



日にち： 月 日

名まえ

1 にあてはまる数を書きましょう。

① 4 mm = 0.4 cm

⑤ 1 cm 8 mm = 1.8 cm

② 1 cm 7 mm = 1.7 cm

⑥ 9 mm = 0.9 cm

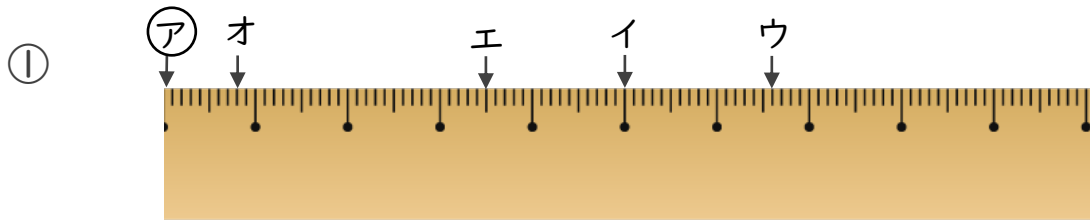
③ 6 mm = 0.6 cm

⑦ 7 cm 8 mm = 7.8 cm

④ 91 cm 2 mm = 91.2 cm

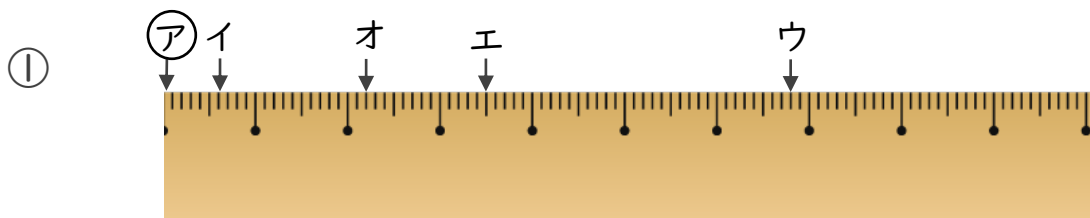
⑧ 55 cm 7 mm = 55.7 cm

2 ㉠からイ、ウ、エ、オまでの長さは、それぞれ何cmですか。



答え ㉠からイ 5 cm ㉠からウ 6.6 cm


㉠からエ 3.5 cm ㉠からオ 0.8 cm



答え ㉠からイ 0.6 cm ㉠からウ 6.8 cm

㉠からエ 3.5 cm ㉠からオ 2.2 cm





小数の意味と表し方8

mmをcmになおす



日にち： 月 日

名まえ

1 にあてはまる数を書きましょう。

① 4 cm 4 mm = 4.4 cm

⑤ 8 cm 1 mm = 8.1 cm

② 6 mm = 0.6 cm

⑥ 5 cm 1 mm = 5.1 cm

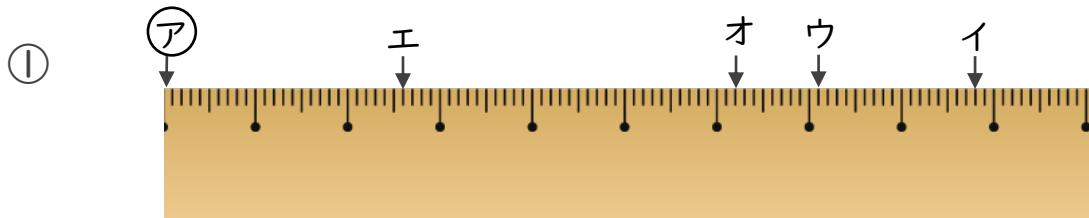
③ 9 mm = 0.9 cm

⑦ 5 mm = 0.5 cm

④ 41 cm 9 mm = 41.9 cm

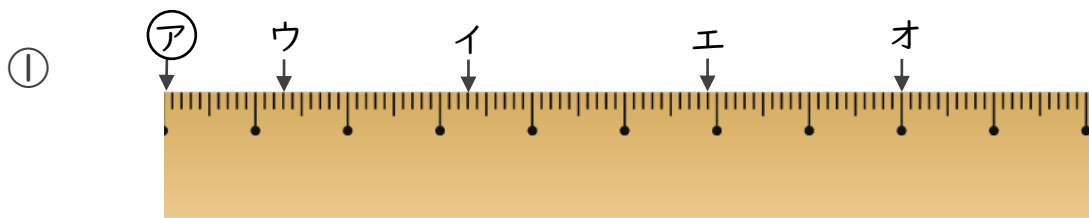
⑧ 46 cm 5 mm = 46.5 cm

2 アからイ、ウ、エ、オまでの長さは、それぞれ何cmですか。



答え アからイ 8.8 cm アからウ 7.1 cm


アからエ 2.6 cm アからオ 6.2 cm



答え アからイ 3.3 cm アからウ 1.3 cm

アからエ 5.9 cm アからオ 8 cm





小数の意味と表し方8

● mmをcmになおす



日にち： 月 日

名まえ _____

1 にあてはまる数を書きましょう。

① 2 mm = cm

⑤ 1 cm 2 mm = cm

② 1 cm 9 mm = cm

⑥ 1 mm = cm

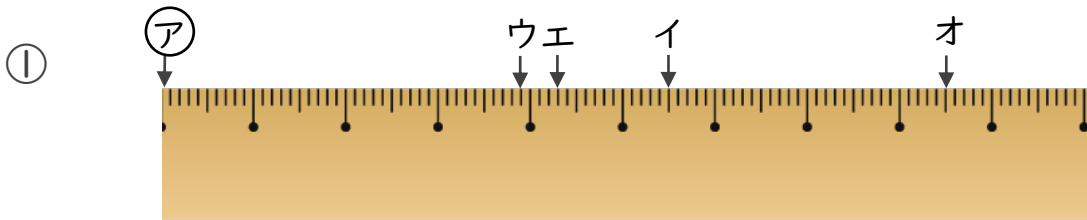
③ 3 mm = cm

⑦ 3 cm 3 mm = cm

④ 74 cm 2 mm = cm

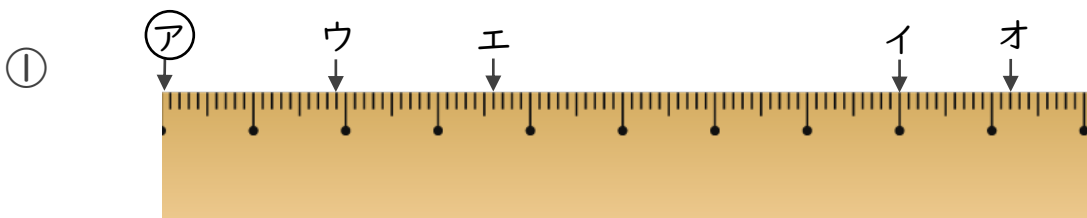
⑧ 84 cm 8 mm = cm

2 ㉠からイ、ウ、エ、オまでの長さは、それぞれ何cmですか。



答え ㉠からイ 5.5 cm ㉠からウ 3.9 cm


㉠からエ 4.3 cm ㉠からオ 8.5 cm



答え ㉠からイ 8 cm ㉠からウ 1.9 cm

㉠からエ 3.6 cm ㉠からオ 9.2 cm





小数の意味と表し方8

mmをcmになおす



日にち： 月 日

名まえ

1 にあてはまる数を書きましょう。

① 6 cm 9 mm = 6.9 cm

⑤ 6 cm 2 mm = 6.2 cm

② 7 mm = 0.7 cm

⑥ 3 cm 2 mm = 3.2 cm

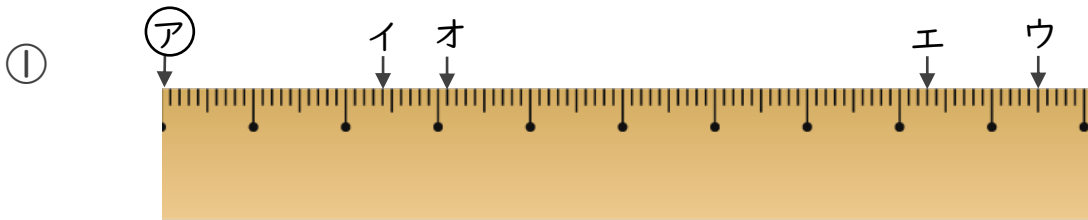
③ 5 mm = 0.5 cm

⑦ 3 mm = 0.3 cm

④ 12 cm 1 mm = 12.1 cm

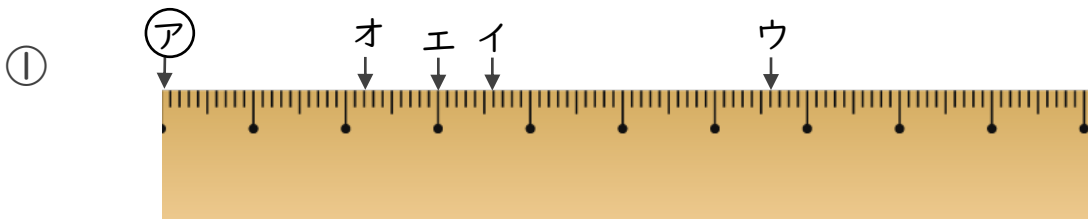
⑧ 83 cm 3 mm = 83.3 cm

2 アからイ、ウ、エ、オまでの長さは、それぞれ何cmですか。



答え アからイ 2.4 cm アからウ 9.5 cm

アからエ 8.3 cm アからオ 3.1 cm



答え アからイ 3.6 cm アからウ 6.6 cm

アからエ 3 cm アからオ 2.2 cm





小数の意味と表し方8

mmをcmになおす



日にち： 月 日

名まえ

1 にあてはまる数を書きましょう。

① 1 mm = 0.1 cm

⑤ 1 cm 2 mm = 1.2 cm

② 8 cm 2 mm = 8.2 cm

⑥ 5 mm = 0.5 cm

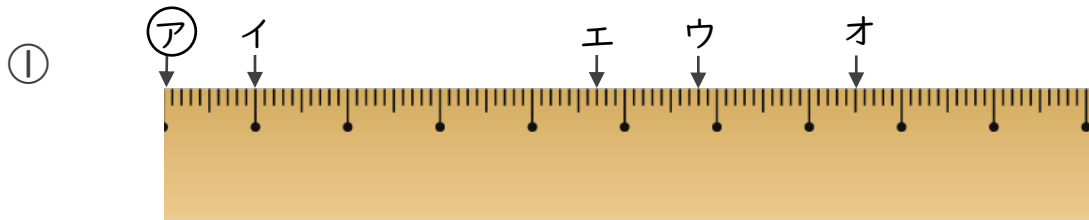
③ 2 mm = 0.2 cm

⑦ 5 cm 1 mm = 5.1 cm

④ 16 cm 3 mm = 16.3 cm

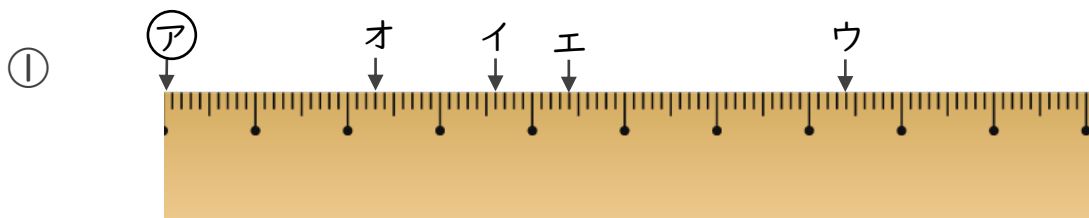
⑧ 37 cm 8 mm = 37.8 cm

2 ㉠からイ、ウ、エ、オまでの長さは、それぞれ何cmですか。



答え ㉠からイ 1 cm ㉠からウ 5.8 cm


㉠からエ 4.7 cm ㉠からオ 7.5 cm



答え ㉠からイ 3.6 cm ㉠からウ 7.4 cm

㉠からエ 4.4 cm ㉠からオ 2.3 cm






小数の意味と表し方8

15

目指せ80点!



mmをcmになおす

名まえ

1 にあてはまる数を書きましょう。(各10点)

① 5 cm 2 mm = cm

⑤ 3 mm = cm

② 9 cm 7 mm = cm

⑥ 69 cm 5 mm = cm

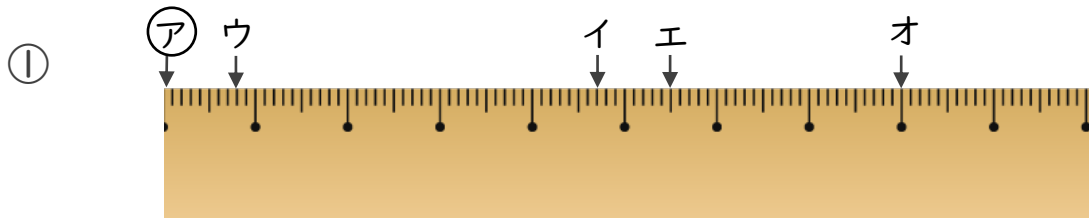
③ 56 cm 4 mm = cm

⑦ 5 cm 8 mm = cm

④ 9 mm = cm

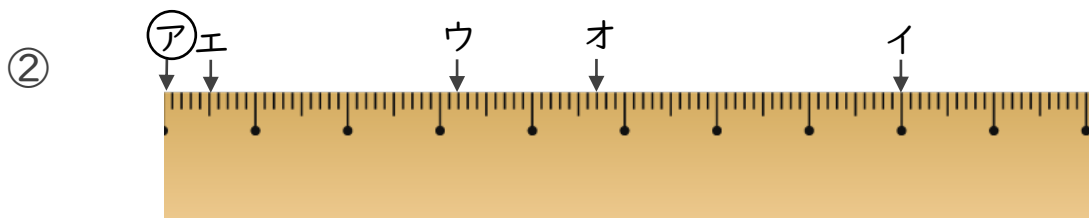
⑧ 7 mm = cm

2 ㉠からイ、ウ、エ、オまでの長さは、それぞれ何cmですか。(各10点)



答え ㉠からイ cm ㉠からウ cm

㉠からエ cm ㉠からオ cm



答え ㉠からイ cm ㉠からウ cm

㉠からエ cm ㉠からオ cm






小数の意味と表し方8

16

目指せ80点!



mmをcmになおす

名まえ

1 にあてはまる数を書きましょう。(各10点)

① 9 mm = cm

⑤ 3 mm = cm

② 8 cm 1 mm = cm

⑥ 43 cm 5 mm = cm

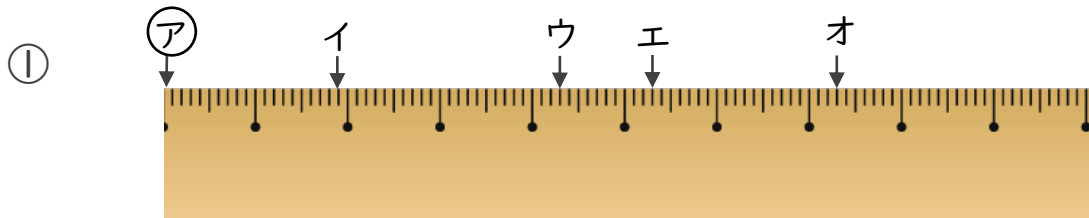
③ 19 cm 6 mm = cm

⑦ 1 cm 9 mm = cm

④ 6 mm = cm

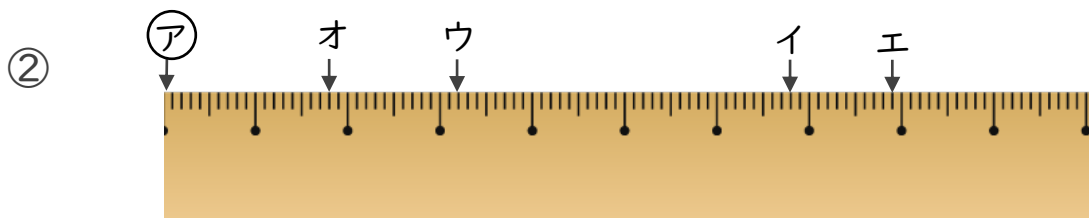
⑧ 5 cm 1 mm = cm

2 ㉠からイ、ウ、エ、オまでの長さは、それぞれ何cmですか。(各10点)



答え ㉠からイ cm ㉠からウ cm

㉠からエ cm ㉠からオ cm



答え ㉠からイ cm ㉠からウ cm

㉠からエ cm ㉠からオ cm

