



時こくと時間の  
もとめかた 10

○分前の時こく (数直線)

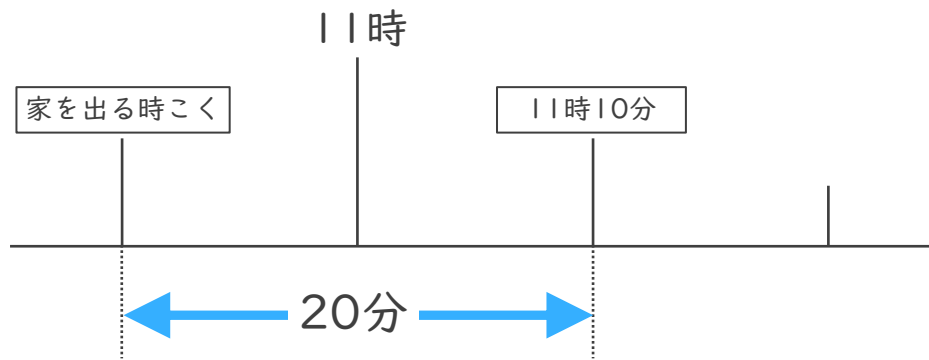


日にち： 月 日

名まえ \_\_\_\_\_

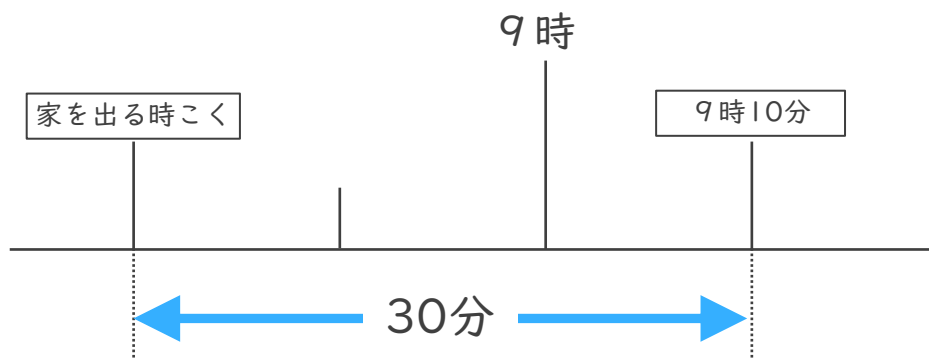
・ 次の問いに答えましょう。(うすい字はなぞりましょう。)

- ① まきさんの家から学校まで20分かかります。11時10分までに学校に着くためには、おそくとも何時何分までに家を出なければならないでしょうか。



答え ( 10時50分 )

- ② けんさんの家から病院まで30分かかります。9時10分までに病院に着くためには、おそくとも何時何分までに家を出なければならないでしょうか。



答え ( )



時こくと時間の  
もとめかた 10



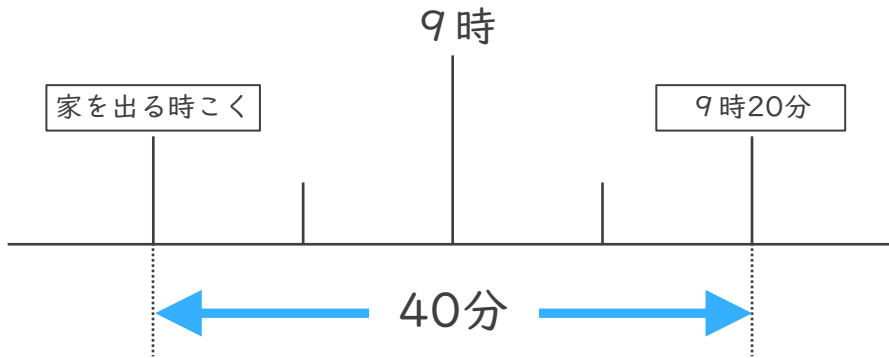
○分前の時こく (数直線)

日にち： 月 日

名まえ \_\_\_\_\_

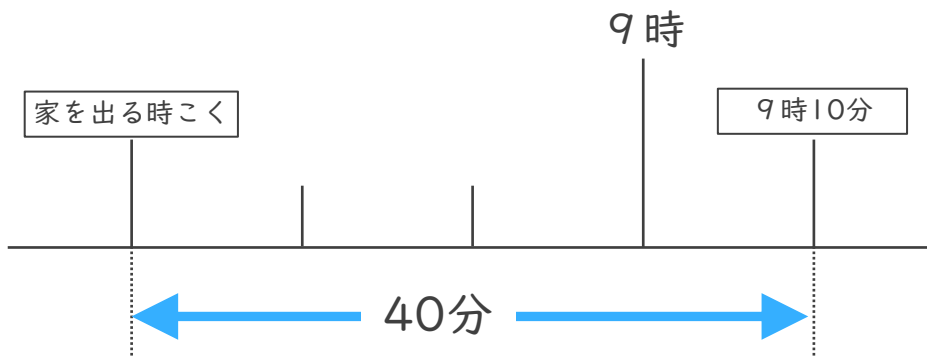
・ 次の問いに答えましょう。(うすい字はなぞりましょう。)

- ① まきさんの家から学校まで40分かかります。9時20分までに学校に着くためには、おそくとも何時何分までに家を出なければならないでしょうか。



答え ( 8時40分 )

- ② けんさんの家から病院まで40分かかります。9時10分までに病院に着くためには、おそくとも何時何分までに家を出なければならないでしょうか。



答え ( )





時こくと時間の  
もとめかた 10

○分前の時こく (数直線)

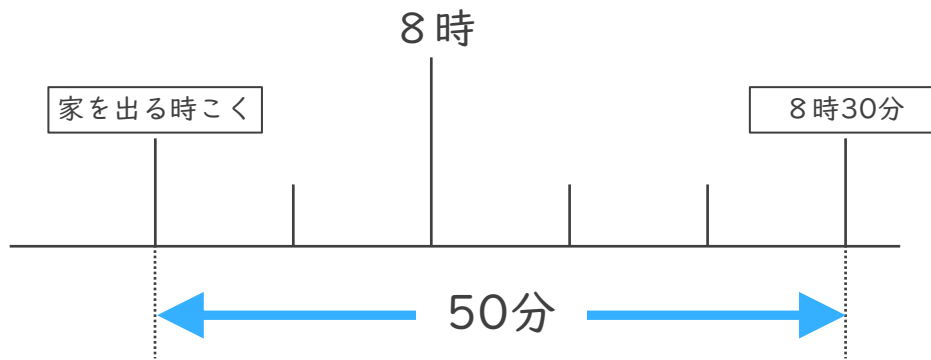


日にち： 月 日

名まえ \_\_\_\_\_

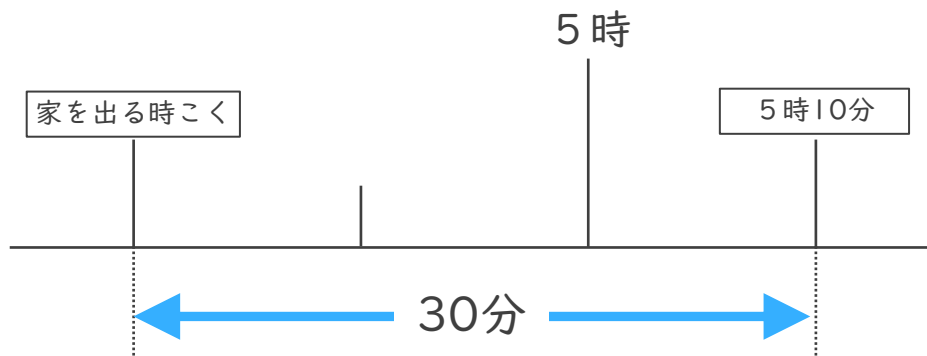
・ 次の問いに答えましょう。

- ① ゆうさんの家から学校まで50分かかります。8時30分までに学校に着くためには、おそくとも何時何分までに家を出なければならないでしょうか。



答え ( )

- ② みかさんの家から病院まで30分かかります。5時10分までに病院に着くためには、おそくとも何時何分までに家を出なければならないでしょうか。



答え ( )



時こくと時間の  
もとめかた 10

● ○分前の時こく (数直線)

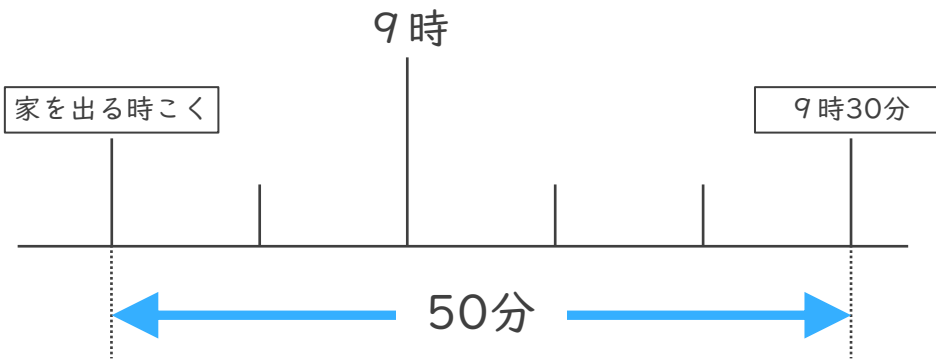


日にち： 月 日

名まえ \_\_\_\_\_

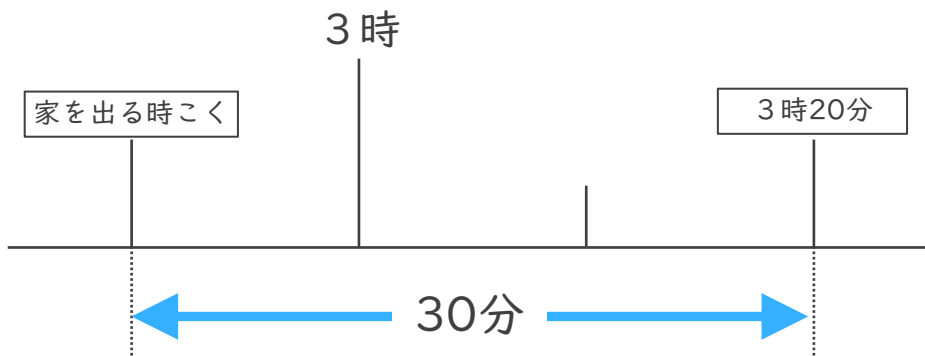
・ 次の問いに答えましょう。

- ① まきさんの家から学校まで50分かかります。9時30分までに学校に着くためには、おそくとも何時何分までに家を出なければならないでしょうか。



答え ( )

- ② けんさんの家から病院まで30分かかります。3時20分までに病院に着くためには、おそくとも何時何分までに家を出なければならないでしょうか。



答え ( )



時こくと時間の  
もとめかた 10



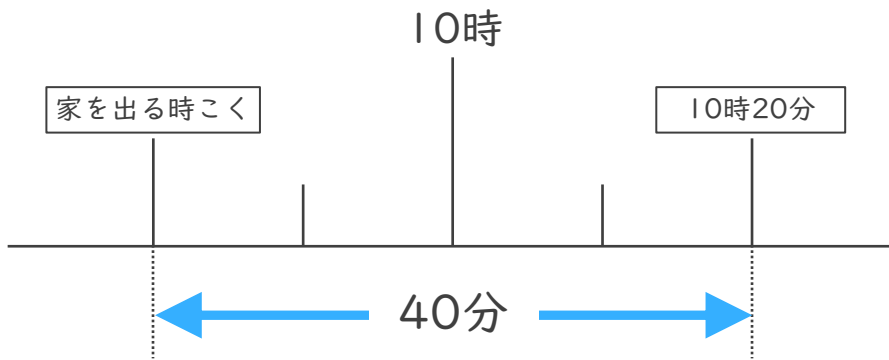
○分前の時こく (数直線)

日にち： 月 日

名まえ \_\_\_\_\_

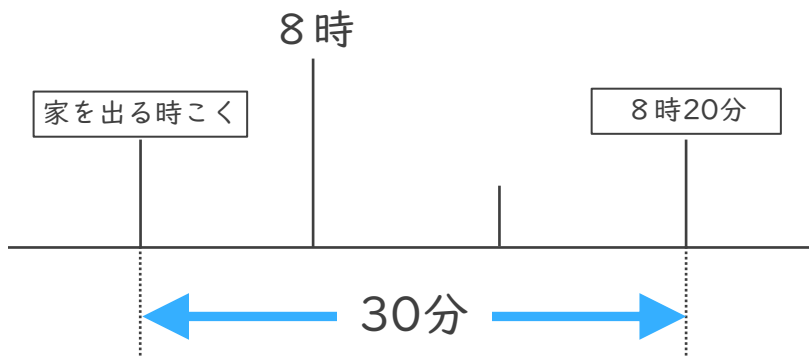
・ 次の問いに答えましょう。

- ① しょうさんの家から学校まで40分かかります。10時20分までに学校に着くためには、おそくとも何時何分までに家を出なければなりませんでしょうか。



答え ( )

- ② けんさんの家から公園まで30分かかります。8時20分までに公園に着くためには、おそくとも何時何分までに家を出なければなりませんでしょうか。



答え ( )



時こくと時間の  
もとめかた 10

○分前の時こく (数直線)

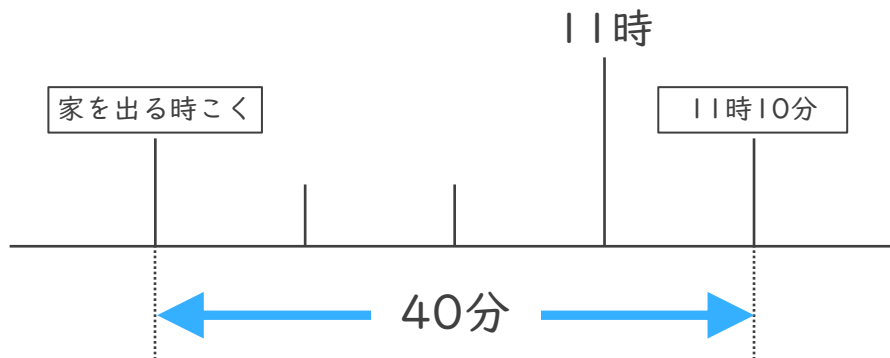


日にち： 月 日

名まえ \_\_\_\_\_

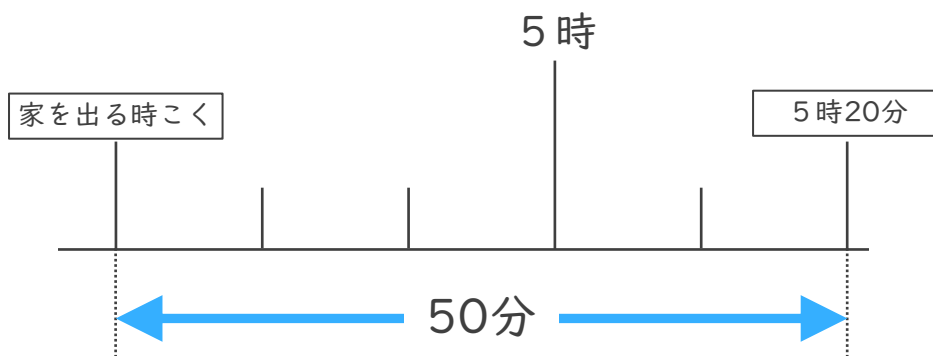
・ 次の問いに答えましょう。

- ① しょうさんの家から学校まで40分かかります。11時10分までに学校に着くためには、おそくとも何時何分までに家を出なければなりませんでしょうか。



答え ( )

- ② けんさんの家から公園まで50分かかります。5時20分までに公園に着くためには、おそくとも何時何分までに家を出なければなりませんでしょうか。



答え ( )





時こくと時間の  
もとめかた 10

○分前の時こく (数直線)

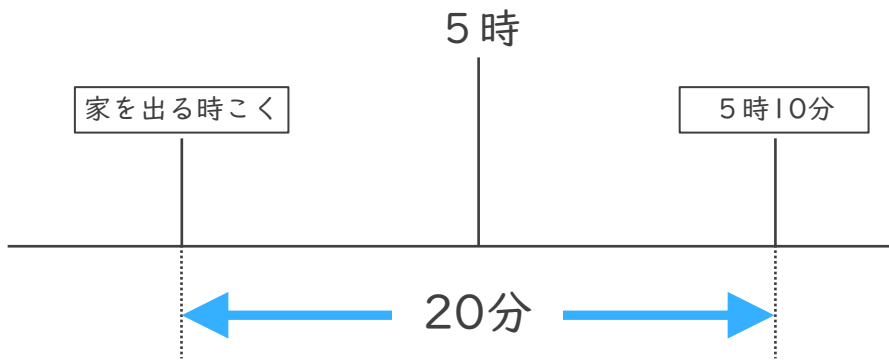


日にち： 月 日

名まえ \_\_\_\_\_

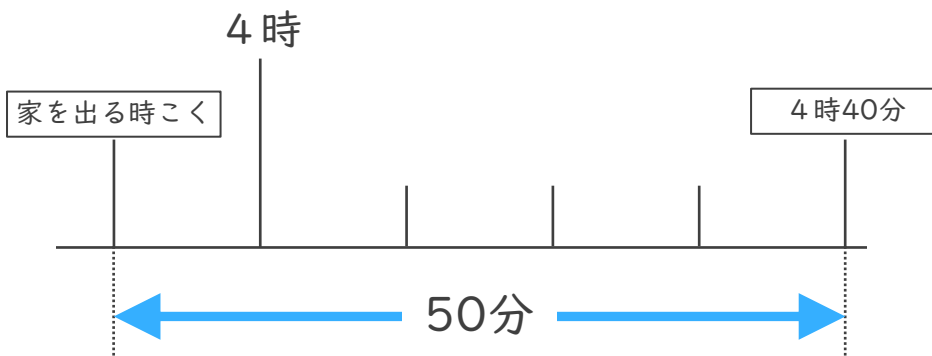
・ 次の問いに答えましょう。

- ① はるかさんの家から学校まで20分かかります。5時10分までに学校に着くためには、おそくとも何時何分までに家を出なければならないでしょうか。



答え ( )

- ② あいさんの家から公園まで50分かかります。4時40分までに公園に着くためには、おそくとも何時何分までに家を出なければならないでしょうか。



答え ( )



時こくと時間の  
もとめかた 10



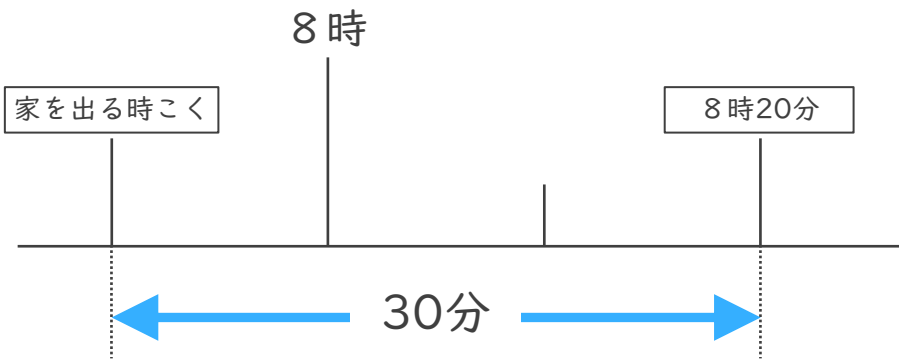
○分前の時こく (数直線)

日にち： 月 日

名まえ \_\_\_\_\_

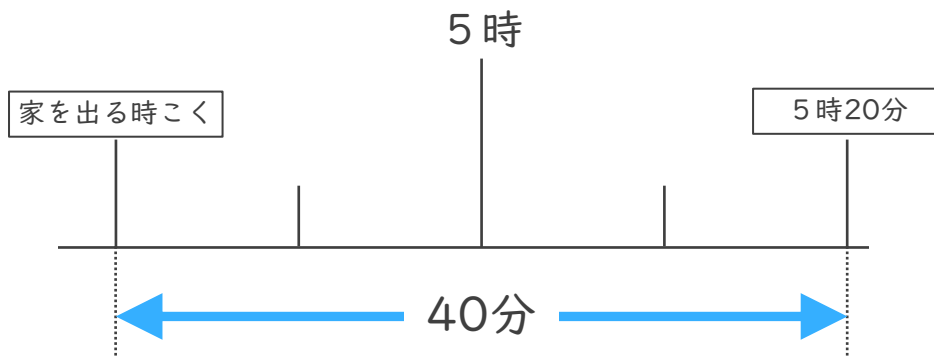
・ 次の問いに答えましょう。

- ① ゆたかさんの家から学校まで30分かかります。8時20分までに学校に着くためには、おそくとも何時何分までに家を出なければならないでしょうか。



答え ( )

- ② けんさんの家から公園まで40分かかります。5時20分までに公園に着くためには、おそくとも何時何分までに家を出なければならないでしょうか。



答え ( )





時こくと時間の  
もとめかた 10



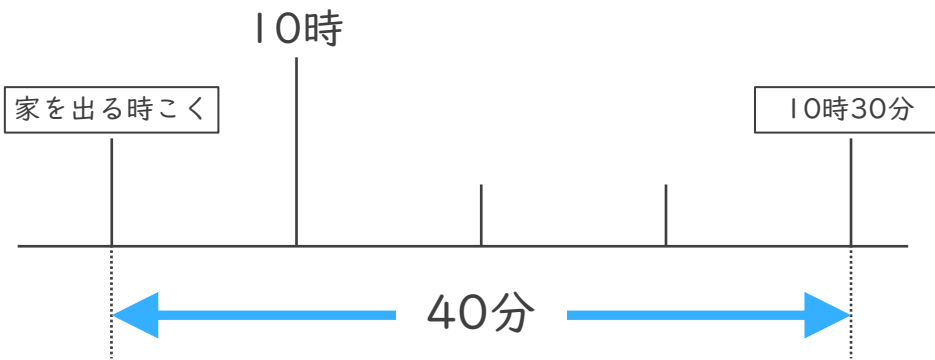
○分前の時こく (数直線)

日にち： 月 日

名まえ \_\_\_\_\_

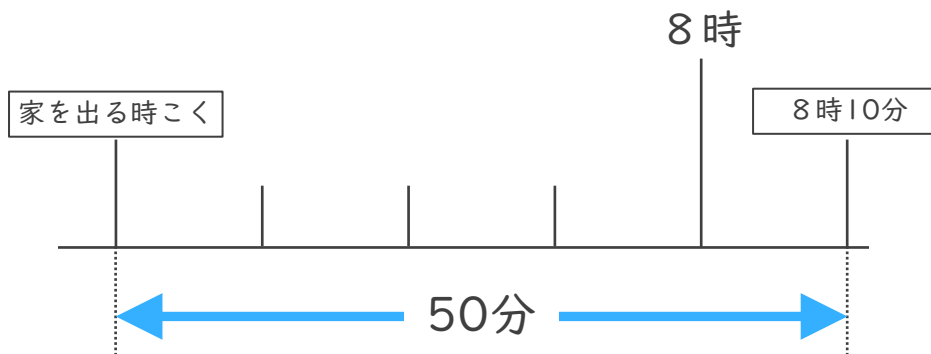
・ 次の問いに答えましょう。

- ① じゅんさんの家から学校まで40分かかります。10時30分までに学校に着くためには、おそくとも何時何分までに家を出なければなりませんでしょうか。



答え ( )

- ② けんさんの家から公園まで50分かかります。8時10分までに公園に着くためには、おそくとも何時何分までに家を出なければなりませんでしょうか。



答え ( )



時こくと時間の  
もとめかた 10

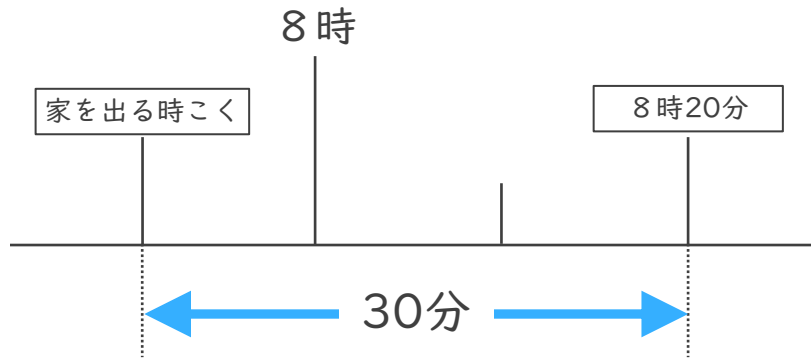


○分前の時こく (数直線)

日にち： 月 日

名まえ \_\_\_\_\_

- 1 けんさんの家から公園まで30分かかります。8時20分までに公園に着くためには、おそくとも何時何分までに家を出なければならぬでしょうか。



答え ( )

- 2 公園を出て40分歩いて、学校に10時20分に着きました。次の問題に答えましょう。

- ① 40分前の時計に長いはりをかきましょう。



40分前の時計



10時20分

- ② 公園を出た時こくは何時何分ですか。

答え ( )





時こくと時間の  
もとめかた 10

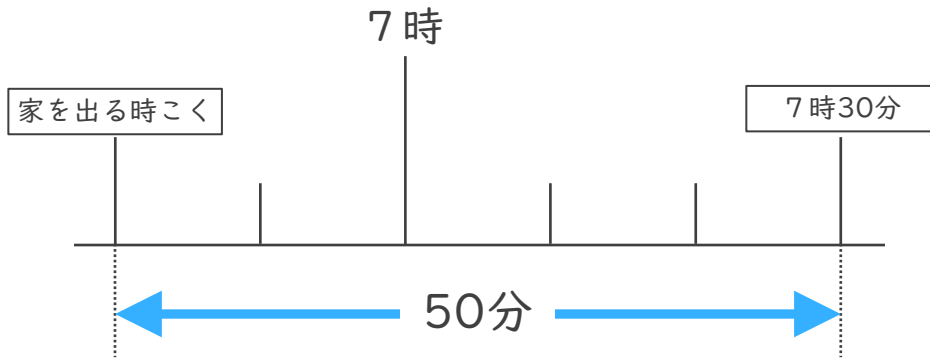
○分前の時こく (数直線)



日にち： 月 日

名まえ \_\_\_\_\_

- 1 ゆうさんの家から公園まで50分かかります。7時30分までに公園に着くためには、おそくとも何時何分までに家を出なければならぬでしょうか。



答え ( )

- 2 公園を出て30分歩いて、学校に8時10分に着きました。次の問題に答えましょう。

- ① 30分前の時計に長いはりをかきましょう。



30分前の時計



8時10分

- ② 公園を出た時こくは何時何分ですか。

答え ( )





時こくと時間の  
もとめかた 10

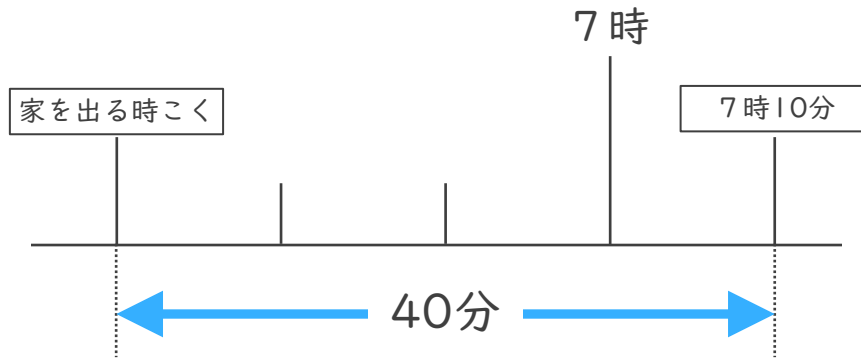


○分前の時こく (数直線)

日にち： 月 日

名まえ \_\_\_\_\_

- 1 けんさんの家から公園まで40分かかります。7時10分までに公園に着くためには、おそくとも何時何分までに家を出なければならぬでしょうか。



答え ( )

- 2 公園を出て50分歩いて、学校に11時20分に着きました。次の問題に答えましょう。

- ① 50分前の時計に長いはりをかきましょう。



50分前の時計



11時20分

- ② 公園を出た時こくは何時何分ですか。

答え ( )





時こくと時間の  
もとめかた 10

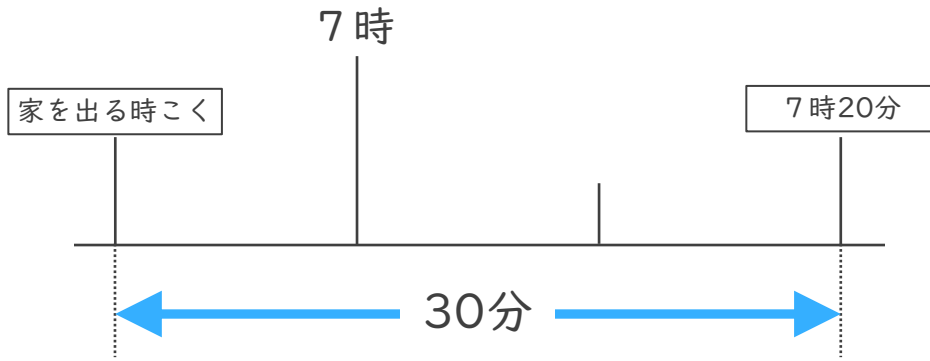


○分前の時こく (数直線)

日にち： 月 日

名まえ \_\_\_\_\_

- 1 ゆうさんの家から公園まで30分かかります。7時20分までに公園に着くためには、おそくとも何時何分までに家を出なければならぬでしょうか。



答え ( )

- 2 公園を出て50分歩いて、学校に6時20分に着きました。次の問題に答えましょう。

- ① 50分前の時計に長いはりをかきましょう。



50分前の時計



6時20分

- ② 公園を出た時こくは何時何分ですか。

答え ( )





時こくと時間の  
もとめかた 10

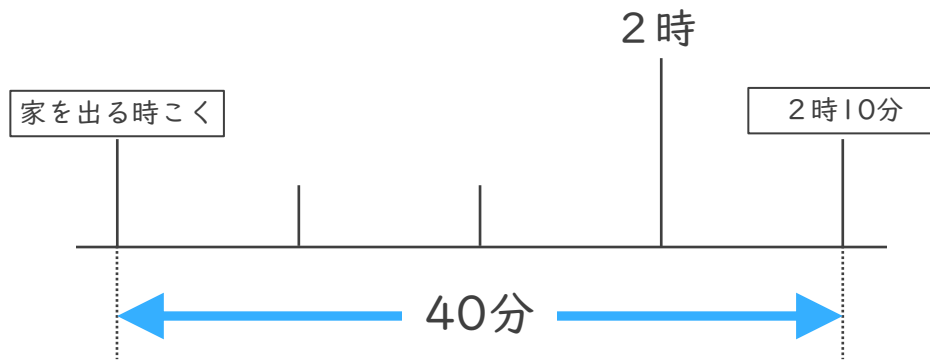


○分前の時こく (数直線)

日にち： 月 日

名まえ \_\_\_\_\_

- 1 ゆうさんの家から公園まで40分かかります。2時10分までに公園に着くためには、おそくとも何時何分までに家を出なければならぬでしょうか。



答え ( )

- 2 公園を出て30分歩いて、学校に6時20分に着きました。次の問題に答えましょう。

- ① 30分前の時計に長いはりをかきましょう。



30分前の時計



6時10分

- ② 公園を出た時こくは何時何分ですか。

答え ( )






時こくと時間の  
もとめかた 10 15

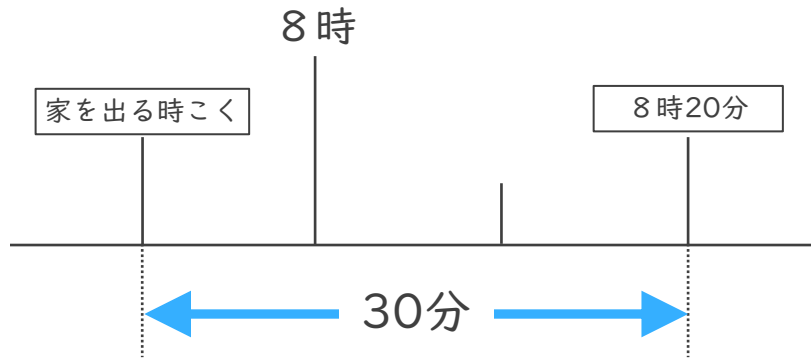
○分前の時こく (数直線)

めざせ100点!



名まえ \_\_\_\_\_

- 1 ゆうこさんの家から公園まで30分かかります。8時20分までに公園に着くためには、おそくとも何時何分までに家を出なければなりませんでしょうか。(50点)



答え ( )

- 2 公園を出て30分歩いて、学校に10時20分に着きました。次の問題に答えましょう。(各25点)

- ① 30分前の時計に長いはりをかきましょう。



30分前の時計



10時20分

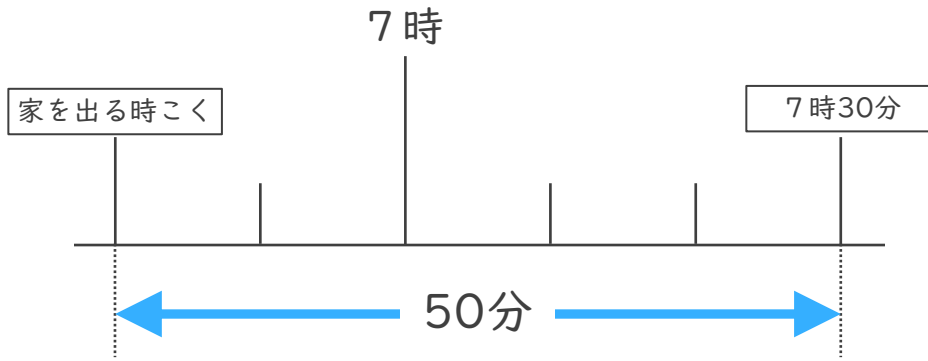
- ② 公園を出た時こくは何時何分ですか。

答え ( )



名まえ

- 1 ゆうさんの家から公園まで50分かかります。7時30分までに公園に着くためには、おそくとも何時何分までに家を出なければならぬでしょうか。(50点)



答え ( )

- 2 公園を出て40分歩いて、学校に10時20分に着きました。次の問題に答えましょう。(各25点)

- ① 40分前の時計に長いはりをかきましょう。



40分前の時計



10時20分

- ② 公園を出た時こくは何時何分ですか。

答え ( )





時こくと時間の  
もとめかた 10

○分前の時こく (数直線)

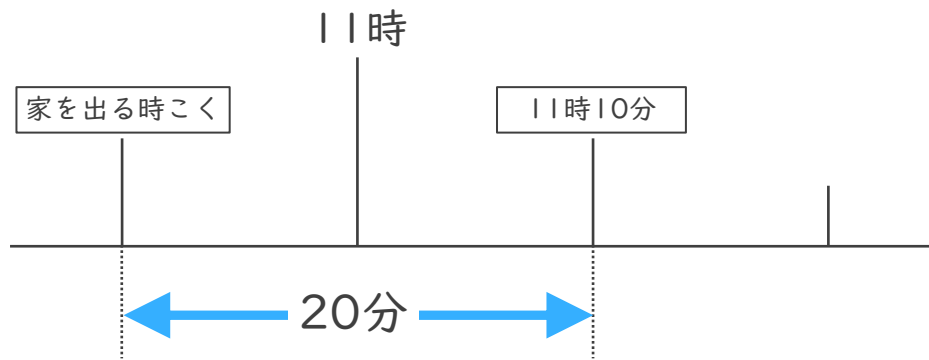


日にち： 月 日

名まえ \_\_\_\_\_

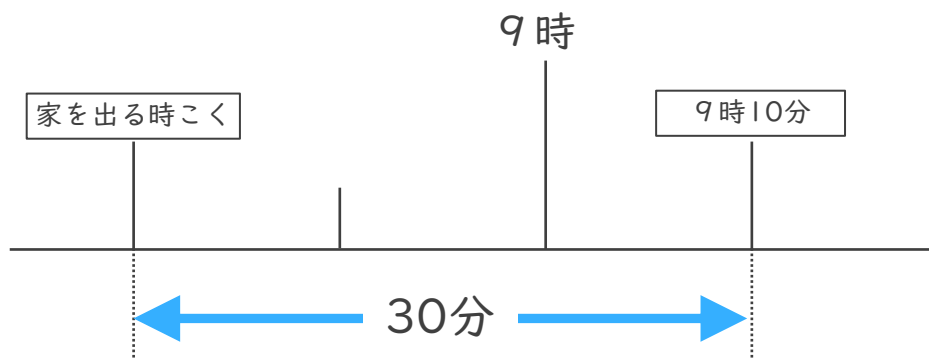
・ 次の問いに答えましょう。(うすい字はなぞりましょう。)

- ① まきさんの家から学校まで20分かかります。11時10分までに学校に着くためには、おそくとも何時何分までに家を出なければならないでしょうか。



答え ( 10時50分 )

- ② けんさんの家から病院まで30分かかります。9時10分までに病院に着くためには、おそくとも何時何分までに家を出なければならないでしょうか。



答え ( 8時40分 )



時こくと時間の  
もとめかた 10



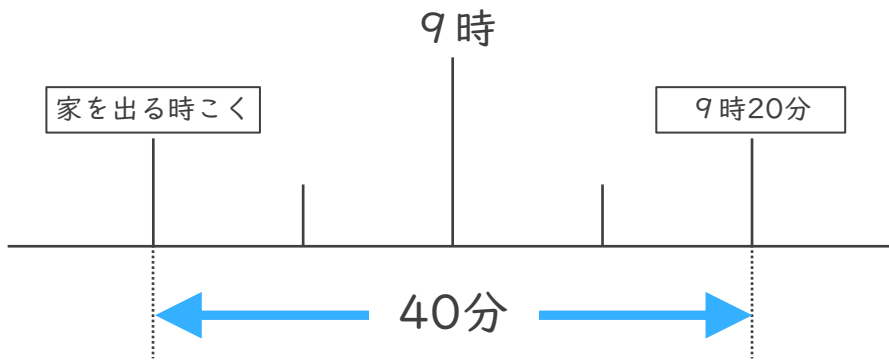
○分前の時こく (数直線)

日にち： 月 日

名まえ \_\_\_\_\_

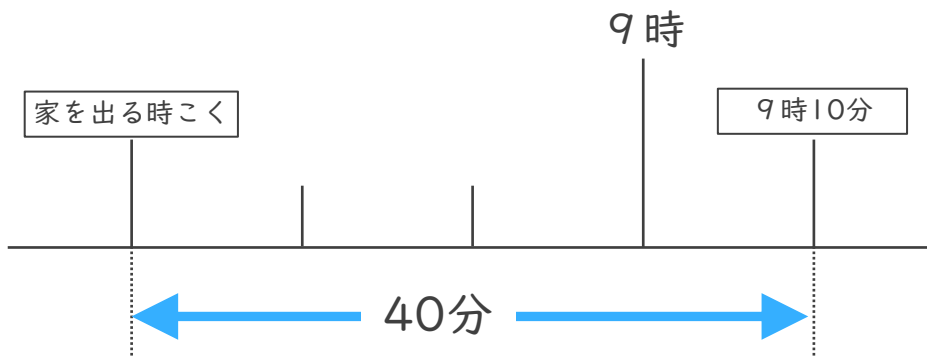
・ 次の問いに答えましょう。(うすい字はなぞりましょう。)

- ① まきさんの家から学校まで40分かかります。9時20分までに学校に着くためには、おそくとも何時何分までに家を出なければならないでしょうか。



答え ( 8時40分 )

- ② けんさんの家から病院まで40分かかります。9時10分までに病院に着くためには、おそくとも何時何分までに家を出なければならないでしょうか。



答え ( 8時30分 )





時こくと時間の  
もとめかた 10

● ○分前の時こく (数直線)

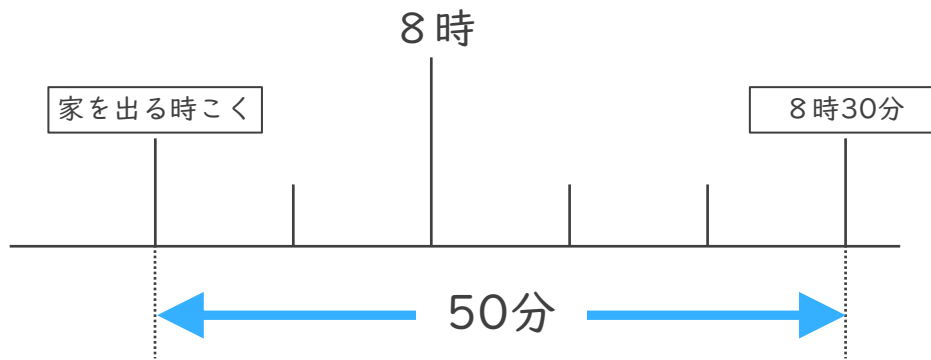


日にち：            月            日

名まえ \_\_\_\_\_

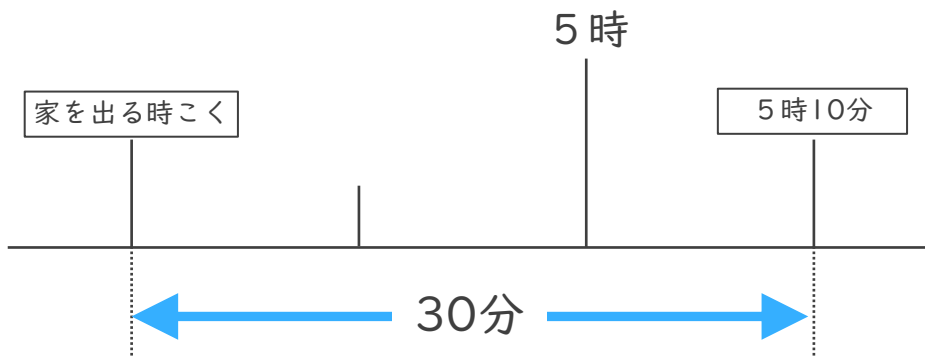
・ 次の問いに答えましょう。

- ① ゆうさんの家から学校まで50分かかります。8時30分までに学校に着くためには、おそくとも何時何分までに家を出なければならないでしょうか。



答え (            7時40分            )

- ② みかさんの家から病院まで30分かかります。5時10分までに病院に着くためには、おそくとも何時何分までに家を出なければならないでしょうか。



答え (            4時40分            )





時こくと時間の  
もとめかた 10

● ○分前の時こく (数直線)

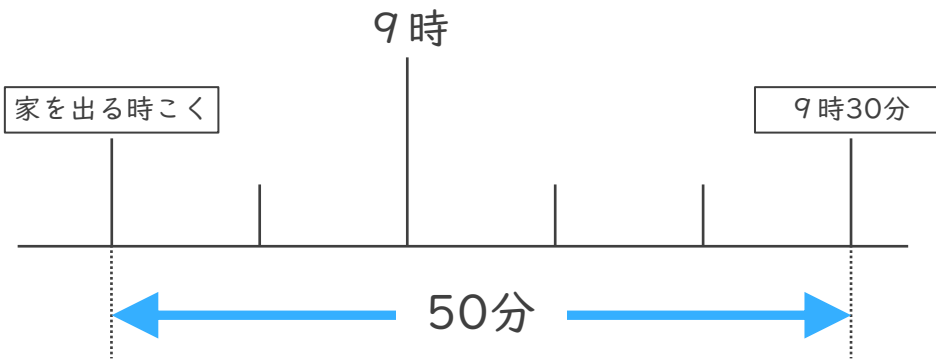


日にち：            月            日

名まえ \_\_\_\_\_

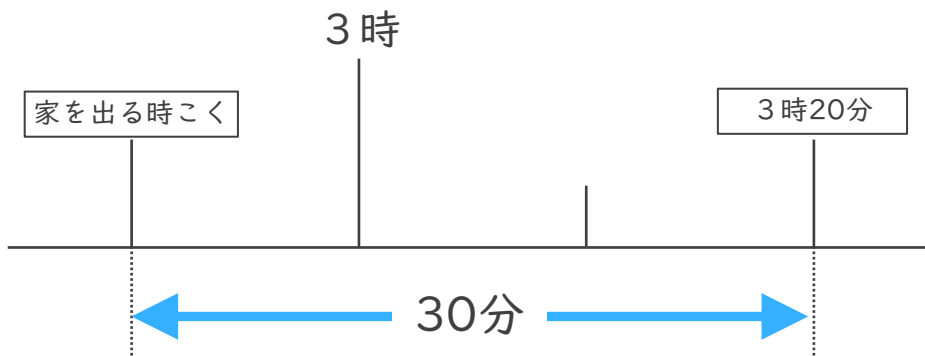
・ 次の問いに答えましょう。

- ① まきさんの家から学校まで50分かかります。9時30分までに学校に着くためには、おそくとも何時何分までに家を出なければならないでしょうか。



答え (            8時40分            )

- ② けんさんの家から病院まで30分かかります。3時20分までに病院に着くためには、おそくとも何時何分までに家を出なければならないでしょうか。



答え (            2時50分            )





時こくと時間の  
もとめかた 10



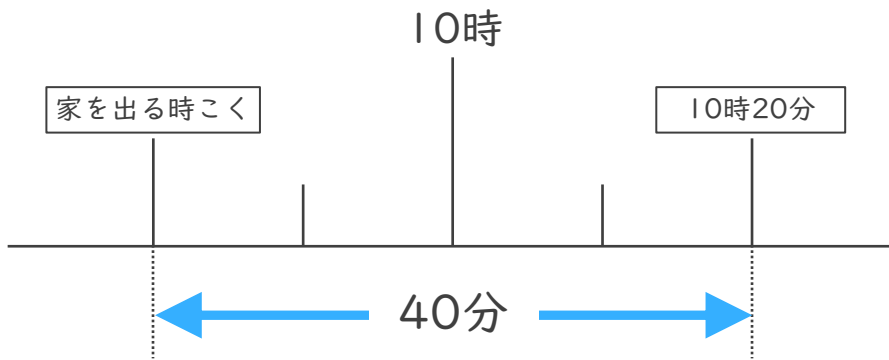
○分前の時こく (数直線)

日にち： 月 日

名まえ \_\_\_\_\_

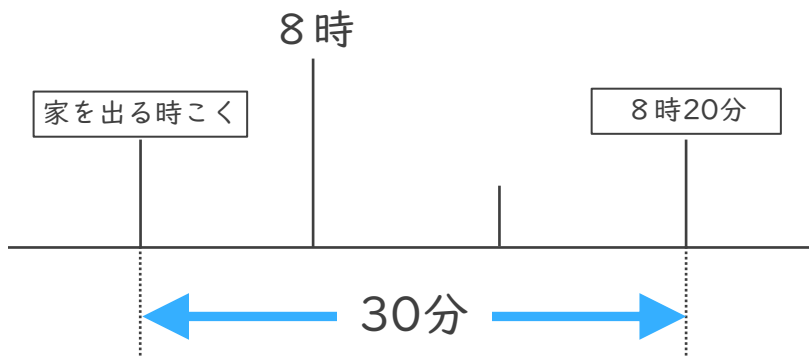
・ 次の問いに答えましょう。

- ① しょうさんの家から学校まで40分かかります。10時20分までに学校に着くためには、おそくとも何時何分までに家を出なければなりませんでしょうか。



答え ( 9時40分 )

- ② けんさんの家から公園まで30分かかります。8時20分までに公園に着くためには、おそくとも何時何分までに家を出なければなりませんでしょうか。



答え ( 7時50分 )





時こくと時間の  
もとめかた 10

○分前の時こく (数直線)

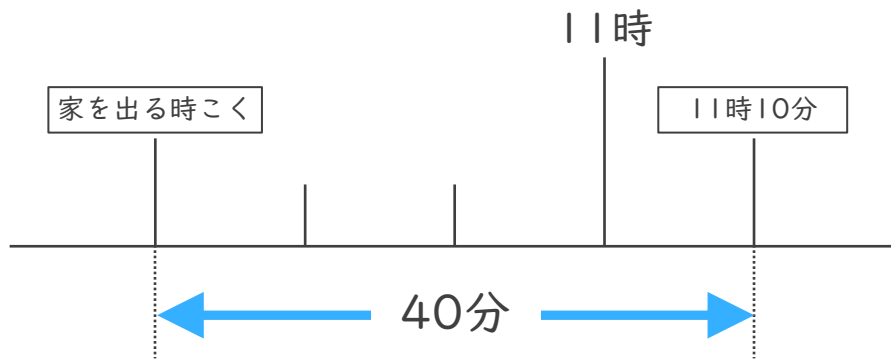


日にち： 月 日

名まえ \_\_\_\_\_

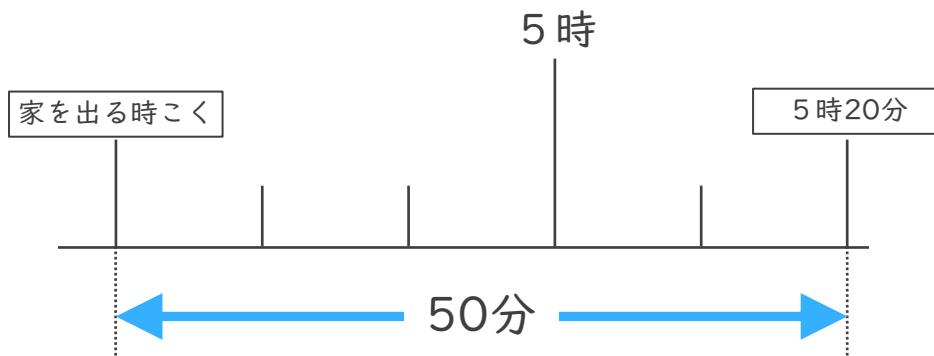
・ 次の問いに答えましょう。

- ① しょうさんの家から学校まで40分かかります。11時10分までに学校に着くためには、おそくとも何時何分までに家を出なければなりませんでしょうか。



答え ( 10時30分 )

- ② けんさんの家から公園まで50分かかります。5時20分までに公園に着くためには、おそくとも何時何分までに家を出なければなりませんでしょうか。



答え ( 4時30分 )



時こくと時間の  
もとめかた 10

○分前の時こく (数直線)

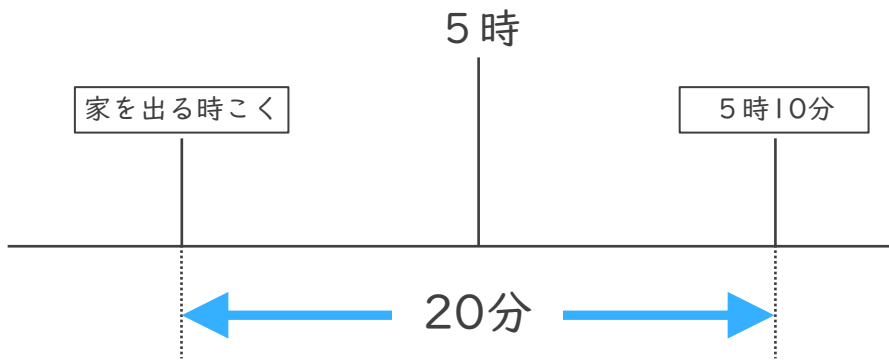


日にち： 月 日

名まえ \_\_\_\_\_

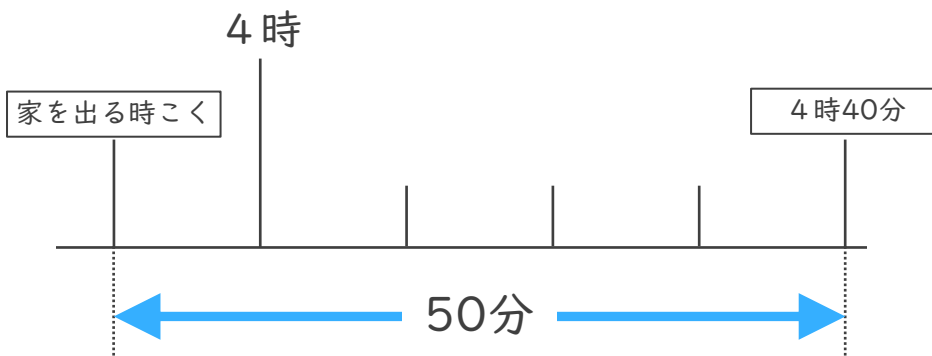
・ 次の問いに答えましょう。

- ① はるかさんの家から学校まで20分かかります。5時10分までに学校に着くためには、おそくとも何時何分までに家を出なければならないでしょうか。



答え ( 4時50分 )

- ② あいさんの家から公園まで50分かかります。4時40分までに公園に着くためには、おそくとも何時何分までに家を出なければならないでしょうか。



答え ( 3時50分 )



時こくと時間の  
もとめかた 10



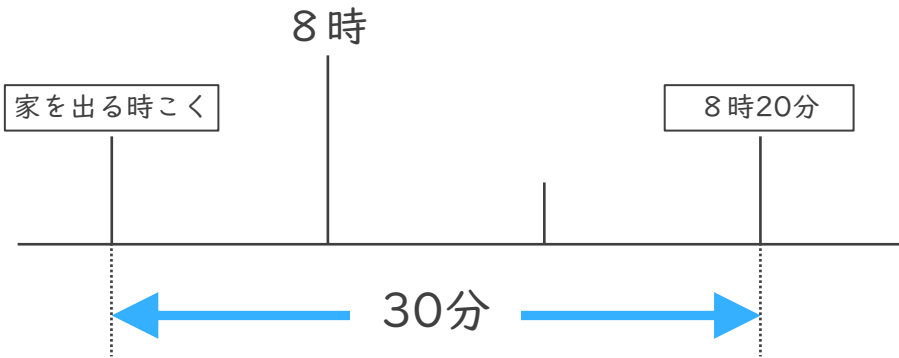
○分前の時こく (数直線)

日にち：            月            日

名まえ \_\_\_\_\_

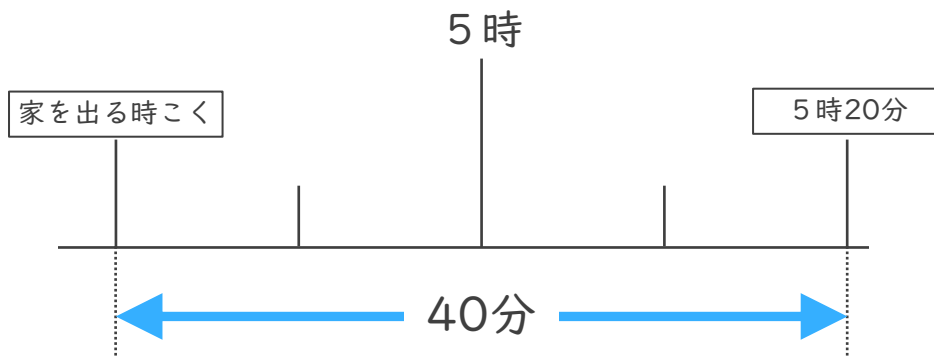
・ 次の問いに答えましょう。

- ① ゆたかさんの家から学校まで30分かかります。8時20分までに学校に着くためには、おそくとも何時何分までに家を出なければならないでしょうか。



答え (            7時50分            )

- ② けんさんの家から公園まで40分かかります。5時20分までに公園に着くためには、おそくとも何時何分までに家を出なければならないでしょうか。



答え (            4時40分            )





時こくと時間の  
もとめかた 10

● ○分前の時こく (数直線)

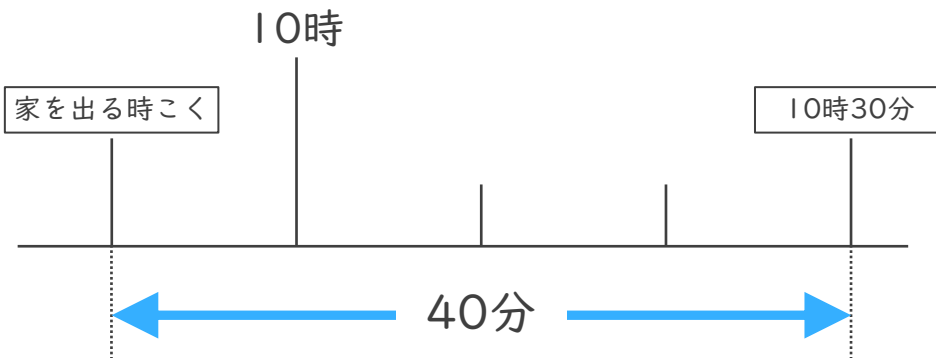


日にち： 月 日

名まえ \_\_\_\_\_

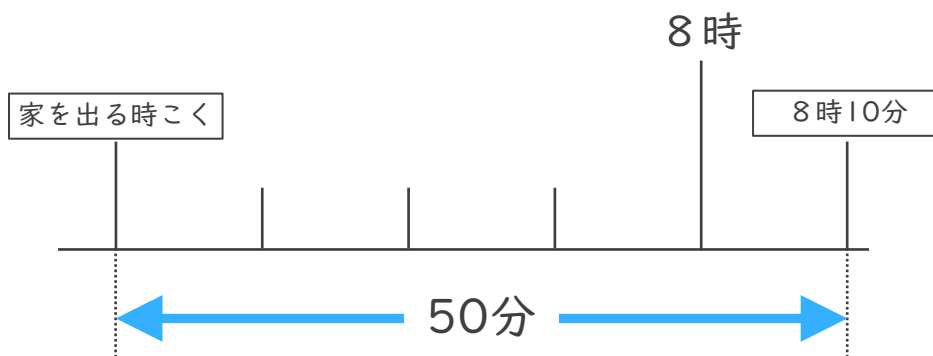
・ 次の問いに答えましょう。

- ① じゅんさんの家から学校まで40分かかります。10時30分までに学校に着くためには、おそくとも何時何分までに家を出なければなりませんでしょうか。



答え ( 9時50分 )

- ② けんさんの家から公園まで50分かかります。8時10分までに公園に着くためには、おそくとも何時何分までに家を出なければなりませんでしょうか。



答え ( 7時20分 )





時こくと時間の  
もとめかた 10

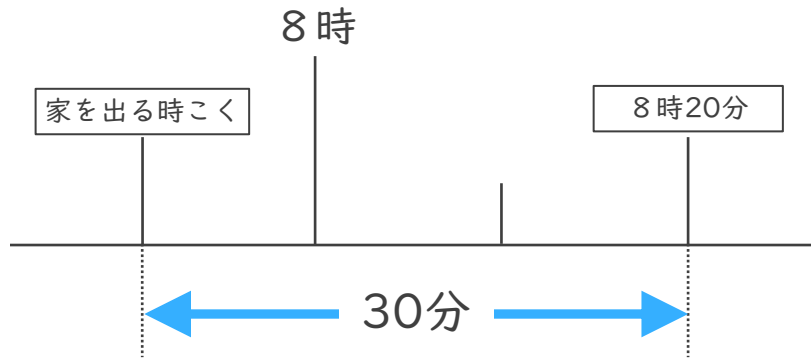
○分前の時こく (数直線)



日にち： 月 日

名まえ \_\_\_\_\_

- 1 けんさんの家から公園まで30分かかります。8時20分までに公園に着くためには、おそくとも何時何分までに家を出なければならぬでしょうか。



答え ( 7時50分 )

- 2 公園を出て40分歩いて、学校に10時20分に着きました。次の問題に答えましょう。

- ① 40分前の時計に長いはりをかきましょう。



40分前の時計



10時20分

- ② 公園を出た時こくは何時何分ですか。

答え ( 9時40分 )





時こくと時間の  
もとめかた 10

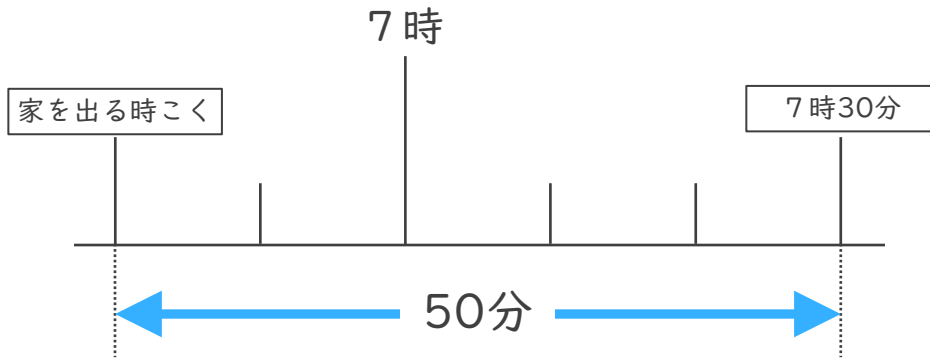
○分前の時こく (数直線)



日にち： 月 日

名まえ \_\_\_\_\_

- 1 ゆうさんの家から公園まで50分かかります。7時30分までに公園に着くためには、おそくとも何時何分までに家を出なければならぬでしょうか。




答え ( 6時40分 )

- 2 公園を出て30分歩いて、学校に8時10分に着きました。次の問題に答えましょう。

- ① 30分前の時計に長いはりをかきましょう。



30分前の時計



8時10分

- ② 公園を出た時こくは何時何分ですか。

答え ( 7時40分 )





時こくと時間の  
もとめかた 10

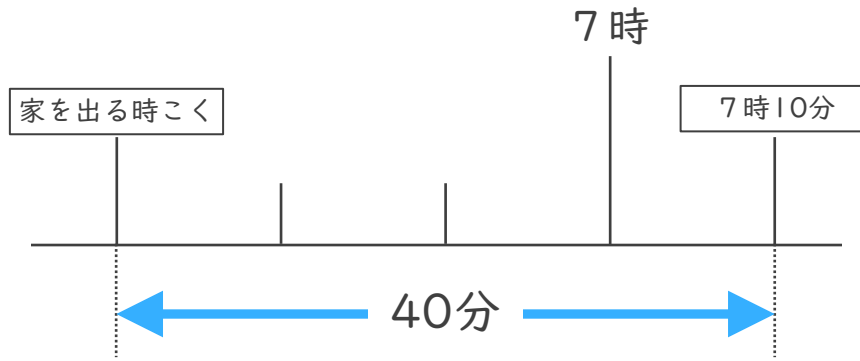


○分前の時こく (数直線)

日にち： 月 日

名まえ \_\_\_\_\_

- 1 けんさんの家から公園まで40分かかります。7時10分までに公園に着くためには、おそくとも何時何分までに家を出なければならぬでしょうか。



答え ( 6時30分 )

- 2 公園を出て50分歩いて、学校に11時20分に着きました。次の問題に答えましょう。

- ① 50分前の時計に長いはりをかきましょう。



50分前の時計



11時20分

- ② 公園を出た時こくは何時何分ですか。

答え ( 10時30分 )





時こくと時間の  
もとめかた 10

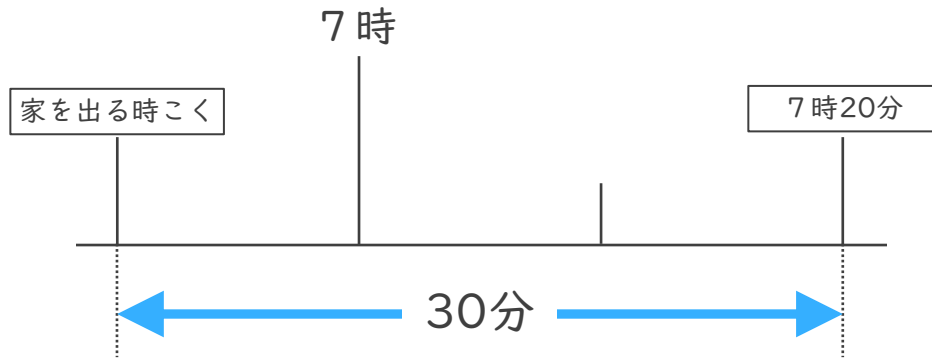


○分前の時こく (数直線)

日にち： 月 日

名まえ \_\_\_\_\_

- 1 ゆうさんの家から公園まで30分かかります。7時20分までに公園に着くためには、おそくとも何時何分までに家を出なければならぬでしょうか。



答え ( 6時50分 )

- 2 公園を出て50分歩いて、学校に6時20分に着きました。次の問題に答えましょう。

- ① 50分前の時計に長いはりをかきましょう。



50分前の時計



6時20分

- ② 公園を出た時こくは何時何分ですか。

答え ( 5時30分 )





時こくと時間の  
もとめかた 10

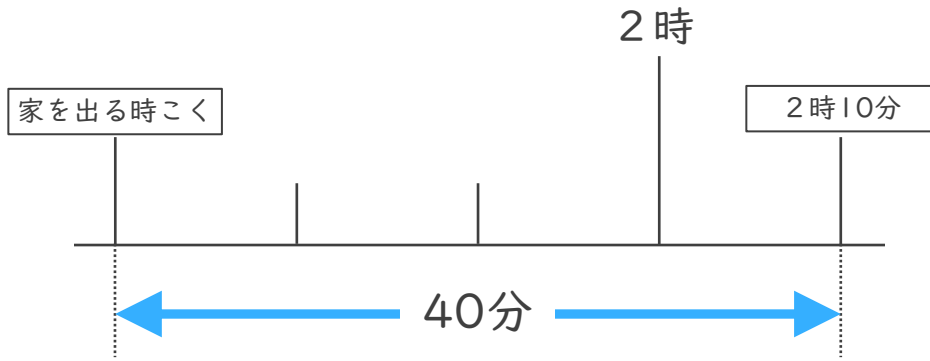
14

○分前の時こく (数直線)

日にち： 月 日

名まえ \_\_\_\_\_

- 1 ゆうさんの家から公園まで40分かかります。2時10分までに公園に着くためには、おそくとも何時何分までに家を出なければならぬでしょうか。




答え ( 1時30分 )

- 2 公園を出て30分歩いて、学校に6時20分に着きました。次の問題に答えましょう。

- ① 30分前の時計に長いはりをかきましょう。



30分前の時計



6時10分

- ② 公園を出た時こくは何時何分ですか。

答え ( 5時40分 )






時こくと時間の  
もとめかた 10 15

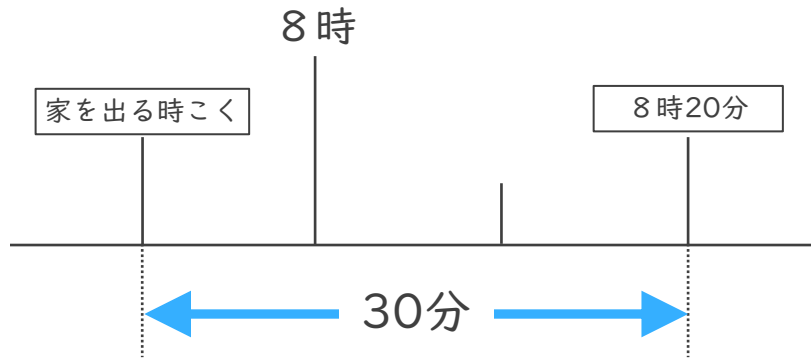
○分前の時こく (数直線)

めざせ100点!



名まえ \_\_\_\_\_

- 1 ゆうこさんの家から公園まで30分かかります。8時20分までに公園に着くためには、おそくとも何時何分までに家を出なければなりませんでしょうか。(50点)



答え ( 7時50分 )

- 2 公園を出て30分歩いて、学校に10時20分に着きました。次の問題に答えましょう。(各25点)

- ① 30分前の時計に長いはりをかきましょう。



30分前の時計



10時20分

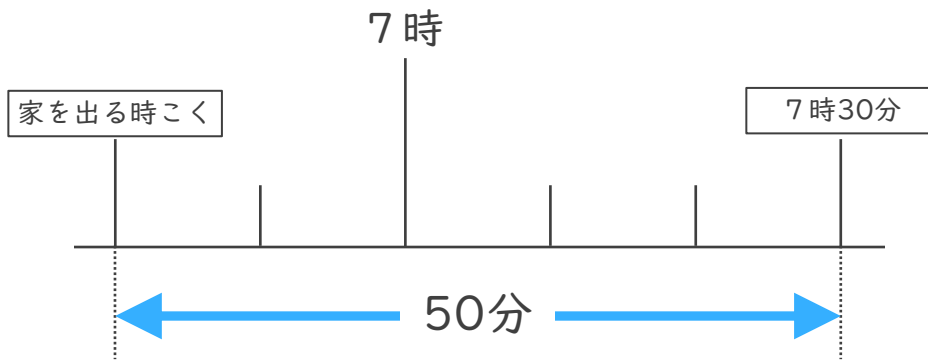
- ② 公園を出た時こくは何時何分ですか。

答え ( 9時50分 )



名まえ

- 1 ゆうさんの家から公園まで50分かかります。7時30分までに公園に着くためには、おそくとも何時何分までに家を出なければなりませんでしょうか。(50点)




答え ( 6時40分 )

- 2 公園を出て40分歩いて、学校に10時20分に着きました。次の問題に答えましょう。(各25点)

- ① 40分前の時計に長いはりをかきましょう。



40分前の時計



10時20分

- ② 公園を出た時こくは何時何分ですか。

答え ( 9時40分 )

