



時こくと時間の
もとめかた 10

○分前の時こく (数直線)

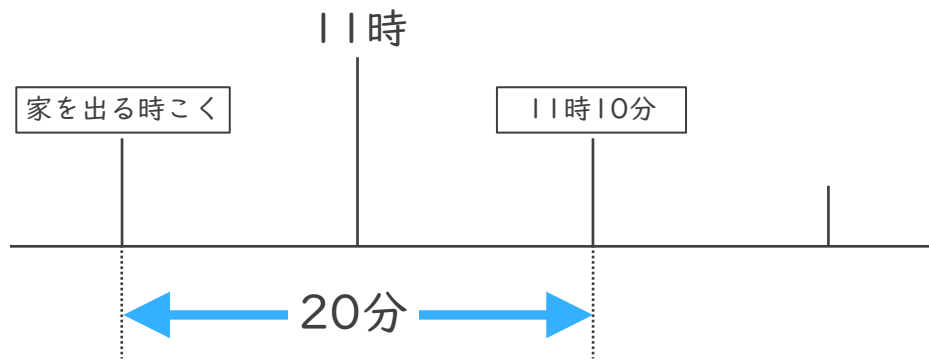


日にち： 月 日

名まえ _____

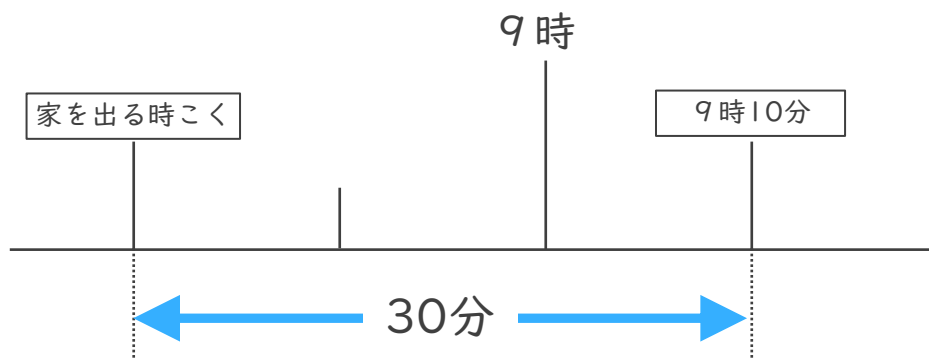
・ 次の問いに答えましょう。(うすい字はなぞりましょう。)

- ① まきさんの家から学校まで20分かかります。11時10分までに学校に着くためには、おそくとも何時何分までに家を出なければならないでしょうか。



答え (10時50分)

- ② けんさんの家から病院まで30分かかります。9時10分までに病院に着くためには、おそくとも何時何分までに家を出なければならないでしょうか。



答え ()



時こくと時間の
もとめかた 10



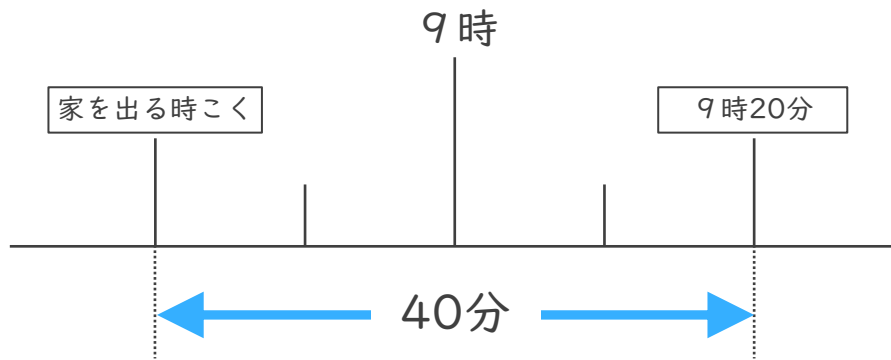
○分前の時こく (数直線)

日にち： 月 日

名まえ _____

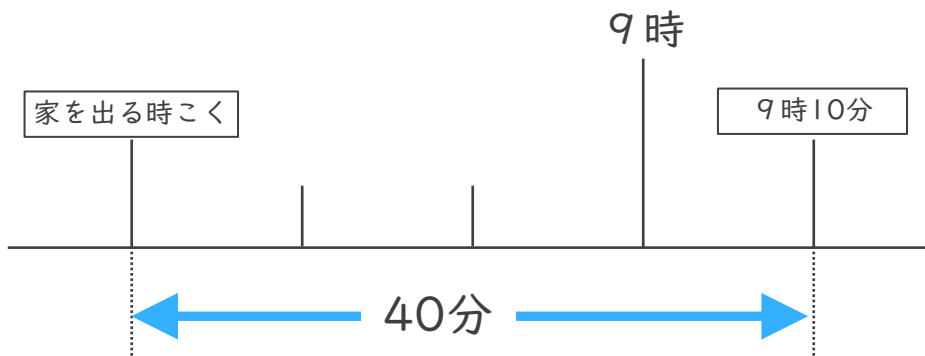
・ 次の問いに答えましょう。(うすい字はなぞりましょう。)

- ① まきさんの家から学校まで40分かかります。9時20分までに学校に着くためには、おそくとも何時何分までに家を出なければならないでしょうか。



答え (8時40分)

- ② けんさんの家から病院まで40分かかります。9時10分までに病院に着くためには、おそくとも何時何分までに家を出なければならないでしょうか。



答え ()



時こくと時間の
もとめかた 10



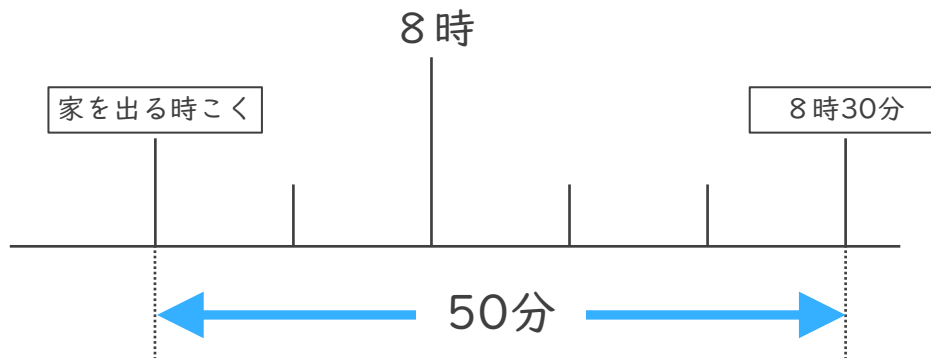
○分前の時こく (数直線)

日にち： 月 日

名まえ _____

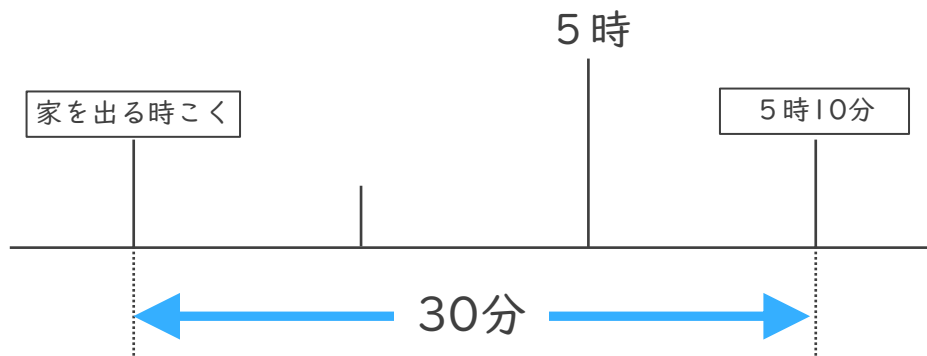
・ 次の問いに^{こた}答えましょう。

- ① ゆうさんの家から学校まで50分かかります。8時30分までに学校に着くためには、おそくとも何時何分までに家を出なければならないでしょうか。



答え ()

- ② みかさんの家から病院^{びょういん}まで30分かかります。5時10分までに病院に着くためには、おそくとも何時何分までに家を出なければならないでしょうか。



答え ()



時こくと時間の
もとめかた 10



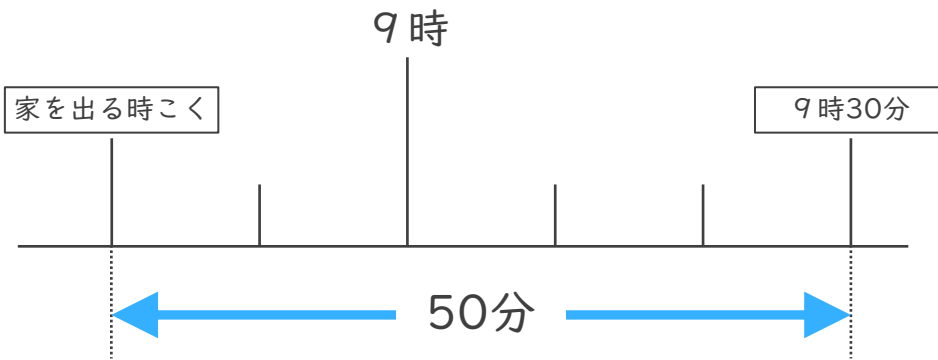
○分前の時こく (数直線)

日にち： 月 日

名まえ _____

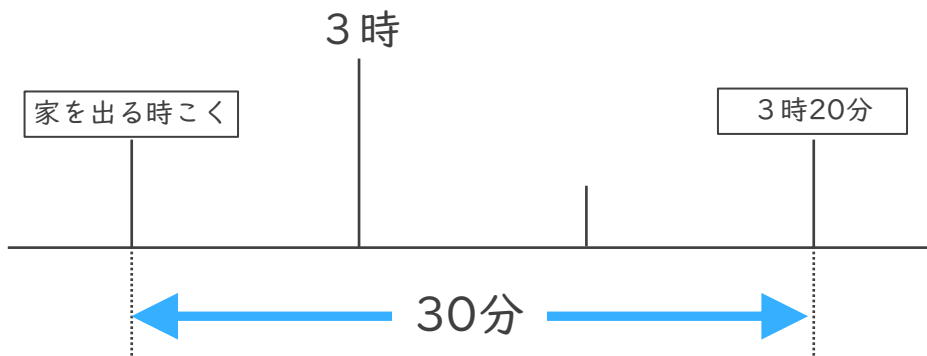
・ 次の問いに^{こた}答えましょう。

- ① まきさんの家から学校まで50分かかります。9時30分までに学校に着くためには、おそくとも何時何分までに家を出なければならないでしょうか。



答え ()

- ② けんさんの家から病院^{びょういん}まで30分かかります。3時20分までに病院に着くためには、おそくとも何時何分までに家を出なければならないでしょうか。



答え ()



時こくと時間の
もとめかた 10



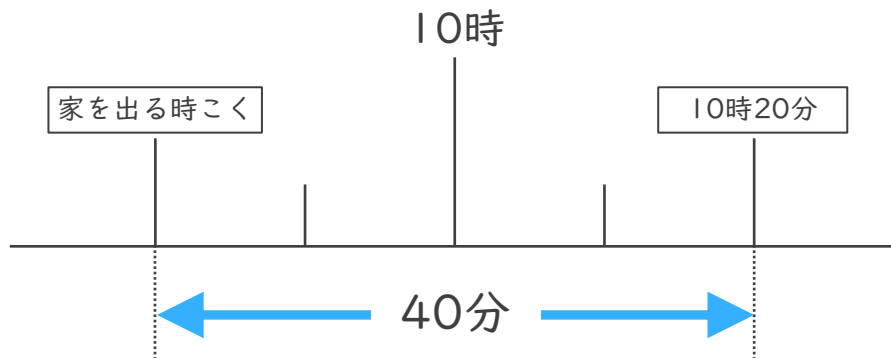
○分前の時こく (数直線)

日にち： 月 日

名まえ _____

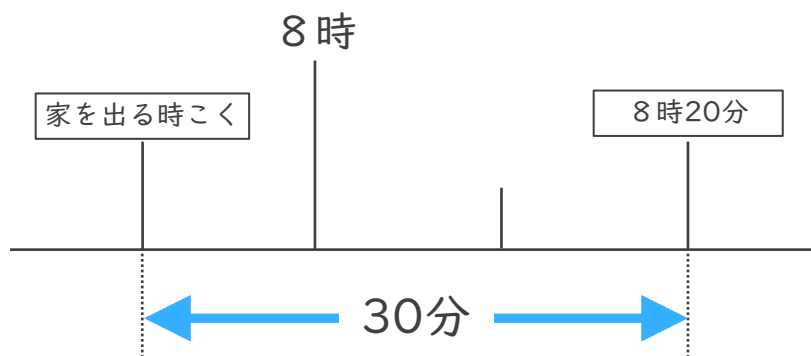
・ 次の問いに^{こた}答えましょう。

- ① しょうさんの家から学校まで40分かかります。10時20分までに学校に着くためには、おそくとも何時何分までに家を出なければならぬでしょうか。



答え ()

- ② けんさんの家から公園まで30分かかります。8時20分までに公園に着くためには、おそくとも何時何分までに家を出なければならぬでしょうか。



答え ()



時こくと時間の
もとめかた 10
○分前の時こく (数直線)

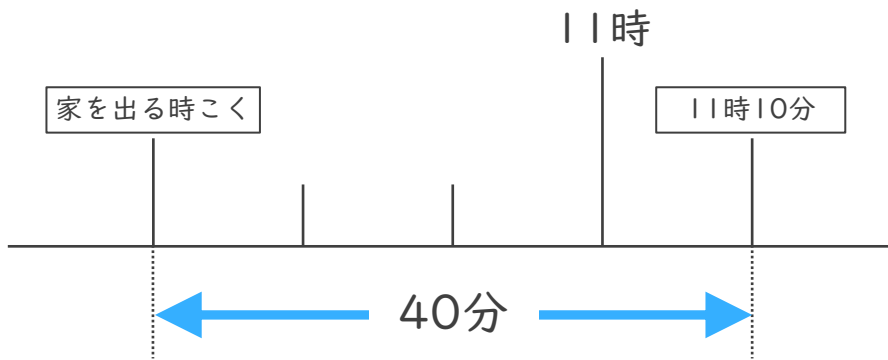


日にち： 月 日

名まえ _____

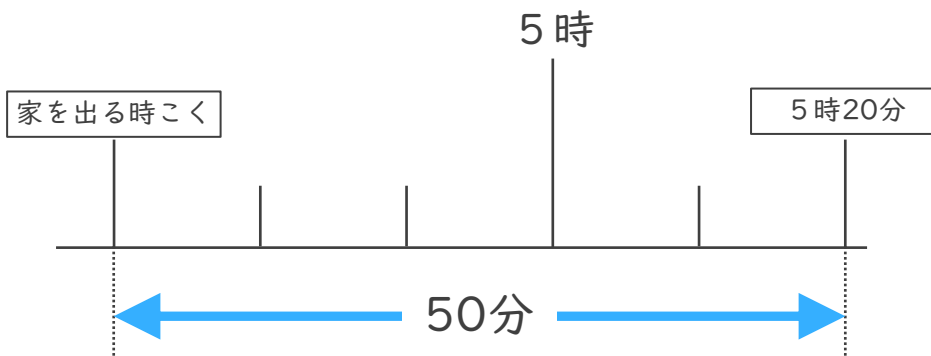
・ 次の問いに^{こた}答えましょう。

- ① しょうさんの家から学校まで40分かかります。11時10分までに学校に着くためには、おそくとも何時何分までに家を出なければならないでしょうか。



答え ()

- ② けんさんの家から公園まで50分かかります。5時20分までに公園に着くためには、おそくとも何時何分までに家を出なければならないでしょうか。



答え ()



時こくと時間の
もとめかた 10



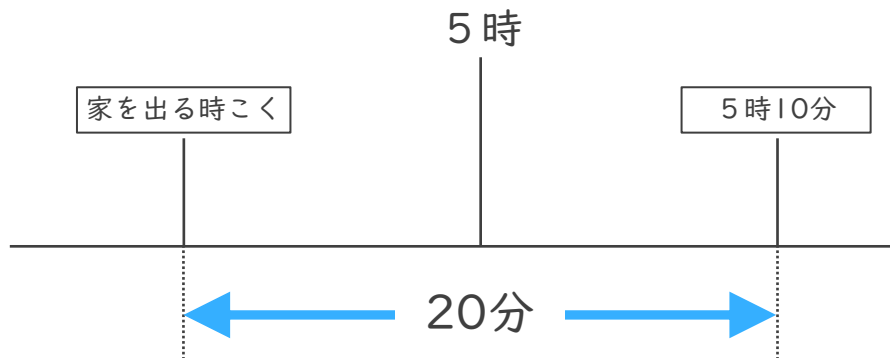
○分前の時こく (数直線)

日にち： 月 日

名まえ _____

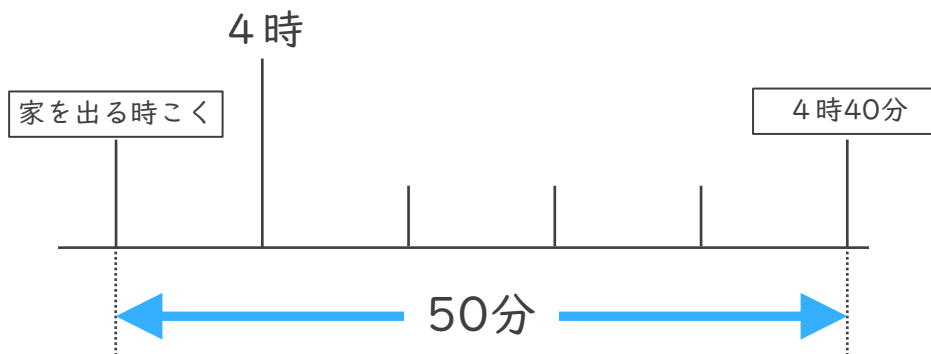
・ 次の問いに答えましょう。

- ① はるかさんの家から学校まで20分かかります。5時10分までに学校に着くためには、おそくとも何時何分までに家を出なければならぬでしょうか。



答え ()

- ② あいさんの家から公園まで50分かかります。4時40分までに公園に着くためには、おそくとも何時何分までに家を出なければならぬでしょうか。



答え ()





時こくと時間の
もとめかた 10



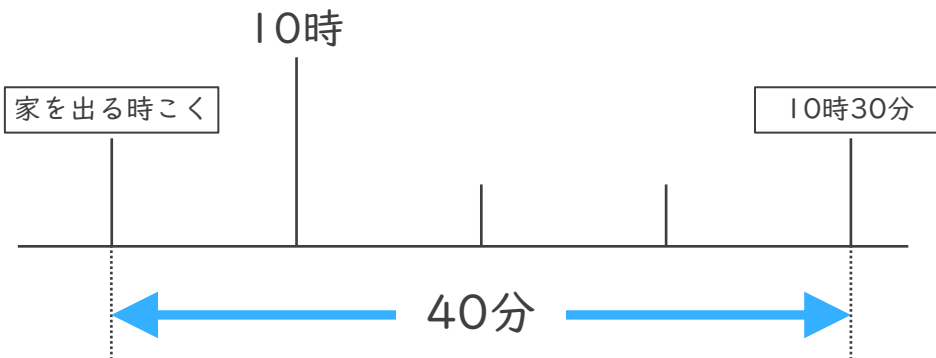
○分前の時こく (数直線)

日にち： 月 日

名まえ _____

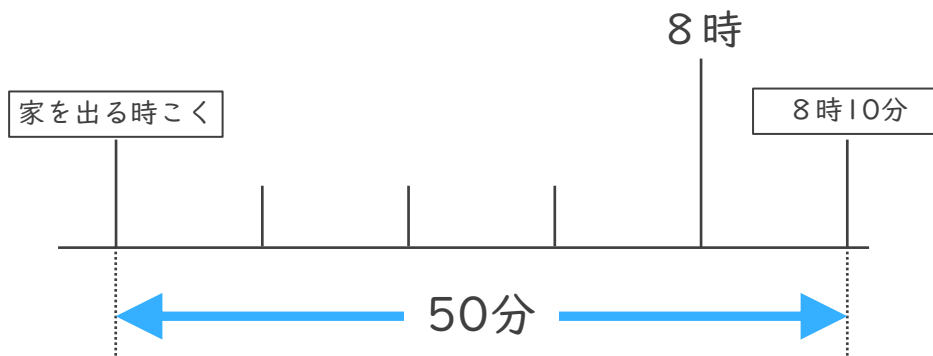
・ 次の問いに^{こた}答えましょう。

- ① ゆんさんの家から学校まで40分かかります。10時30分までに学校に着くためには、おそくとも何時何分までに家を出なければならないでしょうか。



答え ()

- ② けんさんの家から公園まで50分かかります。8時10分までに公園に着くためには、おそくとも何時何分までに家を出なければならないでしょうか。



答え ()



時こくと時間の
もとめかた 10

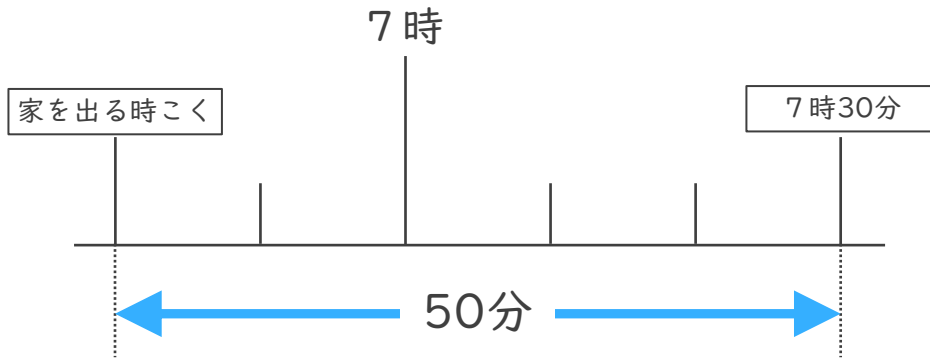
○分前の時こく (数直線)



日にち： 月 日

名まえ _____

- 1 ゆうさんの家から公園まで50分かかります。7時30分までに公園に着くためには、おそくとも何時何分までに家を出なければならないでしょうか。



答え ()

- 2 公園を出て30分歩いて、学校に8時10分に着きました。次の問題に答えましょう。

- ① 30分前の時計に長いはりをかきましょう。



30分前の時計



8時10分

- ② 公園を出た時こくは何時何分ですか。

答え ()





時こくと時間の
もとめかた 10

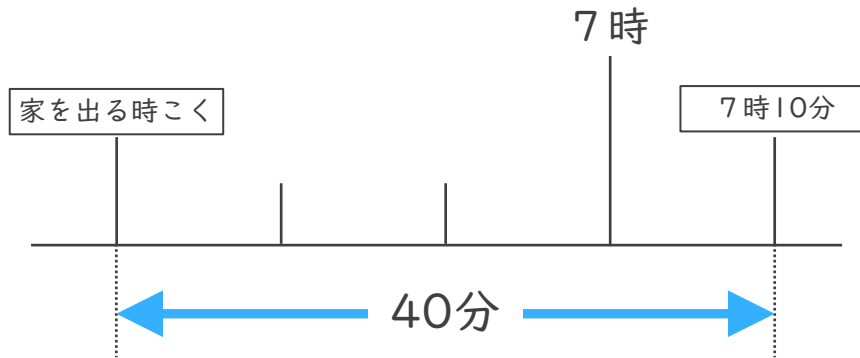


○分前の時こく (数直線)

日にち： 月 日

名まえ _____

- 1 けんさんの家から公園まで40分かかります。7時10分までに公園に着くためには、おそくとも何時何分までに家を出なければならないでしょうか。



答え ()

- 2 公園を出て50分歩いて、学校に11時20分に着きました。次の問題に答えましょう。

- ① 50分前の時計に長いはりをかきましょう。



50分前の時計



11時20分

- ② 公園を出た時こくは何時何分ですか。

答え ()



時こくと時間の
もとめかた 10

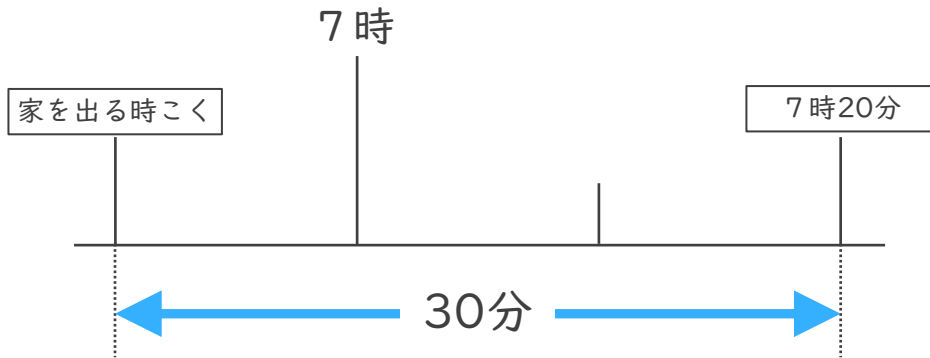
13

○分前の時こく (数直線)

日にち： 月 日

名まえ _____

- 1 ゆうさんの家から公園まで30分かかります。7時20分までに公園に着くためには、おそくとも何時何分までに家を出なければならないでしょうか。



答え ()

- 2 公園を出て50分歩いて、学校に6時20分に着きました。次の問題に答えましょう。

- ① 50分前の時計に長いはりをかきましょう。



50分前の時計



6時20分

- ② 公園を出た時こくは何時何分ですか。


答え ()



時こくと時間の
もとめかた 10 15

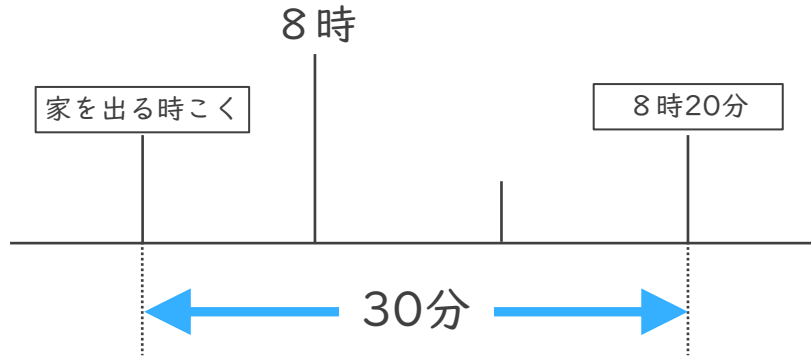
○分前の時こく (数直線)

めざせ100点!



名まえ _____

- 1 ゆうこさんの家から公園まで30分かかります。8時20分までに公園に着くためには、おそくとも何時何分までに家を出なければならぬでしょうか。(50点)



答え ()

- 2 公園を出て30分歩いて、学校に10時20分に着きました。次の問題に答えましょう。(各25点)

- ① 30分前の時計に長いはりをかきましょう。



30分前の時計



10時20分

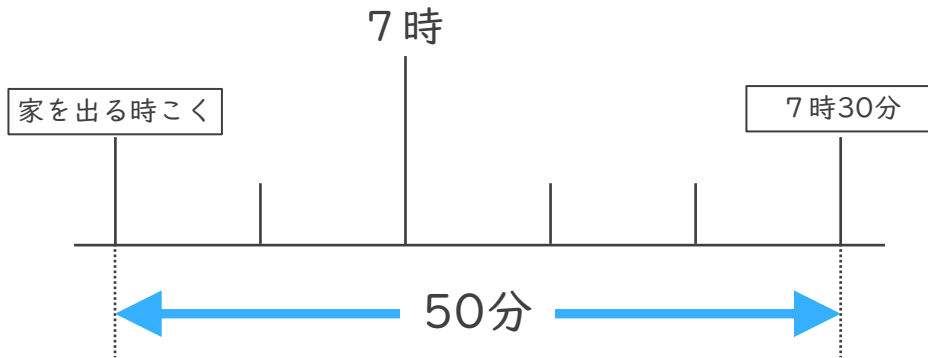
- ② 公園を出た時こくは何時何分ですか。

答え ()



名まえ

- 1 ゆうさんの家から公園まで50分かかります。7時30分までに公園に着くためには、おそくとも何時何分までに家を出なければならないでしょうか。(50点)



答え ()

- 2 公園を出て40分歩いて、学校に10時20分に着きました。次の問題に答えましょう。(各25点)

- ① 40分前の時計に長いはりをかきましょう。



40分前の時計



10時20分

- ② 公園を出た時こくは何時何分ですか。

答え ()



時こくと時間の
もとめかた 10

○分前の時こく (数直線)

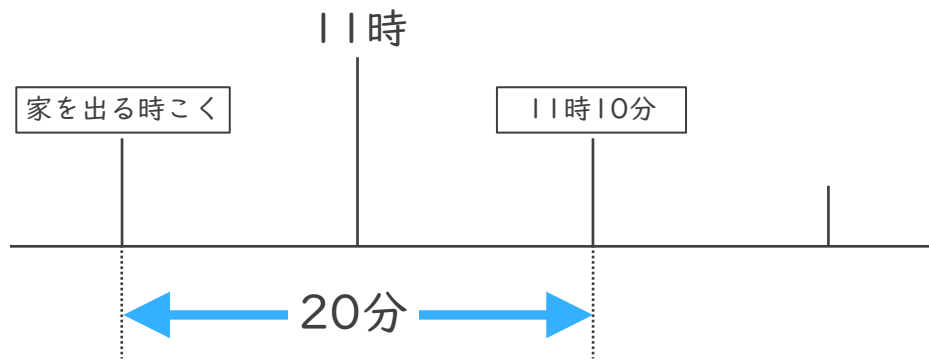


日にち： 月 日

名まえ _____

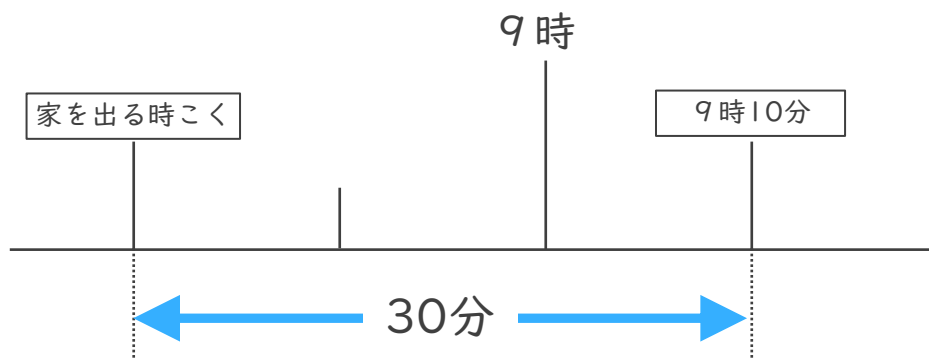
・ 次の問いに答えましょう。(うすい字はなぞりましょう。)

- ① まきさんの家から学校まで20分かかります。11時10分までに学校に着くためには、おそくとも何時何分までに家を出なければならないでしょうか。



答え (10時50分)

- ② けんさんの家から病院まで30分かかります。9時10分までに病院に着くためには、おそくとも何時何分までに家を出なければならないでしょうか。



答え (8時40分)



時こくと時間の
もとめかた 10



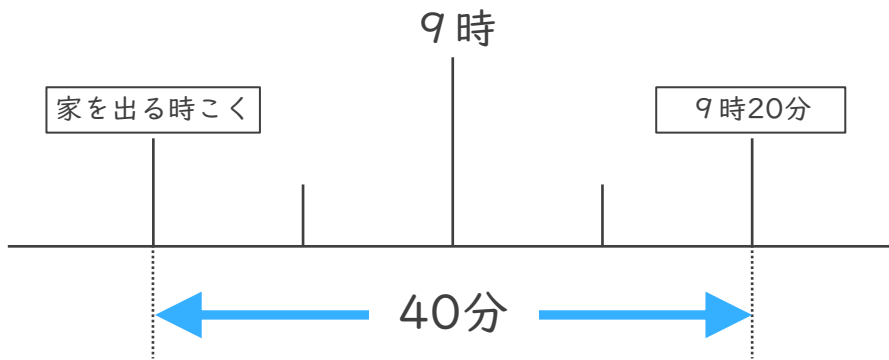
○分前の時こく (数直線)

日にち： 月 日

名まえ _____

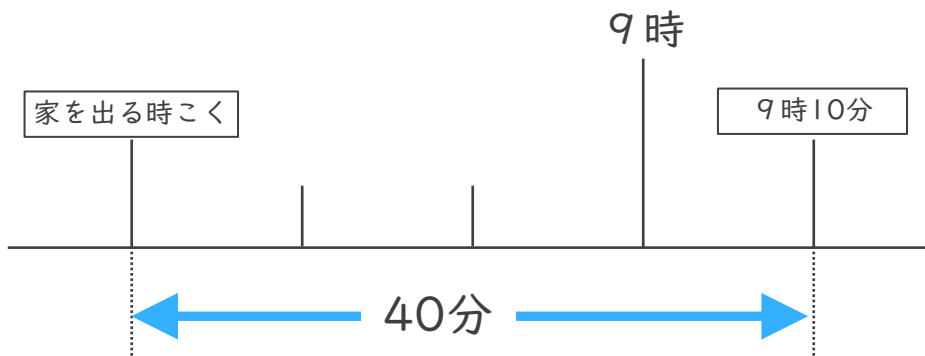
・ 次の問いに答えましょう。(うすい字はなぞりましょう。)

- ① まきさんの家から学校まで40分かかります。9時20分までに学校に着くためには、おそくとも何時何分までに家を出なければならないでしょうか。



答え (8時40分)

- ② けんさんの家から病院まで40分かかります。9時10分までに病院に着くためには、おそくとも何時何分までに家を出なければならないでしょうか。



答え (8時30分)



時こくと時間の
もとめかた 10

● ○分前の時こく (数直線)

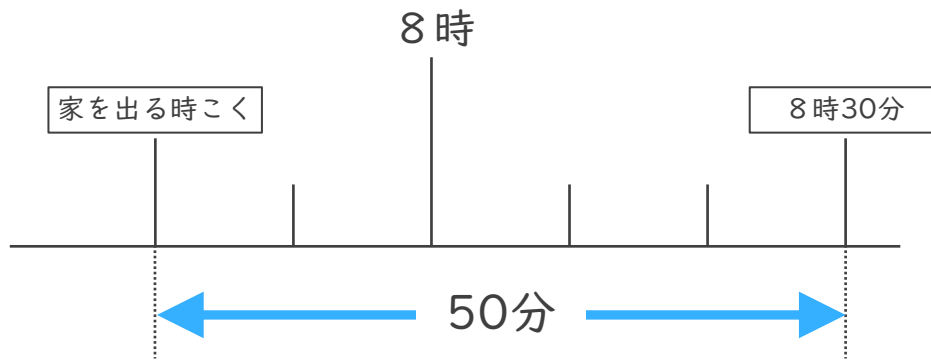


日にち： 月 日

名まえ _____

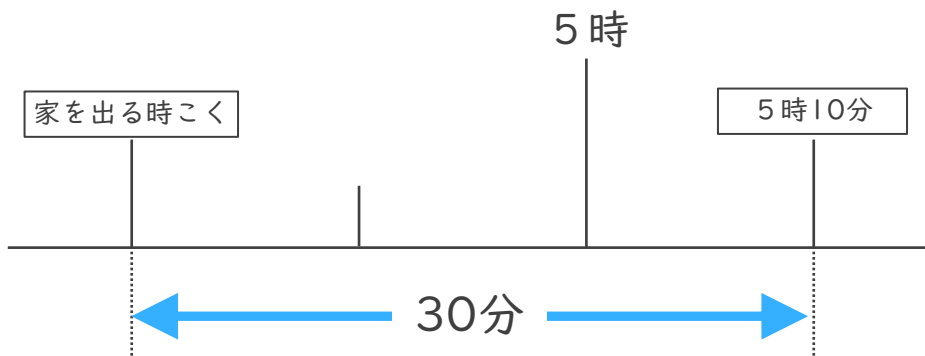
・ 次の問いに^{こた}答えましょう。

- ① ゆうさんの家から学校まで50分かかります。8時30分までに学校に着くためには、おそくとも何時何分までに家を出なければならないでしょうか。



答え (7時40分)

- ② みかさんの家から病院^{びょういん}まで30分かかります。5時10分までに病院に着くためには、おそくとも何時何分までに家を出なければならないでしょうか。



答え (4時40分)



時こくと時間の
もとめかた 10

● ○分前の時こく (数直線)

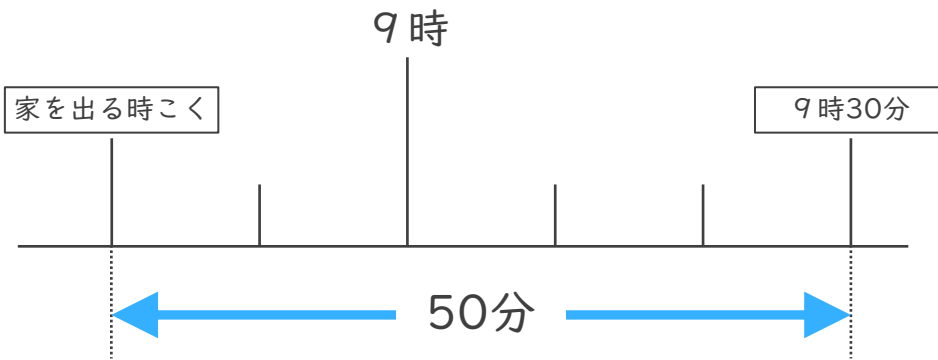


日にち： 月 日

名まえ _____

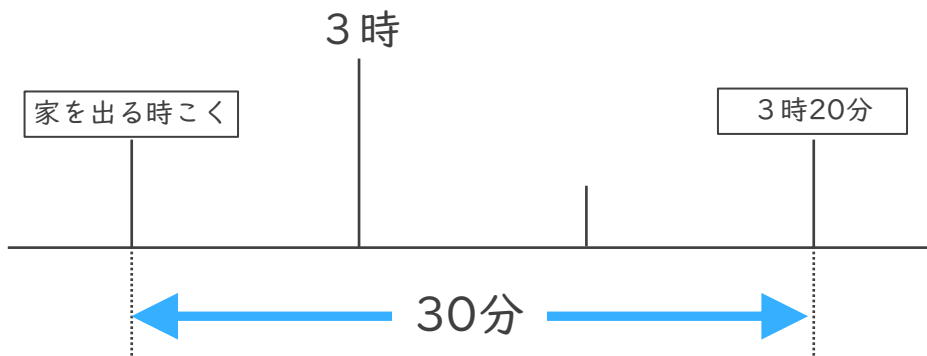
・ 次の問いに^{こた}答えましょう。

- ① まきさんの家から学校まで50分かかります。9時30分までに学校に着くためには、おそくとも何時何分までに家を出なければならないでしょうか。



答え (**8時40分**)

- ② けんさんの家から病院^{びょういん}まで30分かかります。3時20分までに病院に着くためには、おそくとも何時何分までに家を出なければならないでしょうか。



答え (**2時50分**)



時こくと時間の
もとめかた 10



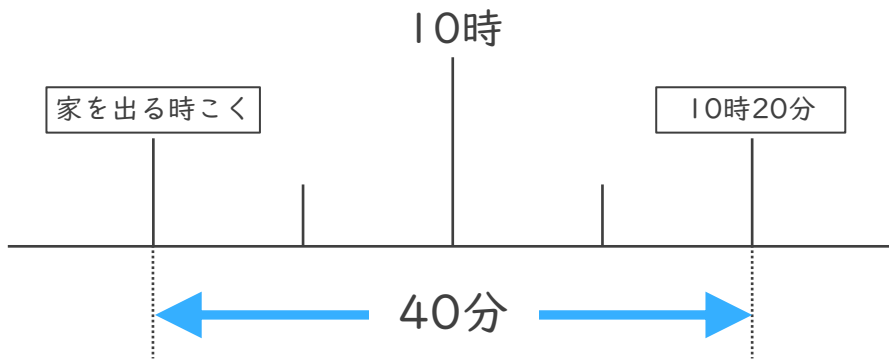
○分前の時こく (数直線)

日にち： 月 日

名まえ _____

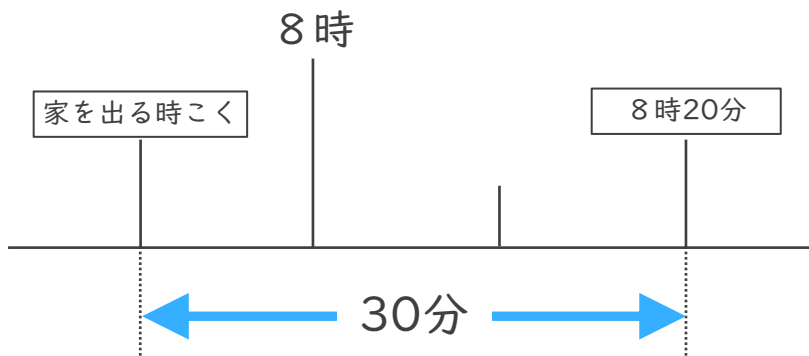
・ 次の問いに^{こた}答えましょう。

- ① しょうさんの家から学校まで40分かかります。10時20分までに学校に着くためには、おそくとも何時何分までに家を出なければならぬでしょうか。



答え (9 時 4 0 分)

- ② けんさんの家から公園まで30分かかります。8時20分までに公園に着くためには、おそくとも何時何分までに家を出なければならぬでしょうか。



答え (7 時 5 0 分)



時こくと時間の
もとめかた 10

○分前の時こく (数直線)

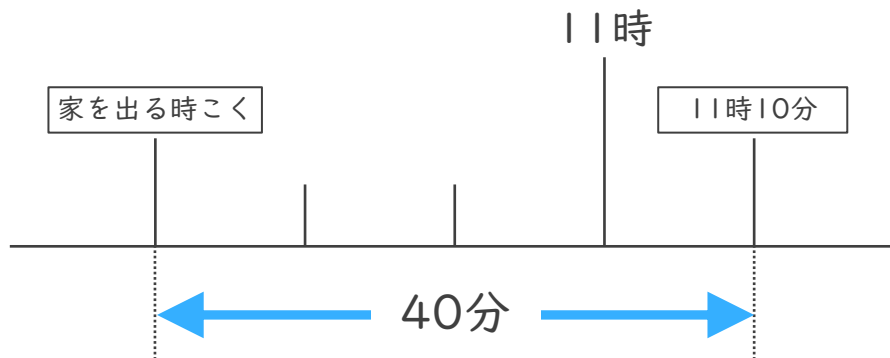


日にち： 月 日

名まえ _____

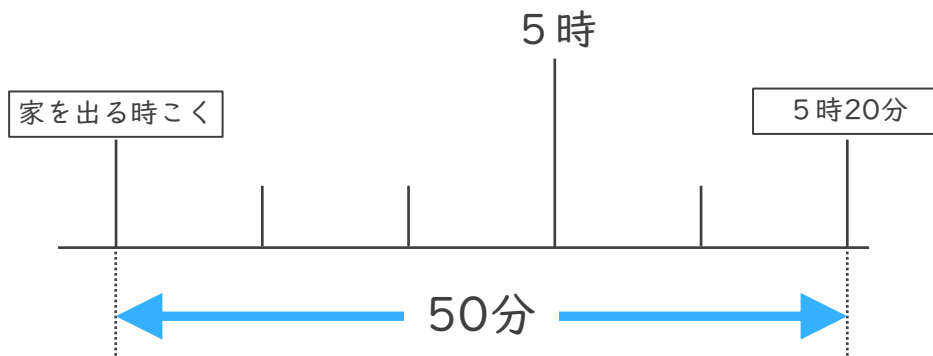
・ 次の問いに^{こた}答えましょう。

- ① しょうさんの家から学校まで40分かかります。11時10分までに学校に着くためには、おそくとも何時何分までに家を出なければならぬでしょうか。



答え (10時30分)

- ② けんさんの家から公園まで50分かかります。5時20分までに公園に着くためには、おそくとも何時何分までに家を出なければならぬでしょうか。



答え (4時30分)



時こくと時間の
もとめかた 10

○分前の時こく (数直線)

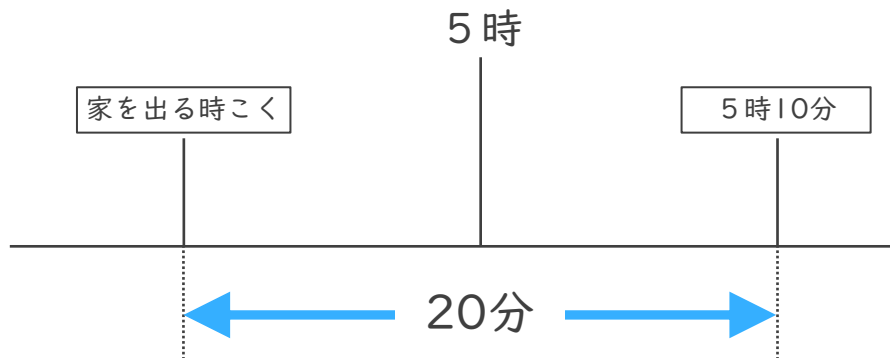


日にち： 月 日

名まえ _____

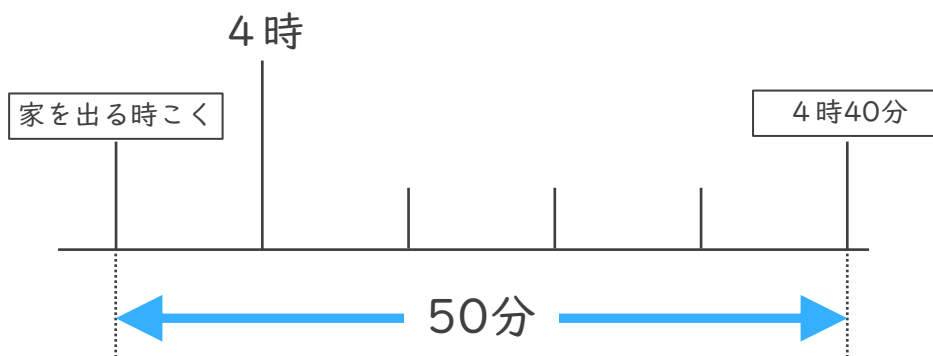
・ 次の問いに^{こた}答えましょう。

- ① はるかさんの家から学校まで20分かかります。5時10分までに学校に着くためには、おそくとも何時何分までに家を出なければならないでしょうか。



答え (**4時50分**)

- ② あいさんの家から公園まで50分かかります。4時40分までに公園に着くためには、おそくとも何時何分までに家を出なければならないでしょうか。



答え (**3時50分**)



時こくと時間の
もとめかた 10



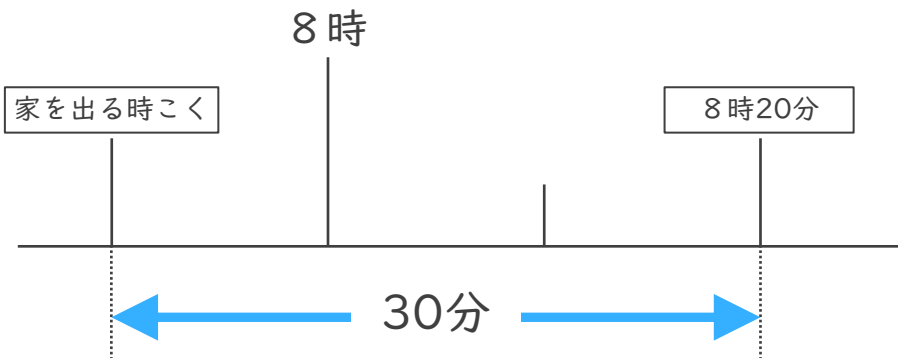
○分前の時こく (数直線)

日にち： 月 日

名まえ _____

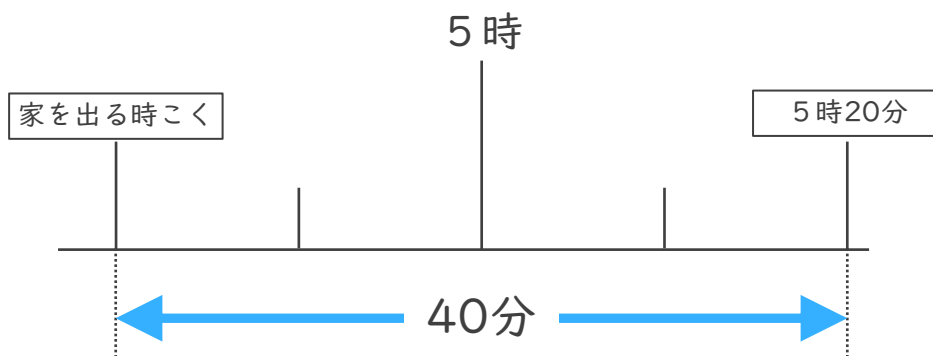
・ 次の問いに答^{こた}えましょう。

- ① ゆたかさんの家から学校まで30分かかります。8時20分までに学校に着くためには、おそくとも何時何分までに家を出なければならないでしょうか。



答え (**7時50分**)

- ② けんさんの家から公園まで40分かかります。5時20分までに公園に着くためには、おそくとも何時何分までに家を出なければならないでしょうか。



答え (**4時40分**)



時こくと時間の
もとめかた 10

● ○分前の時こく (数直線)

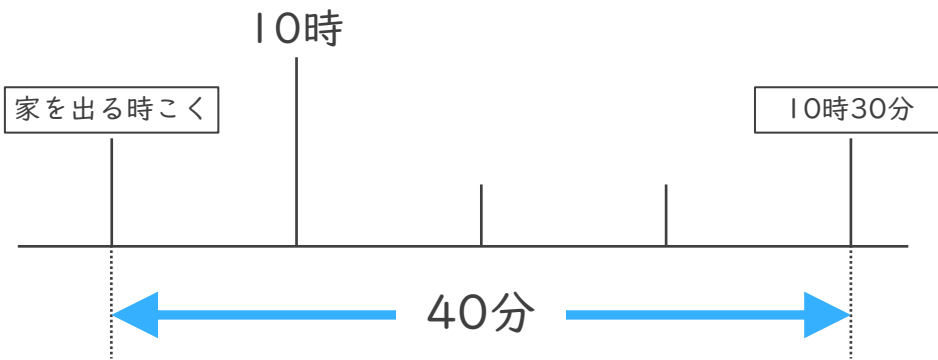


日にち： 月 日

名まえ _____

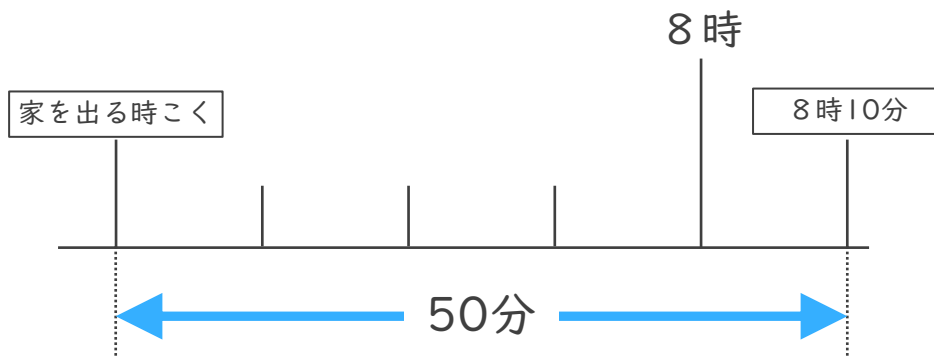
・ 次の問いに^{こた}答えましょう。

- ① ゆんさんの家から学校まで40分かかります。10時30分までに学校に着くためには、おそくとも何時何分までに家を出なければならないでしょうか。



答え (9時50分)

- ② けんさんの家から公園まで50分かかります。8時10分までに公園に着くためには、おそくとも何時何分までに家を出なければならないでしょうか。



答え (7時20分)



時こくと時間の
もとめかた 10

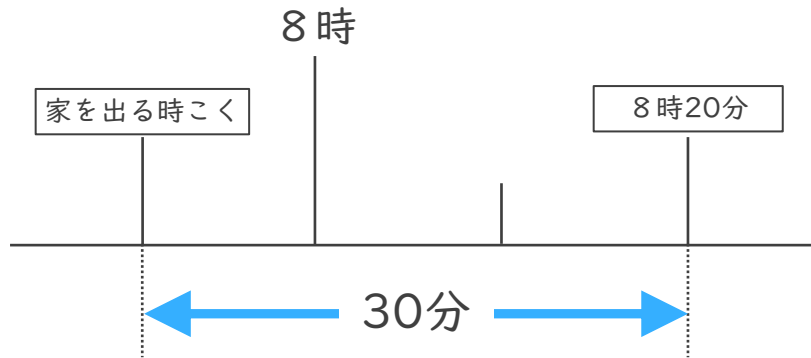


○分前の時こく (数直線)

日にち： 月 日

名まえ _____

- 1 けんさんの家から公園まで30分かかります。8時20分までに公園に着くためには、おそくとも何時何分までに家を出なければならないでしょうか。



答え (7時50分)

- 2 公園を出て40分歩いて、学校に10時20分に着きました。次の問題に答えましょう。

- ① 40分前の時計に長いはりをかきましょう。



40分前の時計



10時20分

- ② 公園を出た時こくは何時何分ですか。

答え (9時40分)





時こくと時間の もとめかた 10

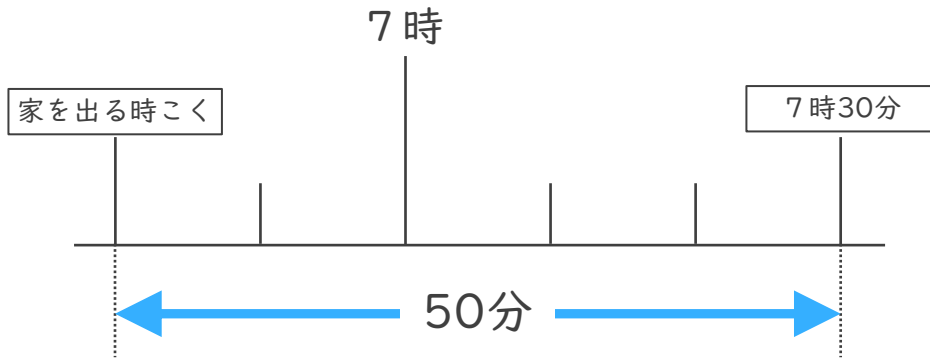
● ○分前の時こく (数直線)



日にち： 月 日

名まえ _____

- 1 ゆうさんの家から公園まで50分かかります。7時30分までに公園に着くためには、おそくとも何時何分までに家を出なければならないでしょうか。



答え (6時40分)

- 2 公園を出て30分歩いて、学校に8時10分に着きました。次の問題に答えましょう。

- ① 30分前の時計に長いはりをかきましょう。



30分前の時計



8時10分

- ② 公園を出た時こくは何時何分ですか。

答え (7時40分)





時こくと時間の
もとめかた 10

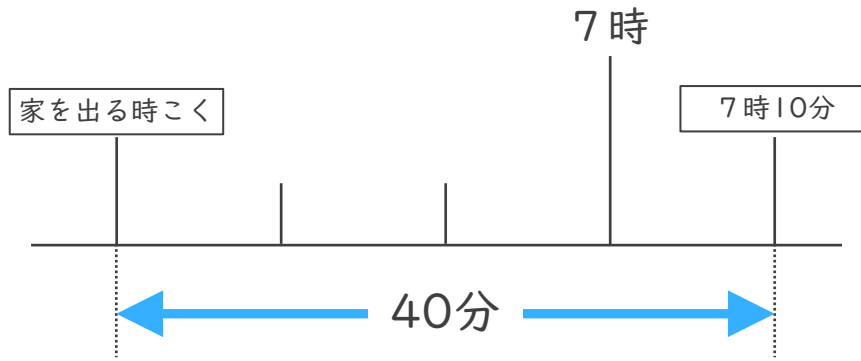


○分前の時こく (数直線)

日にち： 月 日

名まえ _____

- 1 けんさんの家から公園まで40分かかります。7時10分までに公園に着くためには、おそくとも何時何分までに家を出なければならぬでしょうか。



答え (6時30分)

- 2 公園を出て50分歩いて、学校に11時20分に着きました。次の問題に答えましょう。

- ① 50分前の時計に長いはりをかきましょう。



50分前の時計



11時20分

- ② 公園を出た時こくは何時何分ですか。

答え (10時30分)





時こくと時間の
もとめかた 10

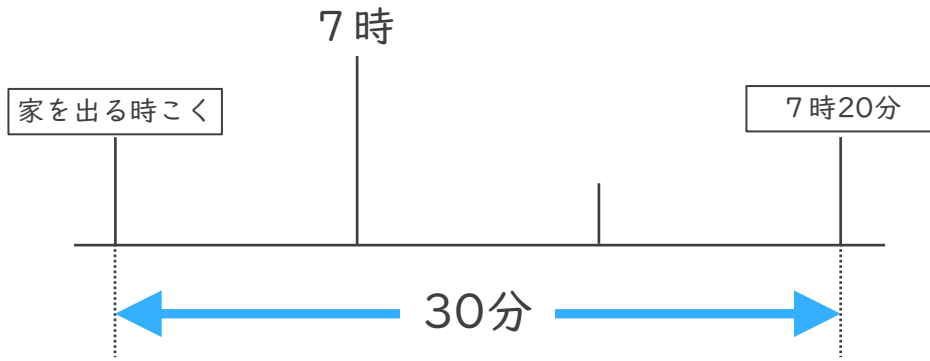


○分前の時こく (数直線)

日にち： 月 日

名まえ _____

- 1 ゆうさんの家から公園まで30分かかります。7時20分までに公園に着くためには、おそくとも何時何分までに家を出なければならないでしょうか。



答え (6時50分)

- 2 公園を出て50分歩いて、学校に6時20分に着きました。次の問題に答えましょう。

- ① 50分前の時計に長いはりをかきましょう。



50分前の時計

6時20分

- ② 公園を出た時こくは何時何分ですか。

答え (5時30分)





時こくと時間の
もとめかた 10

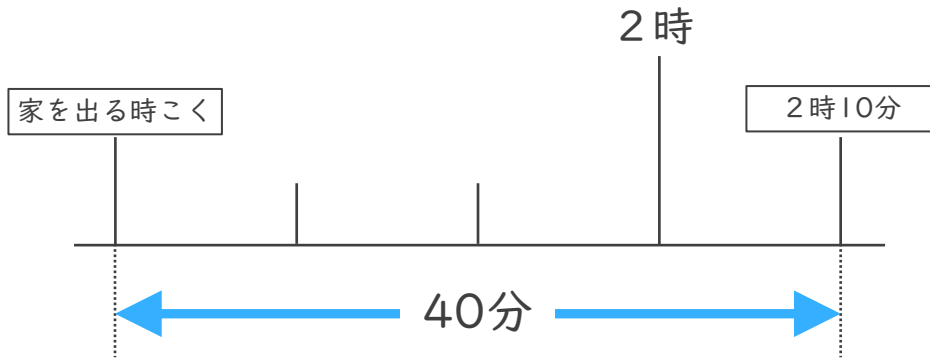
○分前の時こく (数直線)



日にち： 月 日

名まえ _____

- 1 ゆうさんの家から公園まで40分かかります。2時10分までに公園に着くためには、おそくとも何時何分までに家を出なければならないでしょうか。



答え (1時30分)

- 2 公園を出て30分歩いて、学校に6時10分に着きました。次の問題に答えましょう。

- ① 30分前の時計に長いはりをかきましょう。



30分前の時計



6時10分

- ② 公園を出た時こくは何時何分ですか。

答え (5時40分)






時こくと時間の
もとめかた 10 15

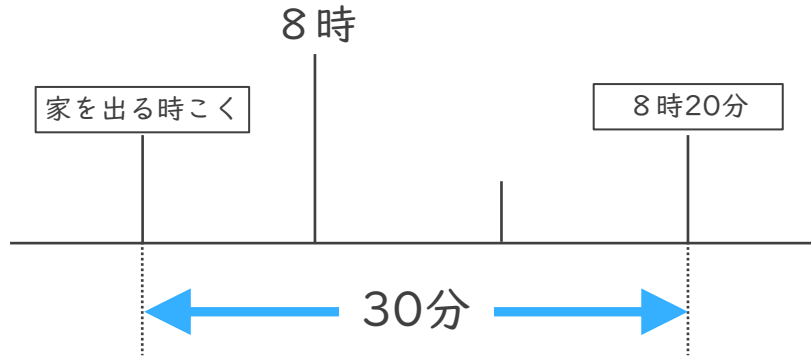
○分前の時こく (数直線)

めざせ100点!



名まえ _____

- 1 ゆうこさんの家から公園まで30分かかります。8時20分までに公園に着くためには、おそくとも何時何分までに家を出なければならぬでしょうか。(50点)



答え (7時50分)

- 2 公園を出て30分歩いて、学校に10時20分に着きました。次の問題に答えましょう。(各25点)

- ① 30分前の時計に長いはりをかきましょう。



30分前の時計



10時20分

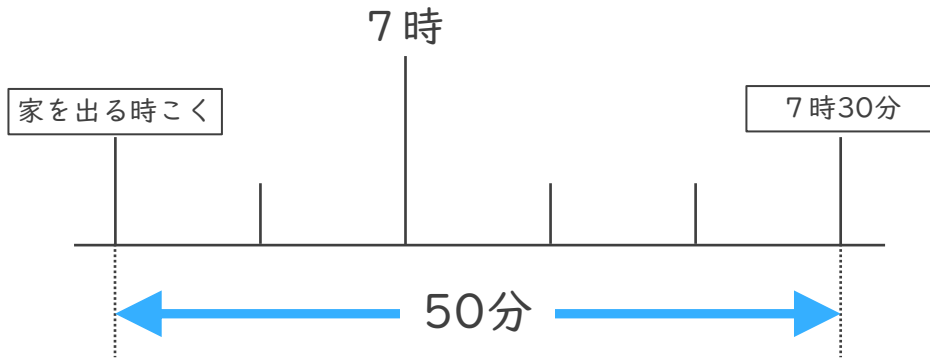
- ② 公園を出た時こくは何時何分ですか。

答え (9時50分)



名まえ

- 1 ゆうさんの家から公園まで50分かかります。7時30分までに公園に着くためには、おそくとも何時何分までに家を出なければならないでしょうか。(50点)




答え (6時40分)

- 2 公園を出て40分歩いて、学校に10時20分に着きました。次の問題に答えましょう。(各25点)

- ① 40分前の時計に長いはりをかきましょう。



40分前の時計



10時20分

- ② 公園を出た時こくは何時何分ですか。

答え (9時40分)

