



時こくと時間の  
もとめかた 19

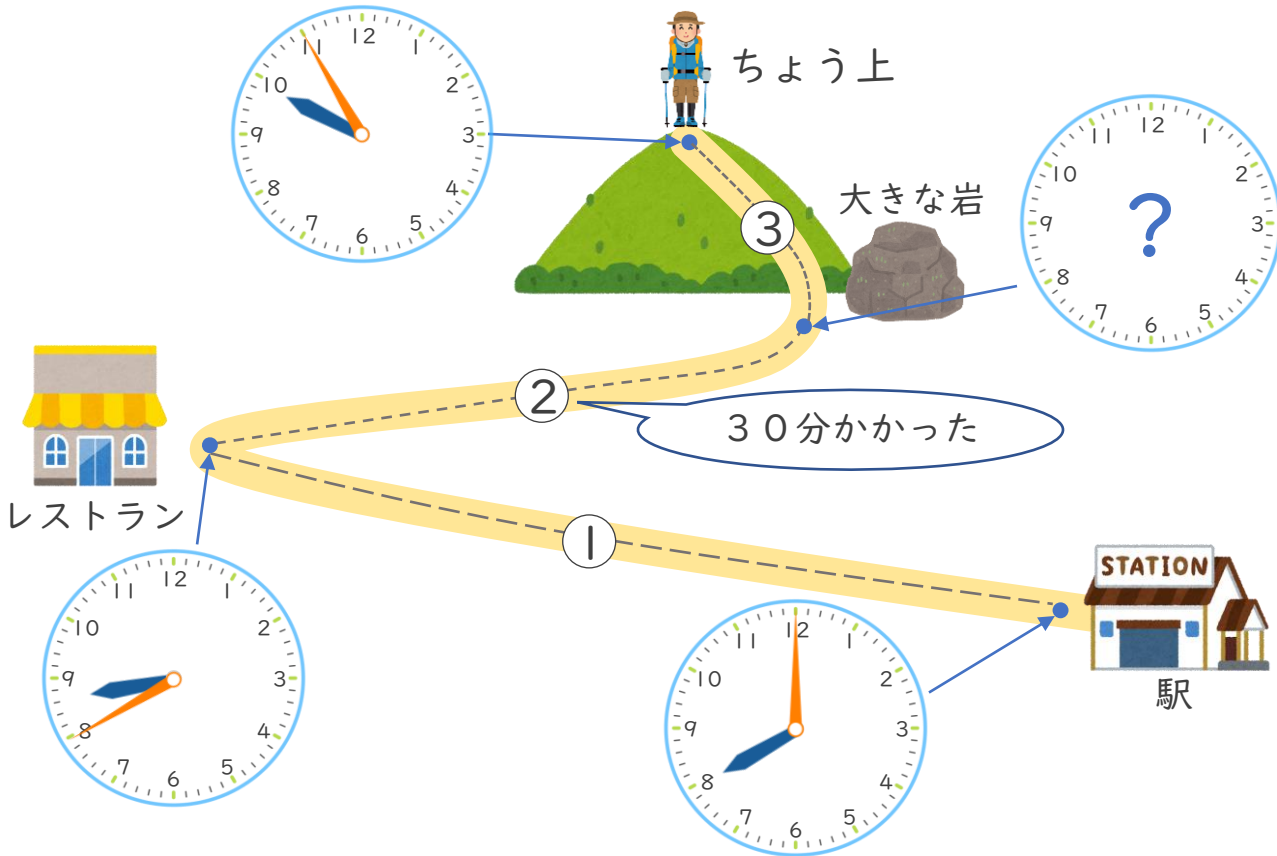
いちばん時間がかかった道



日にち： 月 日

名まえ \_\_\_\_\_

駅から山のちよう上まで歩きました。いちばん時間がかかった道はどこでしょう。□にあてはまる数や、①～③の記号を書きましょう。



・①は8時から8時40分までだから、分 かった。

・②にかかった時間は 30分だから、

大きな岩に着いた時こくは  時  分…(★)

・③は(★)の時こくから9時55分までだから、

かった時間は、 分。

⇒①～③の中でいちばん時間がかかった道は、





時こくと時間の  
もとめかた 19

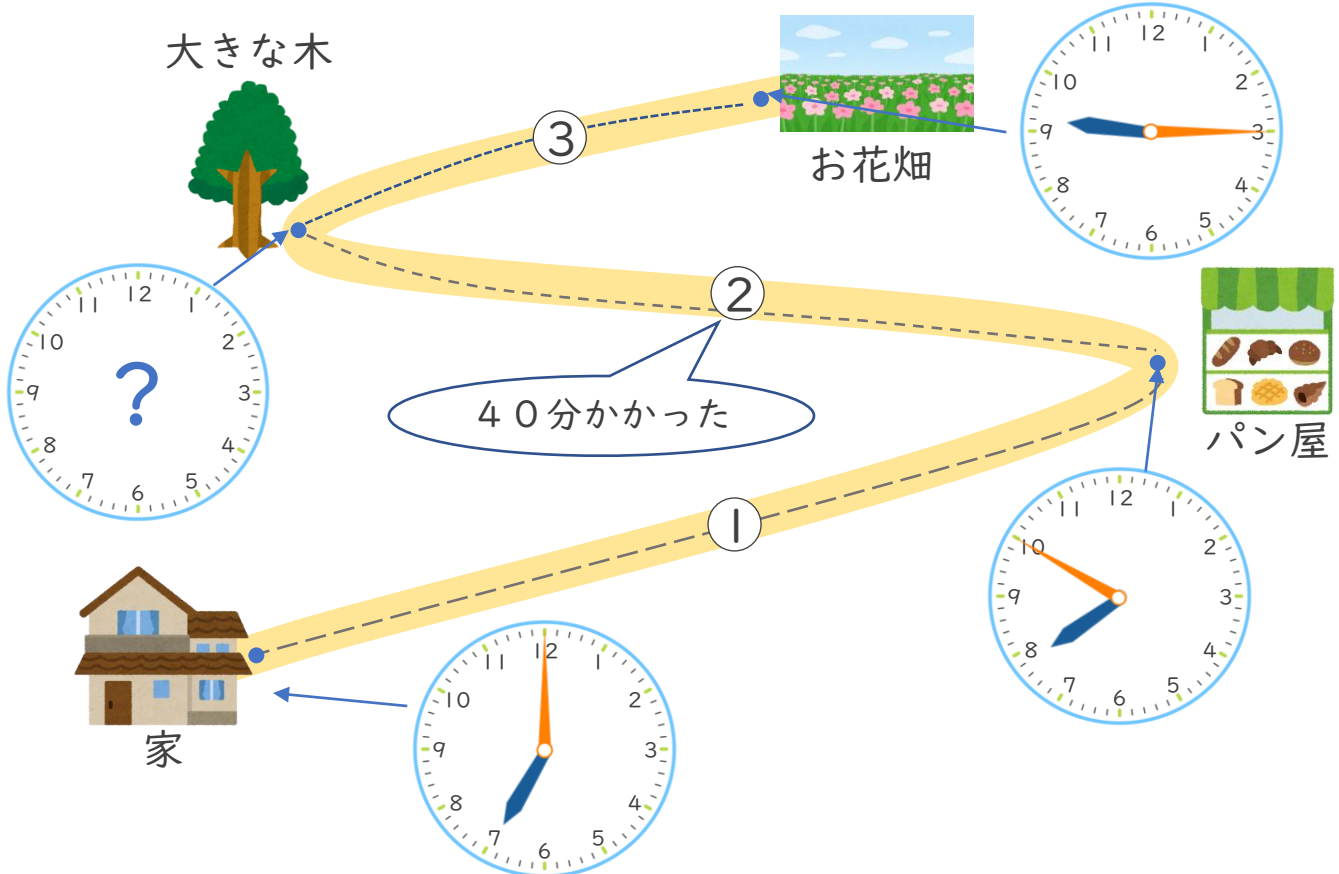
いちばん時間がかかった道



日にち： 月 日

名まえ \_\_\_\_\_

家からお花畑まで歩きました。いちばん時間がかかった道はどこでしょう。 にあてはまる数や、①～③の記号を書きましょう。



・①は7時から7時50分までだから、 分 かった。

・②にかかった時間は 40分だから、

大きな木に着いた時こくは  時  分…(★)

・③は(★)の時こくから9時15分までだから、

かかった時間は、 分。

⇒①～③の中でいちばん時間がかかった道は、





時こくと時間の  
もとめかた 19

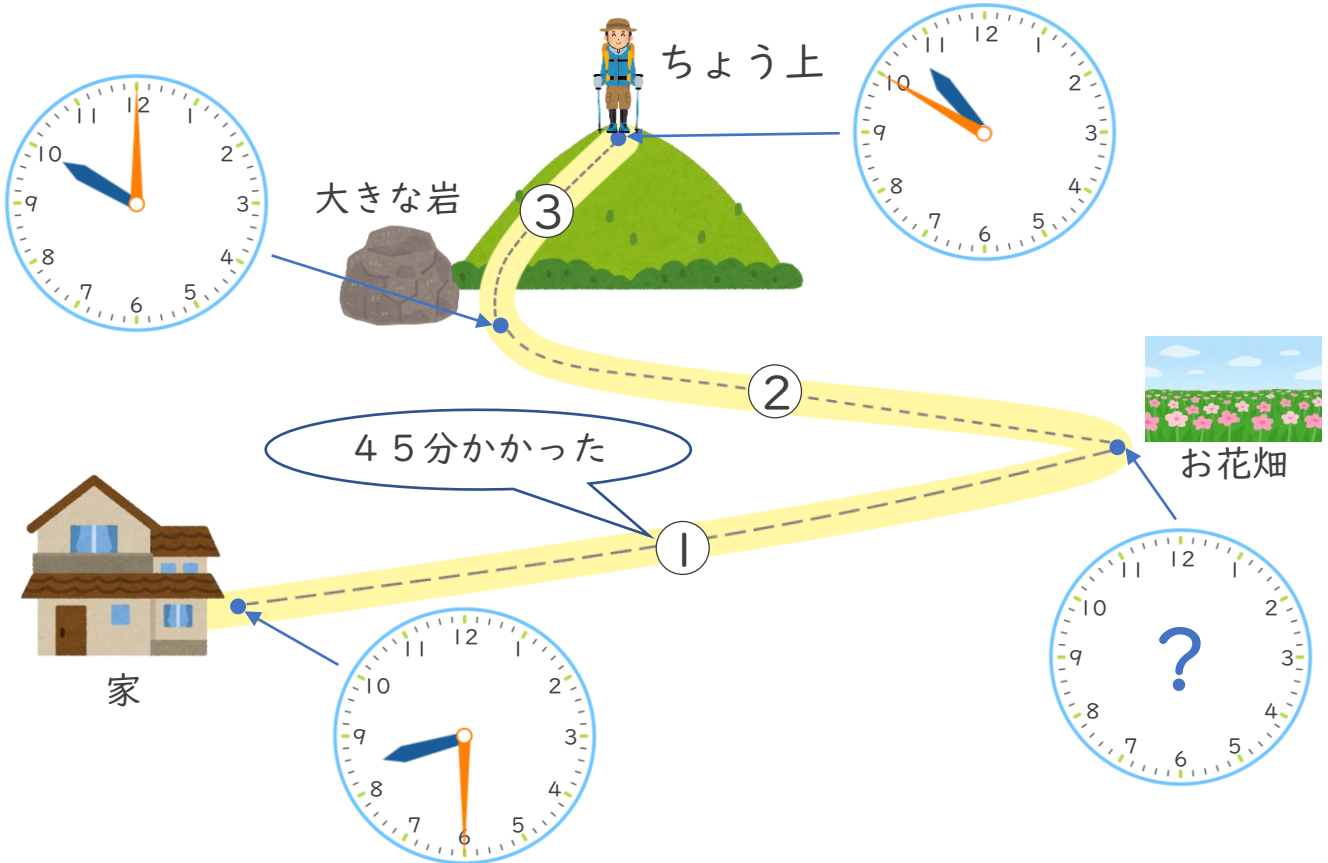
いちばん時間がかかった道



日にち： 月 日

名まえ \_\_\_\_\_

家から山のちよう上まで歩きました。いちばん時間がかかった道はどこでしょう。□にあてはまる数や、①～③の記号きごうを書きましょう。



・①にかかった時間は 45 分だから、

お花畑に着いた時こくは  時  分…(★)

・②は(★)の時こくから10時までだから、

かかった時間は、 分。

・③は10時から10時50分までだから、 分 かった。

⇒①～③の中でいちばん時間がかかった道は、





時こくと時間の  
もとめかた 19

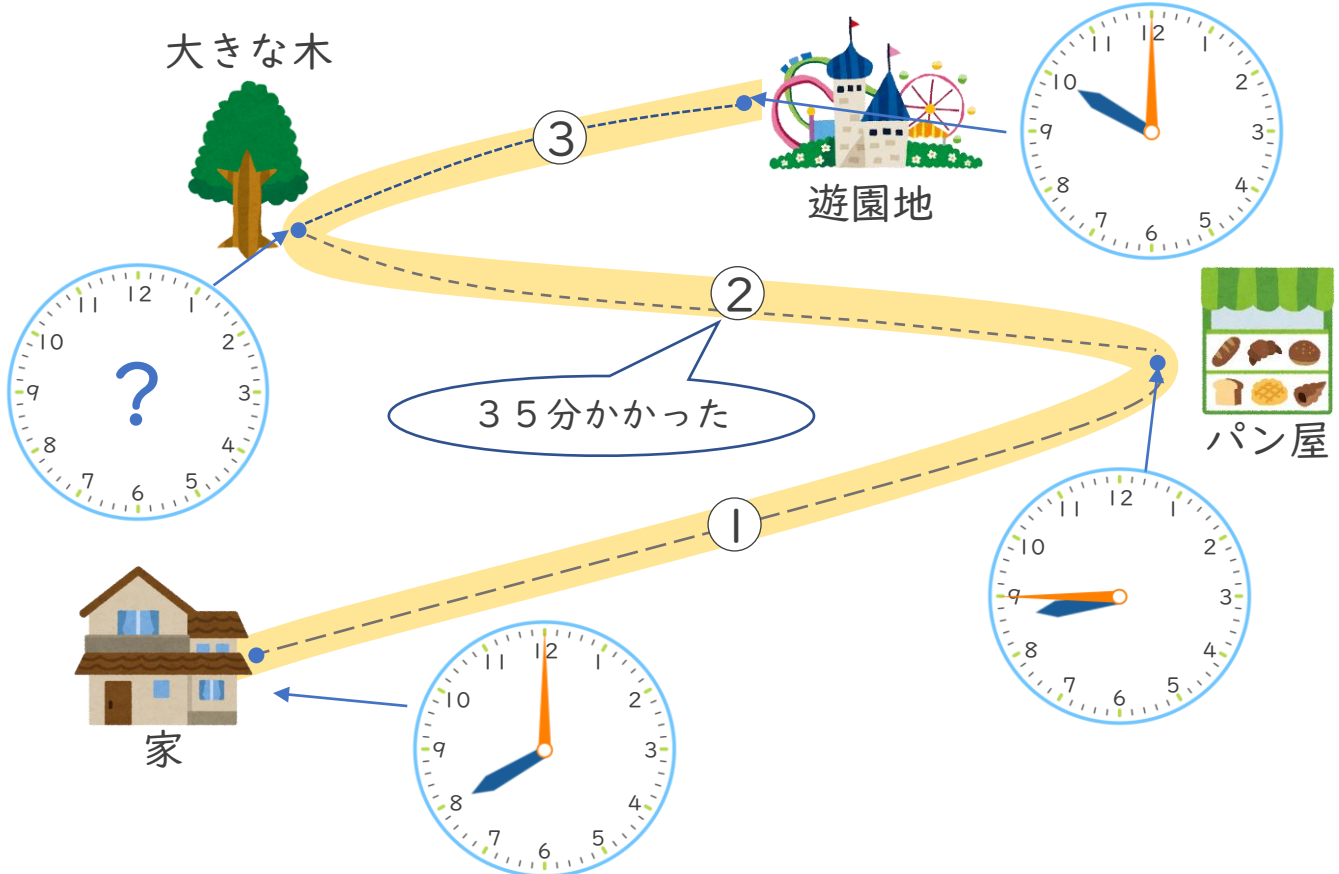
いちばん時間がかかった道



日にち： 月 日

名まえ \_\_\_\_\_

家から遊園地まで歩きました。いちばん時間がかかった道はどこでしょう。 にあてはまる数や、①～③の記号を書きましょう。



・①は8時から8時45分までだから、 分 かった。

・②にかかった時間は 35 分だから、

大きな木に着いた時こくは  時  分…(★)

・③は(★)の時こくから10時までだから、

かった時間は、 分。

⇒①～③の中でいちばん時間がかかった道は、





時こくと時間の  
もとめかた 19

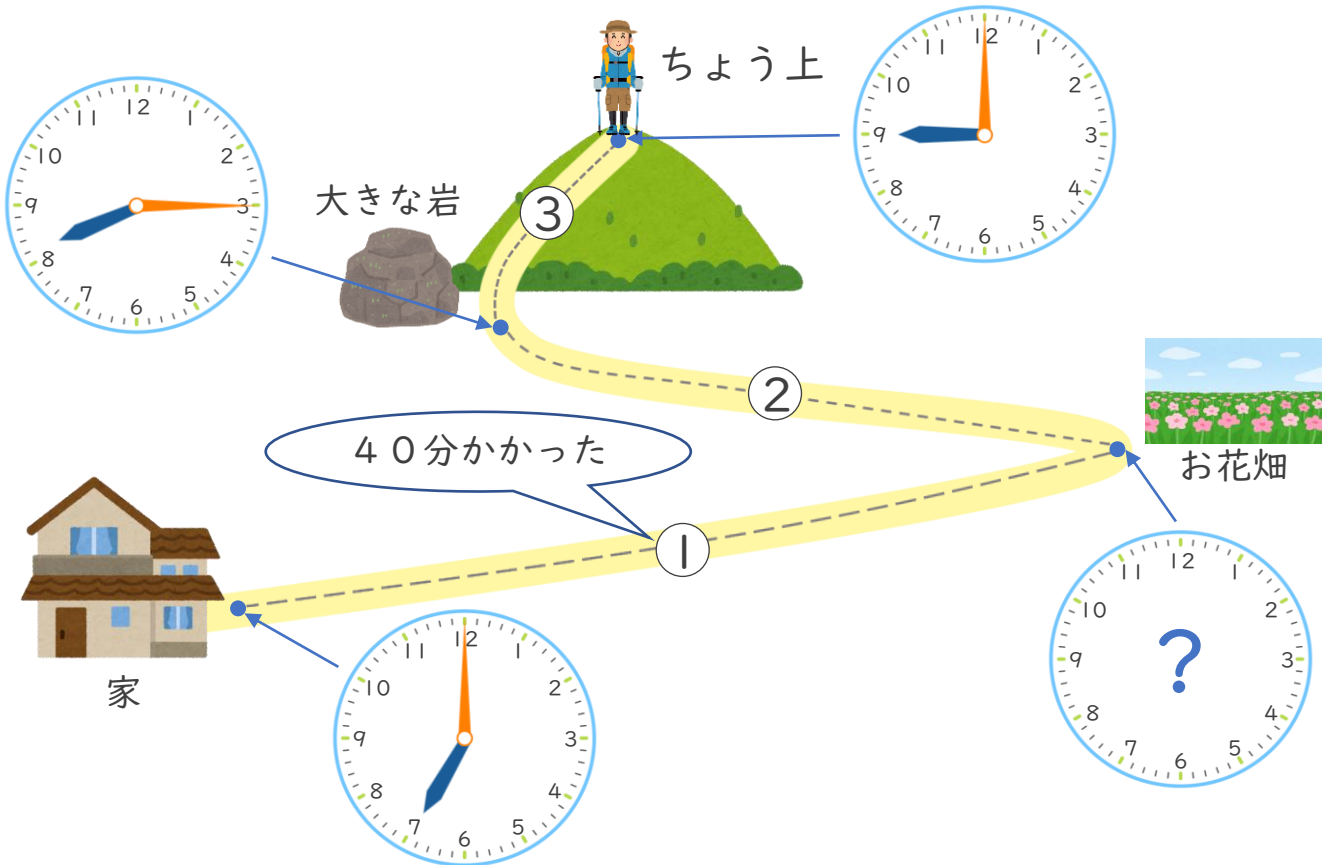
いちばん時間がかかった道



日にち： 月 日

名まえ \_\_\_\_\_

家から山のちよう上まで歩きました。いちばん時間がかかった道はどこでしょう。□にあてはまる数や、①～③の記号きごうを書きましょう。



・①にかかった時間は 40 分だから、

お花畑に着いた時こくは  時  分…(★)

・②は(★)の時こくから8時15分までだから、

かかった時間は、  分。

・③は8時15分から9時までだから、  分 かった。

⇒①～③の中でいちばん時間がかかった道は、





時こくと時間の  
もとめかた 19

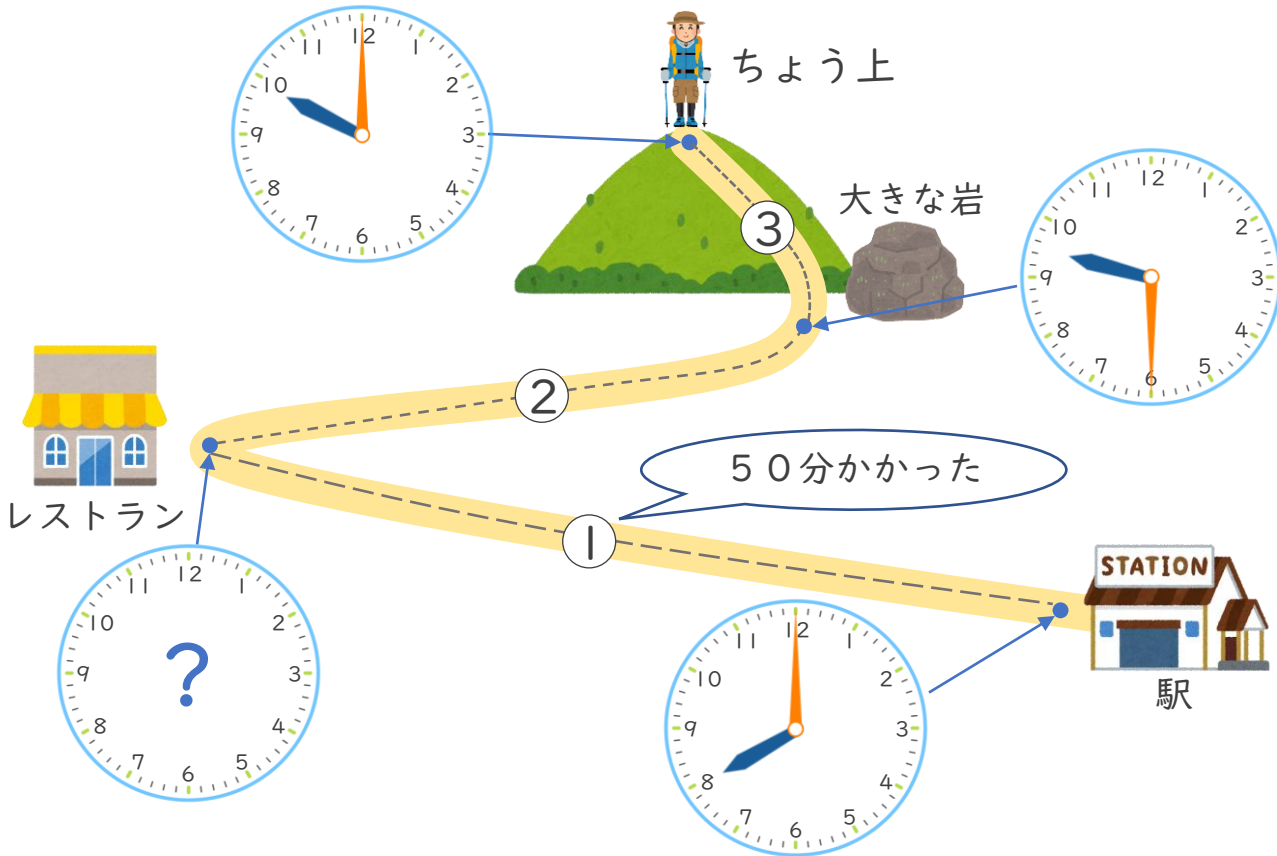
いちばん時間がかかった道



日にち： 月 日

名まえ \_\_\_\_\_

駅から山のちよう上まで歩きました。いちばん時間がかかった道はどこでしょう。□にあてはまる数や、①～③の記号を書きましょう。



・①にかかった時間は 50 分だから、

レストランに着いた時こくは □ 時 □ 分…(★)

・②は(★)の時こくから 9 時 30 分までだから、

かかった時間は、 □ 分。

・③は 9 時 30 分から 10 時までだから、 □ 分 かった。

⇒①～③の中でいちばん時間がかかった道は、 □







時こくと時間の  
もとめかた 19

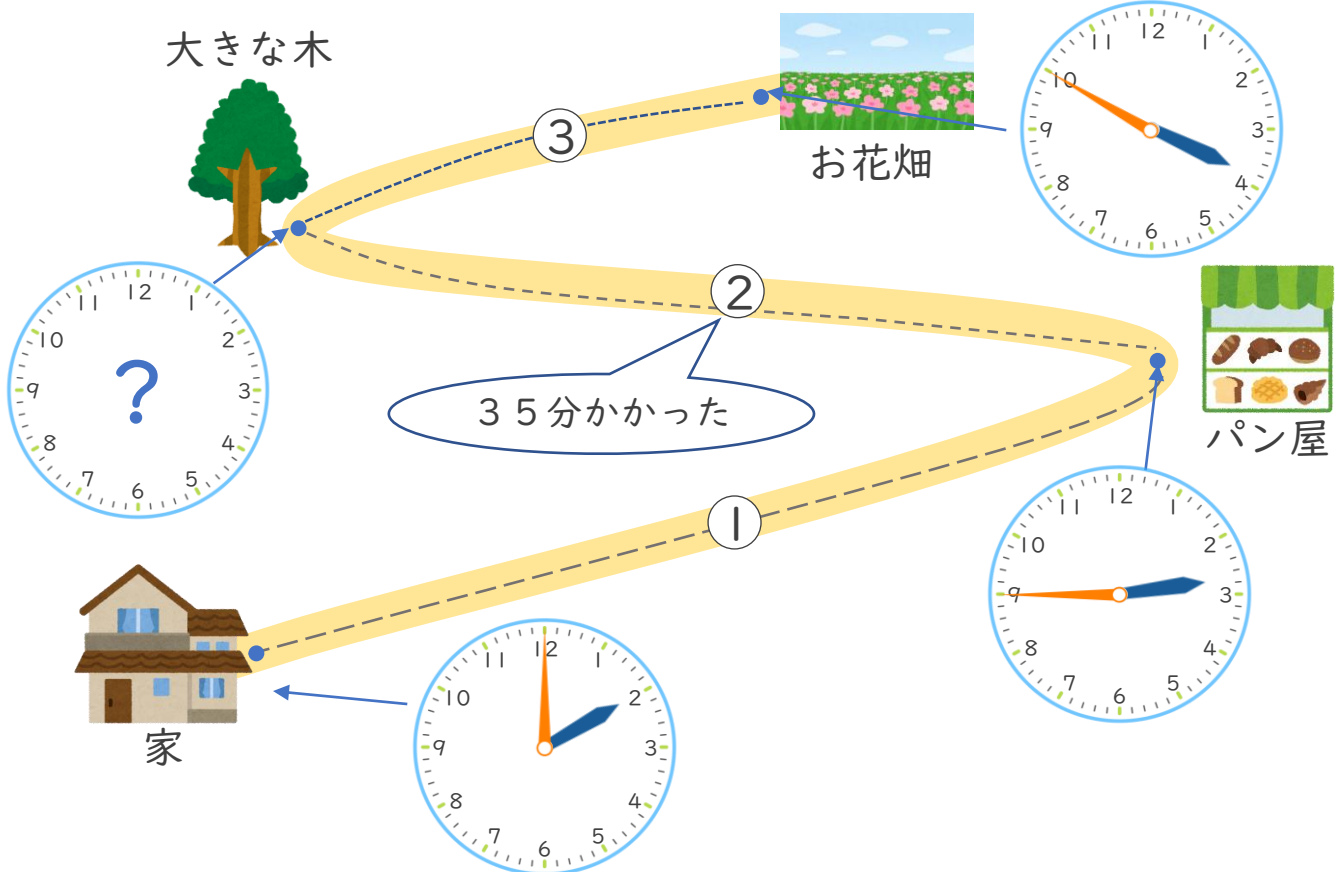
いちばん時間がかかった道



日にち： 月 日

名まえ \_\_\_\_\_

家からお花畑<sup>はなばたけ</sup>まで歩きました。いちばん時間がかかった道はどこでしょう。 にあてはまる数や、①～③の記号<sup>きごう</sup>を書きましょう。



・①は2時から2時45分までだから、 分 かった。

・②にかかった時間は 35 分だから、

大きな木に着いた時こくは  時  分…(★)

・③は(★)の時こくから3時50分までだから、

かった時間は、 分。

⇒①～③の中でいちばん時間がかかった道は、





時こくと時間の  
もとめかた 19

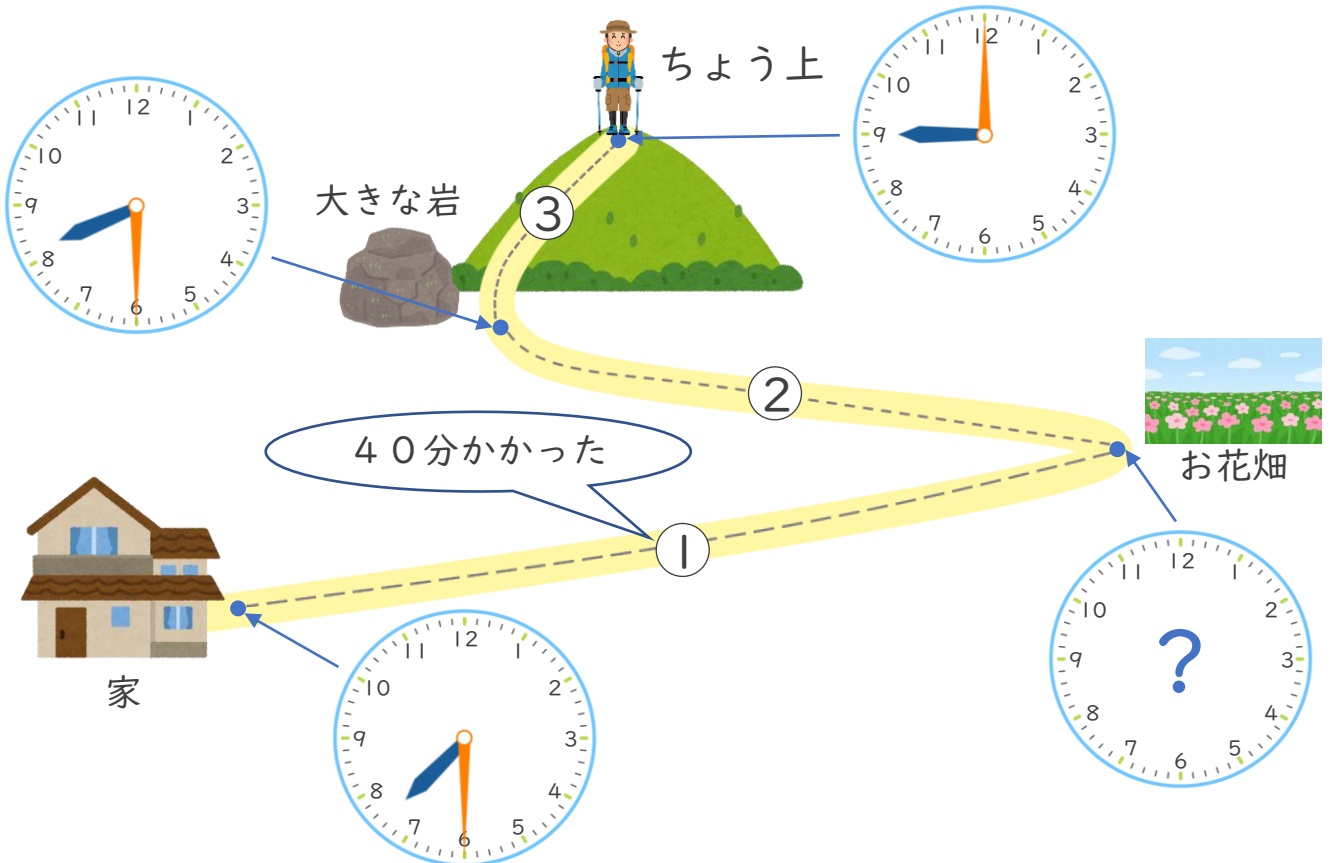
いちばん時間がかかった道



日にち： 月 日

名まえ \_\_\_\_\_

家から山のちよう上まで歩きました。いちばん時間がかかった道はどこでしょう。□にあてはまる数や、①～③の記号きごうを書きましょう。



・①にかかった時間は 40 分だから、

お花畑に着いた時こくは  時  分…(★)

・②は(★)の時こくから8時30分までだから、

かかった時間は、 分。

・③は8時30分から9時までだから、 分 かった。

⇒①～③の中でいちばん時間がかかった道は、







時こくと時間の  
もとめかた 19

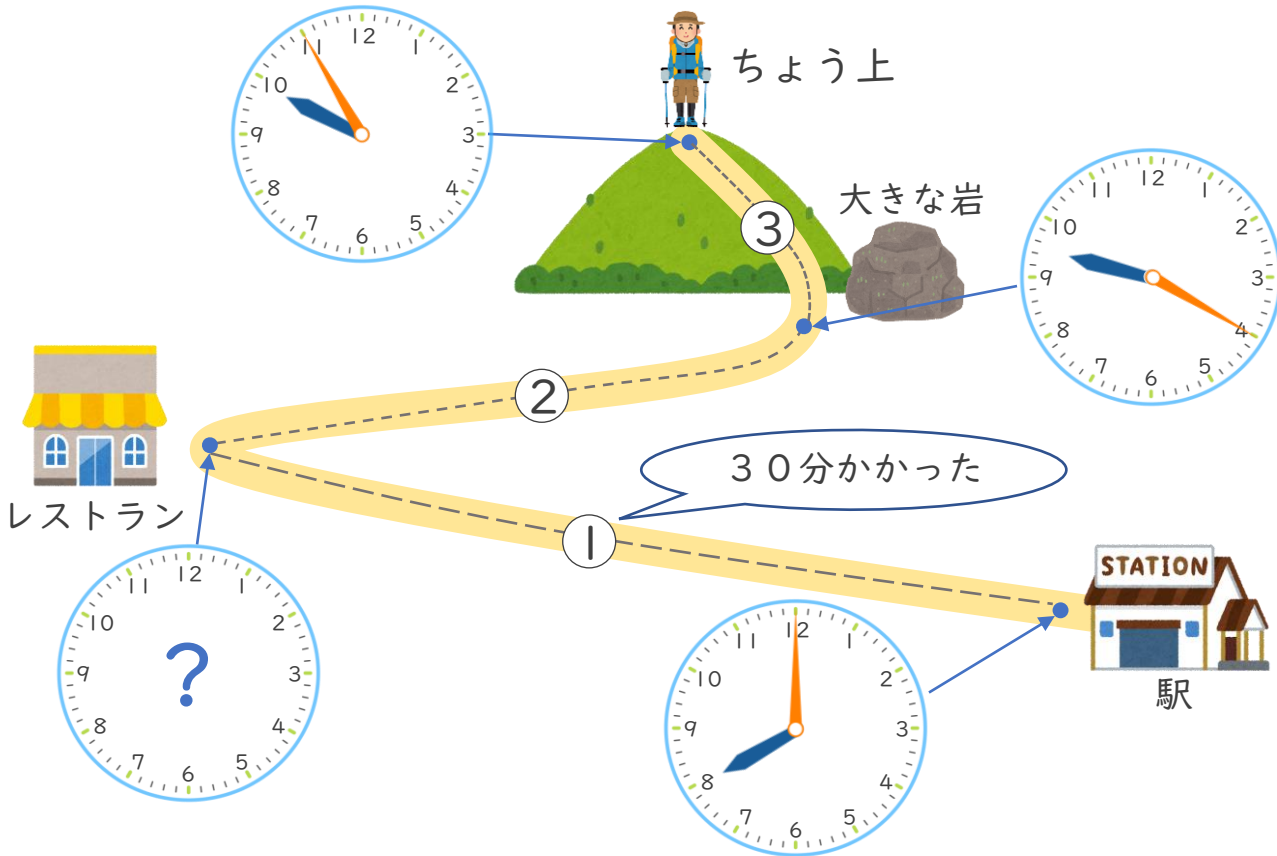
いちばん時間がかかった道



日にち： 月 日

名まえ \_\_\_\_\_

駅から山のちよう上まで歩きました。いちばん時間がかかった道はどこでしょう。□にあてはまる数や、①～③の記号を書きましょう。



・①にかかった時間は 30 分だから、

レストランに着いた時こくは □ 時 □ 分…(★)

・②は(★)の時こくから 9 時 20 分までだから、

かかった時間は、 □ 分。

・③は 9 時 20 分から 10 時までだから、 □ 分 かった。

⇒①～③の中でいちばん時間がかかった道は、 □





時こくと時間の  
もとめかた 19

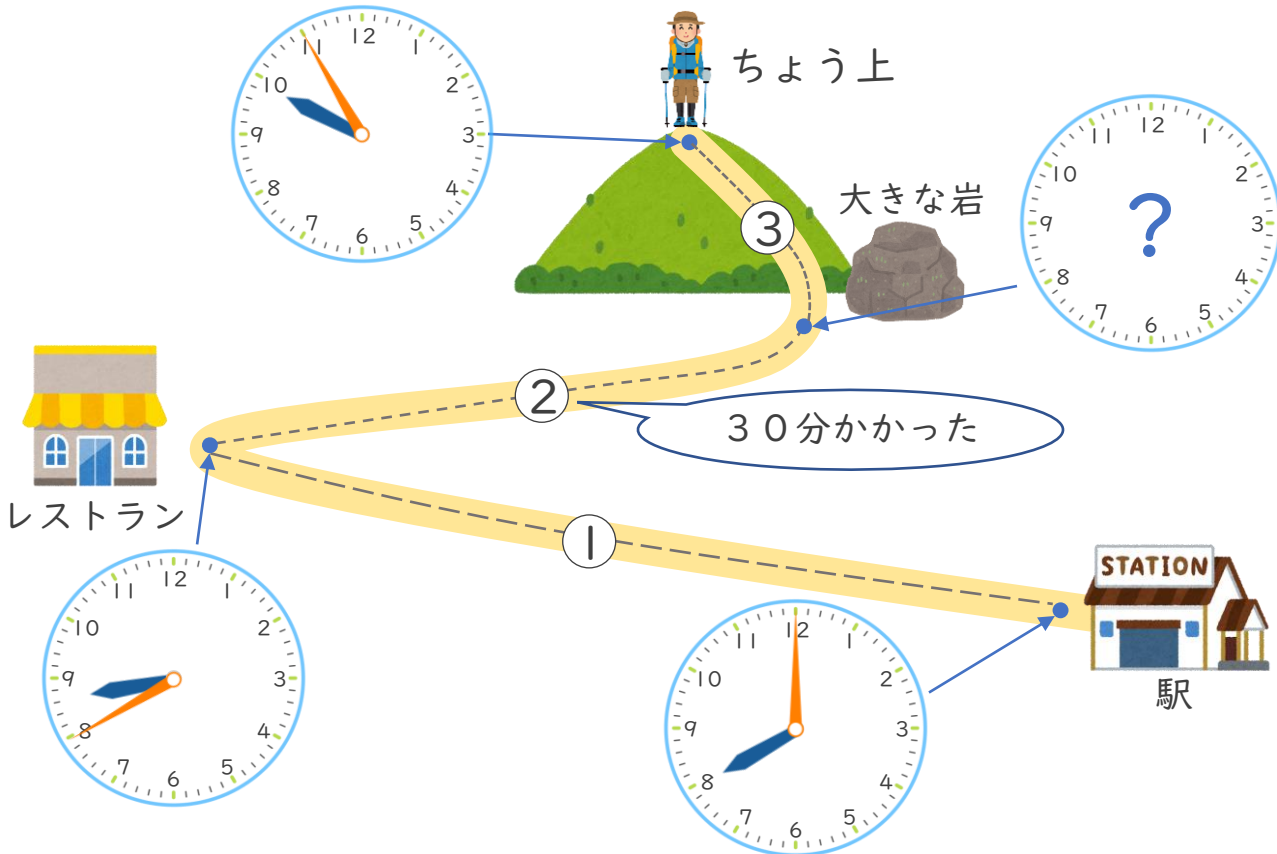
いちばん時間がかかった道



日にち： 月 日

名まえ \_\_\_\_\_

駅から山のちよう上まで歩きました。いちばん時間がかかった道はどこでしょう。□にあてはまる数や、①～③の記号きごうを書きましょう。



・①は8時から8時40分までだから、**40**分 かった。

・②にかかった時間は **30**分だから、

大きな岩に着いた時こくは **9**時 **10**分…(★)

・③は(★)の時こくから9時55分までだから、

かった時間は、**45**分。

⇒①～③の中でいちばん時間がかかった道は、**③**





時こくと時間の  
もとめかた 19

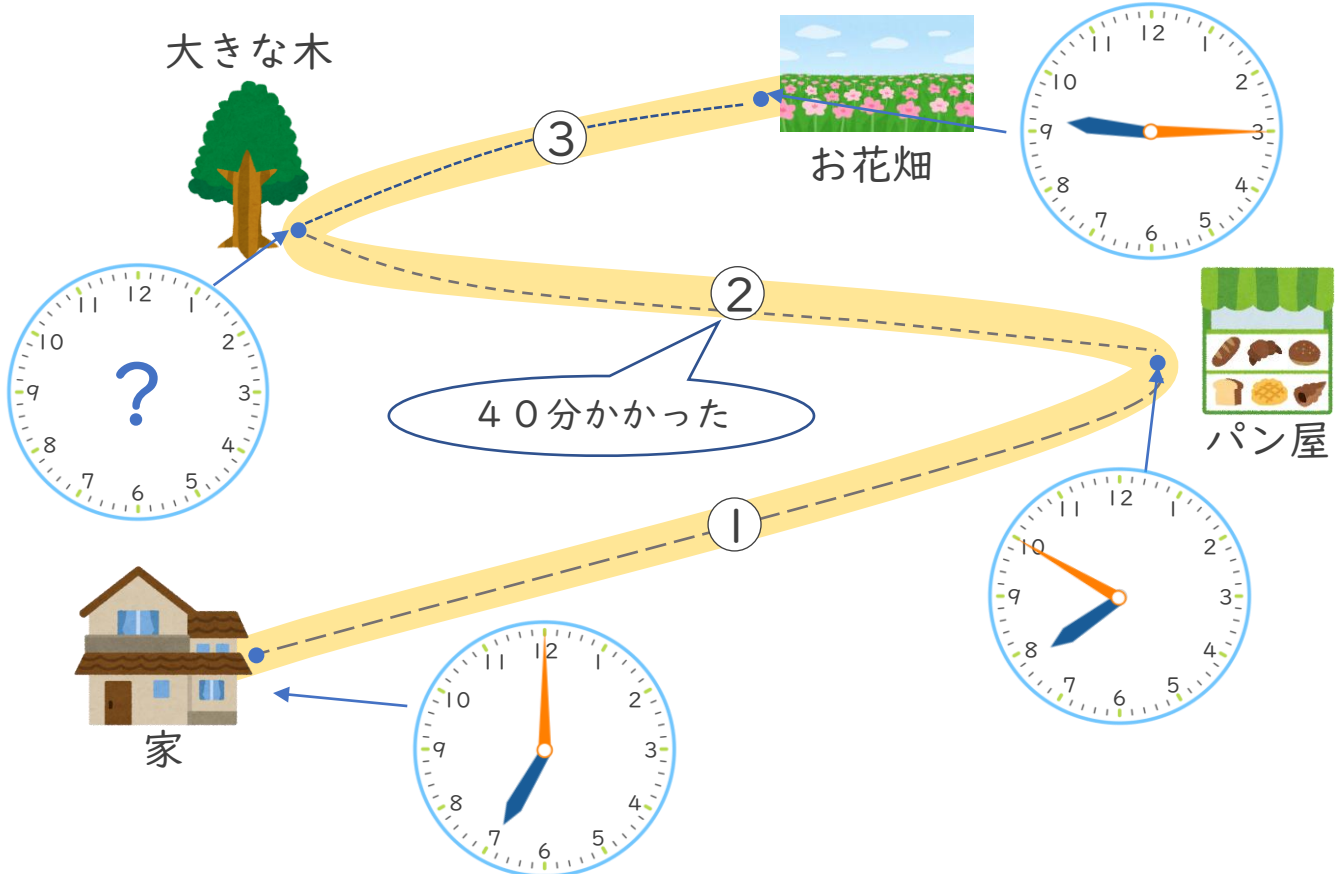
いちばん時間がかかった道



日にち： 月 日

名まえ \_\_\_\_\_

家からお花畑まで歩きました。いちばん時間がかかった道はどこでしょう。□にあてはまる数や、①～③の記号を書きましょう。



・①は7時から7時50分までだから、**50**分かった。

・②にかかった時間は**40**分だから、

大きな木に着いた時こくは **8**時**30**分…(★)

・③は(★)の時こくから9時15分までだから、

かかった時間は、**45**分。

⇒①～③の中でいちばん時間がかかった道は、





時こくと時間の  
もとめかた 19

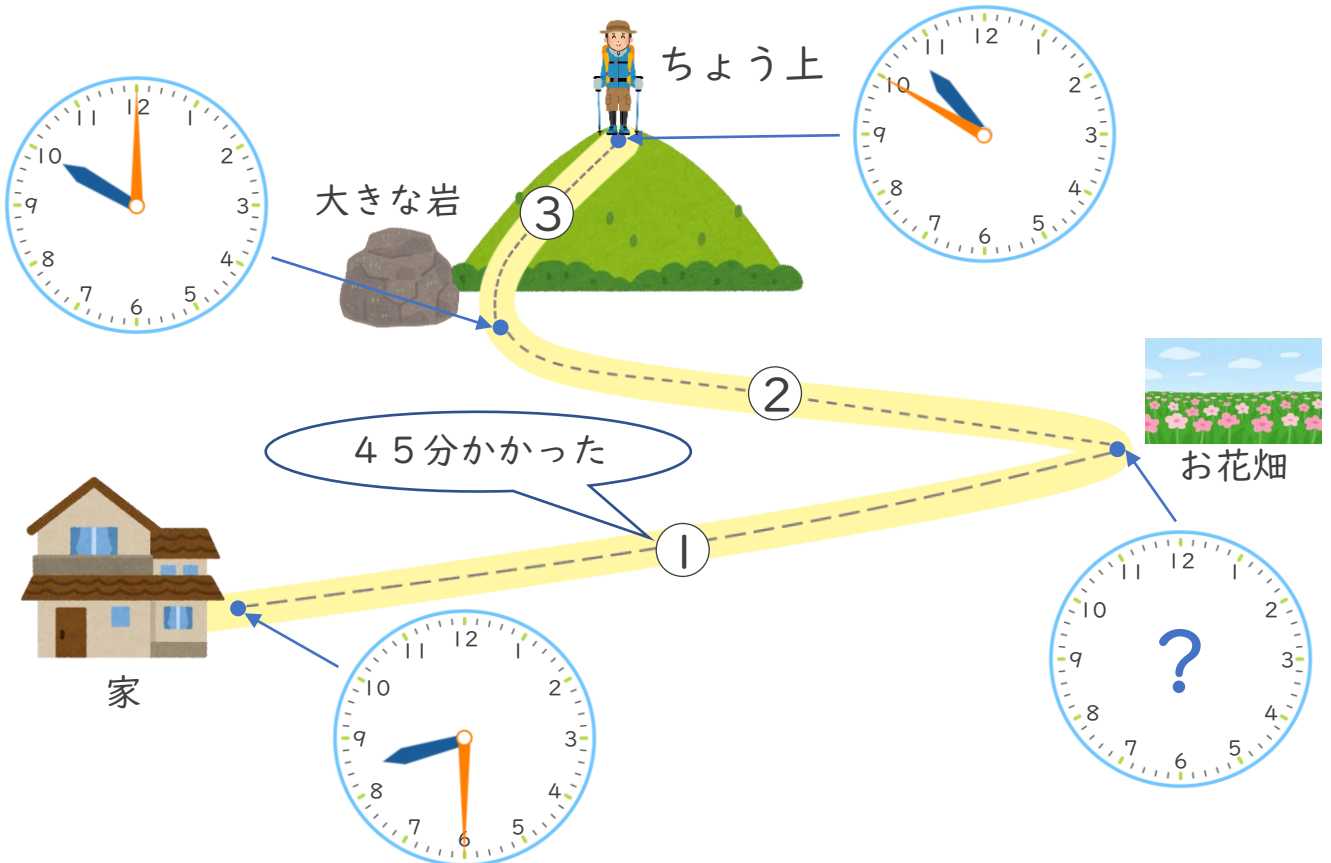
いちばん時間がかかった道



日にち： 月 日

名まえ \_\_\_\_\_

家から山のちよう上まで歩きました。いちばん時間がかかった道はどこでしょう。□にあてはまる数や、①～③の記号きごうを書きましょう。



・①にかかった時間は 45 分だから、

お花畑に着いた時こくは 9 時 15 分…(★)

・②は(★)の時こくから10時までだから、

かかった時間は、 45 分。

・③は10時から10時50分までだから、 50 分 かった。

⇒①～③の中でいちばん時間がかかった道は、 ③





時こくと時間の  
もとめかた 19

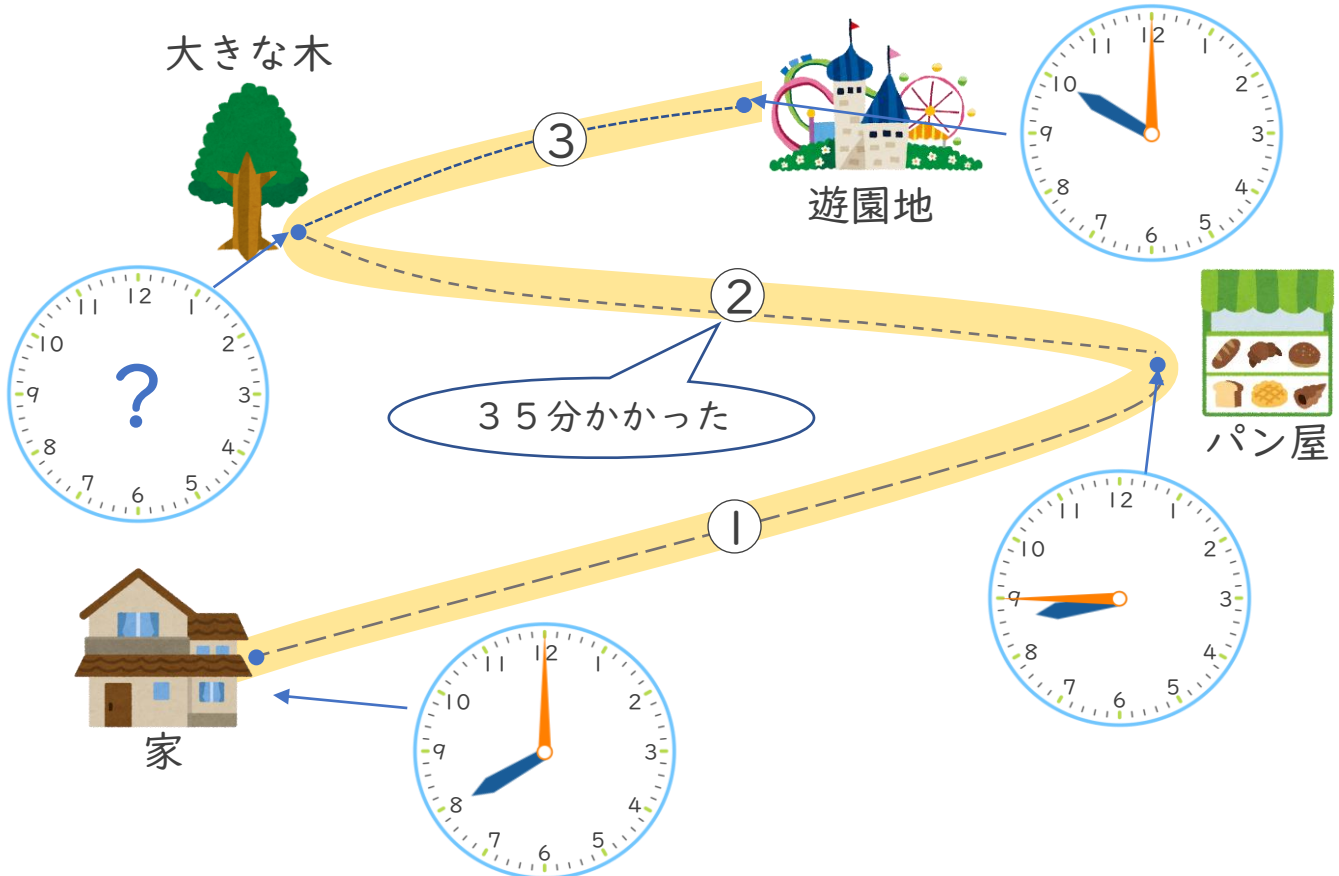
いちばん時間がかかった道



日にち： 月 日

名まえ \_\_\_\_\_

家から遊園地まで歩きました。いちばん時間がかかった道はどこでしょう。□にあてはまる数や、①～③の記号を書きましょう。



・①は8時から8時45分までだから、**45**分かった。

・②にかかった時間は**35**分だから、

大きな木に着いた時こくは **9**時**20**分…(★)

・③は(★)の時こくから10時までだから、

かかった時間は、**40**分。

⇒①～③の中でいちばん時間がかかった道は、





時こくと時間の  
もとめかた 19

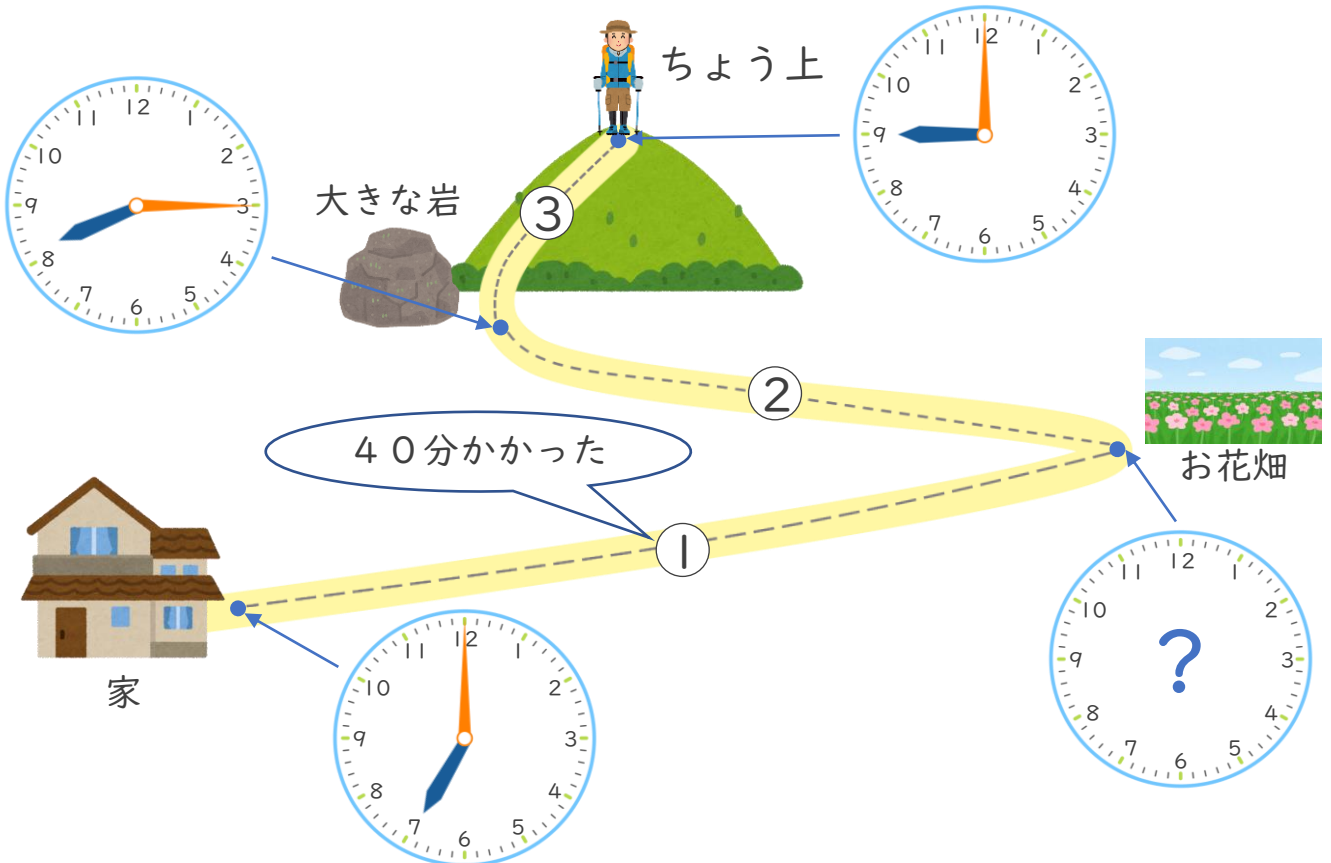
いちばん時間がかかった道



日にち： 月 日

名まえ \_\_\_\_\_

家から山のちよう上まで歩きました。いちばん時間がかかった道はどこでしょう。□にあてはまる数や、①～③の記号きごうを書きましょう。



・①にかかった時間は 40 分だから、

お花畑に着いた時こくは 7 時 40 分…(★)

・②は(★)の時こくから8時15分までだから、

かかった時間は、 35 分。

・③は8時15分から9時までだから、 45 分 かった。

⇒①～③の中でいちばん時間がかかった道は、 ③







時こくと時間の  
もとめかた 19

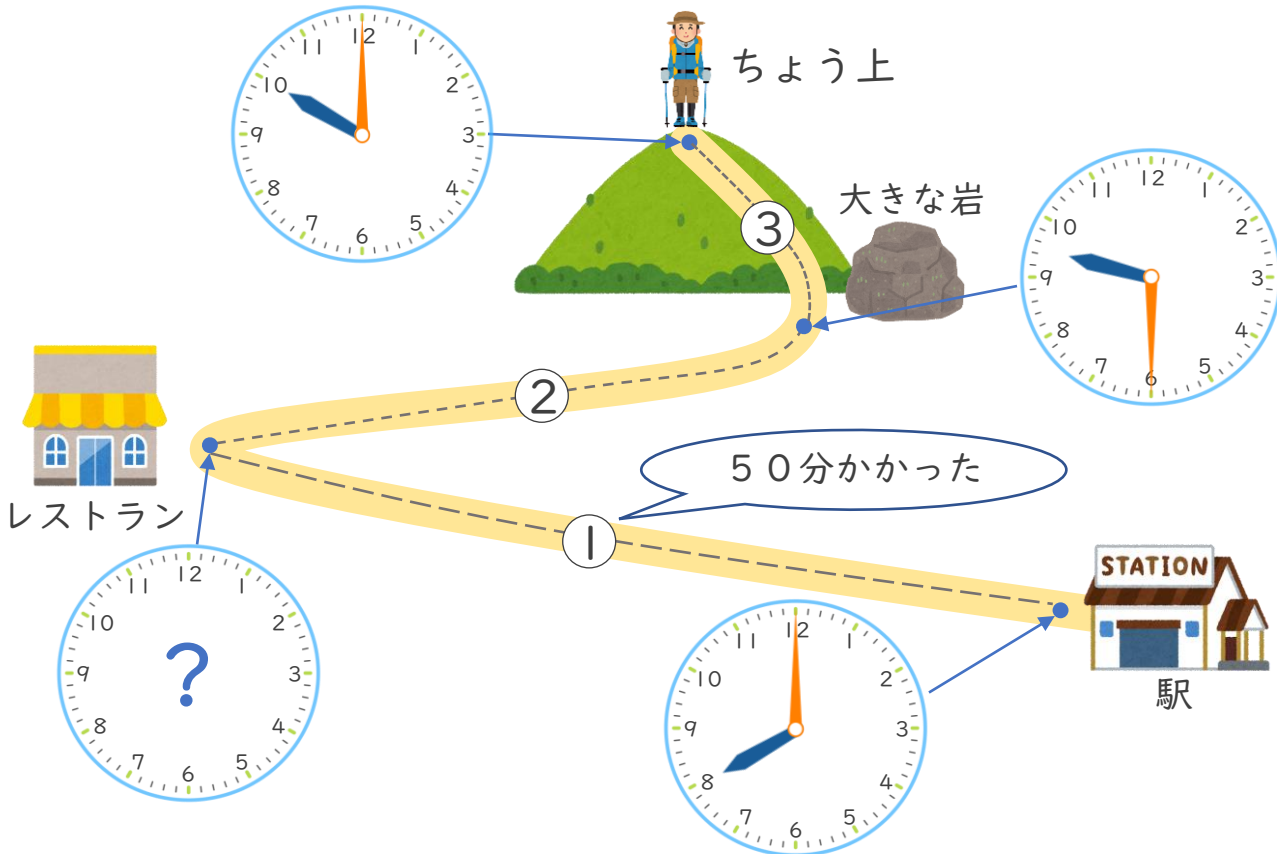
いちばん時間がかかった道



日にち： 月 日

名まえ \_\_\_\_\_

駅から山のちよう上まで歩きました。いちばん時間がかかった道はどこでしょう。□にあてはまる数や、①～③の記号を書きましょう。



・①にかかった時間は 50 分だから、

レストランに着いた時こくは 8 時 50 分…(★)

・②は(★)の時こくから 9 時 30 分までだから、

かかった時間は、 40 分。

・③は 9 時 30 分から 10 時までだから、 30 分 かった。

⇒①～③の中でいちばん時間がかかった道は、





時こくと時間の  
もとめかた 19

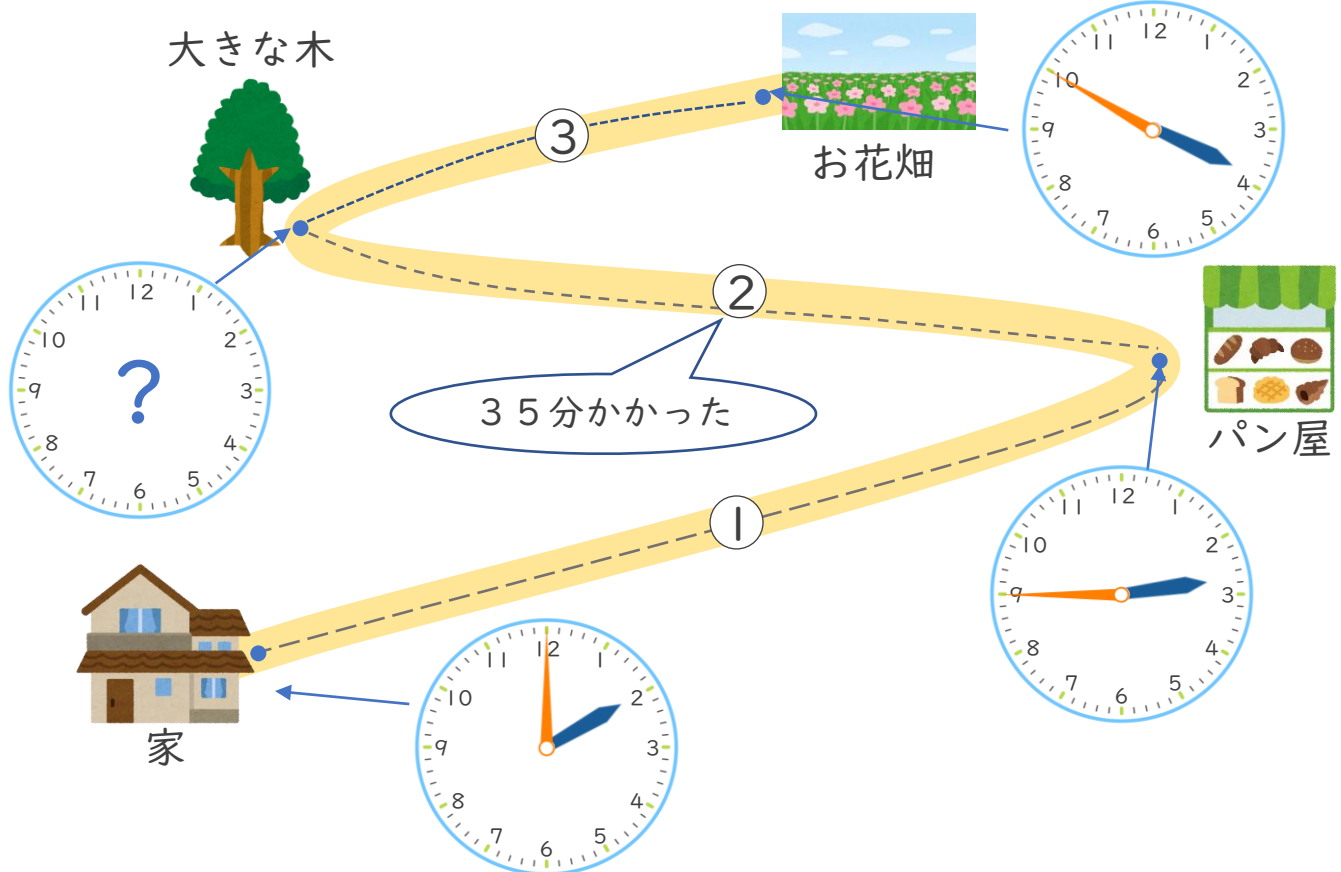
いちばん時間がかかった道



日にち： 月 日

名まえ \_\_\_\_\_

家からお花畑まで歩きました。いちばん時間がかかった道はどこでしょう。□にあてはまる数や、①～③の記号を書きましょう。



・①は2時から2時45分までだから、**45**分かった。

・②にかかった時間は**35**分だから、

大きな木に着いた時こくは **3**時**20**分…(★)

・③は(★)の時こくから3時50分までだから、

かかった時間は、**30**分。

⇒①～③の中でいちばん時間がかかった道は、





時こくと時間の  
もとめかた 19

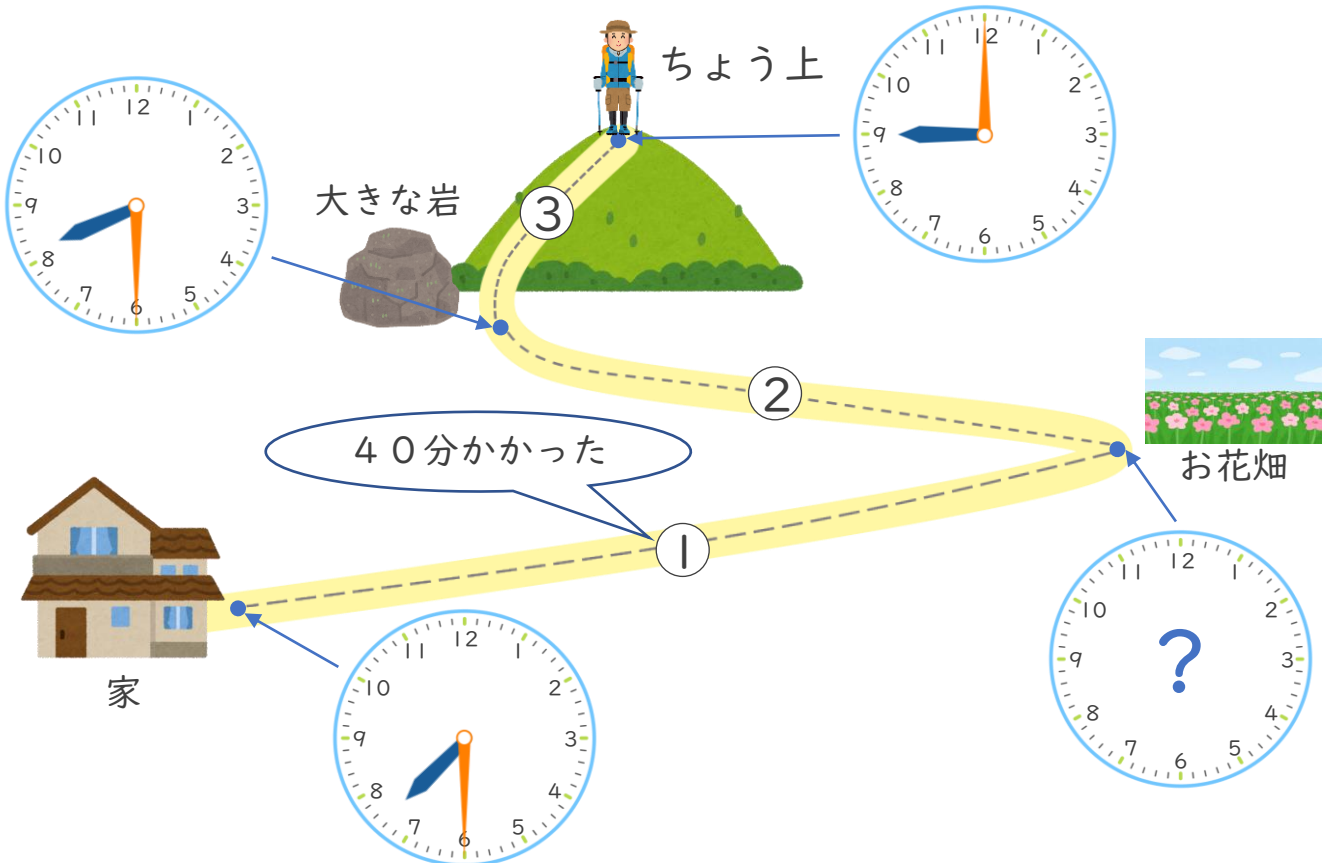
いちばん時間がかかった道



日にち： 月 日

名まえ \_\_\_\_\_

家から山のちよう上まで歩きました。いちばん時間がかかった道はどこでしょう。□にあてはまる数や、①～③の記号きごうを書きましょう。



・①にかかった時間は 40 分だから、

お花畑に着いた時こくは 8 時 10 分…(★)

・②は(★)の時こくから8時30分までだから、

かかった時間は、 20 分。

・③は8時30分から9時までだから、 30 分 かった。

⇒①～③の中でいちばん時間がかかった道は、 ①





時こくと時間の  
もとめかた 19

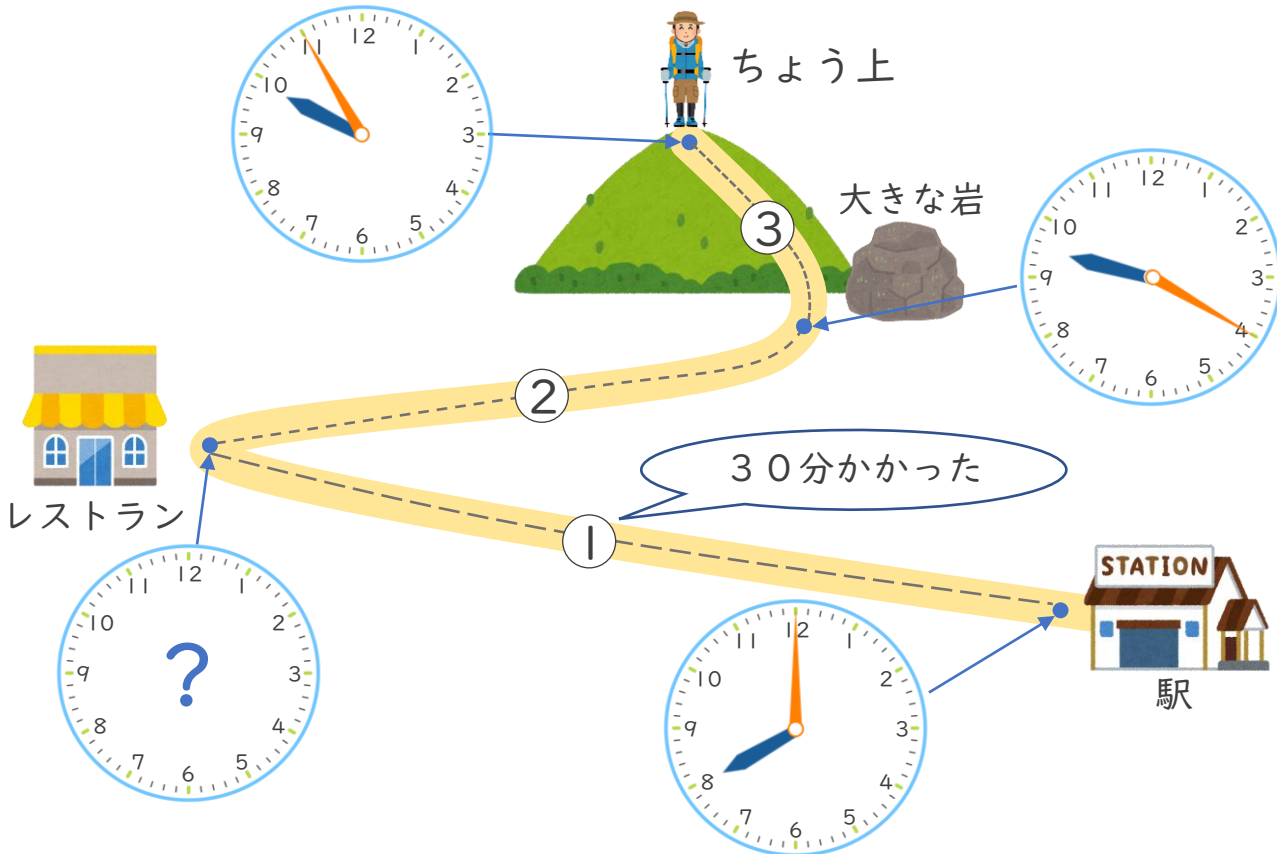
いちばん時間がかかった道



日にち： 月 日

名まえ \_\_\_\_\_

駅から山のちよう上まで歩きました。いちばん時間がかかった道はどこでしょう。□にあてはまる数や、①～③の記号を書きましょう。



・①にかかった時間は 30 分だから、

レストランに着いた時こくは 8 時 30 分…(★)

・②は(★)の時こくから 9 時 20 分までだから、

かかった時間は、 50 分。

・③は 9 時 20 分から 10 時までだから、 40 分 かった。

⇒①～③の中でいちばん時間がかかった道は、 ②

