



時こくと時間の
もとめかた 3

○分後の計算



日にち： 月 日

名まえ _____

- ① 午前10時35分から45分たった時こくをもとめましょう。
(うすい字はなぞりましょう。)

$$10時35分 + 45分$$

$$\begin{array}{r} \text{くり上がる} \\ \text{=} \quad 10 \text{ 時 } 35 \text{ 分} + 45 \text{ 分} \\ \quad \quad \downarrow +1 \quad \quad \downarrow -60 \\ \text{=} \quad 11 \text{ 時 } 20 \text{ 分} \end{array}$$

<筆算>

10時	35分
+	45分
<hr/>	
10時	80分

答え (午前11時20分)

- ② 午前8時45分から45分たった時こくをもとめましょう。

$$8時45分 + 45分$$

$$\begin{array}{r} \text{=} \quad \text{ 時 } \quad \text{ 分} \\ \text{=} \quad \text{ 時 } \quad \text{ 分} \end{array}$$

<筆算>

8時	45分
+	45分
<hr/>	
時	分

答え ()



時こくと時間の
もとめかた 3



○分後の計算

日にち： 月 日

名まえ _____

- ① 午前^{ごぜん}10時^じ50分^{ぶん}から25分たった時こくをもとめましょう。
(うすい字はなぞりましょう。)

$$10時50分 + 25分$$

$$\begin{array}{r}
 \begin{array}{r}
 \text{くり上がる} \\
 \curvearrowright \\
 10 \text{ 時 } 75 \text{ 分} \\
 \downarrow +1 \quad \downarrow -60 \\
 11 \text{ 時 } 15 \text{ 分}
 \end{array}
 \end{array}$$

<筆算>

	10時	50分
+		25分
<hr/>		
	11時	15分

答え (午前 時 分)

- ② 午後^{ごご}2時^じ35分^{ぶん}から45分たった時こくをもとめましょう。

$$2時35分 + 45分$$

$$\begin{array}{r}
 = \quad \quad \text{時} \quad \quad \text{分} \\
 \\
 = \quad \quad \text{時} \quad \quad \text{分}
 \end{array}$$

<筆算>

	2時	35分
+		45分
<hr/>		
	時	分

答え ()



時こくと時間の
もとめかた 3



○分後の計算

日にち： 月 日

名まえ _____

① 午前10時^{ごぜん}45分^しから35分^{ぶん}たった時こくをもとめましょう。

$$10\text{時}45\text{分} + 35\text{分}$$

$$= \quad \text{時} \quad \text{分}$$

$$= \quad \text{時} \quad \text{分}$$

<筆算>

10時	45分
+	35分
<hr/>	
時	分

答え ()

② 午前6時35分から50分たった時こくをもとめましょう。

$$6\text{時}35\text{分} + 50\text{分}$$

$$= \quad \text{時} \quad \text{分}$$

$$= \quad \text{時} \quad \text{分}$$

<筆算>

6時	35分
+	50分
<hr/>	
時	分

答え ()





時こくと時間の もとめかた 3

○分後の計算



日にち： 月 日

名まえ _____

① 午後 8 時 ^じ45 分 ^{ぶん}から 45 分 たった 時こく を もとめ まし ょう。

$$8 \text{ 時 } 45 \text{ 分} + 45 \text{ 分}$$

= 時 分

= 時 分

<筆算>

8 時	45 分
+	45 分
<hr/>	
時	分

答え ()

② 午前 7 時 ^{ぜん}50 分 ^{ぶん}から 35 分 たった 時こく を もとめ まし ょう。

$$7 \text{ 時 } 50 \text{ 分} + 35 \text{ 分}$$

= 時 分

= 時 分

<筆算>

7 時	50 分
+	35 分
<hr/>	
時	分

答え ()



時こくと時間の
もとめかた 3

12

○分後の計算

日にち： 月 日

名まえ _____

1 次の問いに答えましょう。

① 午前7時35分から40分たった時こくをもとめましょう。

式：

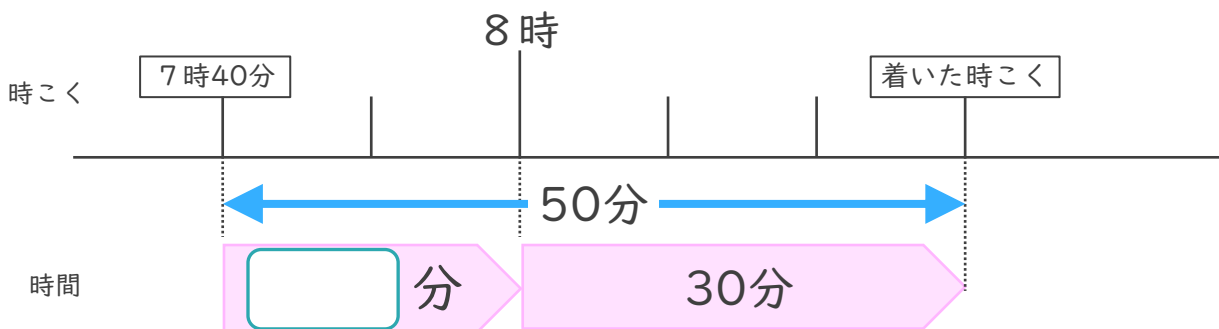
答え ()

② 午後5時25分から55分たった時こくをもとめましょう。

式：

答え ()

2 家を午前7時40分に出て、50分歩くと病院に着きました。



① □にあてはまる数を書きましょう。

② 病院に着いた時こくは何時何分ですか。

答え ()



時こくと時間の
もとめかた 3

13

○分後の計算

日にち： 月 日

名まえ _____

1 次^{つぎ}の問^といに答^{こた}えましよう。

① 午後3時55分^{ごご}から30分^じたつた時^{ぶん}こくをもとめましよう。

式：

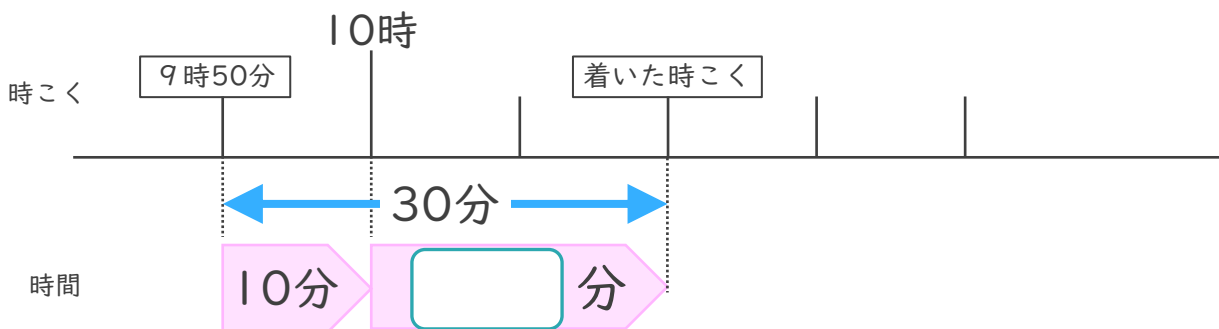
答^{こた}え ()

② 午後5時40分^{ごご}から35分^じたつた時^{ぶん}こくをもとめましよう。

式：

答^{こた}え ()

2 いえを ^{ごぜん}午前9時50分^でに出^あて、30分^{ある}歩^{びょういん}くと病^つ院^んに着^つきました。



① にあてはまる数^{かず}を書^かきましよう。

② 病^{びょういん}院^んに着^ついた時^つこくは何^{なん}時^じ何^{なん}分^{ぶん}ですか。

答^{こた}え ()



時こくと時間の
もとめかた 3

15

○分後の計算

めざせ75点!



名まえ _____

1 次の問いに答えましょう。(各25点)

① 午後3時25分から50分たった時こくをもとめましょう。

式:

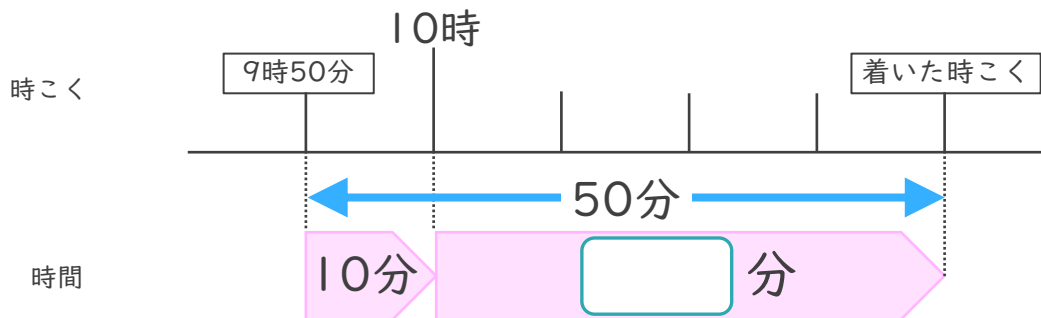
答え ()

② 午前9時55分から30分たった時こくをもとめましょう。

式:

答え ()

2 家を午前9時50分に出て、50分歩くと病院に着きました。



① □にあてはまる数を書きましょう。(25点)

② 病院に着いた時こくは何時何分ですか。(25点)

答え ()



時こくと時間の
もとめかた 3

16

○分後の計算

めざせ75点!



名まえ _____

1 次の問いに答えましょう。(各25点)

① 午前4時55分から40分たった時こくをもとめましょう。

式:

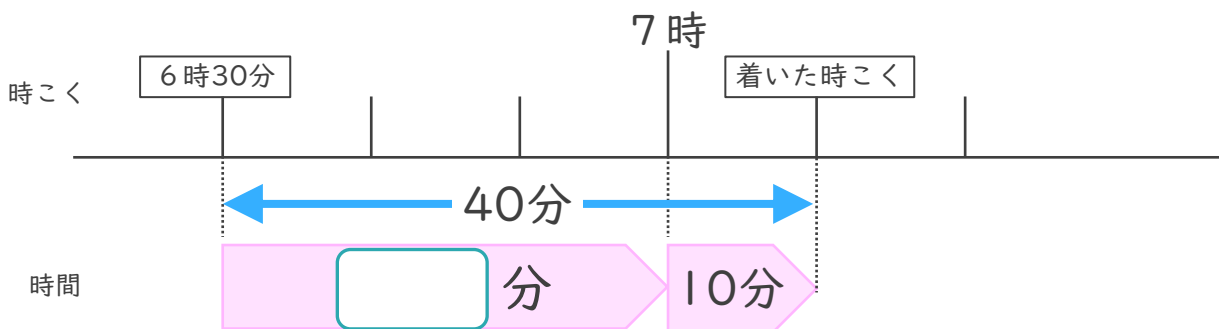
答え ()

② 午後1時45分から45分たった時こくをもとめましょう。

式:

答え ()

2 家を午前6時30分に出て、40分歩くと病院に着きました。



① □にあてはまる数を書きましょう。(25点)

② 病院に着いた時こくは何時何分ですか。(25点)

答え ()



時こくと時間の もとめかた 3

○分後の計算



日にち： 月 日

名まえ _____

① 午前10時35分から45分たった時こくをもとめましょう。

(うすい字はなぞりましょう。)

$$10時35分 + 45分$$

$$\begin{array}{r}
 \text{くり上がる} \\
 \curvearrowright \\
 = 10 \text{ 時 } 80 \text{ 分} \\
 \begin{array}{cc}
 \downarrow +1 & \downarrow -60 \\
 = 11 \text{ 時 } 20 \text{ 分}
 \end{array}
 \end{array}$$

<筆算>

10時	35分
+	45分
<hr/>	
10時	80分

答え (午前11時20分)

② 午前8時45分から45分たった時こくをもとめましょう。

$$8時45分 + 45分$$

$$\begin{array}{r}
 \text{くり上がる} \\
 \curvearrowright \\
 = 8 \text{ 時 } 90 \text{ 分} \\
 \begin{array}{cc}
 \downarrow +1 & \downarrow -60 \\
 = 9 \text{ 時 } 30 \text{ 分}
 \end{array}
 \end{array}$$

<筆算>

8時	45分
+	45分
<hr/>	
8時	90分

答え (午前9時30分)





時こくと時間の
もとめかた 3



○分後の計算

日にち： 月 日

名まえ _____

- ① 午前10時50分から25分たった時こくをもとめましょう。
(うすい字はなぞりましょう。)

$$10時50分 + 25分$$

$$\begin{array}{r}
 \begin{array}{r}
 \text{くり上がる} \\
 \curvearrowright \\
 10 \text{ 時 } 75 \text{ 分} \\
 \downarrow +1 \qquad \downarrow -60 \\
 11 \text{ 時 } 15 \text{ 分}
 \end{array}
 \end{array}$$

<筆算>

10時	50分
+	25分
<hr/>	
10時	75分

答え (午前11時15分)

- ② 午後2時35分から45分たった時こくをもとめましょう。

$$2時35分 + 45分$$

$$\begin{array}{r}
 \begin{array}{r}
 \text{くり上がる} \\
 \curvearrowright \\
 2 \text{ 時 } 80 \text{ 分} \\
 \downarrow +1 \qquad \downarrow -60 \\
 3 \text{ 時 } 20 \text{ 分}
 \end{array}
 \end{array}$$

<筆算>

2時	35分
+	45分
<hr/>	
2時	80分

答え (午後3時20分)





時こくと時間の もとめかた 3

○分後の計算



日にち： 月 日

名まえ _____

① 午前7時30分ごぜん じ ふんから55分たった時こくをもとめましょう。

(うすい字はなぞりましょう。)

$$7 \text{ 時 } 30 \text{ 分} + 55 \text{ 分}$$

$$\begin{array}{r}
 \begin{array}{ccc}
 & \text{くり上がる} & \\
 & \curvearrowright & \\
 = & 7 & \text{時 } 85 \text{ 分} \\
 & \downarrow +1 & \downarrow -60 \\
 = & 8 & \text{時 } 25 \text{ 分}
 \end{array}
 \end{array}$$

<筆算>

7時 30分
+ 55分

7時 85分

答え (午前8時25分)

② 午後1時55分ごごから35分たった時こくをもとめましょう。

$$1 \text{ 時 } 55 \text{ 分} + 35 \text{ 分}$$

$$\begin{array}{r}
 \begin{array}{ccc}
 & \text{くり上がる} & \\
 & \curvearrowright & \\
 = & 1 & \text{時 } 90 \text{ 分} \\
 & \downarrow +1 & \downarrow -60 \\
 = & 2 & \text{時 } 30 \text{ 分}
 \end{array}
 \end{array}$$

<筆算>

1時 55分
+ 35分

1時 90分

答え (午後2時30分)





時こくと時間の
もとめかた 3



○分後の計算

日にち： 月 日

名まえ _____

- ① 午前8時25分から45分たった時こくをもとめましょう。
(うすい字はなぞりましょう。)

$$8 \text{ 時 } 25 \text{ 分} + 45 \text{ 分}$$

$$\begin{array}{r}
 \begin{array}{ccc}
 & \text{くり上がる} & \\
 & \curvearrowright & \\
 = & 8 & \text{時 } 70 \text{ 分} \\
 & \downarrow +1 & \downarrow -60 \\
 = & 9 & \text{時 } 10 \text{ 分}
 \end{array}
 \end{array}$$

<筆算>

8時 25分
+ 45分

8時 70分

答え (午前9時10分)

- ② 午後5時40分から50分たった時こくをもとめましょう。

$$5 \text{ 時 } 40 \text{ 分} + 50 \text{ 分}$$

$$\begin{array}{r}
 \begin{array}{ccc}
 & \text{くり上がる} & \\
 & \curvearrowright & \\
 = & 5 & \text{時 } 90 \text{ 分} \\
 & \downarrow +1 & \downarrow -60 \\
 = & 6 & \text{時 } 30 \text{ 分}
 \end{array}
 \end{array}$$

<筆算>

5時 40分
+ 50分

5時 90分

答え (午後6時30分)





時こくと時間の
もとめかた 3



○分後の計算

日にち： 月 日

名まえ _____

① 午前10時45分から35分たった時こくをもとめましょう。

$$10時45分 + 35分$$

$$\begin{array}{r} \text{くり上がる} \\ \curvearrowright \\ = 10時80分 \\ \begin{array}{cc} \downarrow +1 & \downarrow -60 \end{array} \\ = 11時20分 \end{array}$$

<筆算>

10時	45分
+	35分
<hr/>	
11時	20分

答え (午前11時20分)

② 午前6時35分から50分たった時こくをもとめましょう。

$$6時35分 + 50分$$

$$\begin{array}{r} \text{くり上がる} \\ \curvearrowright \\ = 6時85分 \\ \begin{array}{cc} \downarrow +1 & \downarrow -60 \end{array} \\ = 7時25分 \end{array}$$

<筆算>

6時	35分
+	50分
<hr/>	
7時	25分

答え (午前7時25分)



時こくと時間の もとめかた 3

○分後の計算



日にち： 月 日

名まえ _____

① 午前8時45分ごぜん じ ぶんから45分たった時こくをもとめましょう。

$$8 \text{ 時 } 45 \text{ 分} + 45 \text{ 分}$$

$$\begin{array}{r}
 \begin{array}{ccc}
 & \text{くり上がる} & \\
 & \curvearrowright & \\
 = & 8 & \text{時 } 90 \text{ 分} \\
 & \downarrow +1 & \downarrow -60 \\
 = & 9 & \text{時 } 30 \text{ 分}
 \end{array}
 \end{array}$$

<筆算>

8 時 45 分
+ 45 分
8 時 90 分

答え (午前 9 時 30 分)

② 午前10時40分ごぜん じ ぶんから30分たった時こくをもとめましょう。

$$10 \text{ 時 } 40 \text{ 分} + 30 \text{ 分}$$

$$\begin{array}{r}
 \begin{array}{ccc}
 & \text{くり上がる} & \\
 & \curvearrowright & \\
 = & 10 & \text{時 } 70 \text{ 分} \\
 & \downarrow +1 & \downarrow -60 \\
 = & 11 & \text{時 } 10 \text{ 分}
 \end{array}
 \end{array}$$

<筆算>

10 時 40 分
+ 30 分
10 時 70 分

答え (午前 11 時 10 分)





時こくと時間の
もとめかた 3



○分後の計算

日にち： 月 日

名まえ _____

① 午後 8 時 45 分 から 45 分 たった 時こく を もとめ まし ょう。

$$8 \text{ 時 } 45 \text{ 分} + 45 \text{ 分}$$

$$\begin{array}{r}
 \begin{array}{ccc}
 & \text{くり上がる} & \\
 & \curvearrowright & \\
 = & 8 & \text{時 } 90 \text{ 分} \\
 & \downarrow +1 & \downarrow -60 \\
 = & 9 & \text{時 } 30 \text{ 分}
 \end{array}
 \end{array}$$

<筆算>

8 時 45 分
+ 45 分
8 時 90 分

答え (午後 9 時 30 分)

② 午前 7 時 50 分 から 35 分 たった 時こく を もとめ まし ょう。

$$7 \text{ 時 } 50 \text{ 分} + 35 \text{ 分}$$

$$\begin{array}{r}
 \begin{array}{ccc}
 & \text{くり上がる} & \\
 & \curvearrowright & \\
 = & 7 & \text{時 } 85 \text{ 分} \\
 & \downarrow +1 & \downarrow -60 \\
 = & 8 & \text{時 } 25 \text{ 分}
 \end{array}
 \end{array}$$

<筆算>

7 時 50 分
+ 35 分
7 時 85 分

答え (午前 8 時 25 分)





時こくと時間の
もとめかた 3



○分後の計算

日にち： 月 日

名まえ _____

① 午後 8 時^{ごご}25 分^{じふん}から 50 分 たった 時こく をもとめましょう。

$$8 \text{ 時 } 25 \text{ 分} + 50 \text{ 分}$$

$$\begin{array}{r}
 \begin{array}{ccc}
 & \text{くり上がる} & \\
 & \curvearrowright & \\
 8 & \text{時} & 75 \text{ 分} \\
 \downarrow +1 & & \downarrow -60 \\
 9 & \text{時} & 15 \text{ 分}
 \end{array} \\
 = & & \\
 9 & \text{時} & 15 \text{ 分}
 \end{array}$$

<筆算>

8 時 25 分
+ 50 分
8 時 75 分

答え (午後 9 時 15 分)

② 午前 9 時^{ごぜん}50 分 から 25 分 たった 時こく をもとめましょう。

$$9 \text{ 時 } 50 \text{ 分} + 25 \text{ 分}$$

$$\begin{array}{r}
 \begin{array}{ccc}
 & \text{くり上がる} & \\
 & \curvearrowright & \\
 9 & \text{時} & 75 \text{ 分} \\
 \downarrow +1 & & \downarrow -60 \\
 10 & \text{時} & 15 \text{ 分}
 \end{array} \\
 = & & \\
 10 & \text{時} & 15 \text{ 分}
 \end{array}$$

<筆算>

9 時 50 分
+ 25 分
10 時 15 分

答え (午前 10 時 15 分)





時こくと時間の もとめかた 3



○分後の計算

日にち： 月 日

名まえ _____

① 午前4時45分から30分たった時こくをもとめましょう。

$$4 \text{ 時 } 45 \text{ 分} + 30 \text{ 分}$$

$$\begin{array}{r}
 \begin{array}{ccc}
 & \text{くり上がる} & \\
 & \curvearrowright & \\
 = & 4 & \text{時 } 75 \text{ 分} \\
 & \downarrow +1 & \downarrow -60 \\
 = & 5 & \text{時 } 15 \text{ 分}
 \end{array}
 \end{array}$$

<筆算>

4 時 45 分
+ 30 分
4 時 75 分

答え (午前 5 時 15 分)

② 午後9時50分から25分たった時こくをもとめましょう。

$$9 \text{ 時 } 50 \text{ 分} + 25 \text{ 分}$$

$$\begin{array}{r}
 \begin{array}{ccc}
 & \text{くり上がる} & \\
 & \curvearrowright & \\
 = & 9 & \text{時 } 75 \text{ 分} \\
 & \downarrow +1 & \downarrow -60 \\
 = & 10 & \text{時 } 15 \text{ 分}
 \end{array}
 \end{array}$$

<筆算>

9 時 50 分
+ 25 分
7 時 75 分

答え (午後 10 時 15 分)





時こくと時間の
もとめかた 3

○分後の計算



日にち： 月 日

名まえ _____

1 次^{つぎ}の問^といに答^{こた}えましょう。

① 午後3時25分^{ごご}から50分^{じふん}たった時^{とき}こくをもとめましょう。

式： 3時25分 + 50分

= 3時75分

= 4時15分

答え (午後4時15分)

② 午前9時55分^{ごぜん}から30分^{さんじゅう}たった時^{とき}こくをもとめましょう。

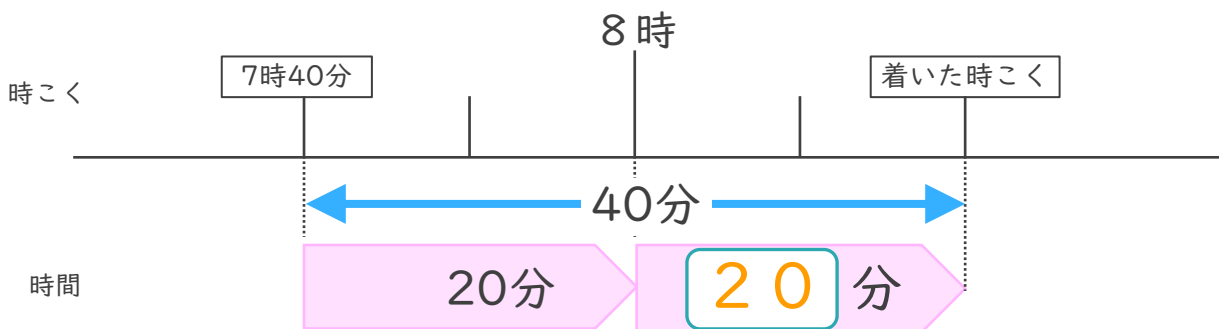
式： 9時55分 + 30分

= 9時85分

= 10時25分

答え (午前10時25分)

2 家^{いえ}を午前7時40分^てに出^でて、40分^{ある}歩^{ある}くと病^{びょういん}院^{いん}に着^つきました。



① にあてはまる数^{かず}を書^かきましょう。

② 病^{びょういん}院^{いん}に着^ついた時^{とき}こくは何^{なに}時^{とき}何^{なに}分^{ぶん}ですか。

答え (午前8時20分)



時こくと時間の もとめかた 3

○分後の計算



日にち： 月 日

名まえ _____

1 次の問いに答えましょう。

① 午後2時45分から40分たった時こくをもとめましょう。

$$\text{式： } 2\text{時}45\text{分} + 40\text{分}$$

$$= 2\text{時}85\text{分}$$

$$= 3\text{時}25\text{分}$$

答え（ 午後3時25分 ）

② 午前6時35分から40分たった時こくをもとめましょう。

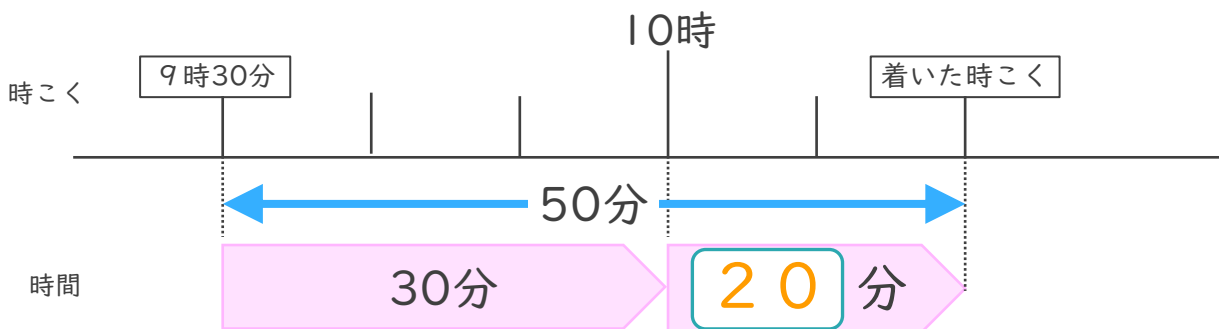
$$\text{式： } 6\text{時}35\text{分} + 40\text{分}$$

$$= 6\text{時}75\text{分}$$

$$= 7\text{時}15\text{分}$$

答え（ 午前7時15分 ）

2 家を午前9時30分に出て、50分歩くと病院に着きました。



① にあてはまる数を書きましょう。

② 病院に着いた時こくは何時何分ですか。

答え（ 午前10時20分 ）



時こくと時間の
もとめかた 3

12

○分後の計算

日にち： 月 日

名まえ _____

1 次^{つぎ}の問^といに答^{こた}えましょう。

① 午前^{こぜん}7時^じ35分^{ふん}から40分^{ふん}たった時^{とき}こくをもとめましょう。

式： 7時35分 + 40分

= 7時75分

= 8時15分

答え (午前8時15分)

② 午後^{ごご}5時^じ25分^{ふん}から55分^{ふん}たった時^{とき}こくをもとめましょう。

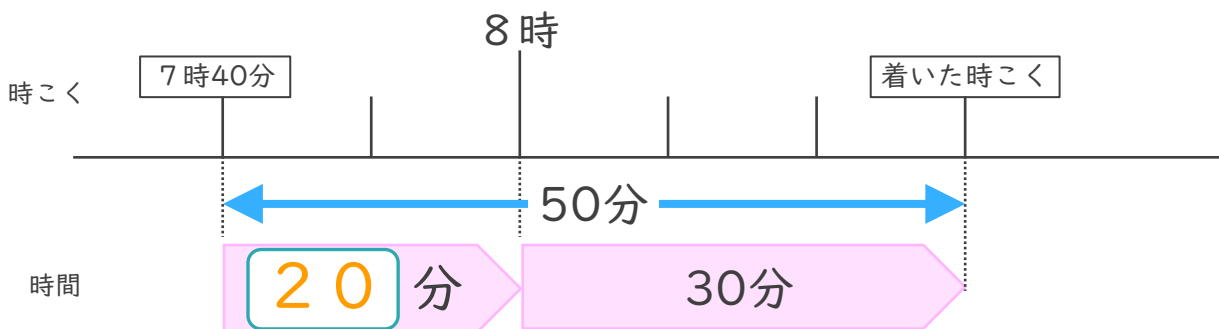
式： 5時25分 + 55分

= 5時80分

= 6時20分

答え (午後6時20分)

2 家^{いえ}を午前^{こぜん}7時^じ40分^{ふん}に出^でて、50分^{ふん}歩^{ある}くと病^{びょういん}院^{いん}に着^つきました。



① にあてはまる数^{かず}を書^かきましょう。

② 病^{びょういん}院^{いん}に着^ついた時^{とき}こくは何^{なに}時^じ何^{なに}分^{ふん}ですか。

答え (午前8時30分)





時こくと時間の もとめかた 3

13

○分後の計算

日にち： 月 日

名まえ _____

1 次^{つぎ}の問^といに答^{こた}えましょう。

① 午後3時55分^{ごご}から30分^じたった時^{ふん}こくをもとめましょう。

式： 3時55分 + 30分

= 3時85分

= 4時25分

答え（ 午後4時25分 ）

② 午後5時40分^{ごご}から35分^じたった時^{ふん}こくをもとめましょう。

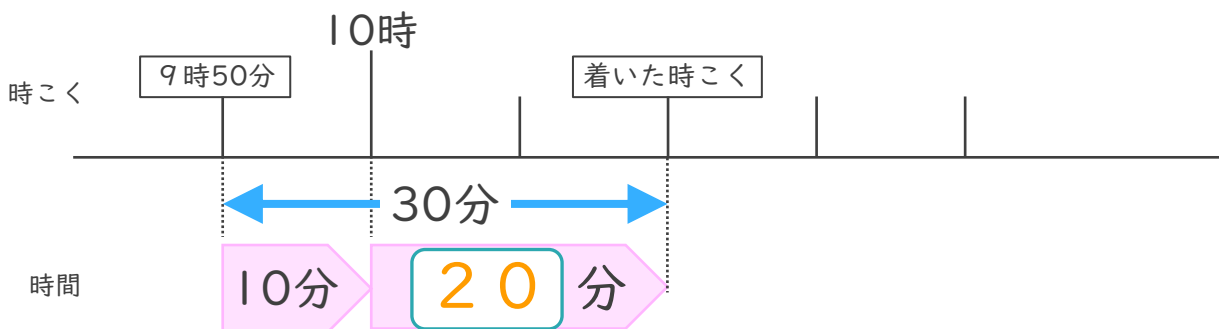
式： 5時40分 + 35分

= 5時75分

= 6時15分

答え（ 午後6時15分 ）

2 いえ^{ごぜん}を午前9時50分^でに出て、30分^{ある}歩くと病院^{びょういん}に着^つきました。



① にあてはまる数^{かず}を書^かきましょう。

② 病院^{びょういん}に着^ついた時^{とき}こくは何^{なに}時^じ何^{なに}分^{ぶん}ですか。

答え（ 午前10時20分 ）



時こくと時間の
もとめかた 3

14

○分後の計算

日にち： 月 日

名まえ _____

1 次^{つぎ}の問^といに答^{こた}えましょう。

① 午前^{こぜん}6時^じ45分^{ふん}から30分^{ぶん}たった時^{とき}こくをもとめましょう。

$$\text{式： } 6\text{時}45\text{分} + 30\text{分}$$

$$= 6\text{時}75\text{分}$$

$$= 7\text{時}15\text{分}$$

答^{こた}え (午前^{こぜん}7時^じ15分^{ふん})

② 午後^{ごご}4時^じ50分^{ふん}から45分^{ぶん}たった時^{とき}こくをもとめましょう。

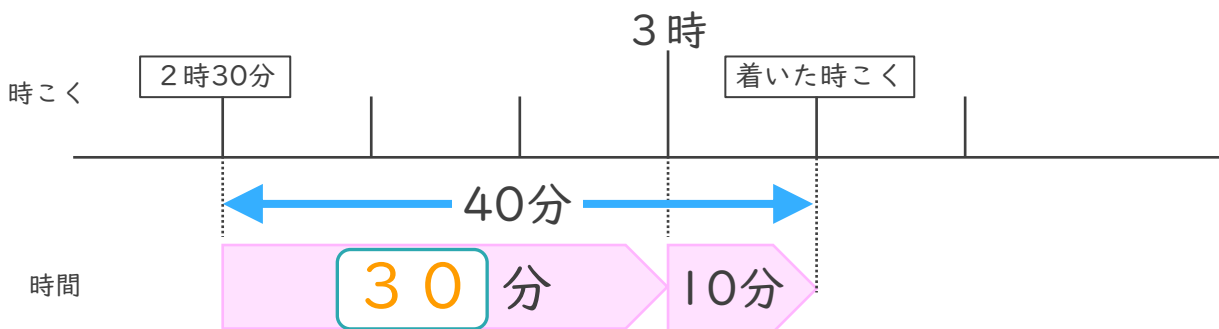
$$\text{式： } 4\text{時}50\text{分} + 45\text{分}$$

$$= 4\text{時}95\text{分}$$

$$= 5\text{時}35\text{分}$$

答^{こた}え (午後^{ごご}5時^じ35分^{ふん})

2 いえを午後^{ごご}2時^じ30分^{ふん}に出^でて、40分^{ぶん}歩^{ある}くと病院^{びょういん}に着^つきました。



① にあてはまる数^{かず}を書^かきましょう。

② 病院^{びょういん}に着^ついた時^{とき}こくは何^{なに}時^じ何^{なに}分^{ぶん}ですか。

答^{こた}え (午後^{ごご}3時^じ10分^{ふん})




時こくと時間の もとめかた 3

15

○分後の計算

めざせ75点!



名まえ _____

1 次の問いに答えましょう。(各25点)

① 午後3時25分から50分たった時こくをもとめましょう。

$$\text{式: } 3\text{時}25\text{分} + 50\text{分}$$

$$= 3\text{時}75\text{分}$$

$$= 4\text{時}15\text{分}$$

答え (午後4時15分)

② 午前9時55分から30分たった時こくをもとめましょう。

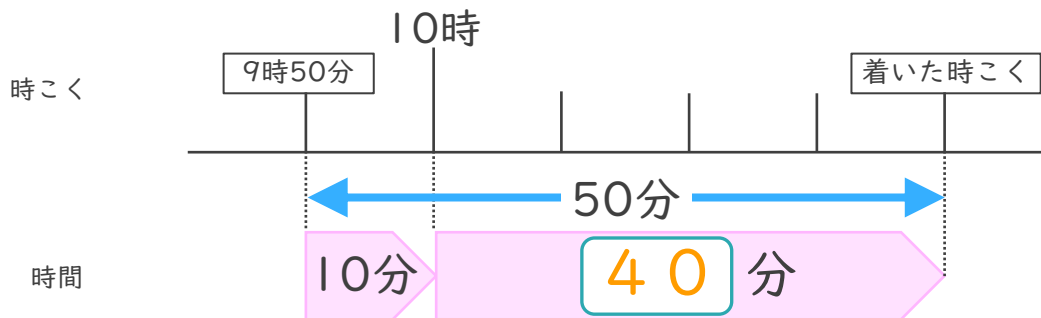
$$\text{式: } 9\text{時}55\text{分} + 30\text{分}$$

$$= 9\text{時}85\text{分}$$

$$= 10\text{時}25\text{分}$$

答え (午前10時25分)

2 家を午前9時50分に出て、50分歩くと病院に着きました。



① にあてはまる数を書きましょう。(25点)

② 病院に着いた時こくは何時何分ですか。(25点)

答え (午前10時40分)



時こくと時間の
もとめかた 3

16

○分後の計算

めざせ75点!



名まえ _____

1 次の問いに答えましょう。(各25点)

① 午前4時55分から40分たった時こくをもとめましょう。

式: $4時55分 + 40分$

$= 4時95分$

$= 5時35分$

答え (午前5時35分)

② 午後1時45分から45分たった時こくをもとめましょう。

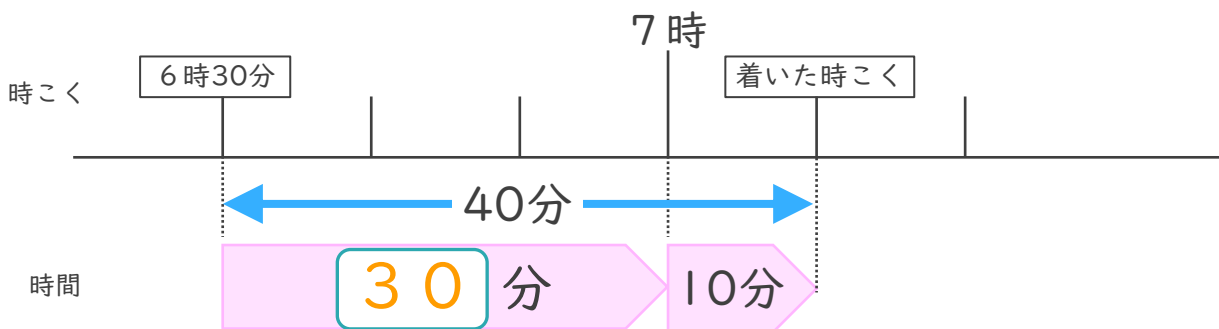
式: $1時45分 + 45分$

$= 1時90分$

$= 2時30分$

答え (午前2時30分)

2 家を午前6時30分に出て、40分歩くと病院に着きました。



① にあてはまる数を書きましょう。(25点)

② 病院に着いた時こくは何時何分ですか。(25点)

答え (午前7時10分)

