



時こくと時間の もとめかた 3

○分後の計算



日にち： 月 日

名まえ _____

① 午前10時35分から45分たった時こくをもとめましょう。

(うすい字はなぞりましょう。)

$$10時35分 + 45分$$

$$\begin{array}{r}
 \begin{array}{cccc}
 & & \text{くり上がる} & \\
 & & \curvearrowright & \\
 = & 10 & \text{時} & 35 & \text{分} \\
 & \downarrow +1 & & \downarrow -60 & \\
 = & 11 & \text{時} & 20 & \text{分}
 \end{array}
 \end{array}$$

<筆算>

10時	35分
+	45分
<hr/>	
10時	80分

答え (午前 11時 20分)

② 午前8時45分から45分たった時こくをもとめましょう。

$$8時45分 + 45分$$

$$\begin{array}{r}
 = \quad \quad \text{時} \quad \quad \text{分} \\
 \\
 = \quad \quad \text{時} \quad \quad \text{分}
 \end{array}$$

<筆算>

8時	45分
+	45分
<hr/>	
時	分

答え ()



時こくと時間の
もとめかた 3

14

○分後の計算

日にち： 月 日

名まえ _____

1 次の問いに答えましょう。

① 午前6時45分から30分たった時こくをもとめましょう。

式：

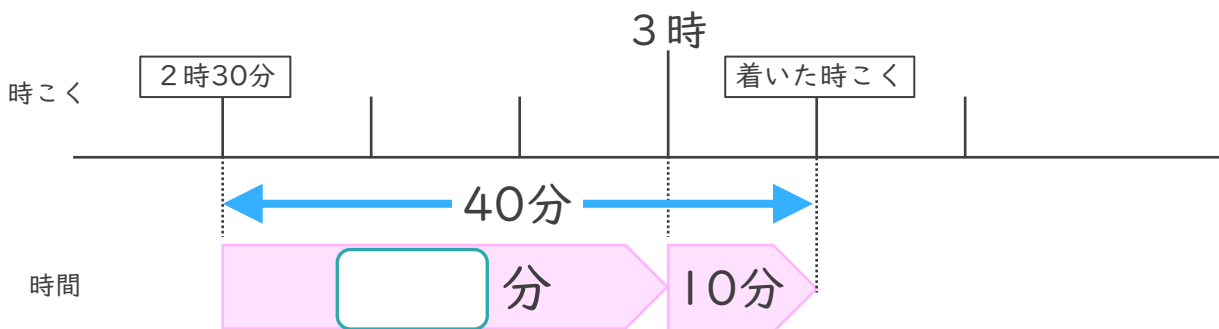
答え（ ）

② 午後4時50分から45分たった時こくをもとめましょう。

式：

答え（ ）

2 家を午後2時30分に出て、40分歩くと病院に着きました。



① □にあてはまる数を書きましょう。

② 病院に着いた時こくは何時何分ですか。

答え（ ）



時こくと時間の
もとめかた 3

15

○分後の計算

めざせ75点!



名まえ _____

1 次の問いに答えましょう。(各25点)

① 午後3時25分から50分たった時こくをもとめましょう。

式:

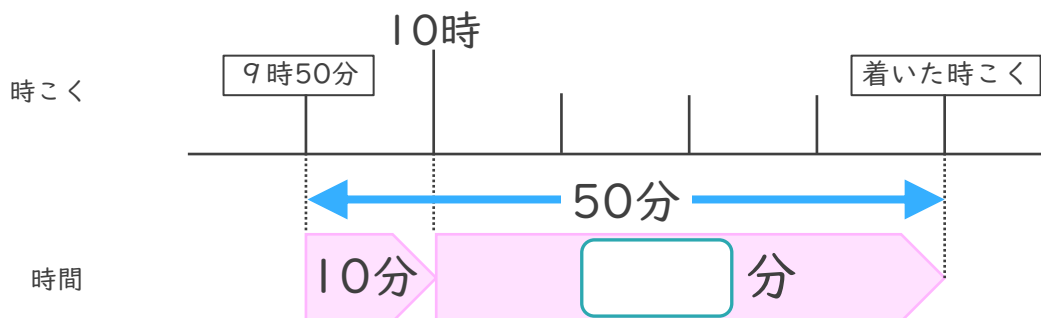
答え ()

② 午前9時55分から30分たった時こくをもとめましょう。

式:

答え ()

2 家を午前9時50分に出て、50分歩くと病院に着きました。



① にあてはまる数を書きましょう。(25点)

② 病院に着いた時こくは何時何分ですか。(25点)

答え ()



時こくと時間の
もとめかた 3

16

○分後の計算

めざせ75点!



名まえ _____

1 次の問いに答えましょう。(各25点)

① 午前4時55分ごぜんから40分たった時こくをもとめましょう。

式:

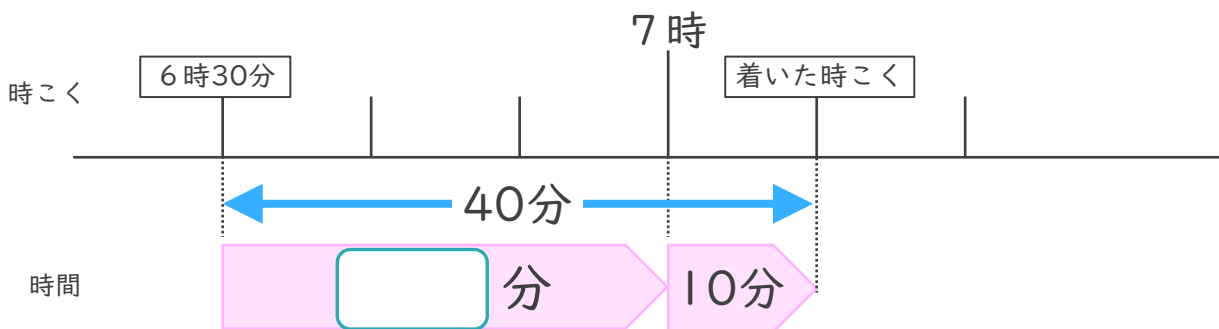
答え ()

② 午後1時45分ごごから45分たった時こくをもとめましょう。

式:

答え ()

2 家いえを午前6時30分ごぜんに出て、40分歩くと病院びょういんに着つきました。



① にあてはまる数を書きましょう。(25点)

② 病院に着いた時こくは何時何分ですか。(25点)

答え ()



時こくと時間の
もとめかた 3

○分後の計算



日にち： 月 日

名まえ _____

① 午前10時35分から45分たった時こくをもとめましょう。

(うすい字はなぞりましょう。)

$$10時35分 + 45分$$

$$\begin{array}{r} \text{くり上がる} \\ \swarrow \\ = 10 \text{ 時 } 80 \text{ 分} \\ \downarrow +1 \qquad \downarrow -60 \\ = 11 \text{ 時 } 20 \text{ 分} \end{array}$$

<筆算>

	10時	35分
+		45分
<hr/>		
	11時	20分

答え (午前11時20分)

② 午前8時45分から45分たった時こくをもとめましょう。

$$8時45分 + 45分$$

$$\begin{array}{r} \text{くり上がる} \\ \swarrow \\ = 8 \text{ 時 } 90 \text{ 分} \\ \downarrow +1 \qquad \downarrow -60 \\ = 9 \text{ 時 } 30 \text{ 分} \end{array}$$

<筆算>

	8時	45分
+		45分
<hr/>		
	9時	30分

答え (午前9時30分)





時こくと時間の
もとめかた 3



○分後の計算

日にち： 月 日

名まえ _____

① 午前^{ごぜん}10時50分から25分たった時こくをもとめましょう。

(うすい字はなぞりましょう。)

$$10時50分 + 25分$$

$$\begin{array}{r}
 \text{くり上がる} \\
 \curvearrowright \\
 = 10 \text{ 時 } 75 \text{ 分} \\
 \begin{array}{cc}
 \downarrow +1 & \downarrow -60 \\
 \hline
 = 11 \text{ 時 } 15 \text{ 分}
 \end{array}
 \end{array}$$

<筆算>

10時	50分
+	25分
<hr/>	
10時	75分

答え (午前 11時 15分)

② 午後^{ごご}2時35分から45分たった時こくをもとめましょう。

$$2時35分 + 45分$$

$$\begin{array}{r}
 \text{くり上がる} \\
 \curvearrowright \\
 = 2 \text{ 時 } 80 \text{ 分} \\
 \begin{array}{cc}
 \downarrow +1 & \downarrow -60 \\
 \hline
 = 3 \text{ 時 } 20 \text{ 分}
 \end{array}
 \end{array}$$

<筆算>

2時	35分
+	45分
<hr/>	
2時	80分

答え (午後 3時 20分)





時こくと時間の
もとめかた 3



○分後の計算

日にち： 月 日

名まえ _____

① 午前7時30分から55分たった時こくをもとめましょう。

(うすい字はなぞりましょう。)

$$7時30分 + 55分$$

$$\begin{array}{r} \text{くり上がる} \\ \curvearrowright \\ = 7 \text{ 時 } 85 \text{ 分} \\ \downarrow +1 \quad \downarrow -60 \\ = 8 \text{ 時 } 25 \text{ 分} \end{array}$$

<筆算>

	7時	30分
+		55分
<hr/>		
	7時	25分

答え (午前8時25分)

② 午後1時55分から35分たった時こくをもとめましょう。

$$1時55分 + 35分$$

$$\begin{array}{r} \text{くり上がる} \\ \curvearrowright \\ = 1 \text{ 時 } 90 \text{ 分} \\ \downarrow +1 \quad \downarrow -60 \\ = 2 \text{ 時 } 30 \text{ 分} \end{array}$$

<筆算>

	1時	55分
+		35分
<hr/>		
	1時	30分

答え (午後2時30分)





時こくと時間の
もとめかた 3



○分後の計算

日にち： 月 日

名まえ _____

- ① 午前8時25分から45分たった時こくをもとめましょう。
(うすい字はなぞりましょう。)

$$8 \text{ 時 } 25 \text{ 分} + 45 \text{ 分}$$

$$\begin{array}{r} \text{くり上がる} \\ \curvearrowright \\ = 8 \text{ 時 } 70 \text{ 分} \\ \downarrow +1 \quad \downarrow -60 \\ = 9 \text{ 時 } 10 \text{ 分} \end{array}$$

<筆算>

	8 時	25 分
+		45 分
<hr/>		
	8 時	70 分

答え (午前9時10分)

- ② 午後5時40分から50分たった時こくをもとめましょう。

$$5 \text{ 時 } 40 \text{ 分} + 50 \text{ 分}$$

$$\begin{array}{r} \text{くり上がる} \\ \curvearrowright \\ = 5 \text{ 時 } 90 \text{ 分} \\ \downarrow +1 \quad \downarrow -60 \\ = 6 \text{ 時 } 30 \text{ 分} \end{array}$$

<筆算>

	5 時	40 分
+		50 分
<hr/>		
	5 時	90 分

答え (午後6時30分)



時こくと時間の
もとめかた 3



○分後の計算

日にち： 月 日

名まえ _____

① 午前10時45分から35分たった時こくをもとめましょう。

$$10時45分 + 35分$$

$$\begin{array}{r}
 \begin{array}{r}
 \text{くり上がる} \\
 \curvearrowright \\
 10 \text{ 時 } 45 \text{ 分} \\
 \downarrow +1 \quad \downarrow -60 \\
 11 \text{ 時 } 20 \text{ 分}
 \end{array}
 \end{array}$$

<筆算>

10時	45分
+	35分
<hr/>	
11時	20分

答え (午前11時20分)

② 午前6時35分から50分たった時こくをもとめましょう。

$$6時35分 + 50分$$

$$\begin{array}{r}
 \begin{array}{r}
 \text{くり上がる} \\
 \curvearrowright \\
 6 \text{ 時 } 35 \text{ 分} \\
 \downarrow +1 \quad \downarrow -60 \\
 7 \text{ 時 } 25 \text{ 分}
 \end{array}
 \end{array}$$

<筆算>

6時	35分
+	50分
<hr/>	
7時	25分

答え (午前7時25分)



時こくと時間の もとめかた 3

○分後の計算



日にち： 月 日

名まえ _____

① 午前8時45分から45分たった時こくをもとめましょう。

$$8 \text{ 時 } 45 \text{ 分} + 45 \text{ 分}$$

$$\begin{array}{r}
 \begin{array}{ccc}
 & \text{くり上がる} & \\
 & \curvearrowright & \\
 = & 8 & \text{時 } 90 \text{ 分} \\
 & \downarrow +1 & \downarrow -60 \\
 = & 9 & \text{時 } 30 \text{ 分}
 \end{array}
 \end{array}$$

<筆算>

8 時 45 分
+ 45 分
8 時 90 分

答え (午前9時30分)

② 午前10時40分から30分たった時こくをもとめましょう。

$$10 \text{ 時 } 40 \text{ 分} + 30 \text{ 分}$$

$$\begin{array}{r}
 \begin{array}{ccc}
 & \text{くり上がる} & \\
 & \curvearrowright & \\
 = & 10 & \text{時 } 70 \text{ 分} \\
 & \downarrow +1 & \downarrow -60 \\
 = & 11 & \text{時 } 10 \text{ 分}
 \end{array}
 \end{array}$$

<筆算>

10 時 40 分
+ 30 分
10 時 70 分

答え (午前11時10分)





時こくと時間の もとめかた 3

○分後の計算



日にち： 月 日

名まえ _____

① 午後9時50分から40分たった時こくをもとめましょう。

$$9 \text{ 時 } 50 \text{ 分} + 40 \text{ 分}$$

$$\begin{array}{r}
 \begin{array}{ccc}
 & \text{くり上がる} & \\
 & \curvearrowright & \\
 = & 9 & \text{時 } 90 \text{ 分} \\
 & \downarrow +1 & \downarrow -60 \\
 = & 10 & \text{時 } 30 \text{ 分}
 \end{array}
 \end{array}$$

<筆算>

9 時 50 分
+ 40 分
9 時 90 分

答え (午後 10 時 30 分)

② 午前7時50分から35分たった時こくをもとめましょう。

$$7 \text{ 時 } 50 \text{ 分} + 35 \text{ 分}$$

$$\begin{array}{r}
 \begin{array}{ccc}
 & \text{くり上がる} & \\
 & \curvearrowright & \\
 = & 7 & \text{時 } 85 \text{ 分} \\
 & \downarrow +1 & \downarrow -60 \\
 = & 8 & \text{時 } 25 \text{ 分}
 \end{array}
 \end{array}$$

<筆算>

7 時 50 分
+ 35 分
7 時 85 分

答え (午前 8 時 25 分)





時こくと時間の
もとめかた 3



○分後の計算

日にち： 月 日

名まえ _____

① 午後8時25分から50分たった時こくをもとめましょう。

$$8 \text{ 時 } 25 \text{ 分} + 50 \text{ 分}$$

$$\begin{array}{r} \text{くり上がる} \\ \curvearrowright \\ = 8 \text{ 時 } 75 \text{ 分} \\ \downarrow +1 \quad \downarrow -60 \\ = 9 \text{ 時 } 15 \text{ 分} \end{array}$$

<筆算>

	8 時	25 分
+		50 分
<hr/>		
	8 時	75 分

答え (午後9時15分)

② 午前9時50分から25分たった時こくをもとめましょう。

$$9 \text{ 時 } 50 \text{ 分} + 25 \text{ 分}$$

$$\begin{array}{r} \text{くり上がる} \\ \curvearrowright \\ = 9 \text{ 時 } 75 \text{ 分} \\ \downarrow +1 \quad \downarrow -60 \\ = 10 \text{ 時 } 15 \text{ 分} \end{array}$$

<筆算>

	9 時	50 分
+		25 分
<hr/>		
	9 時	75 分

答え (午前10時15分)





時こくと時間の
もとめかた 3



○分後の計算

日にち： 月 日

名まえ _____

① 午前4時45分から30分たった時こくをもとめましょう。

$$4 \text{ 時 } 45 \text{ 分} + 30 \text{ 分}$$

$$\begin{array}{r}
 \begin{array}{ccc}
 & \text{くり上がる} & \\
 & \curvearrowright & \\
 = & 4 & \text{時 } 75 \text{ 分} \\
 & \downarrow +1 & \downarrow -60 \\
 = & 5 & \text{時 } 15 \text{ 分}
 \end{array}
 \end{array}$$

<筆算>

4 時 45 分
+ 30 分
4 時 75 分

答え (午前 5 時 15 分)

② 午後9時50分から25分たった時こくをもとめましょう。

$$9 \text{ 時 } 50 \text{ 分} + 25 \text{ 分}$$

$$\begin{array}{r}
 \begin{array}{ccc}
 & \text{くり上がる} & \\
 & \curvearrowright & \\
 = & 9 & \text{時 } 75 \text{ 分} \\
 & \downarrow +1 & \downarrow -60 \\
 = & 10 & \text{時 } 15 \text{ 分}
 \end{array}
 \end{array}$$

<筆算>

9 時 50 分
+ 25 分
9 時 75 分

答え (午後 10 時 15 分)





時こくと時間の もとめかた 3

○分後の計算



日にち： 月 日

名まえ _____

1 次の問いに答えましょう。

① 午後3時25分から50分たった時こくをもとめましょう。

$$\text{式： } 3\text{時}25\text{分} + 50\text{分}$$

$$= 3\text{時}75\text{分}$$

$$= 4\text{時}15\text{分}$$

答え (午後4時15分)

② 午前9時55分から30分たった時こくをもとめましょう。

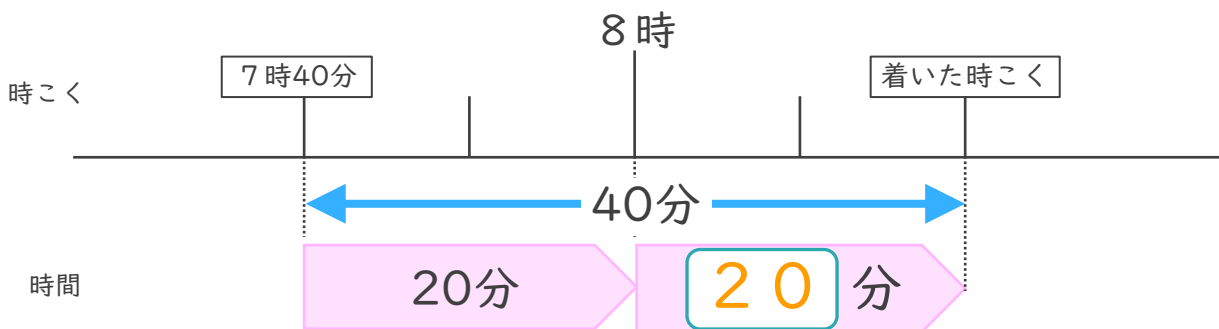
$$\text{式： } 9\text{時}55\text{分} + 30\text{分}$$

$$= 9\text{時}85\text{分}$$

$$= 10\text{時}25\text{分}$$

答え (午前10時25分)

2 家を午前7時40分に出て、40分歩くと病院に着きました。



① にあてはまる数を書きましょう。

② 病院に着いた時こくは何時何分ですか。

答え (午前8時20分)



時こくと時間の もとめかた 3

○分後の計算



日にち： 月 日

名まえ _____

1 次の問いに答えましょう。

① 午後2時45分から40分たった時こくをもとめましょう。

$$\text{式： } 2\text{時}45\text{分} + 40\text{分}$$

$$= 2\text{時}85\text{分}$$

$$= 3\text{時}25\text{分}$$

答え（ 午後3時25分 ）

② 午前6時35分から40分たった時こくをもとめましょう。

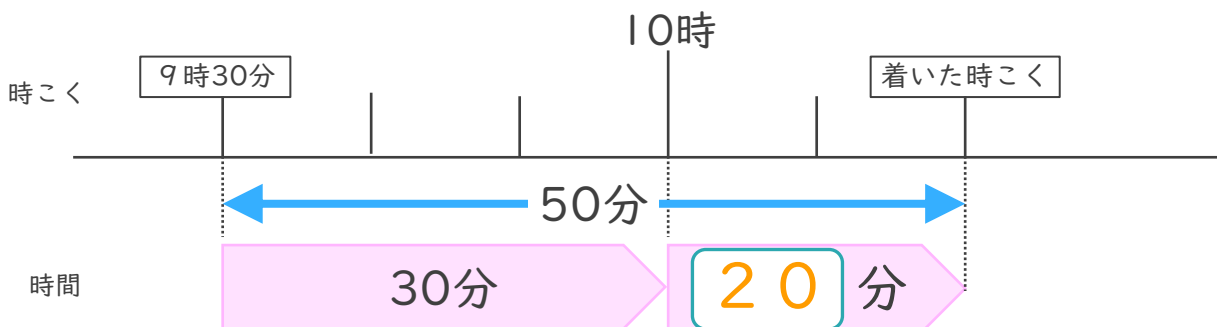
$$\text{式： } 6\text{時}35\text{分} + 40\text{分}$$

$$= 6\text{時}75\text{分}$$

$$= 7\text{時}15\text{分}$$

答え（ 午前7時15分 ）

2 家を午前9時30分に出て、50分歩くと病院に着きました。



① にあてはまる数を書きましょう。

② 病院に着いた時こくは何時何分ですか。

答え（ 午前10時20分 ）



時こくと時間の
もとめかた 3

13

○分後の計算

日にち： 月 日

名まえ _____

1 次の問いに答えましょう。

① 午後3時55分から30分たった時こくをもとめましょう。

$$\text{式： } 3 \text{ 時 } 55 \text{ 分} + 30 \text{ 分}$$

$$= 3 \text{ 時 } 85 \text{ 分}$$

$$= 4 \text{ 時 } 25 \text{ 分}$$

答え (午後4時25分)

② 午後5時40分から35分たった時こくをもとめましょう。

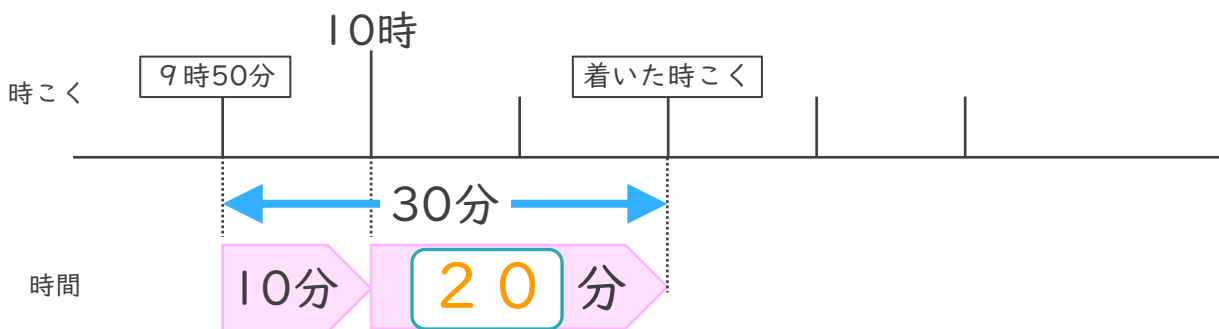
$$\text{式： } 5 \text{ 時 } 40 \text{ 分} + 35 \text{ 分}$$

$$= 5 \text{ 時 } 75 \text{ 分}$$

$$= 6 \text{ 時 } 15 \text{ 分}$$

答え (午後6時15分)

2 いえ ぜん 家を午前9時50分に出て、30分歩くとびょういん っ 病院に着きました。



① にあてはまる数を書きましょう。

② 病院に着いた時こくは何時何分ですか。

答え (午前10時20分)



時こくと時間の
もとめかた 3

14

○分後の計算

日にち： 月 日

名まえ _____

1 次の問いに答えましょう。

① 午前6時45分から30分たった時こくをもとめましょう。

$$\text{式： } 6\text{時}45\text{分} + 30\text{分}$$

$$= 6\text{時}75\text{分}$$

$$= 7\text{時}15\text{分}$$

答え（ 午前7時15分 ）

② 午後4時50分から45分たった時こくをもとめましょう。

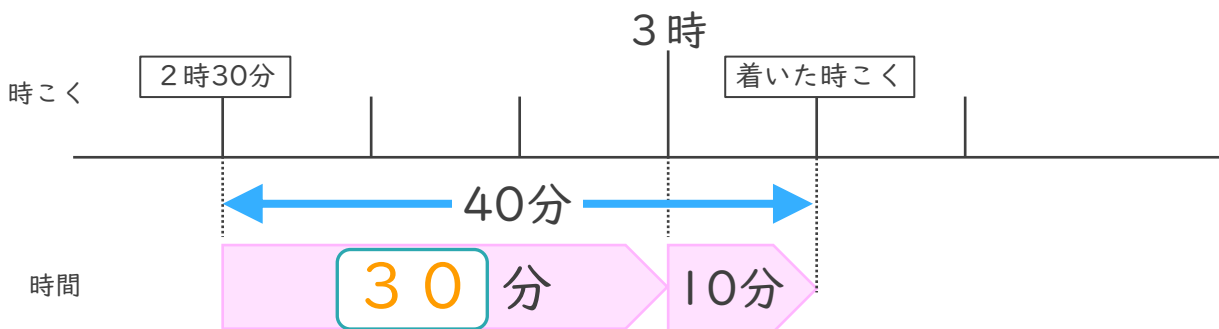
$$\text{式： } 4\text{時}50\text{分} + 45\text{分}$$

$$= 4\text{時}95\text{分}$$

$$= 5\text{時}35\text{分}$$

答え（ 午後5時35分 ）

2 家を午後2時30分に出て、40分歩くと病院に着きました。



① にあてはまる数を書きましょう。

② 病院に着いた時こくは何時何分ですか。

答え（ 午後3時10分 ）



時こくと時間の
もとめかた 3

15

○分後の計算

めざせ75点!



名まえ _____

1 次の問いに答えましょう。(各25点)

① 午後3時25分から50分たった時こくをもとめましょう。

式: 3時25分 + 50分

= 3時75分

= 4時15分

答え (午後4時15分)

② 午前9時55分から30分たった時こくをもとめましょう。

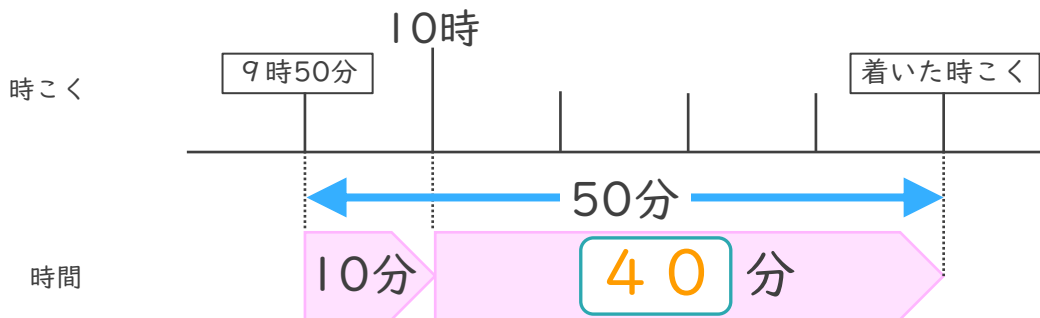
式: 9時55分 + 30分

= 9時85分

= 10時25分

答え (午前10時25分)

2 家を午前9時50分に出て、50分歩くと病院に着きました。



① にあてはまる数を書きましょう。(25点)

② 病院に着いた時こくは何時何分ですか。(25点)

答え (午前10時40分)



時こくと時間の もとめかた 3

16

○分後の計算

めざせ75点!



名まえ _____

1 次の問いに答えましょう。(各25点)

① 午前4時55分から40分たった時こくをもとめましょう。

$$\text{式: } 4\text{時}55\text{分} + 40\text{分}$$

$$= 4\text{時}95\text{分}$$

$$= 5\text{時}35\text{分}$$

答え (午前5時35分)

② 午後1時45分から45分たった時こくをもとめましょう。

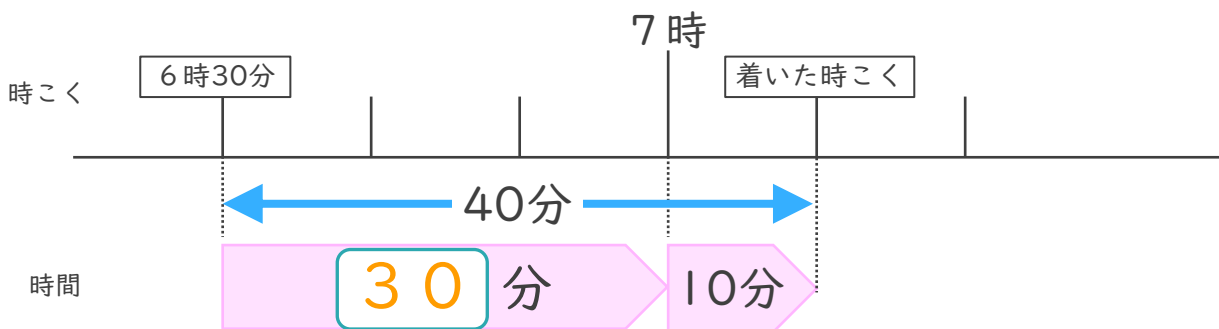
$$\text{式: } 1\text{時}45\text{分} + 45\text{分}$$

$$= 1\text{時}90\text{分}$$

$$= 2\text{時}30\text{分}$$

答え (午後2時30分)

2 家を午前6時30分に出て、40分歩くと病院に着きました。



① にあてはまる数を書きましょう。(25点)

② 病院に着いた時こくは何時何分ですか。(25点)

答え (午前7時10分)