



# 時こくと時間の もとめかた 8

◎ 正午をはさむ計算

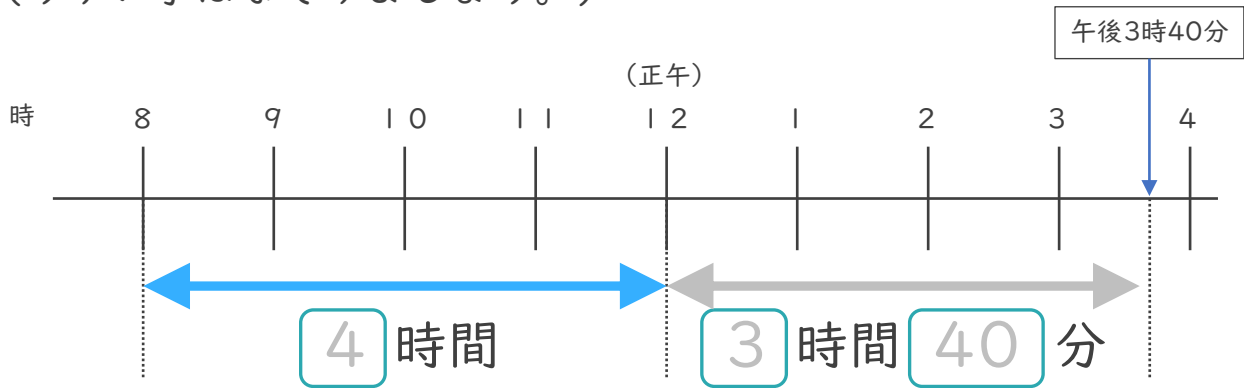


日にち： 月 日

名まえ \_\_\_\_\_

1 午前8時から午後3時40分までの時間をもとめます。

(うすい字はなぞりましょう。)



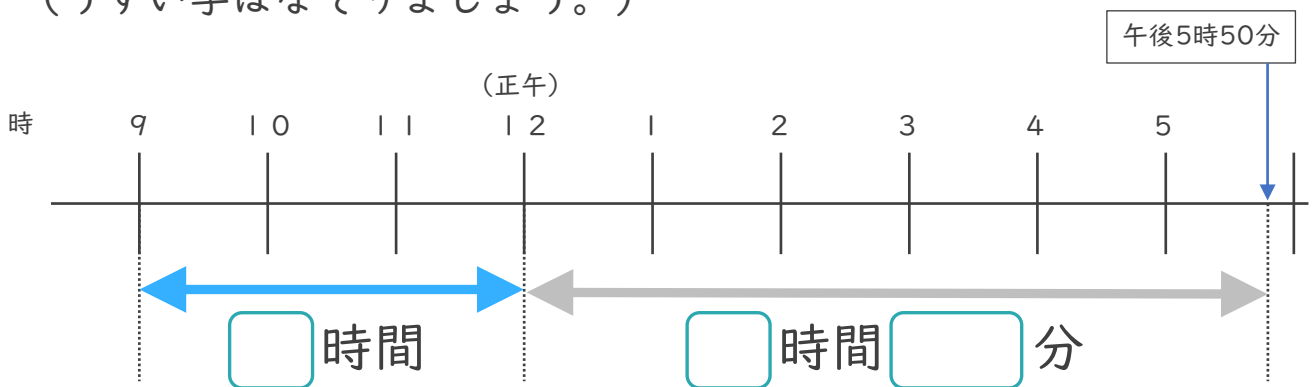
①  にあてはまる数を書きましょう。

② 午前8時から午後3時40分までの時間は何時間何分ですか。

答え ( 7 時間 4 0 分 )

2 午前9時から午後5時50分までの時間をもとめます。

(うすい字はなぞりましょう。)



①  にあてはまる数を書きましょう。

② 午前9時から午後5時50分までの時間は何時間何分ですか。

答え ( 時間 分 )





# 時こくと時間の もとめかた 8



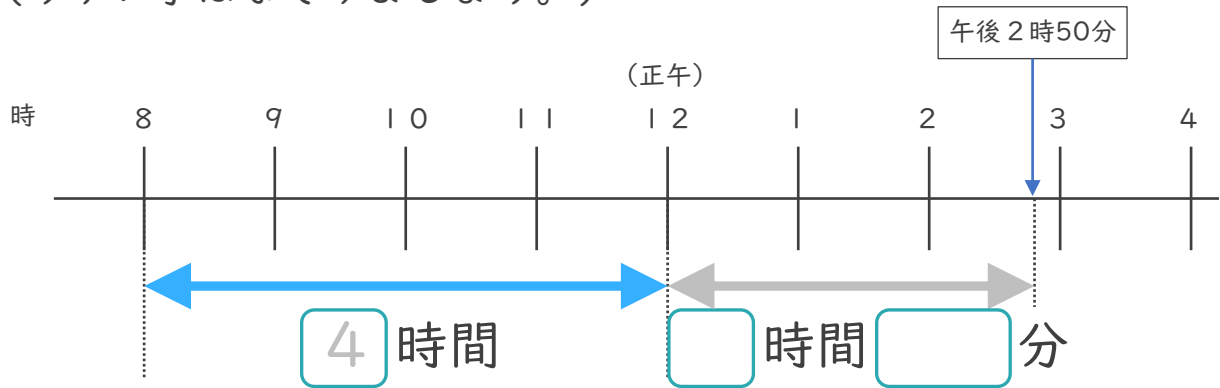
● 正午をはさむ計算

日にち：            月            日

名まえ \_\_\_\_\_

1 午前8時から午後2時50分までの時間をもとめます。

(うすい字はなぞりましょう。)

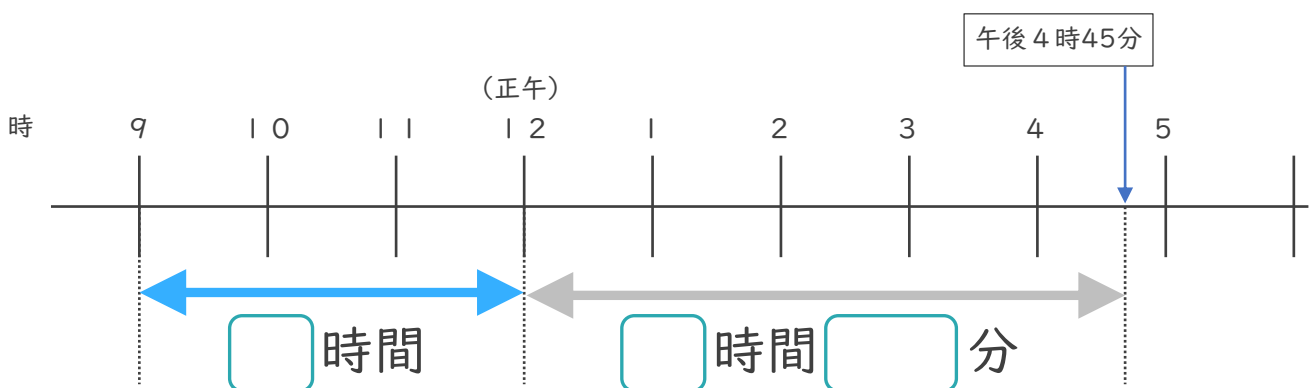


① □にあてはまる数を書きましょう。

② 午前8時から午後2時50分までの時間は何時間何分ですか。

答え (            6時間50分            )

2 午前9時から午後4時45分までの時間をもとめます。



① □にあてはまる数を書きましょう。

② 午前9時から午後4時45分までの時間は何時間何分ですか。

答え (                                  )





# 時こくと時間の もとめかた 8



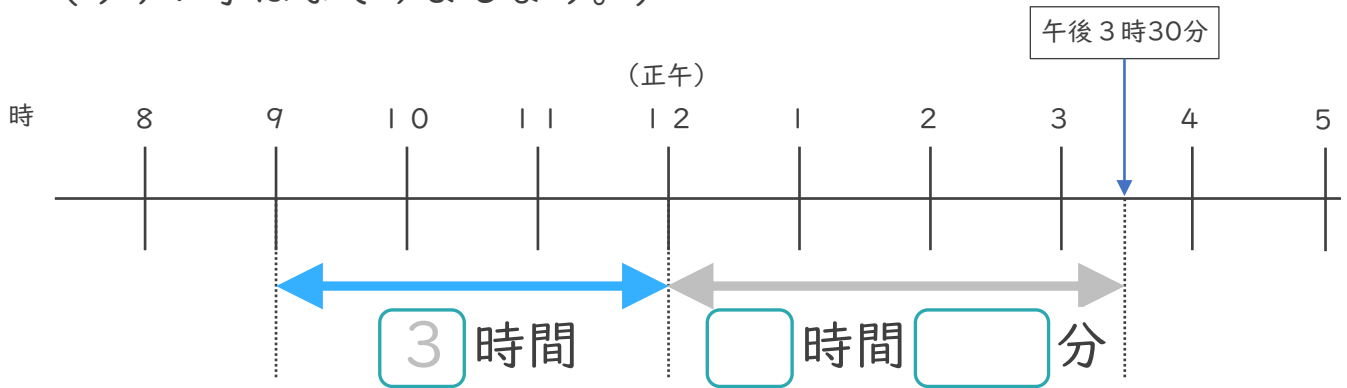
● 正午をはさむ計算

日にち：        月        日

名まえ \_\_\_\_\_

1 午前9時から午後3時30分までの時間をもとめます。

(うすい字はなぞりましょう。)

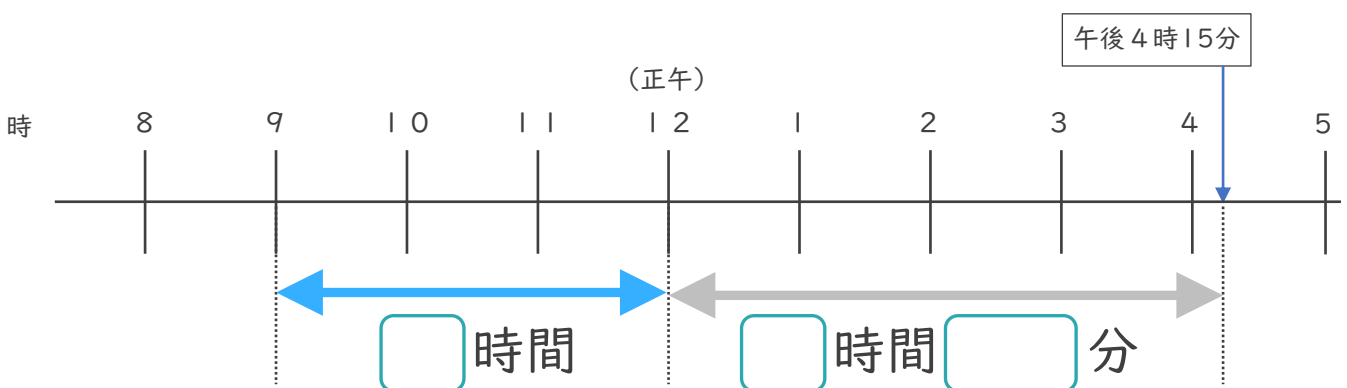


① □ にあてはまる数を書きましょう。

② 午前9時から午後3時30分までの時間は何時間何分ですか。

答え (                      時間                      分                      )

2 午前9時から午後4時15分までの時間をもとめます。



① □ にあてはまる数を書きましょう。

② 午前9時から午後4時15分までの時間は何時間何分ですか。

答え (                      )



# 時こくと時間の もとめかた 8



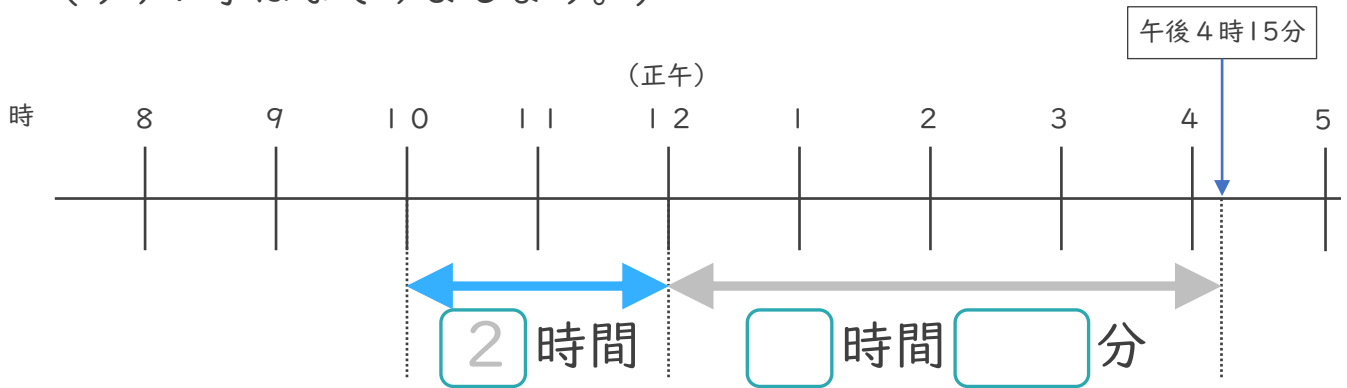
● 正午をはさむ計算

日にち：            月            日

名まえ \_\_\_\_\_

1 午前10時から午後4時15分までの時間をもとめます。

(うすい字はなぞりましょう。)

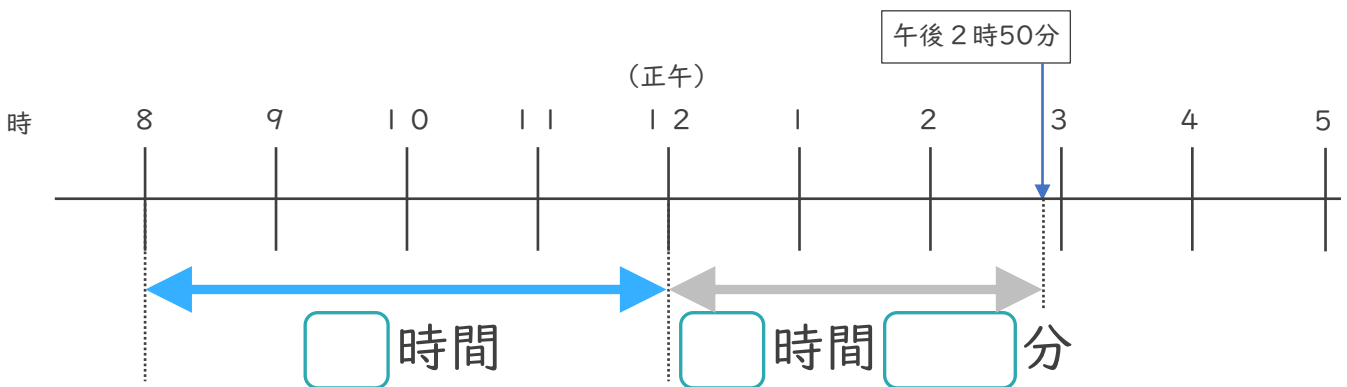


① □ にあてはまる数を書きましょう。

② 午前10時から午後4時15分までの時間は何時間何分ですか。

答え (                      時間                      分                      )

2 午前8時から午後2時50分までの時間をもとめます。



① □ にあてはまる数を書きましょう。

② 午前8時から午後2時50分までの時間は何時間何分ですか。

答え (                      )



時こくと時間の  
もとめかた 8

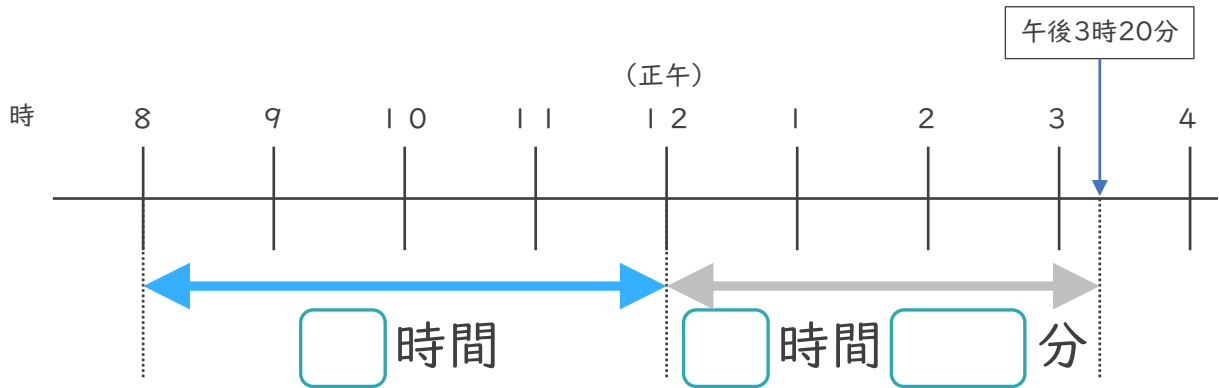


正午をはさむ計算

日にち： 月 日

名まえ \_\_\_\_\_

1 午前8時から午後3時20分までの時間をもとめます。

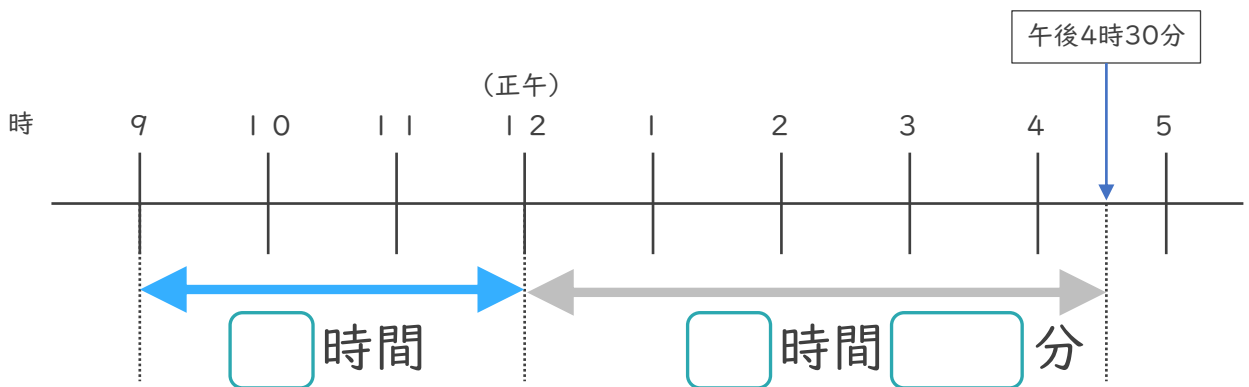


①  にあてはまる数を書きましょう。

② 午前8時から午後3時20分までの時間は何時間何分ですか。

答え ( )

2 午前9時から午後4時30分までの時間をもとめます。



①  にあてはまる数を書きましょう。

② 午前9時から午後5時50分までの時間は何時間何分ですか。

答え ( )



時こくと時間の  
もとめかた 8

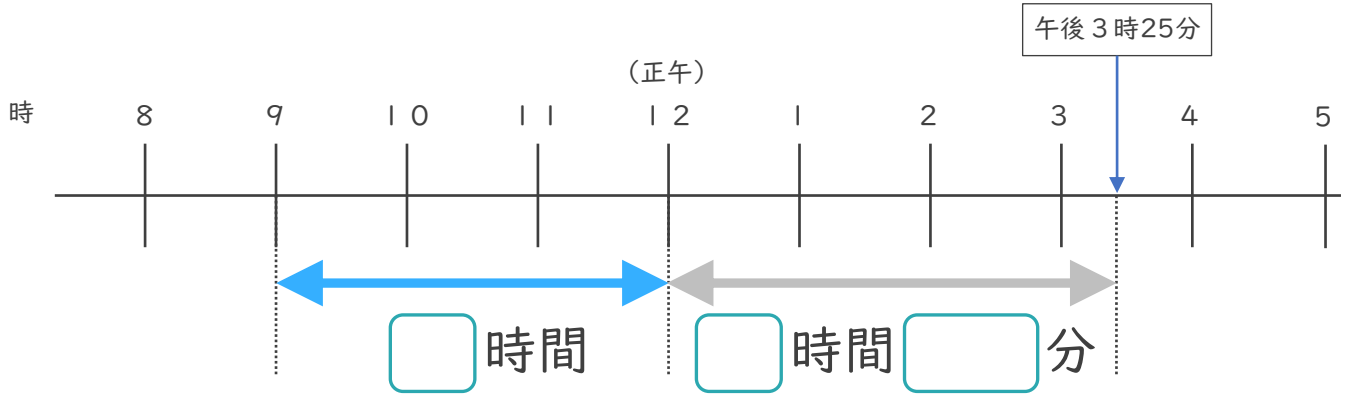


正午をはさむ計算

日にち： 月 日

名まえ \_\_\_\_\_

1 午前9時から午後3時25分までの時間をもとめます。

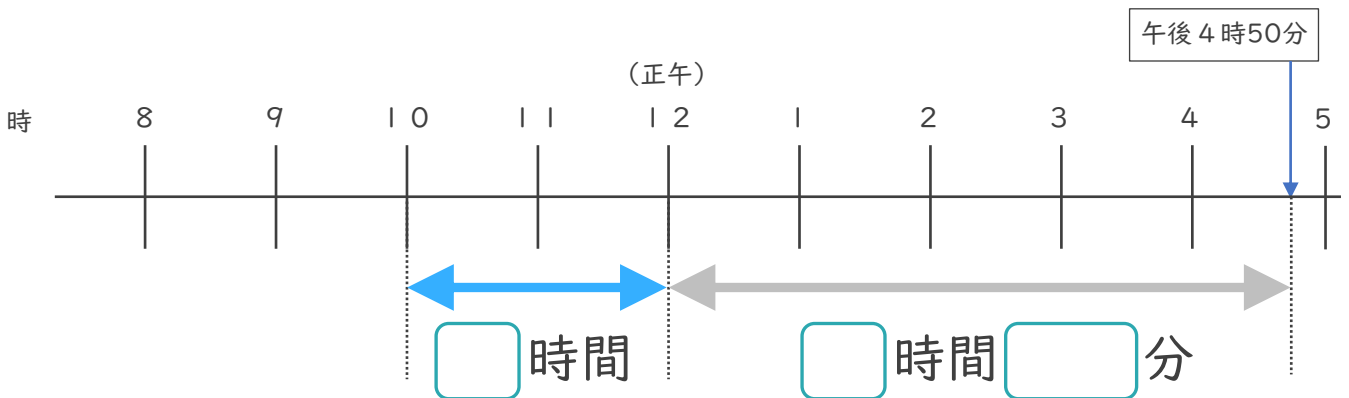


①  にあてはまる数を書きましょう。

② 午前9時から午後3時25分までの時間は何時間何分ですか。

答え ( )

2 午前10時から午後4時50分までの時間をもとめます。



①  にあてはまる数を書きましょう。

② 午前10時から午後4時50分までの時間は何時間何分ですか。

答え ( )



時こくと時間の  
もとめかた 8

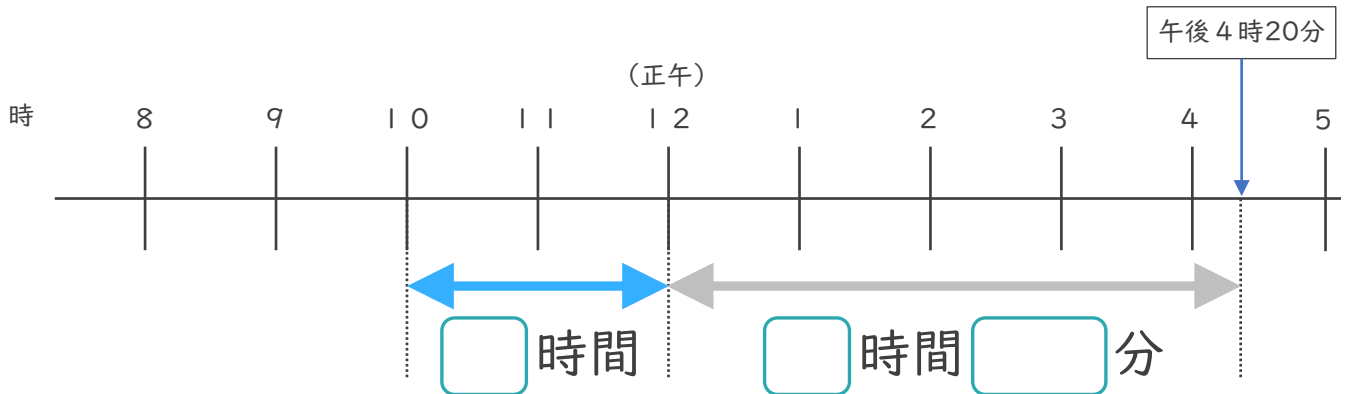
7

正午をはさむ計算

日にち： 月 日

名まえ \_\_\_\_\_

1 午前10時から午後4時20分までの時間をもとめます。

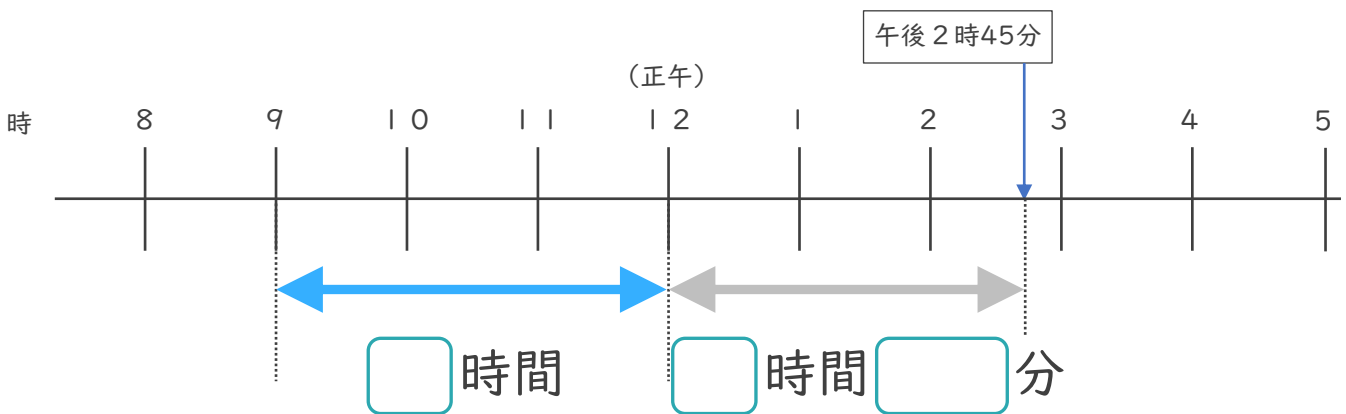


①  にあてはまる数を書きましょう。

② 午前10時から午後4時20分までの時間は何時間何分ですか。

答え ( )

2 午前9時から午後2時45分までの時間をもとめます。



①  にあてはまる数を書きましょう。

② 午前9時から午後2時45分までの時間は何時間何分ですか。

答え ( )





# 時こくと時間の もとめかた 8

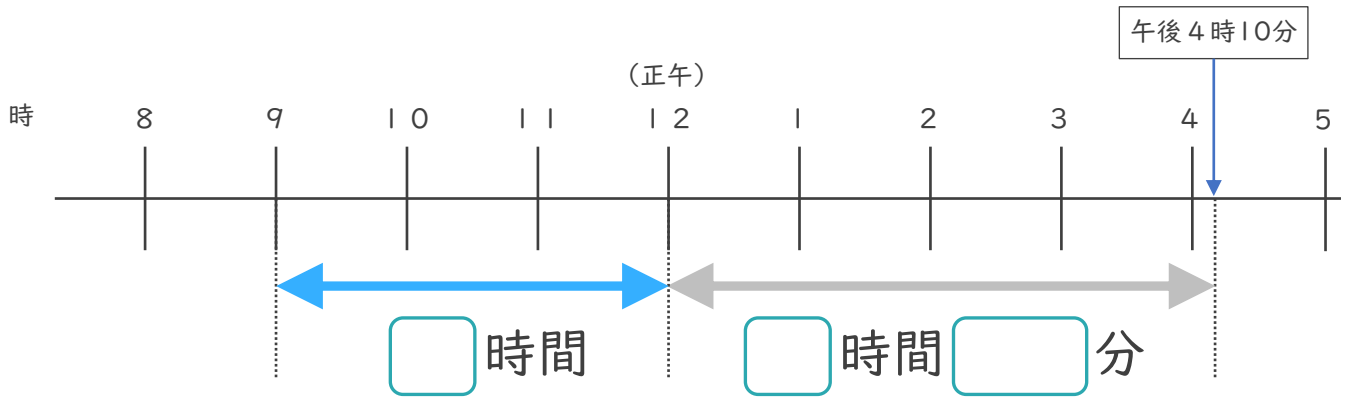
◎ 正午をはさむ計算



日にち： 月 日

名まえ \_\_\_\_\_

1 午前9時から午後4時10分までの時間をもとめます。

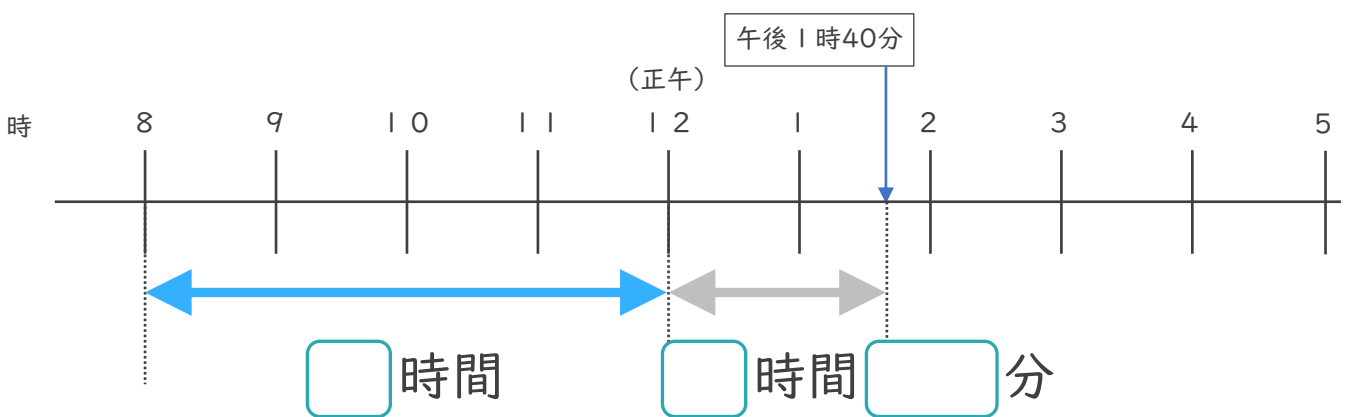


① □ にあてはまる数を書きましょう。

② 午前9時から午後4時10分までの時間は何時間何分ですか。

答え ( )

2 午前8時から午後1時40分までの時間をもとめます。



① □ にあてはまる数を書きましょう。

② 午前8時から午後1時40分までの時間は何時間何分ですか。

答え ( )





# 時こくと時間の もとめかた 8

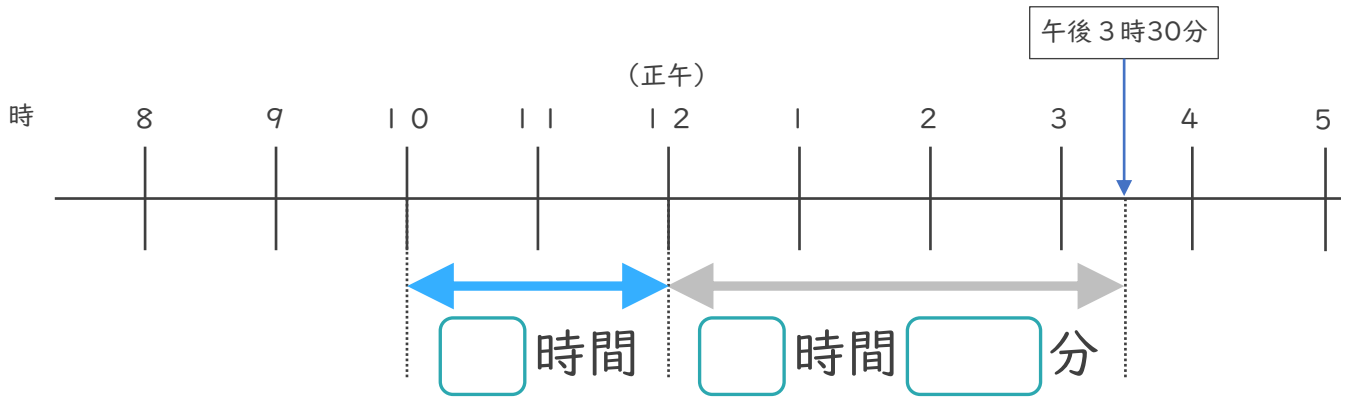


● 正午をはさむ計算

日にち： 月 日

名まえ \_\_\_\_\_

1 午前10時から午後3時30分までの時間をもとめます。

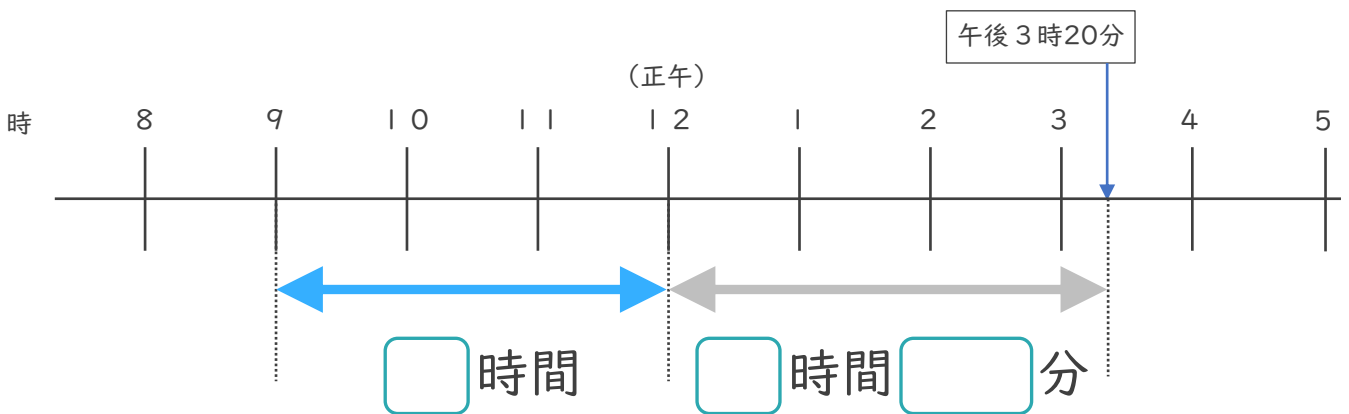


① □ にあてはまる数を書きましょう。

② 午前10時から午後3時30分までの時間は何時間何分ですか。

答え ( )

2 午前9時から午後3時20分までの時間をもとめます。



① □ にあてはまる数を書きましょう。

② 午前9時から午後3時20分までの時間は何時間何分ですか。

答え ( )














# 時こくと時間の もとめかた 8 15

◎ 正午をはさむ計算

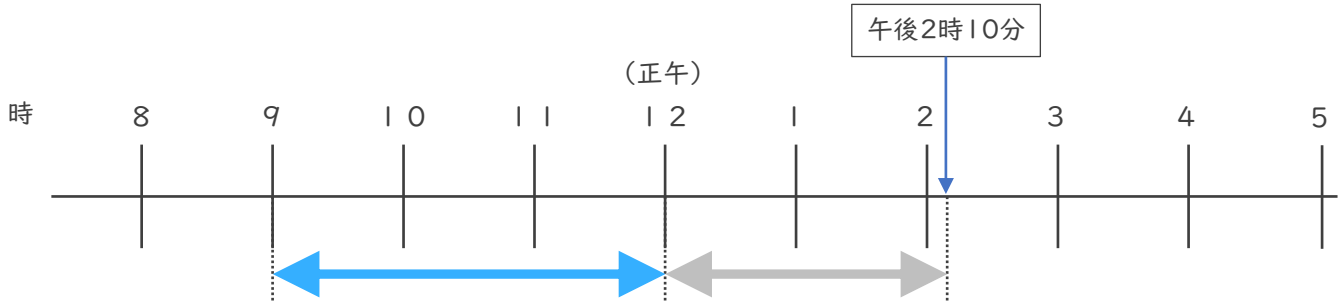
めざせ100点!



名まえ \_\_\_\_\_

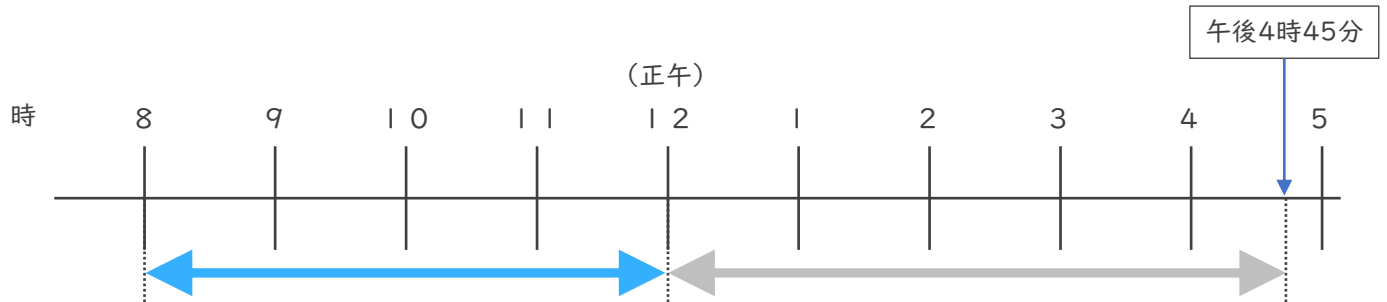
・ 次の時間をもとめましょう。

① 午前9時から午後2時10分までの時間 (35点)



答え ( )

② 午前8時から午後4時45分までの時間 (35点)



答え ( )

③ 午前9時50分から午前11時15分までの時間 (30点)

	時	分
—	時	分
	時	分

答え ( )




# 時こくと時間の もとめかた 8

# 16

◎ 正午をはさむ計算

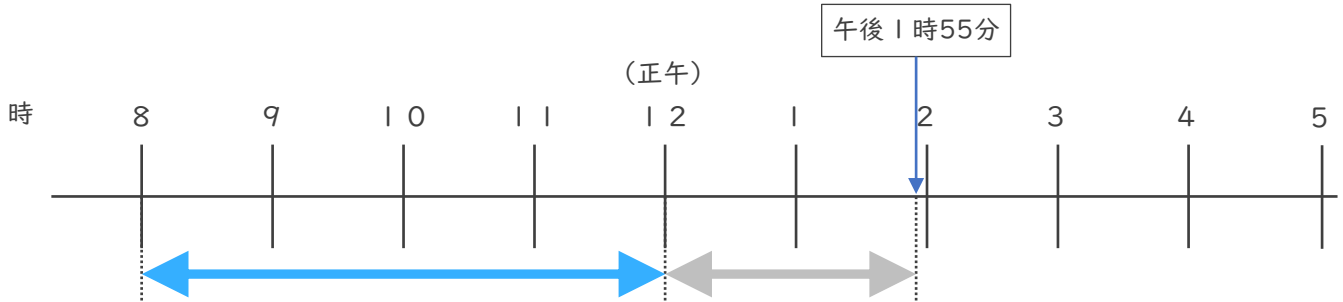
めざせ100点!



名まえ \_\_\_\_\_

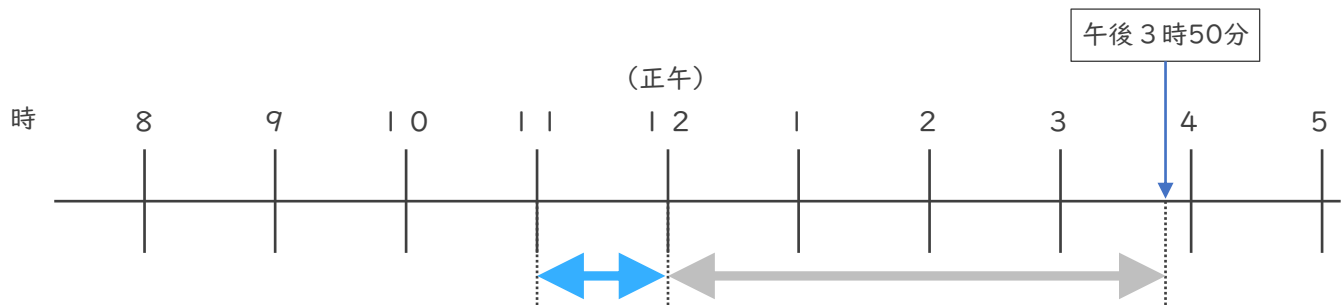
・ 次の時間をもとめましょう。

① 午前8時から午後1時55分までの時間 (35点)



答え ( )

② 午前11時から午後3時50分までの時間 (35点)



答え ( )

③ 午前7時45分から午前11時20分までの時間 (30点)

	時	分
—	時	分
	時	分

答え ( )





# 時こくと時間の もとめかた 8

◎ 正午をはさむ計算

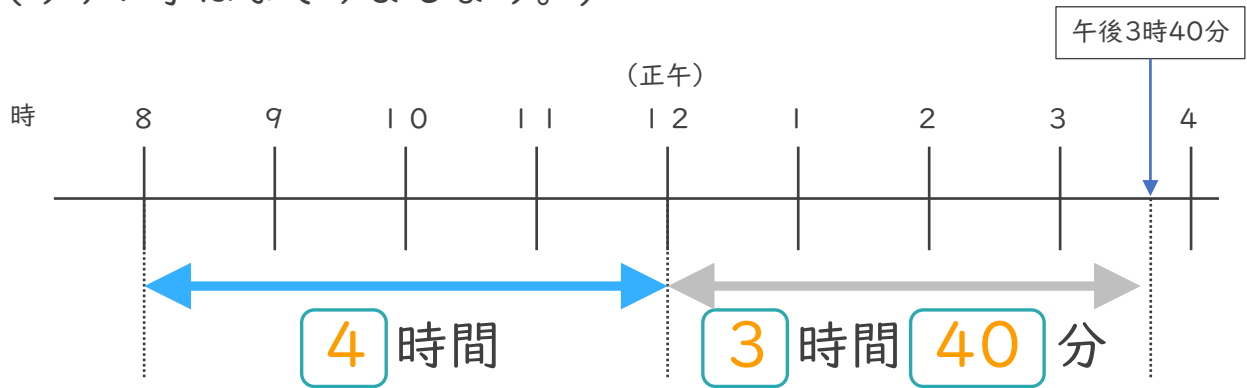


日にち： 月 日

名まえ \_\_\_\_\_

1 午前8時から午後3時40分までの時間をもとめます。

(うすい字はなぞりましょう。)



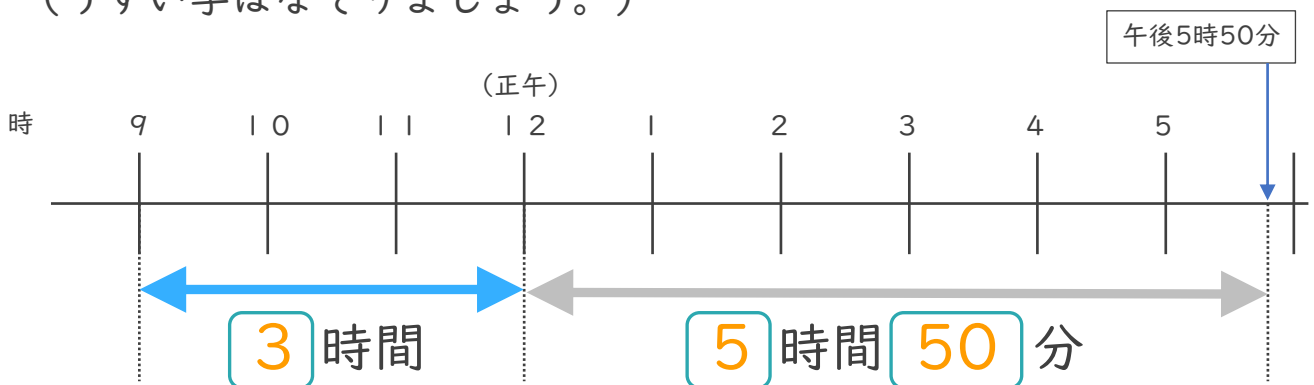
①  にあてはまる数を書きましょう。

② 午前8時から午後3時40分までの時間は何時間何分ですか。

答え ( **7 時間 40 分** )

2 午前9時から午後5時50分までの時間をもとめます。

(うすい字はなぞりましょう。)



①  にあてはまる数を書きましょう。

② 午前9時から午後5時50分までの時間は何時間何分ですか。

答え ( **8 時間 50 分** )





# 時こくと時間の もとめかた 8



● 正午をはさむ計算

日にち：        月        日

名まえ \_\_\_\_\_

1 午前8時から午後2時50分までの時間をもとめます。

(うすい字はなぞりましょう。)

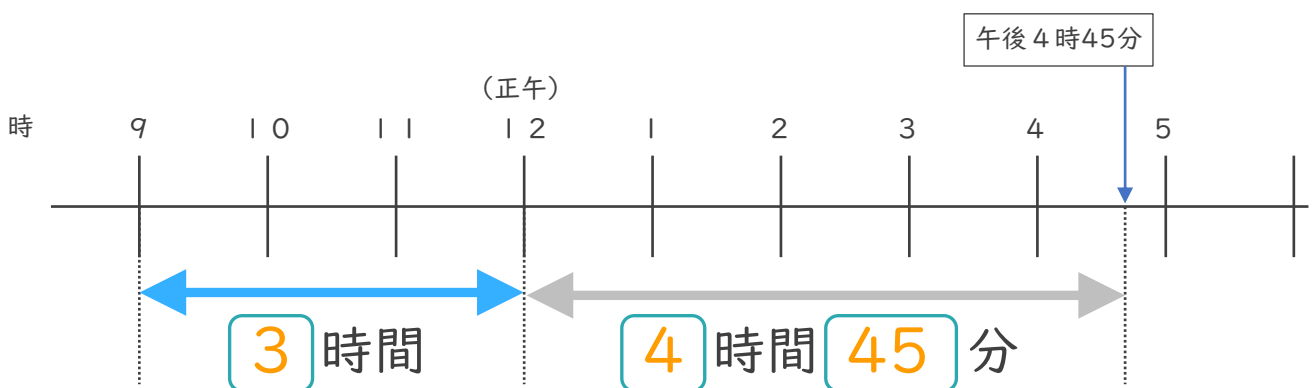


①  にあてはまる数を書きましょう。

② 午前8時から午後2時50分までの時間は何時間何分ですか。

答え (        **6 時間 5 0 分**        )

2 午前9時から午後4時45分までの時間をもとめます。



①  にあてはまる数を書きましょう。

② 午前9時から午後4時45分までの時間は何時間何分ですか。

答え (        **7 時間 4 5 分**        )





時こくと時間の  
もとめかた 8



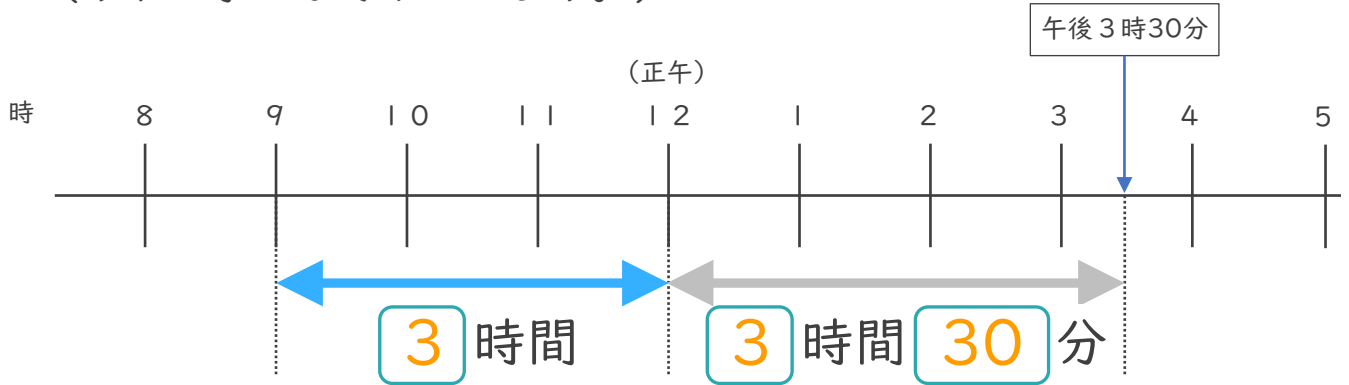
● 正午をはさむ計算

日にち：            月            日

名まえ \_\_\_\_\_

1 午前9時から午後3時30分までの時間をもとめます。

(うすい字はなぞりましょう。)

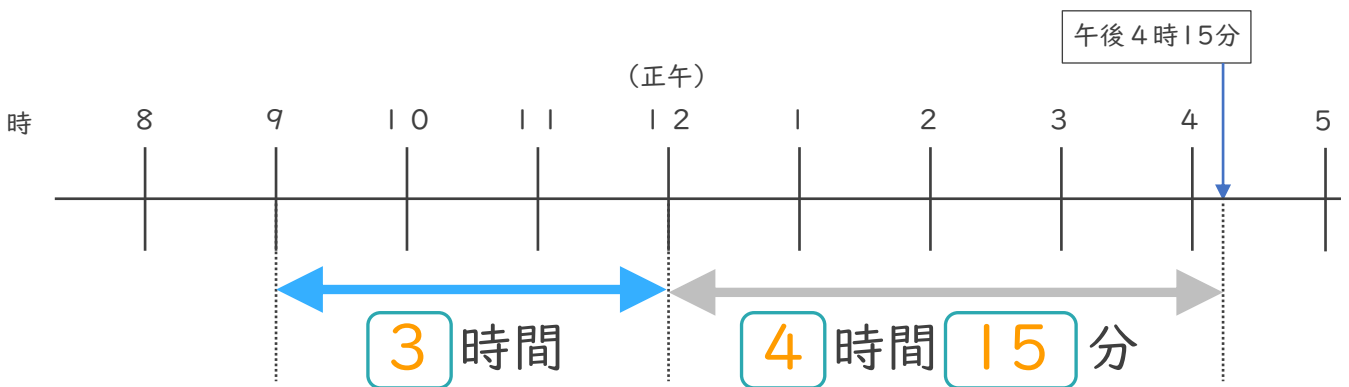


①  にあてはまる数を書きましょう。

② 午前9時から午後3時30分までの時間は何時間何分ですか。

答え (            **6 時間 3 0 分**            )

2 午前9時から午後4時15分までの時間をもとめます。



①  にあてはまる数を書きましょう。

② 午前9時から午後4時15分までの時間は何時間何分ですか。

答え (            **7 時間 1 5 分**            )

③ 確認 答え



すらすらぷりんと



時こくと時間の  
もとめかた 8



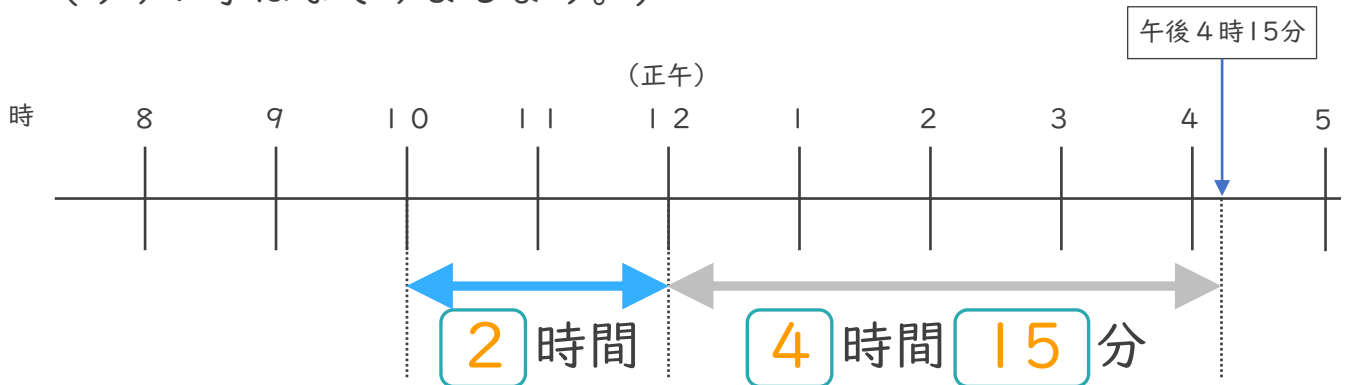
● 正午をはさむ計算

日にち： 月 日

名まえ \_\_\_\_\_

1 午前10時から午後4時15分までの時間をもとめます。

(うすい字はなぞりましょう。)

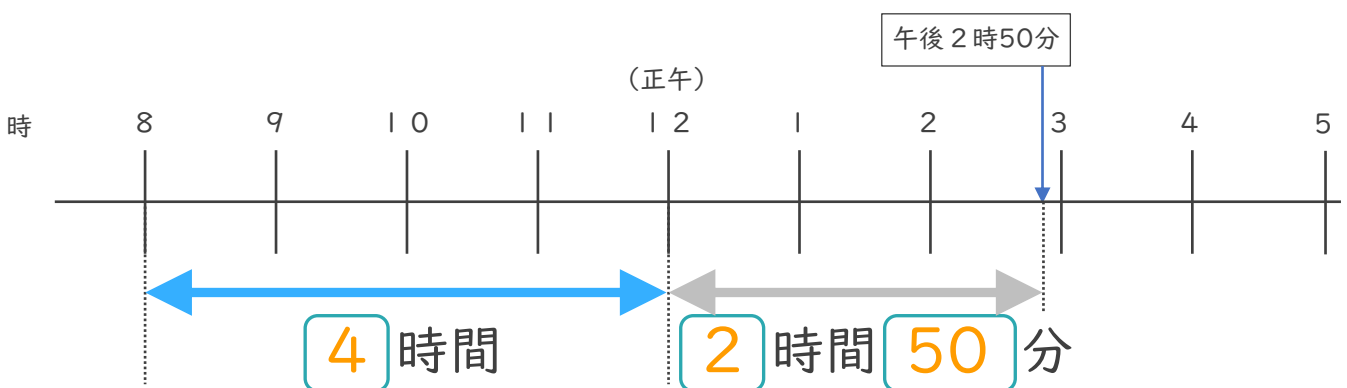


①  にあてはまる数を書きましょう。

② 午前10時から午後4時15分までの時間は何時間何分ですか。

答え ( **6時間15分** )

2 午前8時から午後2時50分までの時間をもとめます。



①  にあてはまる数を書きましょう。

② 午前8時から午後2時50分までの時間は何時間何分ですか。

答え ( **6時間50分** )





時こくと時間の  
もとめかた 8

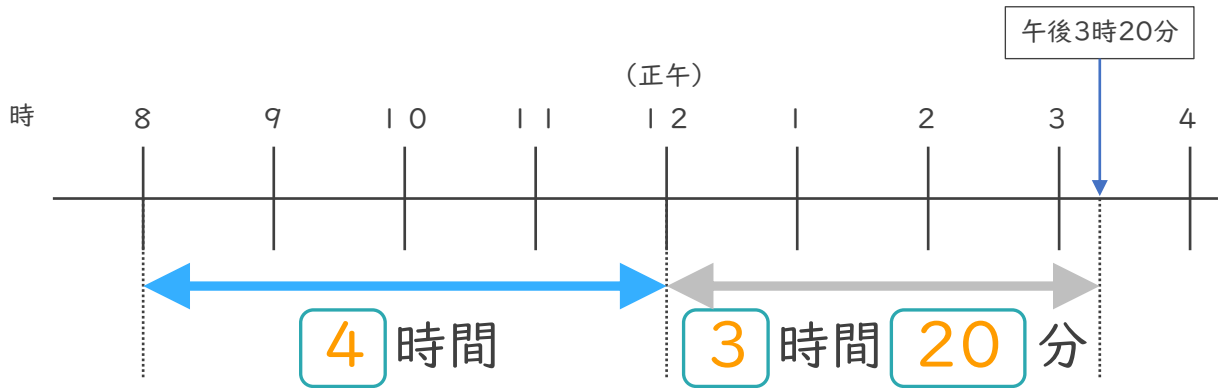


正午をはさむ計算

日にち： 月 日

名まえ \_\_\_\_\_

1 午前8時から午後3時20分までの時間をもとめます。

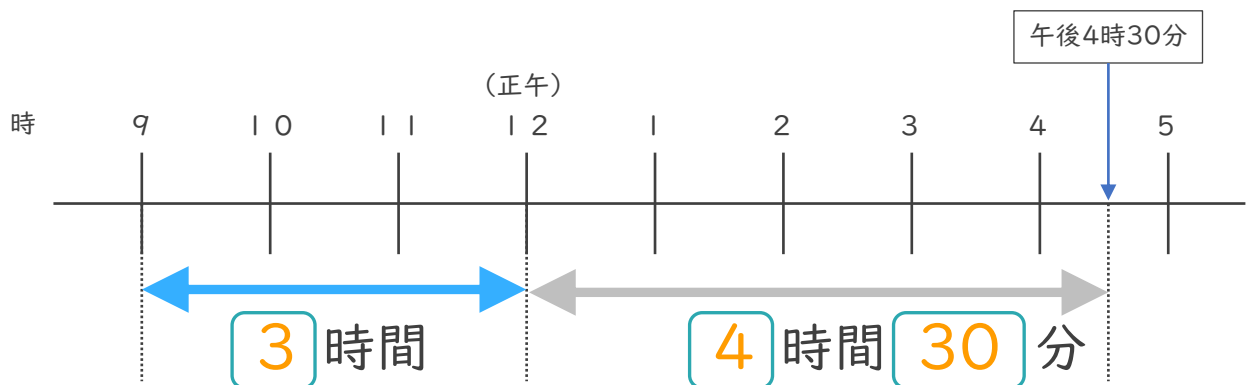


①  にあてはまる数を書きましょう。

② 午前8時から午後3時20分までの時間は何時間何分ですか。

答え ( 7 時間 20 分 )

2 午前9時から午後4時30分までの時間をもとめます。



①  にあてはまる数を書きましょう。

② 午前9時から午後5時50分までの時間は何時間何分ですか。

答え ( 7 時間 30 分 )





# 時こくと時間の もとめかた 8

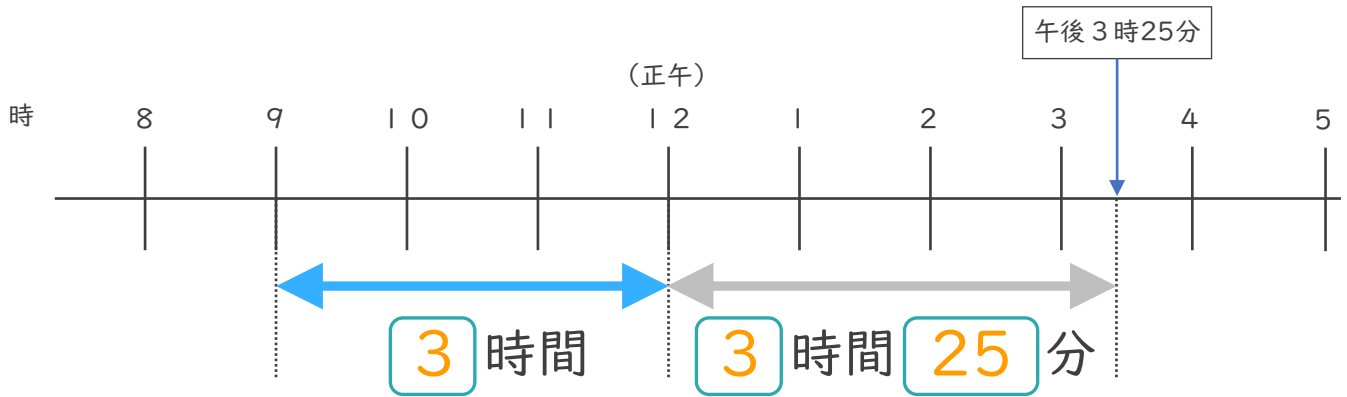
# 6

● 正午をはさむ計算

日にち：        月        日

名まえ \_\_\_\_\_

1 午前9時から午後3時25分までの時間をもとめます。

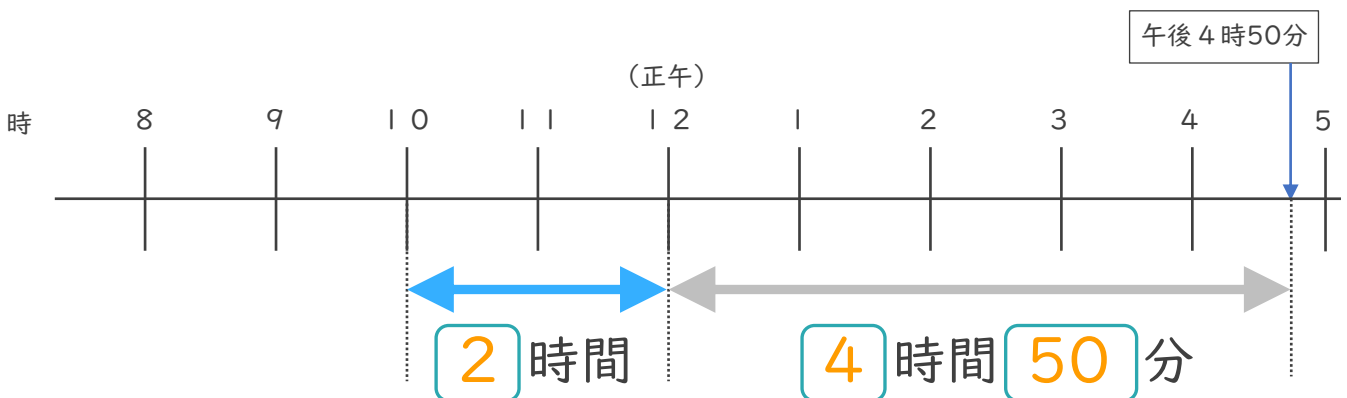


①  にあてはまる数を書きましょう。

② 午前9時から午後3時25分までの時間は何時間何分ですか。

答え (        **6時間25分**        )

2 午前10時から午後4時50分までの時間をもとめます。



①  にあてはまる数を書きましょう。

② 午前10時から午後4時50分までの時間は何時間何分ですか。

答え (        **6時間50分**        )





時こくと時間の  
もとめかた 8

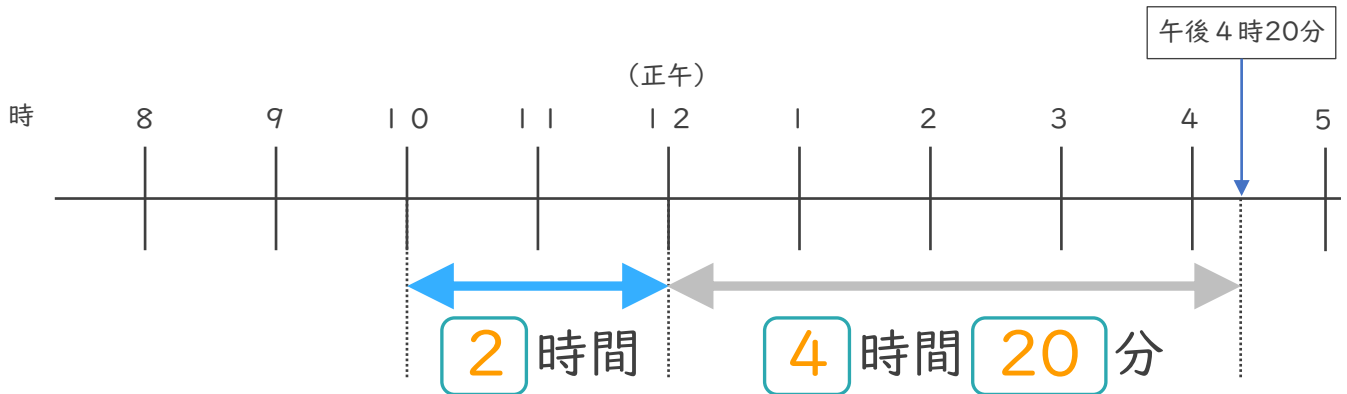


● 正午をはさむ計算

日にち：            月            日

名まえ \_\_\_\_\_

1 午前10時から午後4時20分までの時間をもとめます。

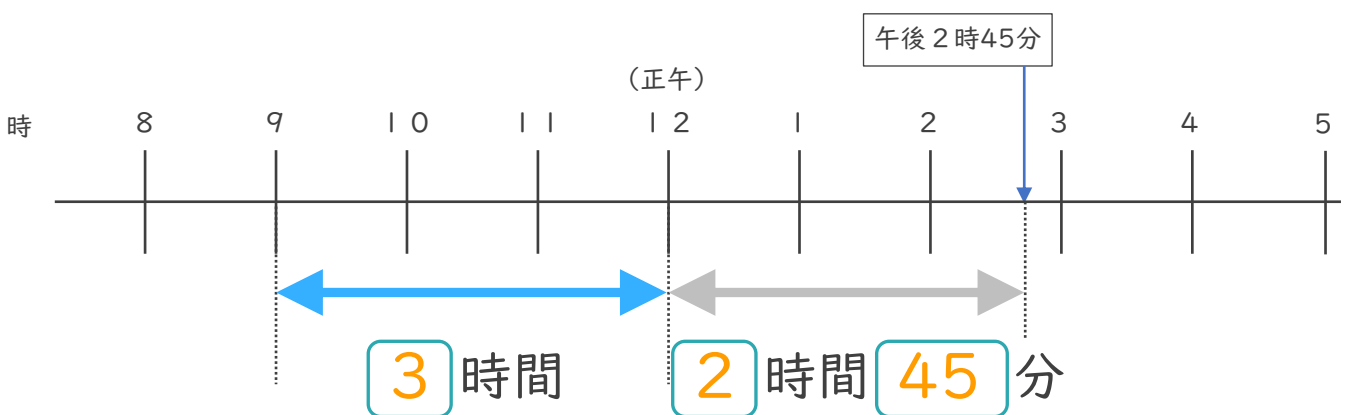


①  にあてはまる数を書きましょう。

② 午前10時から午後4時20分までの時間は何時間何分ですか。

答え (            **6 時間 20 分**            )

2 午前9時から午後2時45分までの時間をもとめます。



①  にあてはまる数を書きましょう。

② 午前9時から午後2時45分までの時間は何時間何分ですか。

答え (            **5 時間 45 分**            )





時こくと時間の  
もとめかた 8

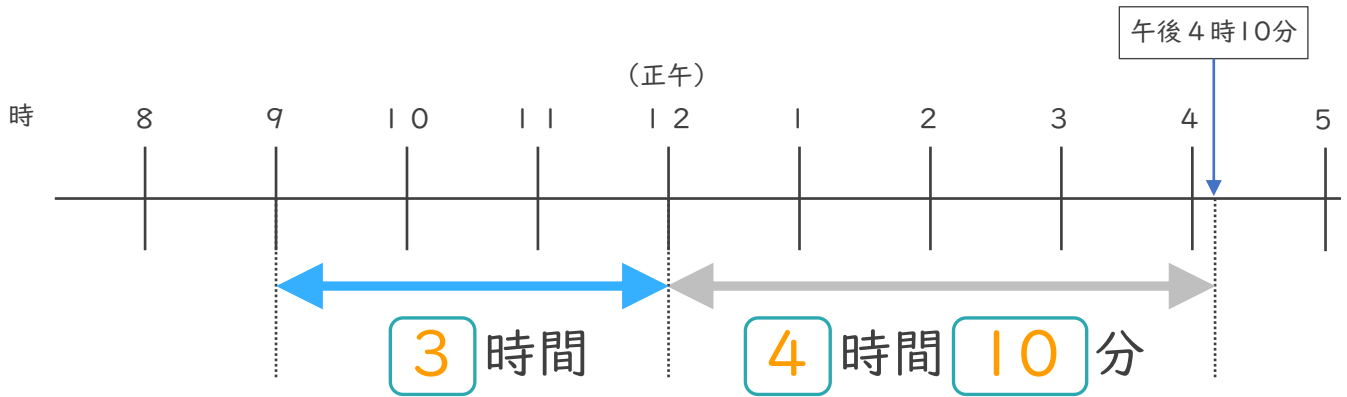


● 正午をはさむ計算

日にち：            月            日

名まえ \_\_\_\_\_

1 午前9時から午後4時10分までの時間をもとめます。

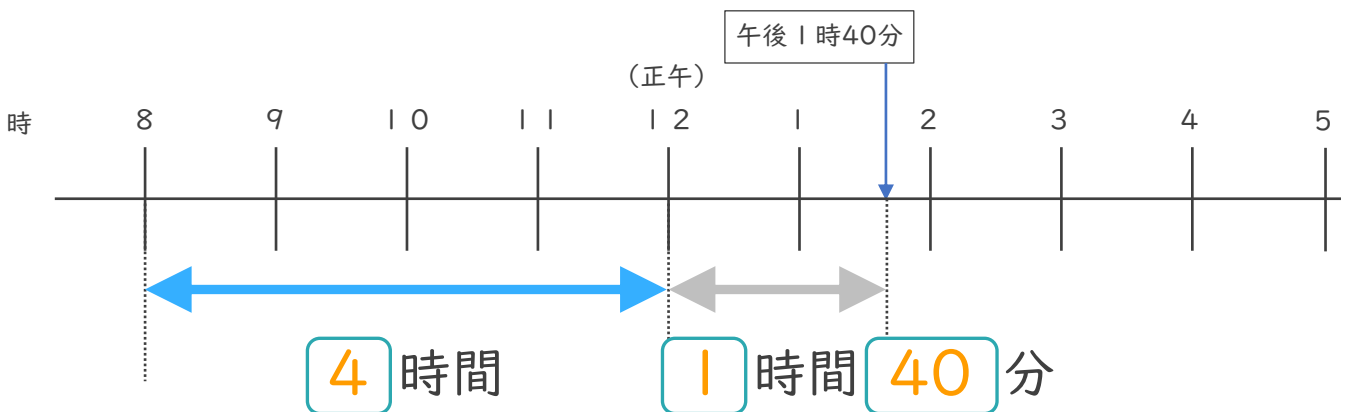


① □にあてはまる数を書きましょう。

② 午前9時から午後4時10分までの時間は何時間何分ですか。

答え (            7時間10分            )

2 午前8時から午後1時40分までの時間をもとめます。



① □にあてはまる数を書きましょう。

② 午前8時から午後1時40分までの時間は何時間何分ですか。

答え (            5時間40分            )







# 時こくと時間の もとめかた 8

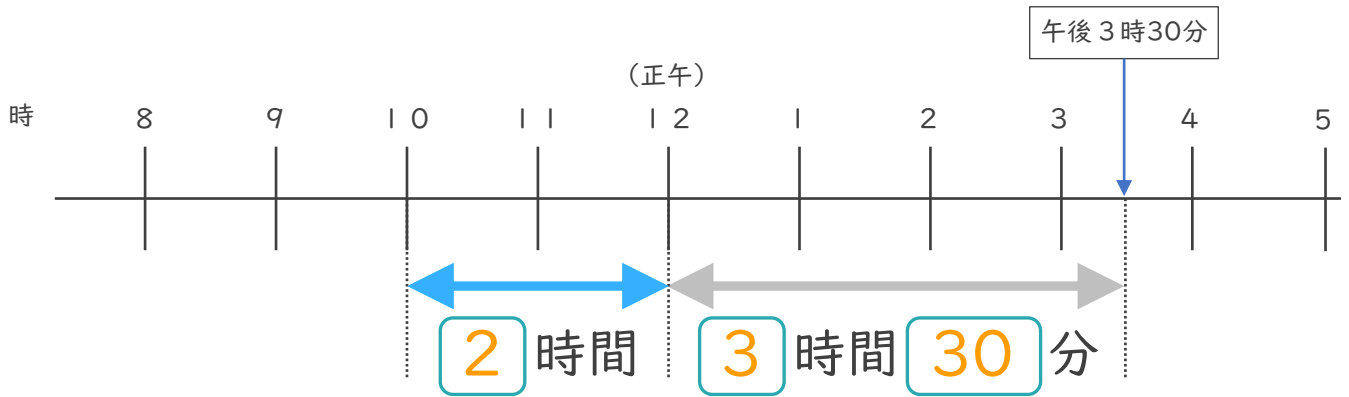


● 正午をはさむ計算

日にち：            月            日

名まえ \_\_\_\_\_

1 午前10時から午後3時30分までの時間をもとめます。

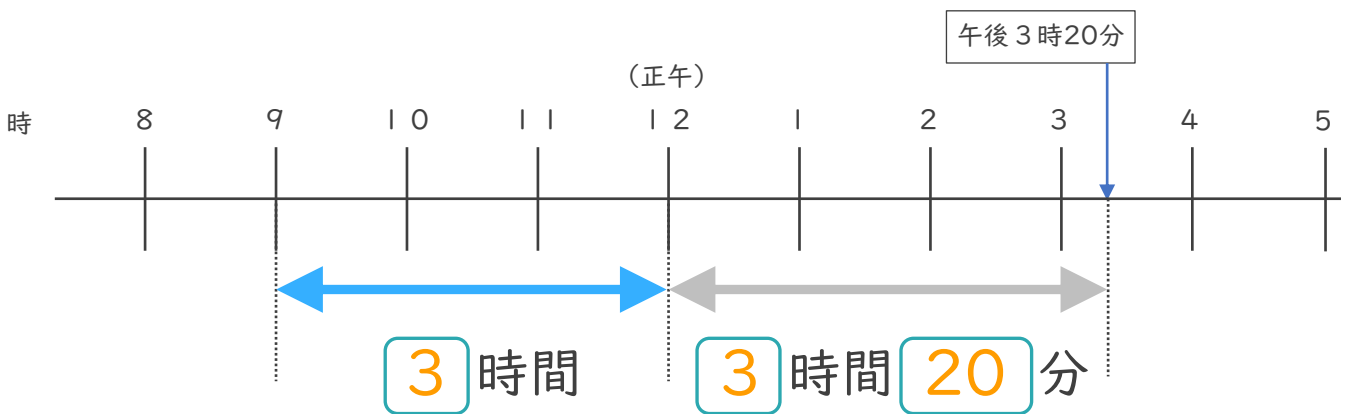


①  にあてはまる数を書きましょう。

② 午前10時から午後3時30分までの時間は何時間何分ですか。

答え (            **5 時間 30 分**            )

2 午前9時から午後3時20分までの時間をもとめます。



①  にあてはまる数を書きましょう。

② 午前9時から午後3時20分までの時間は何時間何分ですか。

答え (            **6 時間 20 分**            )





# 時こくと時間の もとめかた 8



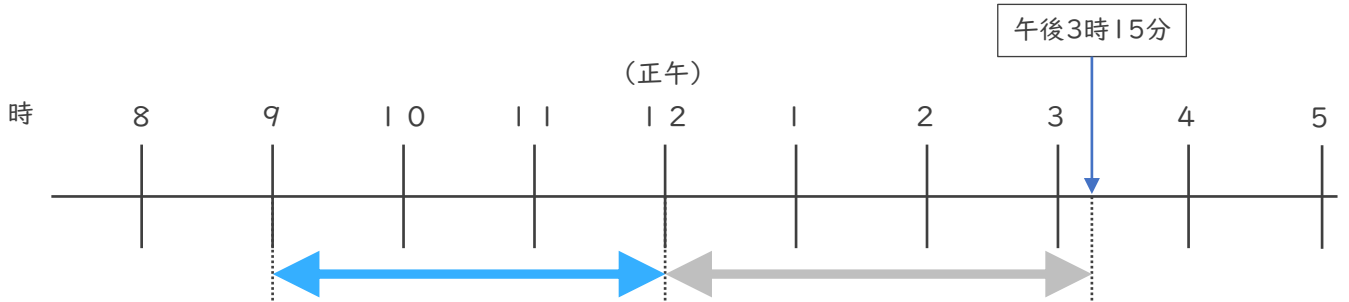
◎ 正午をはさむ計算

日にち：            月            日

名まえ \_\_\_\_\_

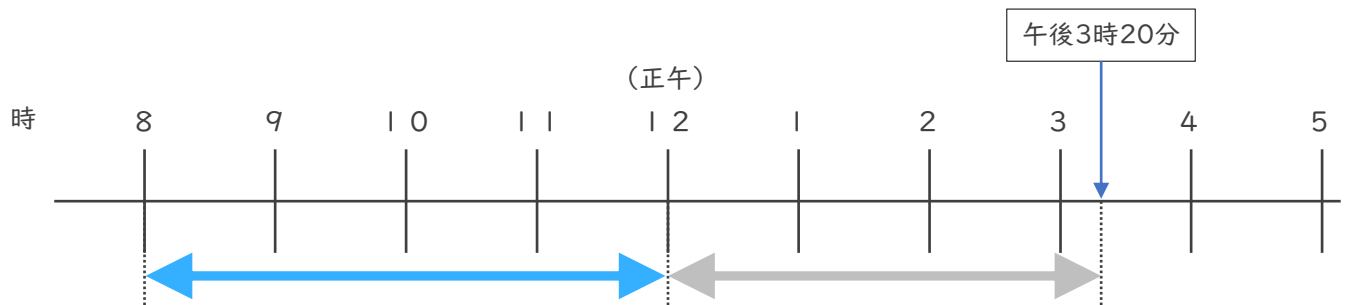
・ 次の時間をもとめましょう。

① 午前9時から午後3時15分までの時間



答え (            6 時間 1 5 分            )

② 午前8時から午後3時20分までの時間



答え (            7 時間 2 0 分            )

③ 午後3時50分から午後8時30分までの時間

	7	9 0	
	8	時	3 0
-	3	時	5 0 分
	4	時	4 0 分

答え (            4 時間 4 0 分            )





# 時こくと時間の もとめかた 8

◎ 正午をはさむ計算

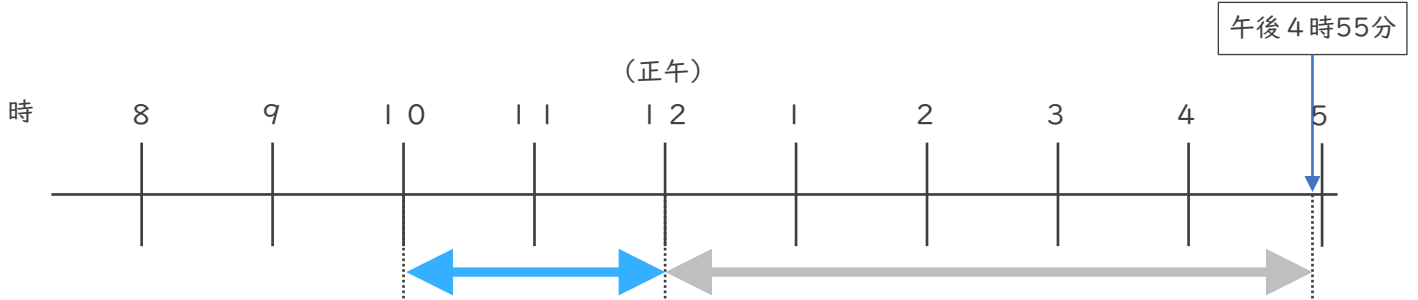


日にち：            月            日

名まえ \_\_\_\_\_

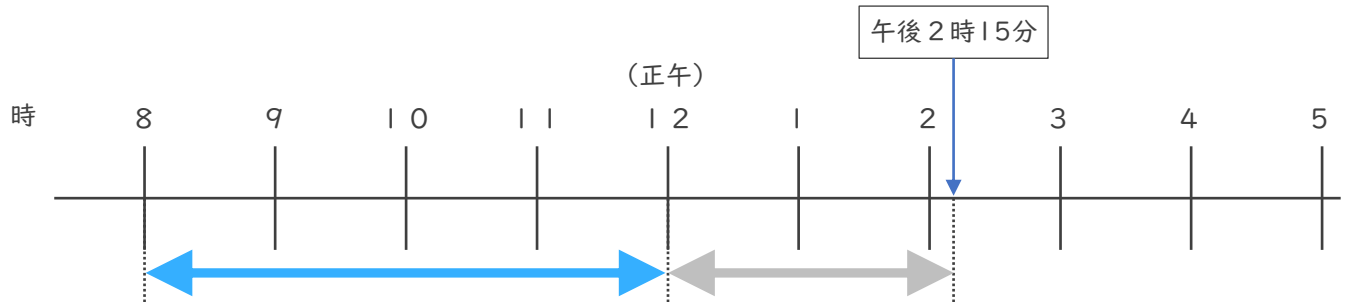
・ 次の時間をもとめましょう。

① 午前10時から午後4時55分までの時間



答え (            **6時間55分**            )

② 午前8時から午後2時10分までの時間



答え (            **6時間15分**            )

③ 午後1時45分から午後6時20分までの時間

	5	80	
-	6	20	分
	1	45	分
	4	35	分

答え (            **4時間35分**            )





# 時こくと時間の もとめかた 8

# 12

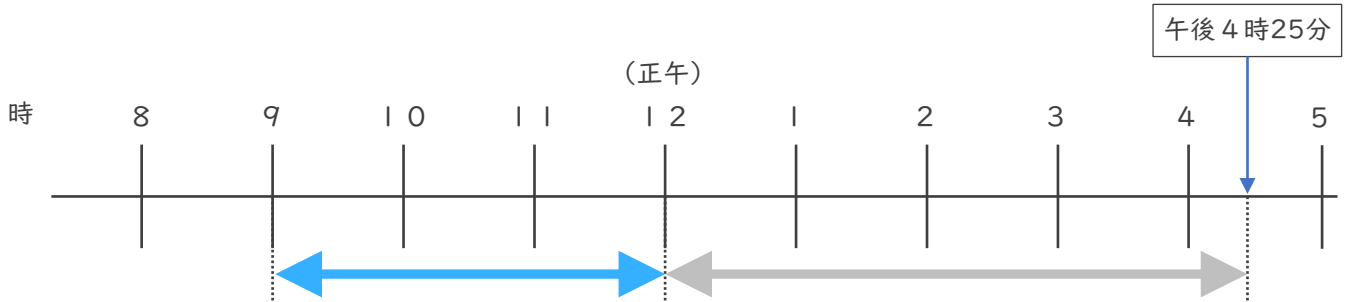
◎ 正午をはさむ計算

日にち：            月            日

名まえ \_\_\_\_\_

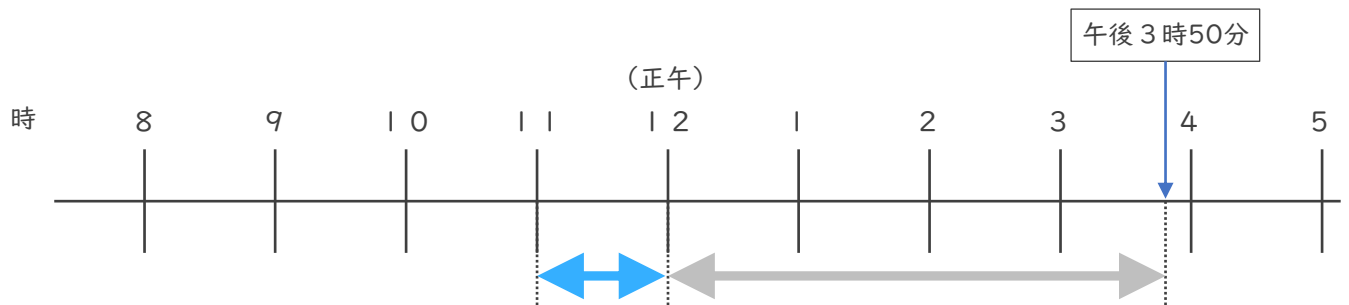
・ 次の時間をもとめましょう。

① 午前9時から午後4時25分までの時間



答え ( **7時間25分** )

② 午前11時から午後3時50分までの時間



答え ( **4時間50分** )

③ 午後3時25分から午後6時15分までの時間

	<del>5</del>	<del>7</del>	<del>5</del>
	<del>6</del> 時	<del>1</del> 時	<del>5</del> 分
-	3時	25分	
<hr/>			
	2時	50分	

答え ( **2時間50分** )





時こくと時間の  
もとめかた 8

13

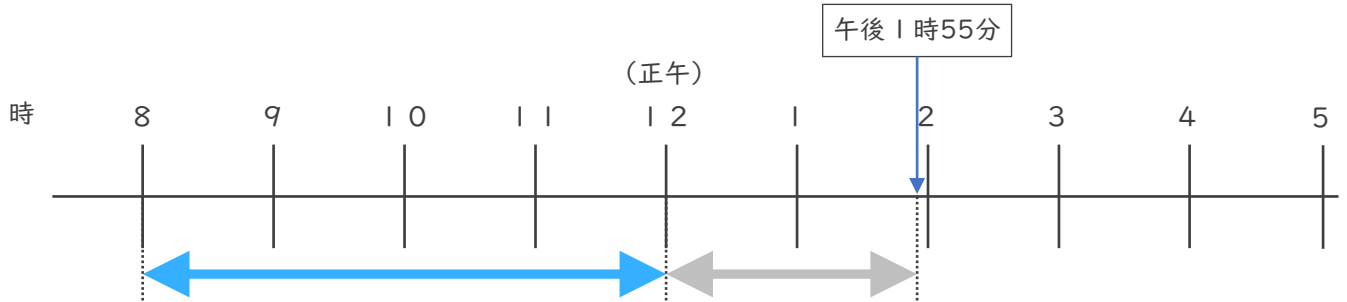
◎ 正午をはさむ計算

日にち：            月            日

名まえ \_\_\_\_\_

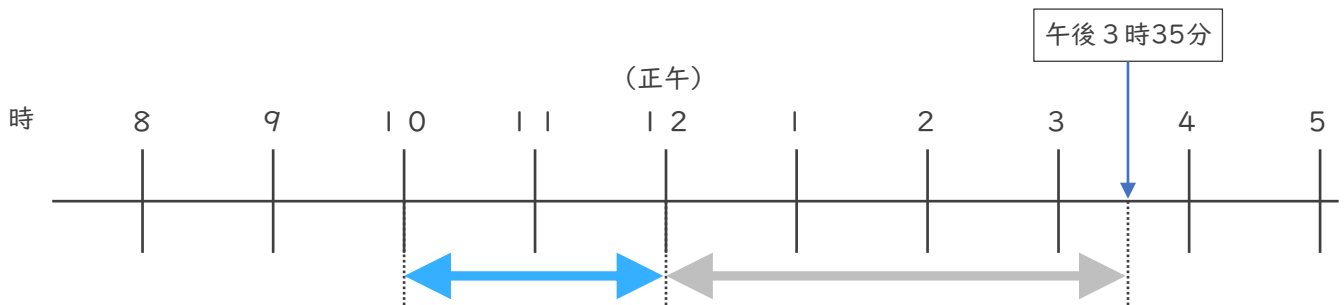
・ 次の時間をもとめましょう。

① 午前8時から午後1時55分までの時間



答え (            5 時間 5 5 分            )

② 午前10時から午後3時35分までの時間



答え (            5 時間 3 5 分            )

③ 午前8時25分から午前10時10分までの時間

	9	7 0
1 0	時	1 0 分
-	8 時 2 5 分	
	1 時 4 5 分	

答え (            1 時間 4 5 分            )





# 時こくと時間の もとめかた 8

# 14

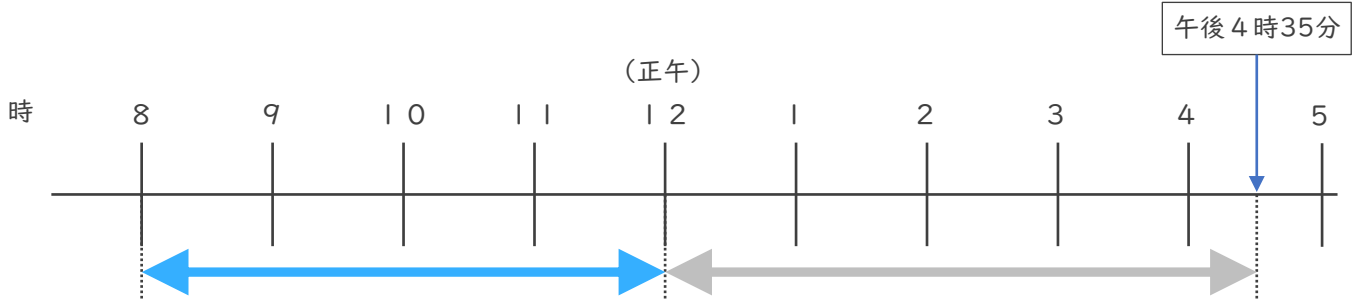
◎ 正午をはさむ計算

日にち：            月            日

名まえ \_\_\_\_\_

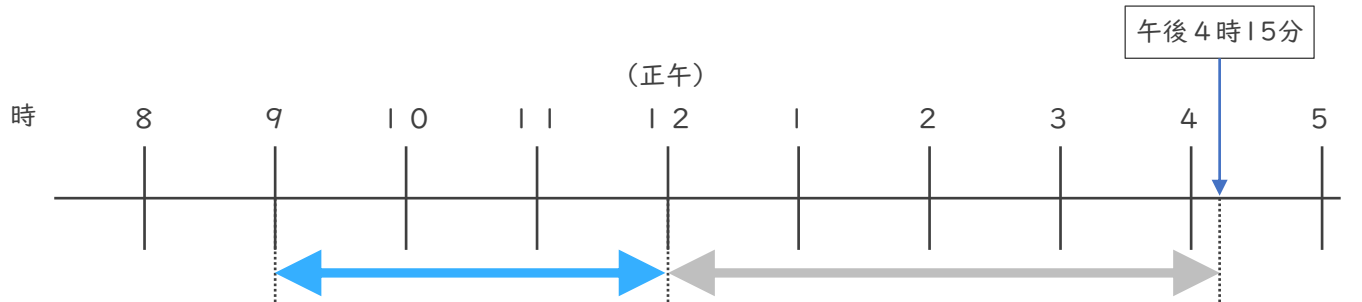
・ 次の時間をもとめましょう。

① 午前8時から午後4時35分までの時間



答え (            **8時間35分**            )

② 午前9時から午後4時15分までの時間



答え (            **7時間15分**            )

③ 午前7時45分から午前11時20分までの時間

	10	80	
11時	<del>20</del>	分	
-	7時	45分	
	3時	35分	


答え (            **3時間35分**            )



# 時こくと時間の もとめかた 8 15

◎ 正午をはさむ計算

めざせ100点!

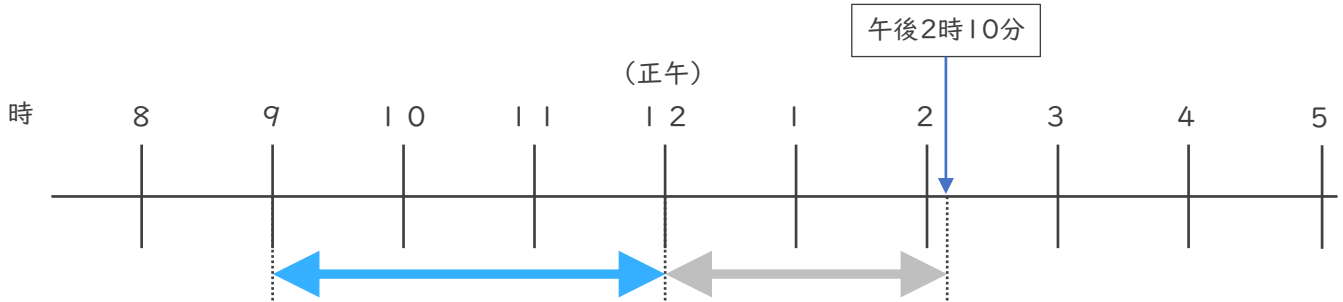


てん

名まえ \_\_\_\_\_

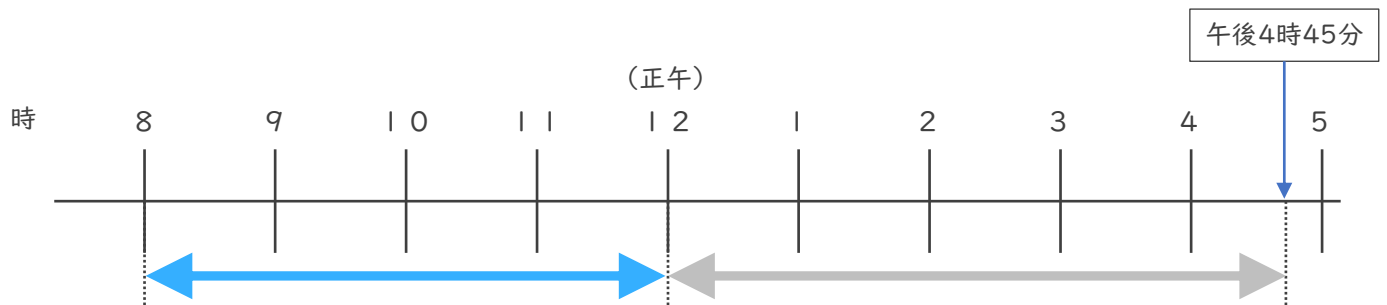
・ 次の時間をもとめましょう。

① 午前9時から午後2時10分までの時間 (35点)



答え ( **5時間10分** )

② 午前8時から午後4時45分までの時間 (35点)



答え ( **8時間45分** )

③ 午前9時50分から午前11時15分までの時間 (30点)

<del>11</del> 時 <del>15</del> 分 <del>—</del> 9時50分 <hr style="border: 1px solid black;"/> 1時25分
-------------------------------------------------------------------------------------------------------


答え ( **1時間25分** )



# 時こくと時間の もとめかた 8 16

◎ 正午をはさむ計算

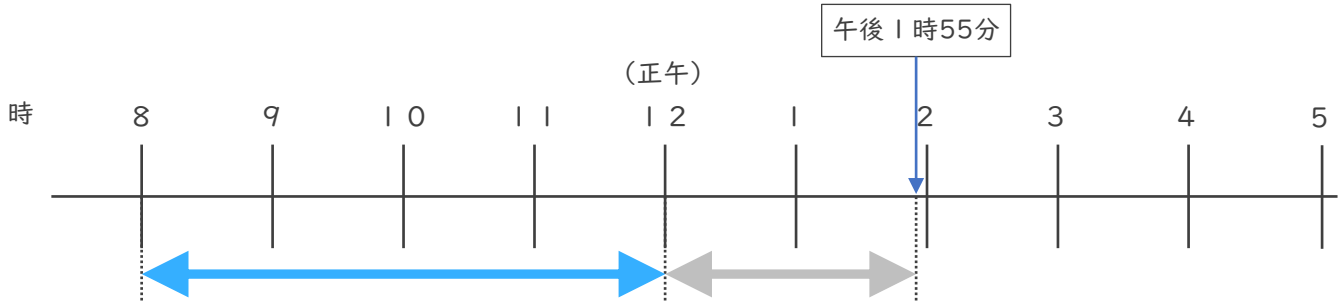
めざせ100点!



名まえ \_\_\_\_\_

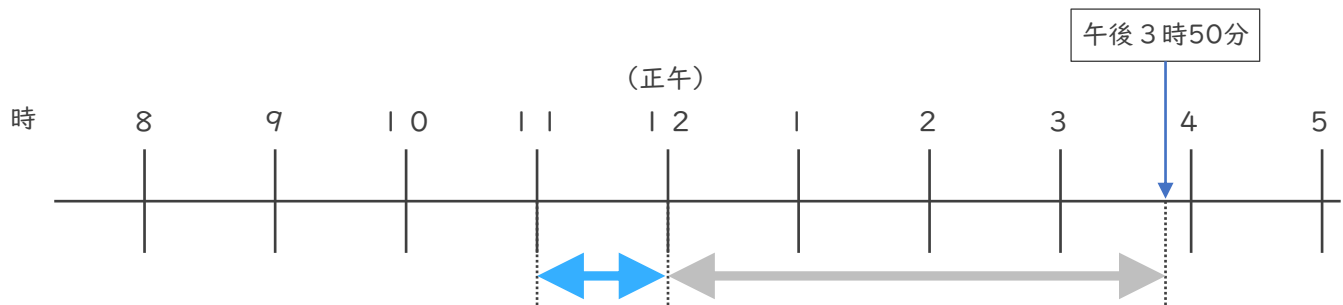
・ 次の時間をもとめましょう。

① 午前8時から午後1時55分までの時間 (35点)



答え ( **5時間55分** )

② 午前11時から午後3時50分までの時間 (35点)



答え ( **4時間50分** )

③ 午前7時45分から午前11時20分までの時間 (30点)

	10	80
<del>11</del>	時	<del>20</del> 分
-	7時	45分
<hr/>		
	3時	35分

答え ( **3時間35分** )