



時こくと時間の もとめかた 8

● 正午をはさむ計算

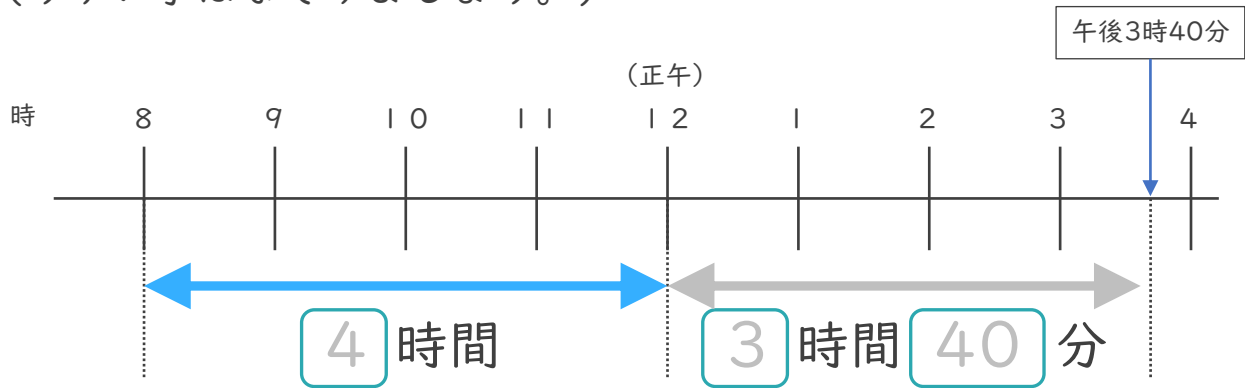


日にち： 月 日

名まえ _____

1 午前8時から午後3時40分までの時間をもとめます。

(うすい字はなぞりましょう。)



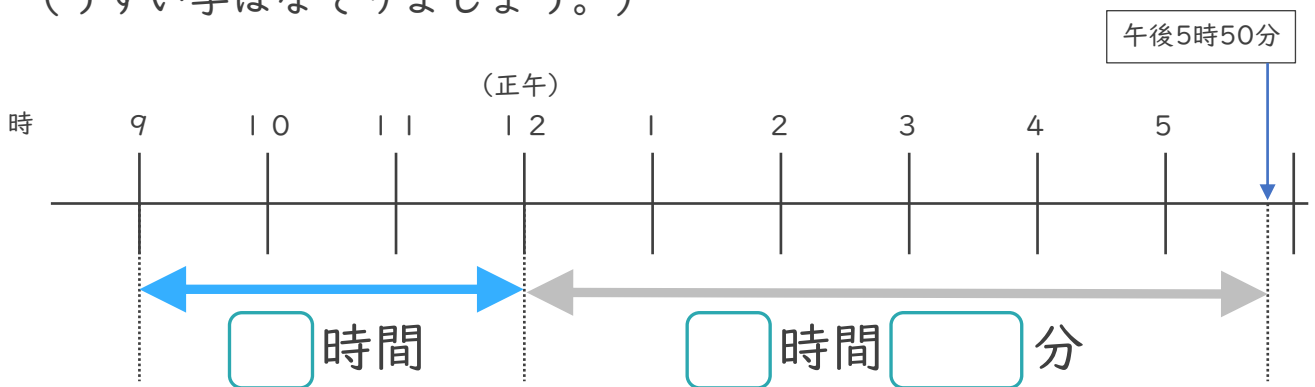
① にあてはまる数を書きましょう。

② 午前8時から午後3時40分までの時間は何時間何分ですか。

答え (7 時間 4 0 分)

2 午前9時から午後5時50分までの時間をもとめます。

(うすい字はなぞりましょう。)



① にあてはまる数を書きましょう。

② 午前9時から午後5時50分までの時間は何時間何分ですか。

答え (時間 分)





時こくと時間の もとめかた 8



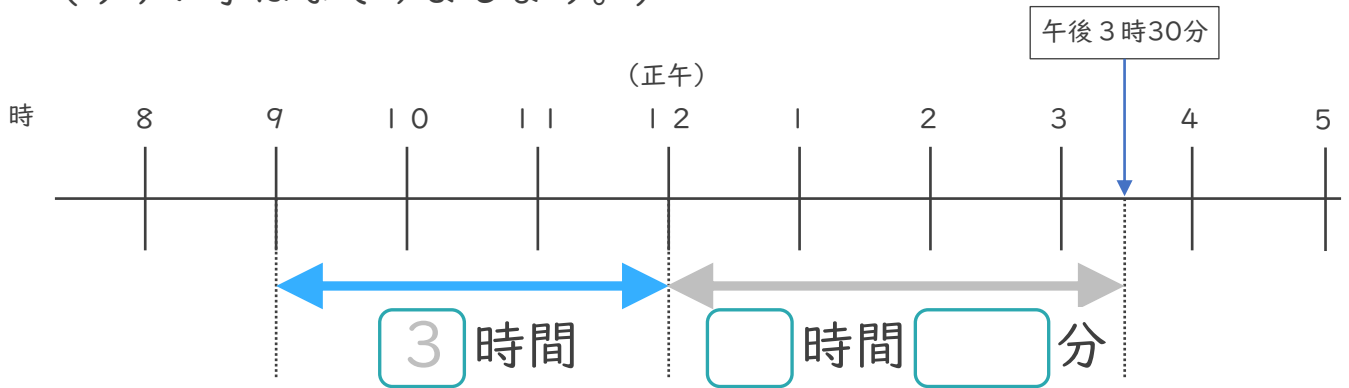
● 正午をはさむ計算

日にち： 月 日

名まえ _____

1 午前9時から午後3時30分までの時間をもとめます。

(うすい字はなぞりましょう。)

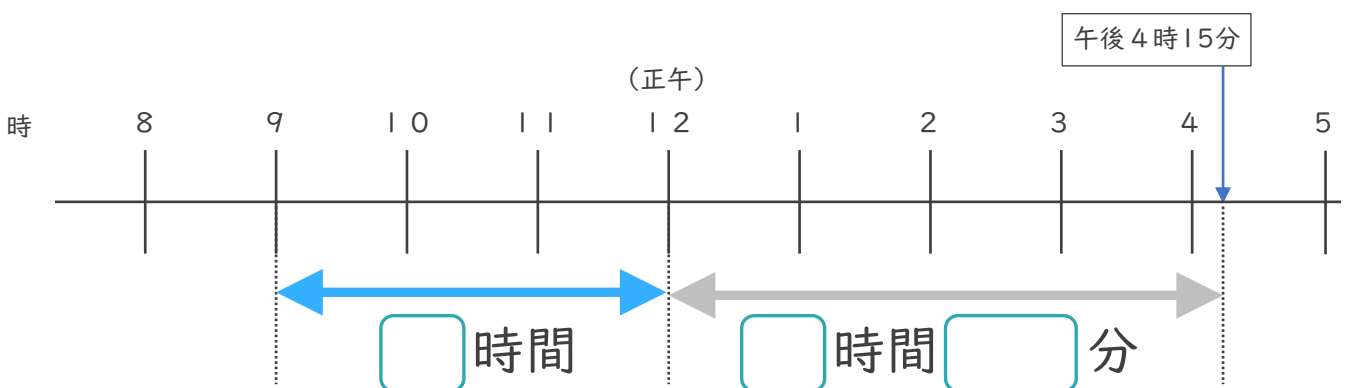


① □ にあてはまる数を書きましょう。

② 午前9時から午後3時30分までの時間は何時間何分ですか。

答え (時間 分)

2 午前9時から午後4時15分までの時間をもとめます。



① □ にあてはまる数を書きましょう。

② 午前9時から午後4時15分までの時間は何時間何分ですか。

答え ()





時こくと時間の
もとめかた 8



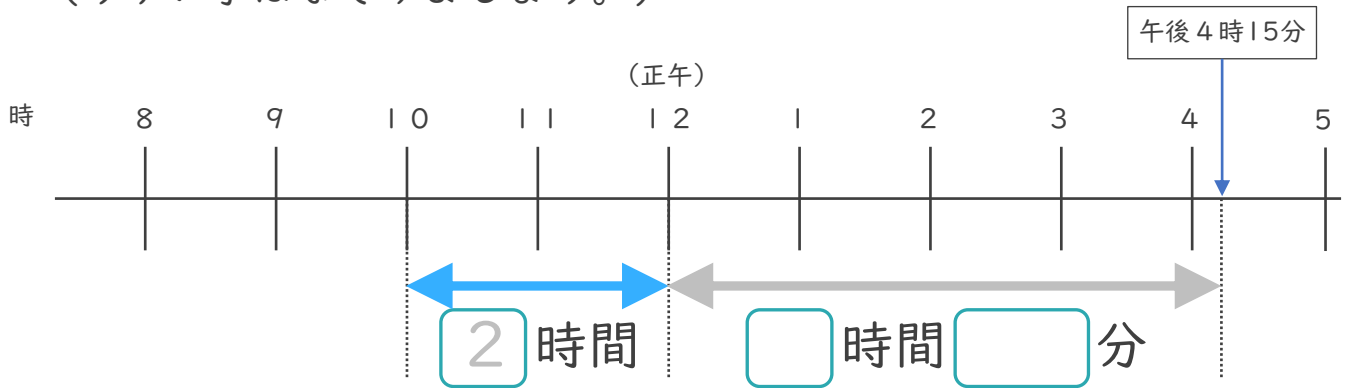
● 正午をはさむ計算

日にち： 月 日

名まえ _____

1 午前10時から午後4時15分までの時間をもとめます。

(うすい字はなぞりましょう。)

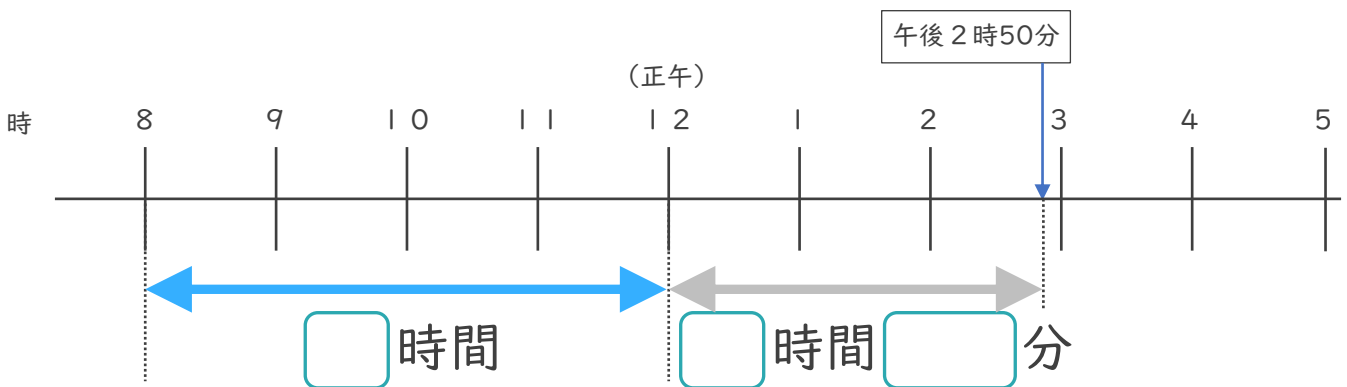


① □にあてはまる数を書きましょう。

② 午前10時から午後4時15分までの時間は何時間何分ですか。

答え (時間 分)

2 午前8時から午後2時50分までの時間をもとめます。



① □にあてはまる数を書きましょう。

② 午前8時から午後2時50分までの時間は何時間何分ですか。

答え ()



時こくと時間の
もとめかた 8

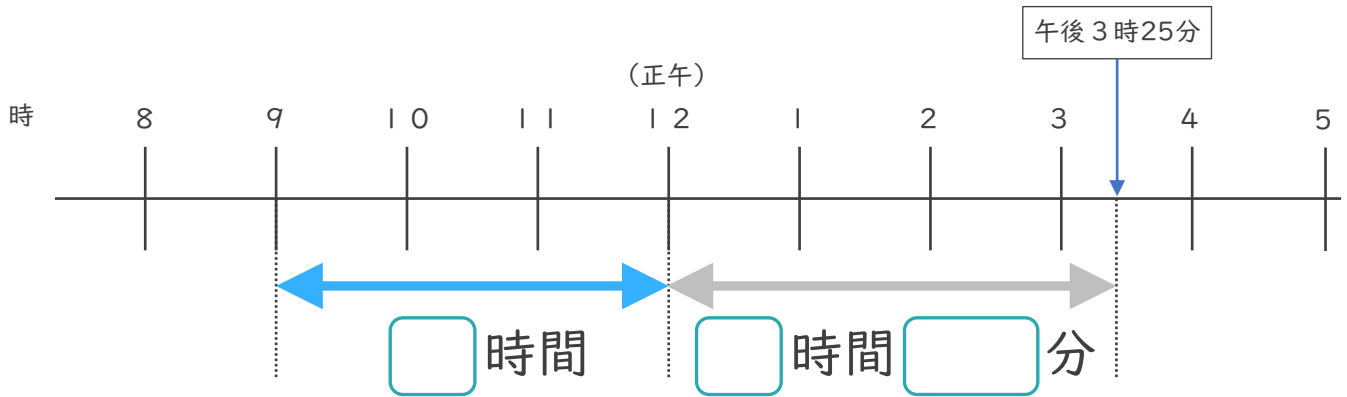


● 正午をはさむ計算

日にち： 月 日

名まえ _____

1 午前9時から午後3時25分までの時間をもとめます。

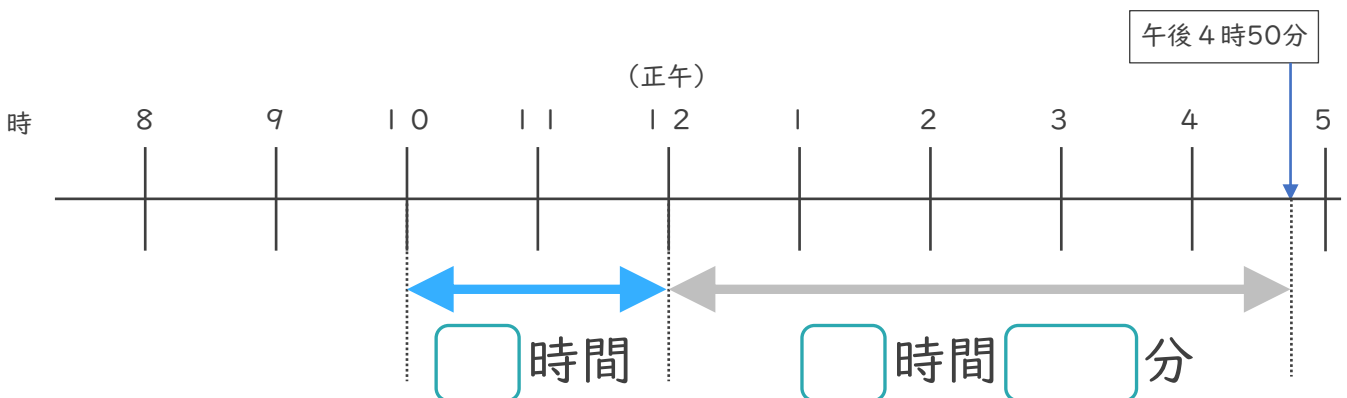


① □にあてはまる数を書きましょう。

② 午前9時から午後3時25分までの時間は何時間何分ですか。

答え ()

2 午前10時から午後4時50分までの時間をもとめます。



① □にあてはまる数を書きましょう。

② 午前10時から午後4時50分までの時間は何時間何分ですか。

答え ()




時こくと時間の もとめかた 8

15

◎ 正午をはさむ計算

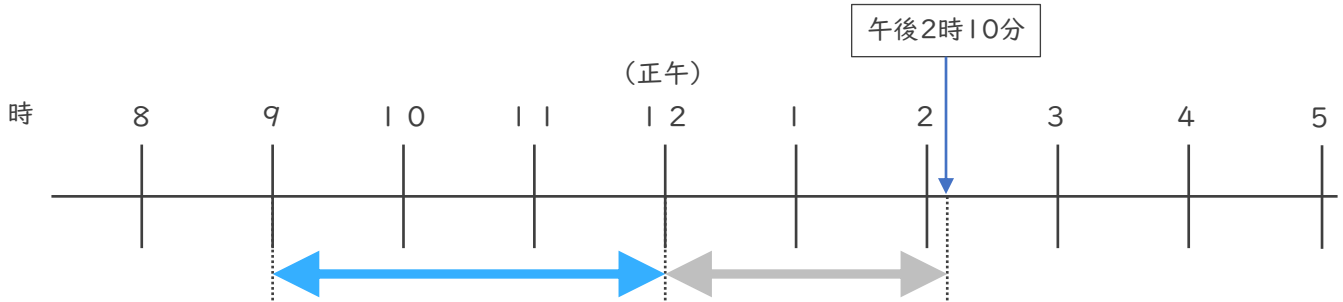
めざせ100点!



名まえ _____

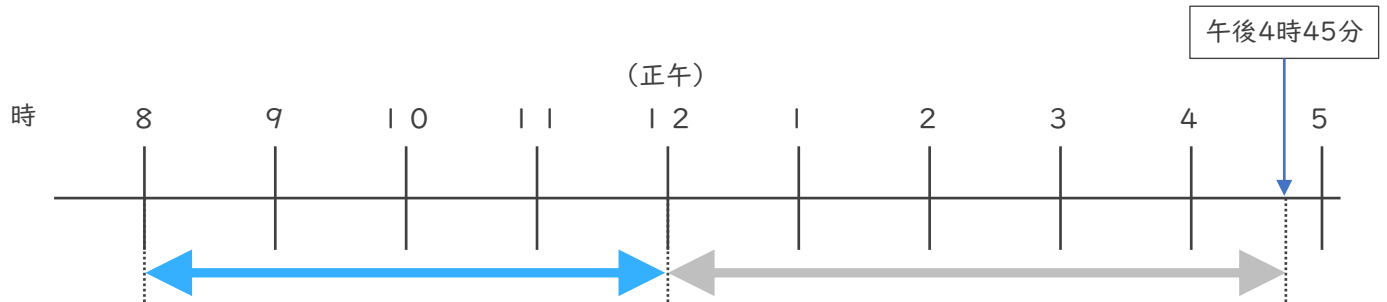
・ 次の時間をもとめましょう。

① 午前9時から午後2時10分までの時間 (35点)



答え ()

② 午前8時から午後4時45分までの時間 (35点)



答え ()

③ 午前9時50分から午前11時15分までの時間 (30点)

	時	分
—	時	分
	時	分


答え ()



時こくと時間の もとめかた 8 16

◎ 正午をはさむ計算

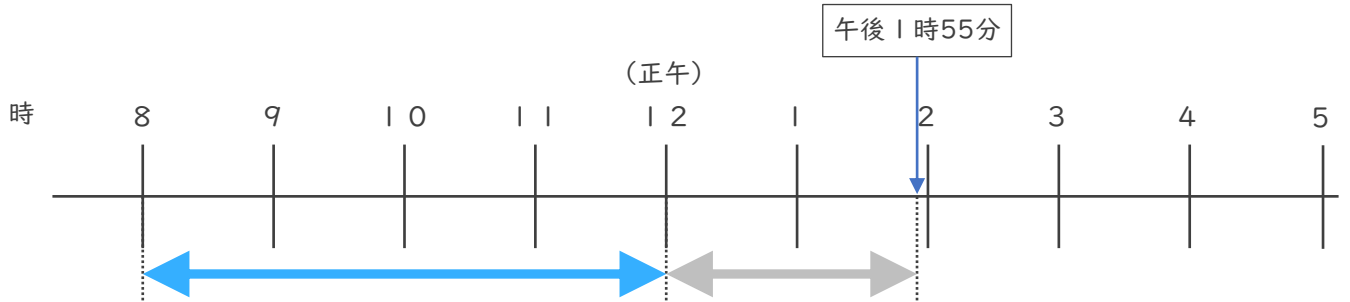
めざせ100点!



名まえ _____

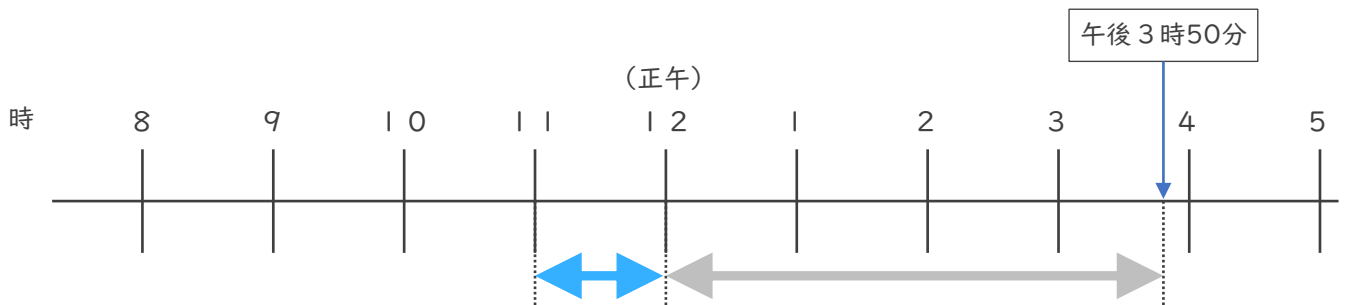
・ 次の時間をもとめましょう。

① 午前8時から午後1時55分までの時間 (35点)



答え ()

② 午前11時から午後3時50分までの時間 (35点)



答え ()

③ 午前7時45分から午前11時20分までの時間 (30点)

	時	分
—	時	分
<hr/>		
	時	分

答え ()



時こくと時間の もとめかた 8

◎ 正午をはさむ計算

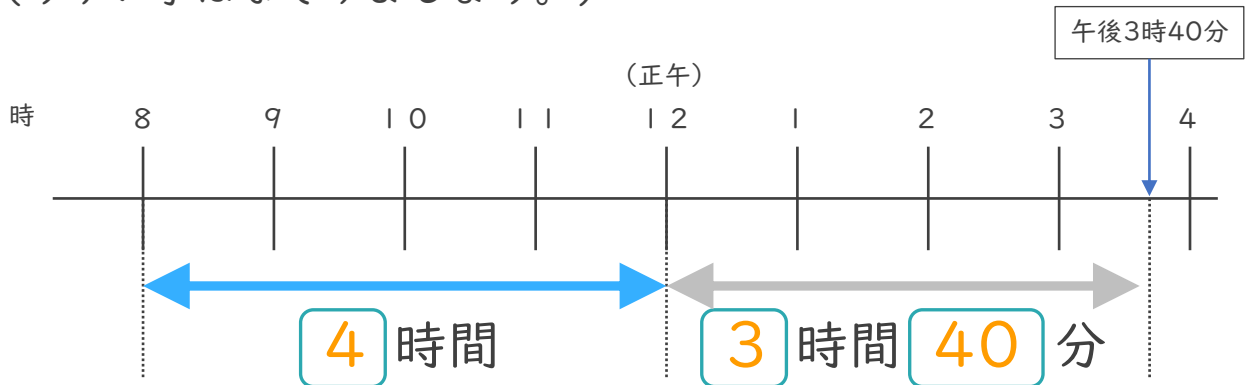


日にち： 月 日

名まえ _____

1 午前8時から午後3時40分までの時間をもとめます。

(うすい字はなぞりましょう。)



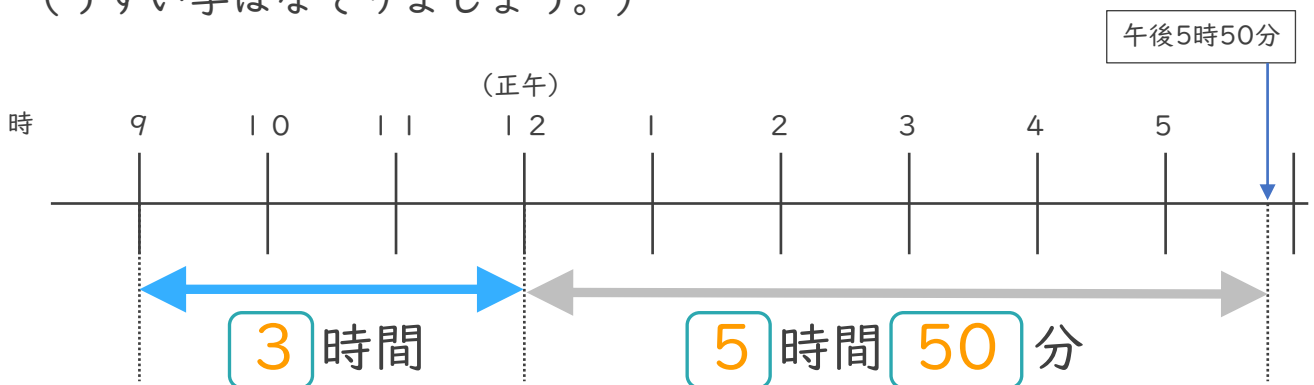
① にあてはまる数を書きましょう。

② 午前8時から午後3時40分までの時間は何時間何分ですか。

答え (**7 時間 40 分**)

2 午前9時から午後5時50分までの時間をもとめます。

(うすい字はなぞりましょう。)



① にあてはまる数を書きましょう。

② 午前9時から午後5時50分までの時間は何時間何分ですか。

答え (**8 時間 50 分**)





時こくと時間の もとめかた 8



● 正午をはさむ計算

日にち： 月 日

名まえ _____

1 午前8時から午後2時50分までの時間をもとめます。

(うすい字はなぞりましょう。)

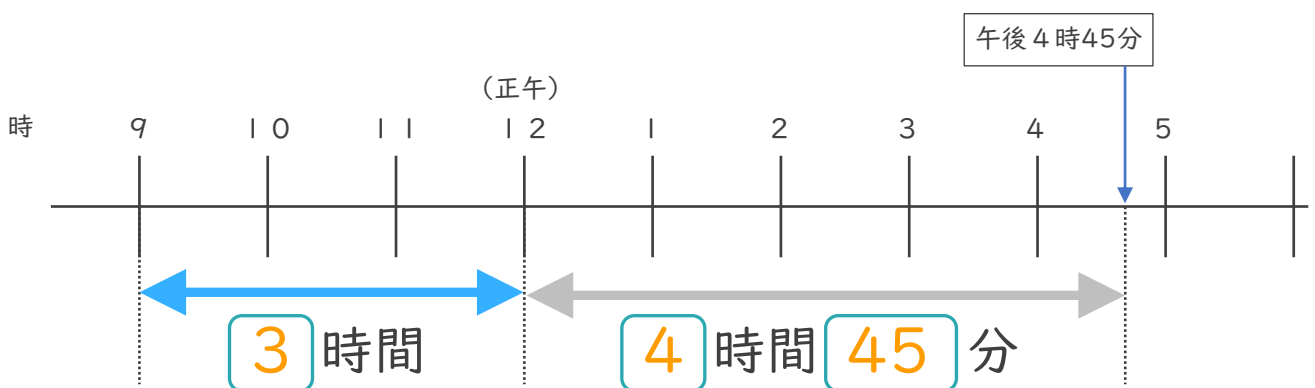


① にあてはまる数を書きましょう。

② 午前8時から午後2時50分までの時間は何時間何分ですか。

答え (**6 時間 5 0 分**)

2 午前9時から午後4時45分までの時間をもとめます。



① にあてはまる数を書きましょう。

② 午前9時から午後4時45分までの時間は何時間何分ですか。

答え (**7 時間 4 5 分**)





時こくと時間の もとめかた 8



● 正午をはさむ計算

日にち： 月 日

名まえ _____

1 午前9時から午後3時30分までの時間をもとめます。

(うすい字はなぞりましょう。)

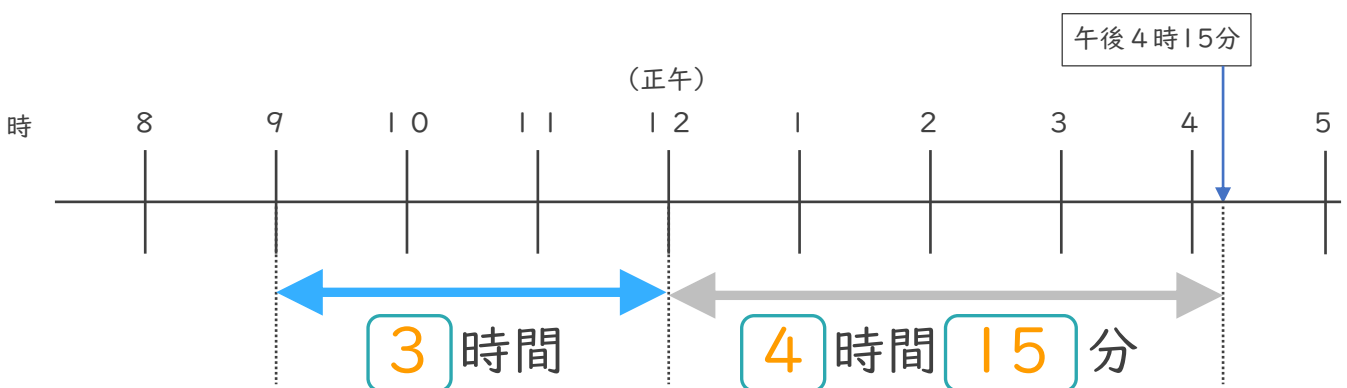


① にあてはまる数を書きましょう。

② 午前9時から午後3時30分までの時間は何時間何分ですか。

答え (**6 時間 3 0 分**)

2 午前9時から午後4時15分までの時間をもとめます。



① にあてはまる数を書きましょう。

② 午前9時から午後4時15分までの時間は何時間何分ですか。

答え (**7 時間 1 5 分**)

③ 確認 答え



すらすらぷりんと



時こくと時間の
もとめかた 8



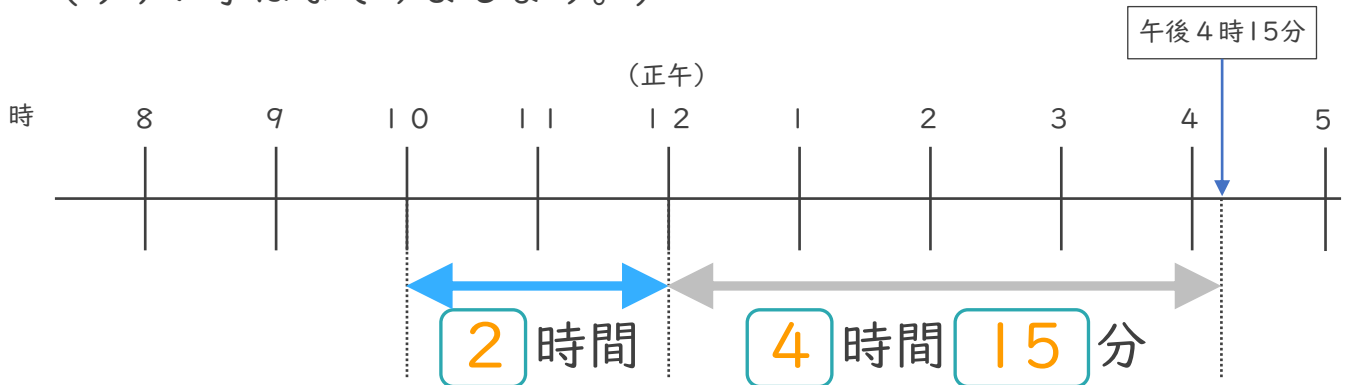
● 正午をはさむ計算

日にち： 月 日

名まえ _____

1 午前10時から午後4時15分までの時間をもとめます。

(うすい字はなぞりましょう。)

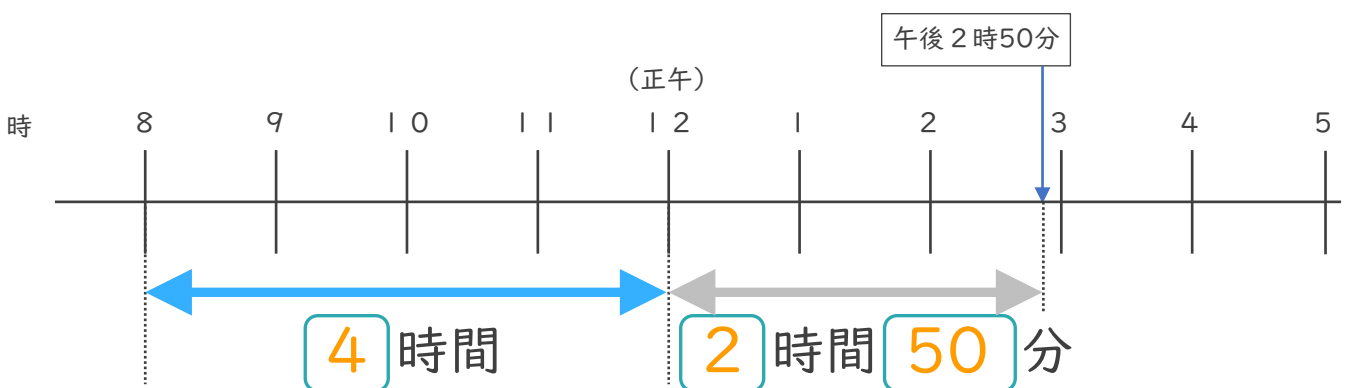


① にあてはまる数を書きましょう。

② 午前10時から午後4時15分までの時間は何時間何分ですか。

答え (6 時間 1 5 分)

2 午前8時から午後2時50分までの時間をもとめます。



① にあてはまる数を書きましょう。

② 午前8時から午後2時50分までの時間は何時間何分ですか。

答え (6 時間 5 0 分)





時こくと時間の もとめかた 8

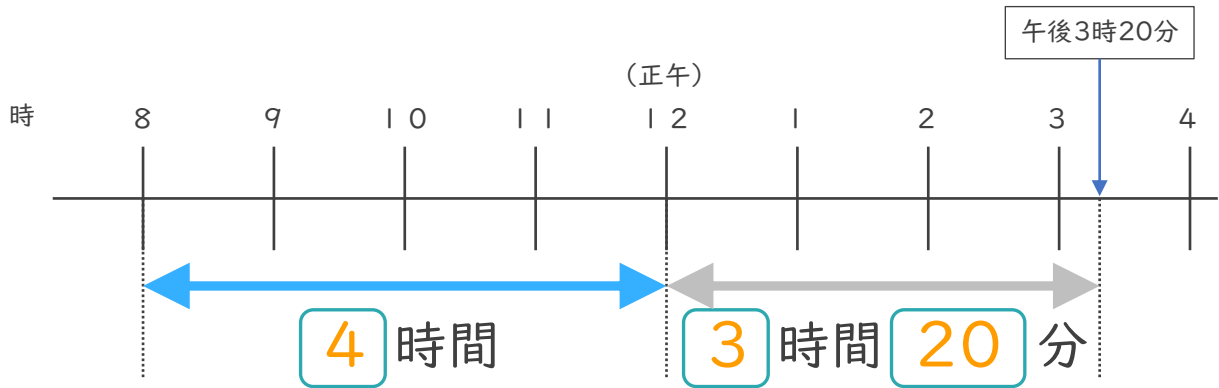


◎ 正午をはさむ計算

日にち： 月 日

名まえ _____

1 午前8時から午後3時20分までの時間をもとめます。

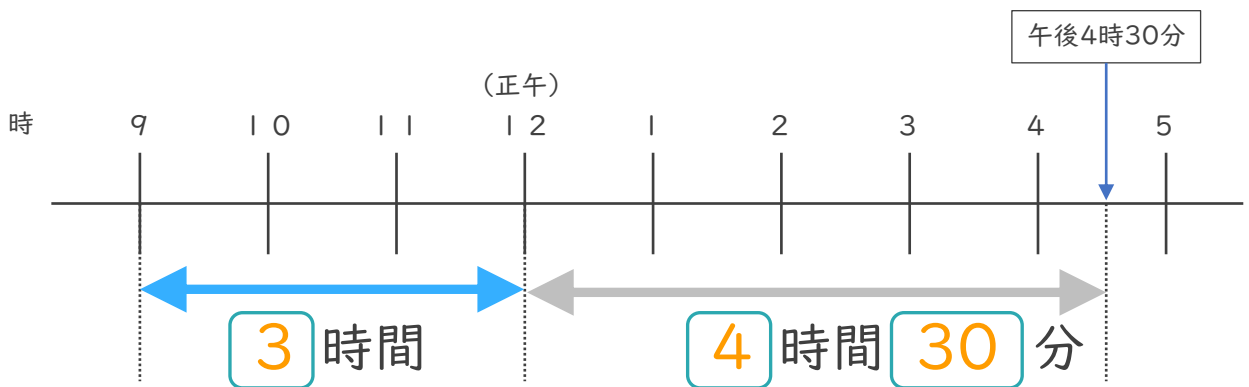


① にあてはまる数を書きましょう。

② 午前8時から午後3時20分までの時間は何時間何分ですか。

答え (**7 時間 20 分**)

2 午前9時から午後4時30分までの時間をもとめます。



① にあてはまる数を書きましょう。

② 午前9時から午後4時30分までの時間は何時間何分ですか。

答え (**7 時間 30 分**)





時こくと時間の
もとめかた 8

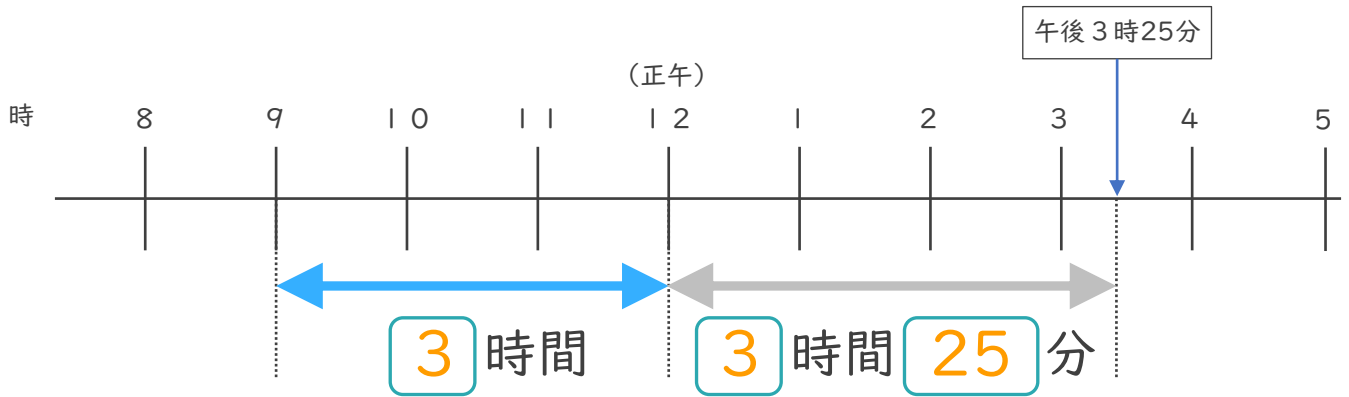


● 正午をはさむ計算

日にち： 月 日

名まえ _____

1 午前9時から午後3時25分までの時間をもとめます。

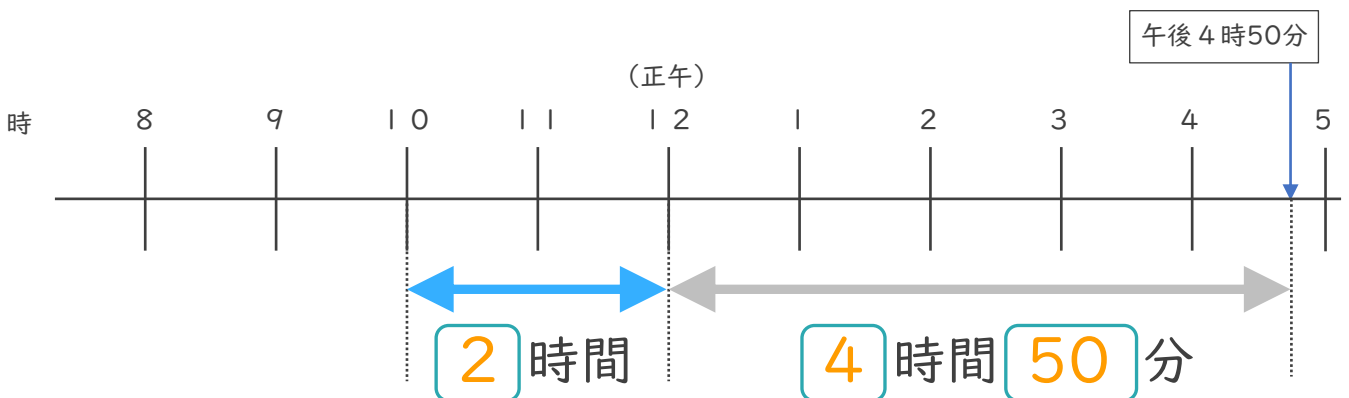


① にあてはまる数を書きましょう。

② 午前9時から午後3時25分までの時間は何時間何分ですか。

答え (**6時間25分**)

2 午前10時から午後4時50分までの時間をもとめます。



① にあてはまる数を書きましょう。

② 午前10時から午後4時50分までの時間は何時間何分ですか。

答え (**6時間50分**)





時こくと時間の もとめかた 8

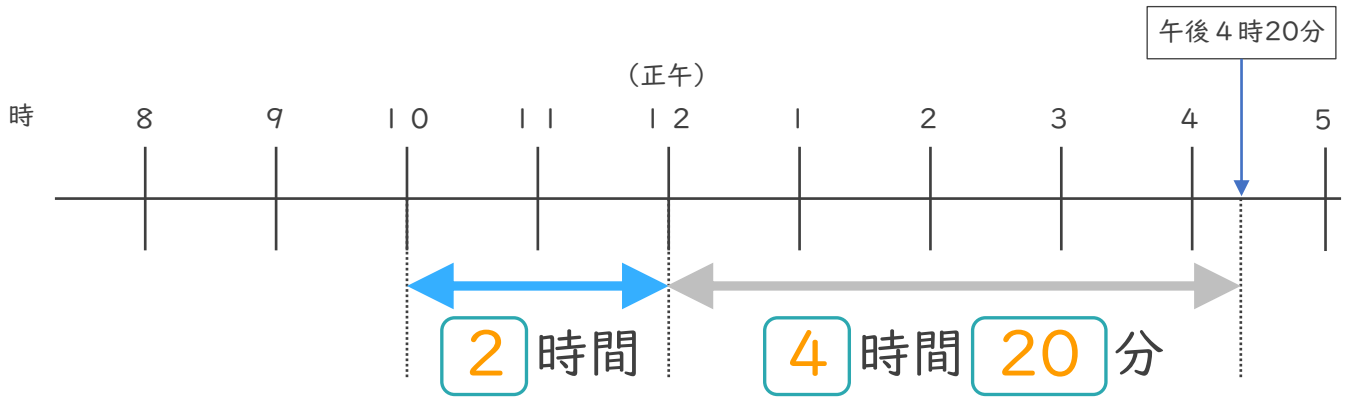


● 正午をはさむ計算

日にち： 月 日

名まえ _____

1 午前10時から午後4時20分までの時間をもとめます。

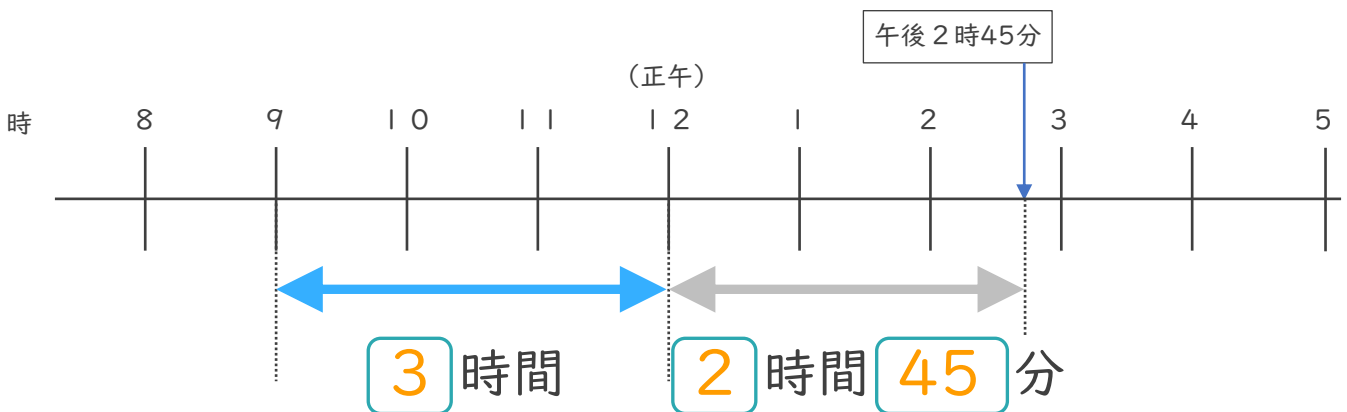


① にあてはまる数を書きましょう。

② 午前10時から午後4時20分までの時間は何時間何分ですか。

答え (**6 時間 20 分**)

2 午前9時から午後2時45分までの時間をもとめます。



① にあてはまる数を書きましょう。

② 午前9時から午後2時45分までの時間は何時間何分ですか。

答え (**5 時間 45 分**)





時こくと時間の
もとめかた 8

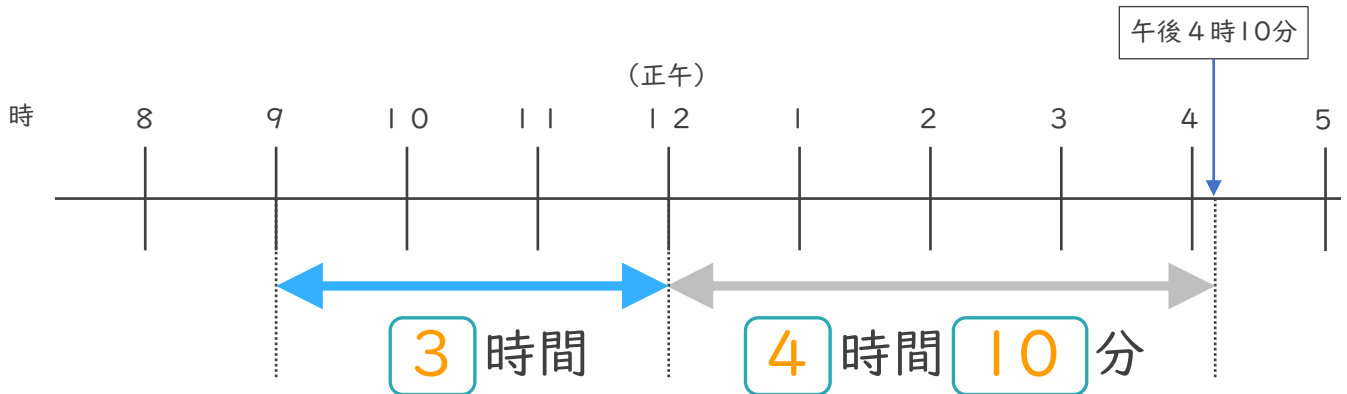


● 正午をはさむ計算

日にち： 月 日

名まえ _____

1 午前9時から午後4時10分までの時間をもとめます。

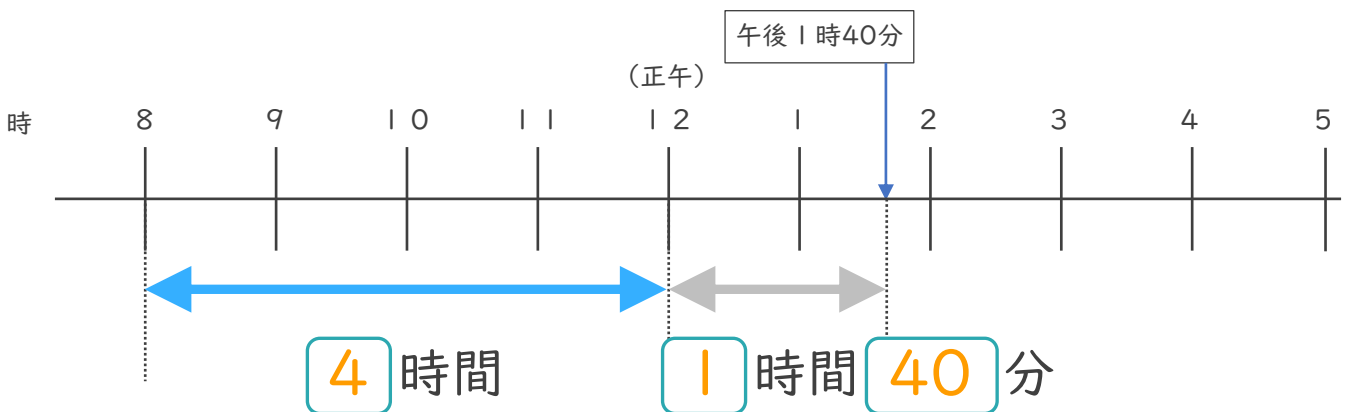


① にあてはまる数を書きましょう。

② 午前9時から午後4時10分までの時間は何時間何分ですか。

答え (7 時間 1 0 分)

2 午前8時から午後1時40分までの時間をもとめます。



① にあてはまる数を書きましょう。

② 午前8時から午後1時40分までの時間は何時間何分ですか。

答え (5 時間 4 0 分)





時こくと時間の
もとめかた 8

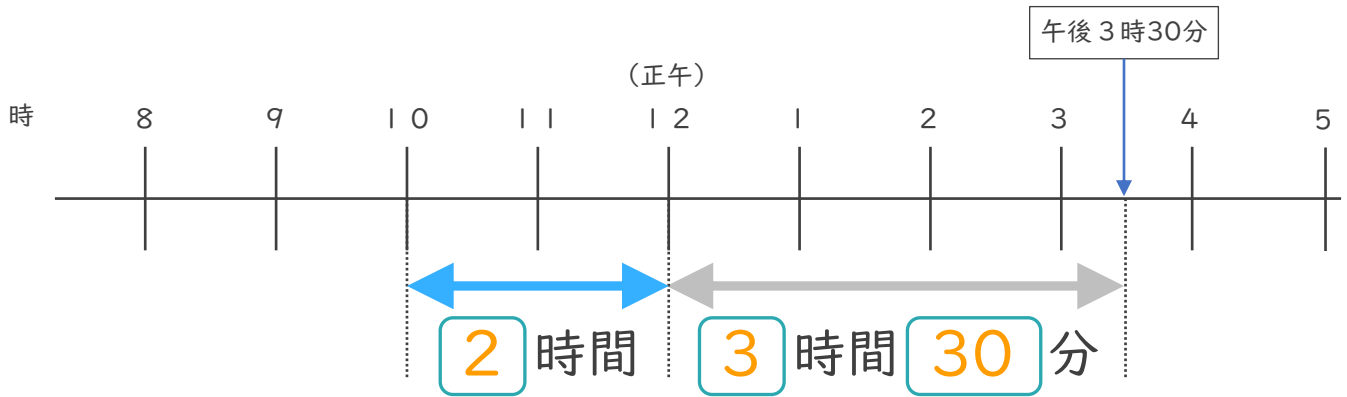


● 正午をはさむ計算

日にち： 月 日

名まえ _____

1 午前10時から午後3時30分までの時間をもとめます。

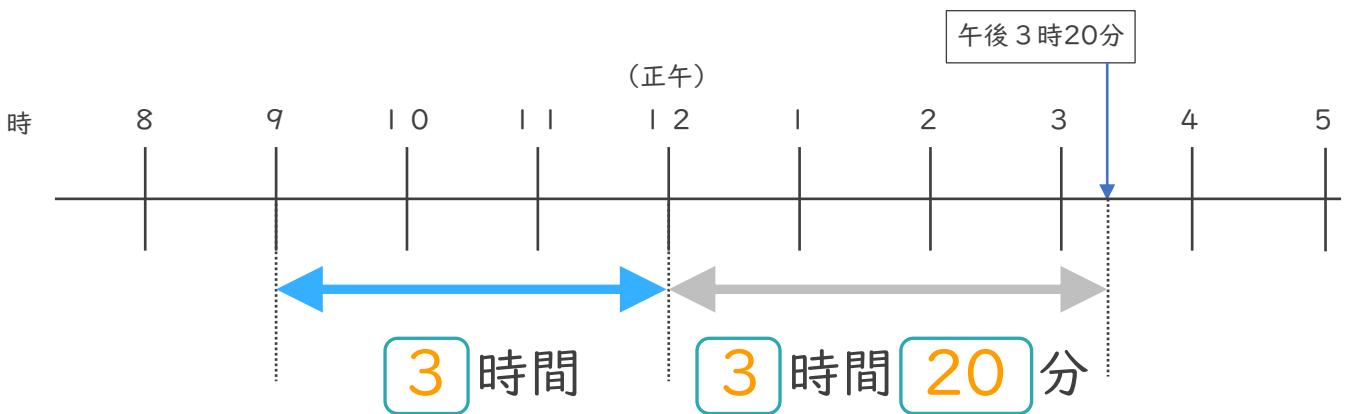


① にあてはまる数を書きましょう。

② 午前10時から午後3時30分までの時間は何時間何分ですか。

答え (5 時間 3 0 分)

2 午前9時から午後3時20分までの時間をもとめます。



① にあてはまる数を書きましょう。

② 午前9時から午後3時20分までの時間は何時間何分ですか。

答え (6 時間 2 0 分)





時こくと時間の もとめかた 8



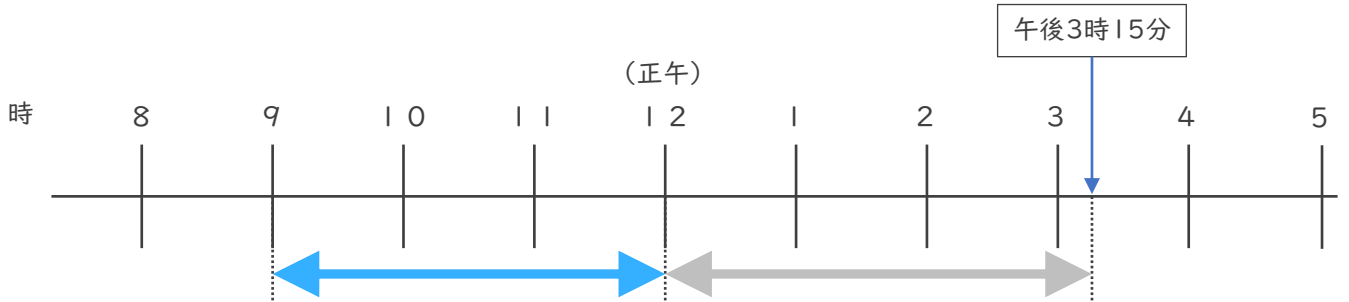
◎ 正午をはさむ計算

日にち： 月 日

名まえ _____

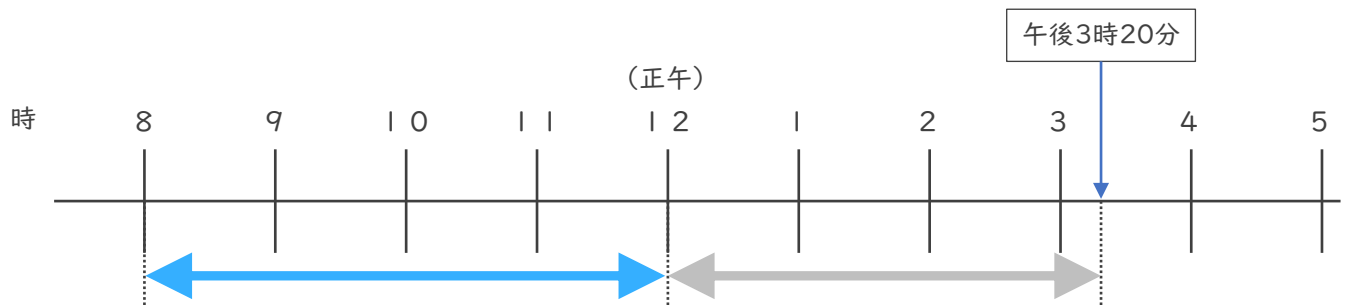
・ 次の時間をもとめましょう。

① 午前9時から午後3時15分までの時間



答え (**6時間15分**)

② 午前8時から午後3時20分までの時間



答え (**7時間20分**)

③ 午後3時50分から午後8時30分までの時間

	7	90	
	8	時	30 分
-	3	時	50分
	4	時	40 分

答え (**4時間40分**)



時こくと時間の もとめかた 8

◎ 正午をはさむ計算

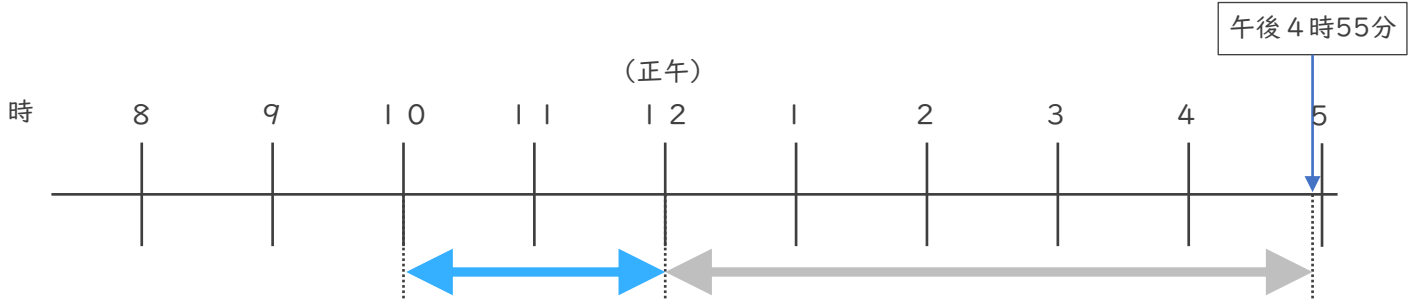


日にち： 月 日

名まえ _____

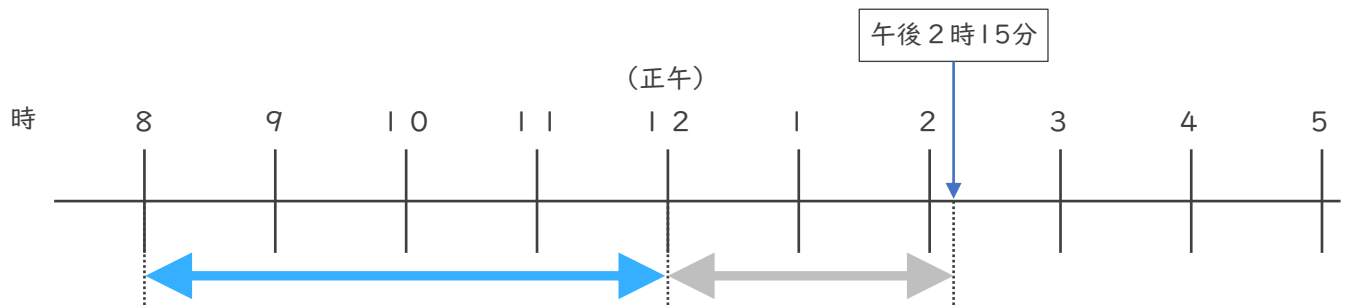
・ 次の時間をもとめましょう。

① 午前10時から午後4時55分までの時間



答え (**6時間55分**)

② 午前8時から午後2時15分までの時間



答え (**6時間15分**)

③ 午後1時45分から午後6時20分までの時間

	5	80	
-	6	20	分
	1	45	分
	4	35	分

答え (**4時間35分**)



時こくと時間の もとめかた 8

12

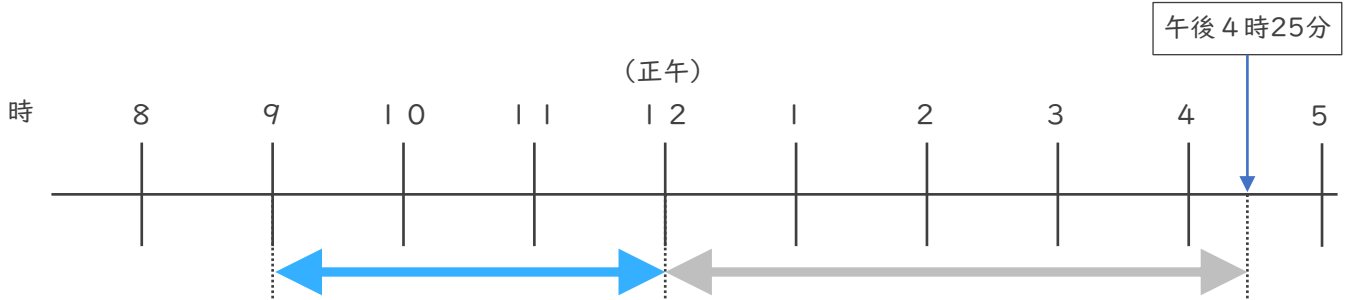
◎ 正午をはさむ計算

日にち： 月 日

名まえ _____

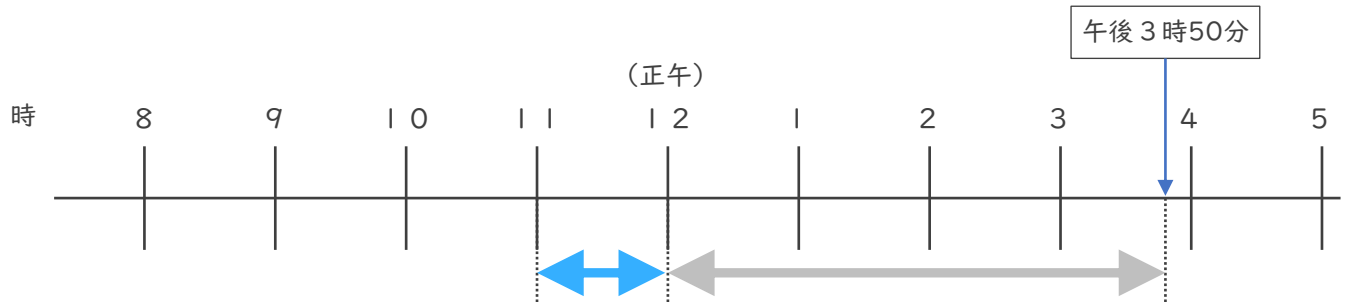
・ 次の時間をもとめましょう。

① 午前9時から午後4時25分までの時間



答え (**7時間25分**)

② 午前11時から午後3時50分までの時間



答え (**4時間50分**)

③ 午後3時25分から午後6時15分までの時間

	5	7	5
-	6	時	15
	3	時	25
	2	時	50

答え (**2時間50分**)



時こくと時間の もとめかた 8

13

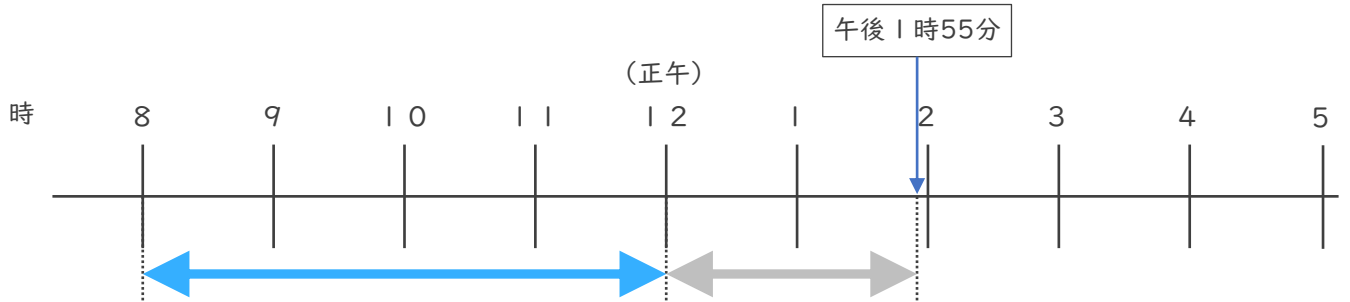
◎ 正午をはさむ計算

日にち： 月 日

名まえ _____

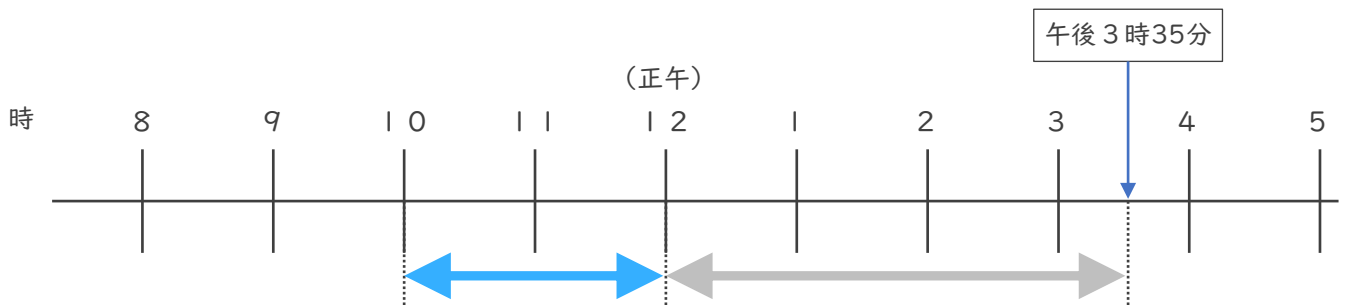
・ 次の時間をもとめましょう。

① 午前8時から午後1時55分までの時間



答え (5 時間 5 5 分)

② 午前10時から午後3時35分までの時間



答え (5 時間 3 5 分)

③ 午前8時25分から午前10時10分までの時間

	9	7 0	
1 0	時	1 0	分
-	8 時	2 5 分	
	1 時	4 5	分

答え (1 時間 4 5 分)





時こくと時間の もとめかた 8

14

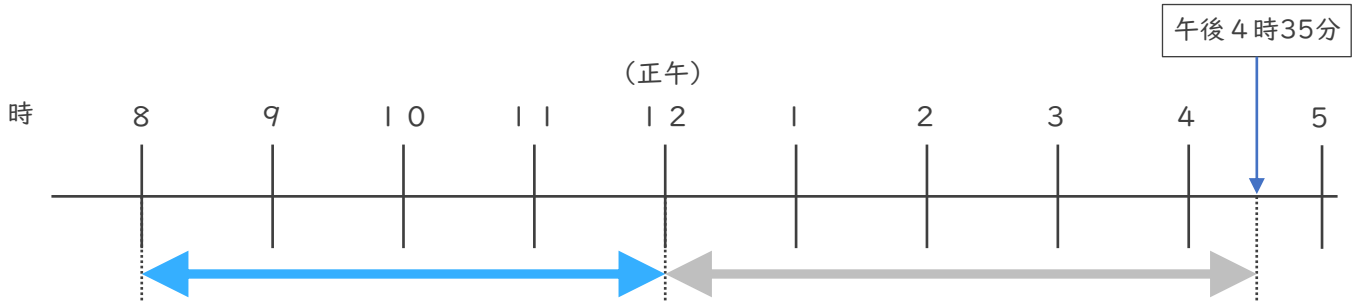
◎ 正午をはさむ計算

日にち： 月 日

名まえ _____

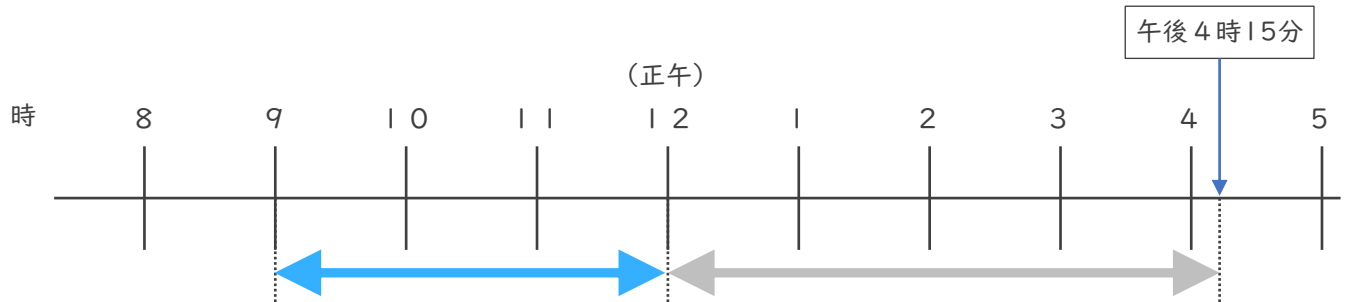
・ 次の時間をもとめましょう。

① 午前8時から午後4時35分までの時間



答え (**8時間35分**)

② 午前9時から午後4時15分までの時間



答え (**7時間15分**)

③ 午前7時45分から午前11時20分までの時間

	10	80	
	11	時20	分
-	7時45	分	
	3時35	分	


答え (**3時間35分**)



時こくと時間の もとめかた 8 15

● 正午をはさむ計算

めざせ100点!

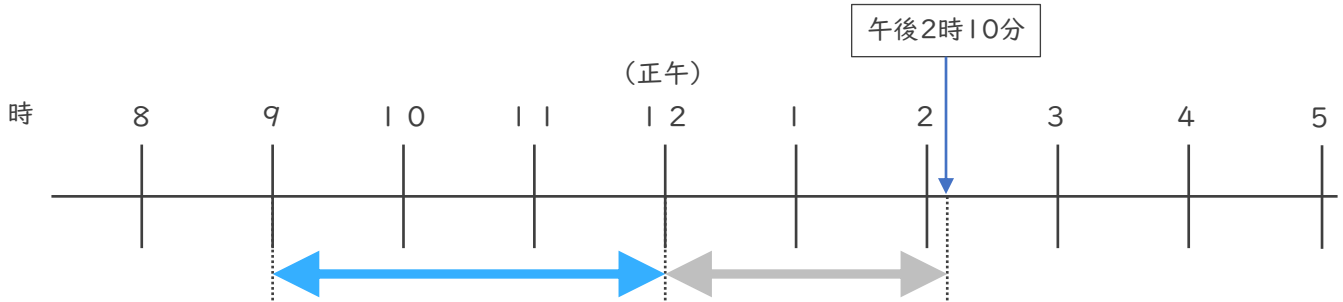


てん

名まえ

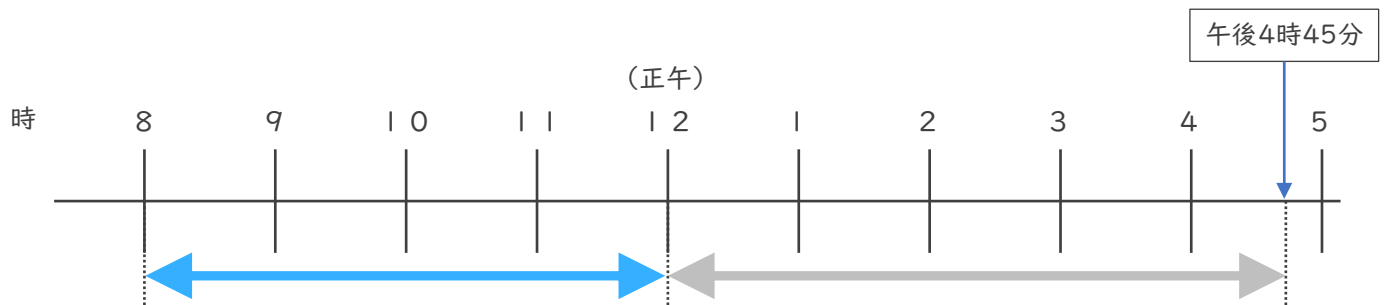
・ 次の時間をもとめましょう。

① 午前9時から午後2時10分までの時間 (35点)



答え (5 時間 1 0 分)

② 午前8時から午後4時45分までの時間 (35点)



答え (8 時間 4 5 分)

③ 午前9時50分から午前11時15分までの時間 (30点)

	10	75
11	時	15 分
-	9	50
	時	分
<hr/>		
	1	25
	時	分

答え (1 時間 2 5 分)



時こくと時間の もとめかた 8

16

◎ 正午をはさむ計算

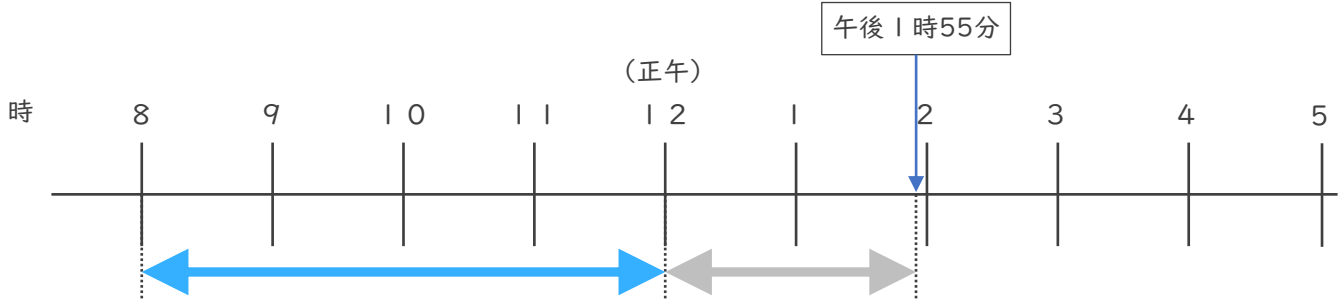
めざせ100点!



名まえ _____

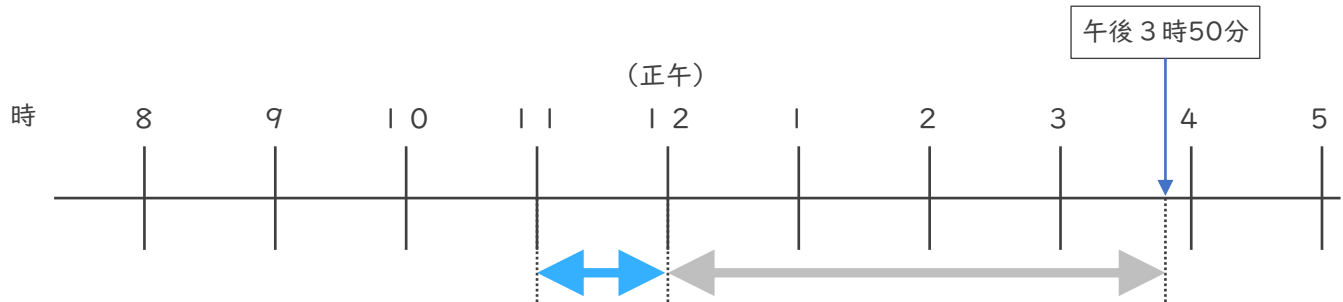
・ 次の時間をもとめましょう。

① 午前8時から午後1時55分までの時間 (35点)



答え (**5時間55分**)

② 午前11時から午後3時50分までの時間 (35点)



答え (**4時間50分**)

③ 午前7時45分から午前11時20分までの時間 (30点)

	10	80	
	11	時	20 分
-	7	時	45分
<hr/>			
	3	時	35分

答え (**3時間35分**)