



時こくと時間の  
もとめかた 16

○分△秒を秒で表す



日にち：            月            日

名まえ \_\_\_\_\_

・ 次の問いに答えましょう。（うすい字はなぞりましょう。）

① 1分<sup>ぶん</sup>20秒<sup>びょう</sup>は何秒ですか。

1分 = 60秒だから、

$$\underline{60 + 20 = \quad \quad \quad} \text{ (秒)}$$



1分 = 60秒  
2分 = 120秒  
3分 = 180秒  
だったね！

答え（        80秒        ）

② 2分20秒は何秒ですか。

2分 = 120秒だから、

$$\underline{120 + 20 = \quad \quad \quad} \text{ (秒)}$$

答え（                      秒        ）

③ 3分14秒は何秒ですか。

3分 = 180秒だから、

$$\underline{180 + 14 = \quad \quad \quad} \text{ (秒)}$$

答え（                                      ）











時こくと時間の  
もとめかた 16

● ○分△秒を秒で表す



日にち：            月            日

名まえ \_\_\_\_\_

・ □ にあてはまる数<sup>かず</sup>を答えましょう。

① 1分<sup>ぶん</sup>30秒<sup>びょう</sup> = □ 秒

② 1分15秒 = □ 秒

③ 2分10秒 = □ 秒

④ 2分47秒 = □ 秒

⑤ 3分20秒 = □ 秒

⑥ 3分42秒 = □ 秒



時こくと時間の  
もとめかた 16

○分△秒を秒で表す



日にち：            月            日

名まえ \_\_\_\_\_

・ □ にあてはまる数<sup>かず</sup>を答えましょう。

① 1分24秒 = □ 秒

② 1分5秒 = □ 秒

③ 2分17秒 = □ 秒

④ 2分39秒 = □ 秒

⑤ 3分7秒 = □ 秒

⑥ 3分50秒 = □ 秒



時こくと時間の  
もとめかた 16

○分△秒を秒で表す



日にち：            月            日

名まえ \_\_\_\_\_

・  にあてはまる<sup>かず</sup>数を答えましょう。

① 1分18秒 =  秒

② 1分27秒 =  秒

③ 2分41秒 =  秒

④ 2分55秒 =  秒

⑤ 3分16秒 =  秒

⑥ 3分45秒 =  秒



時こくと時間の  
もとめかた 16

● ○分 △秒を秒で表す



日にち：            月            日

名まえ \_\_\_\_\_

・ □ にあてはまる数<sup>かず</sup>を答えましょう。

① 1分25秒 = □ 秒

② 1分32秒 = □ 秒

③ 2分19秒 = □ 秒

④ 2分33秒 = □ 秒

⑤ 3分46秒 = □ 秒

⑥ 3分28秒 = □ 秒





時こくと時間の  
もとめかた 16

● ○分△秒を秒で表す



日にち：            月            日

名まえ \_\_\_\_\_

・ □ にあてはまる数<sup>かず</sup>を答えましょう。

① 1分20秒 = □ 秒

② 1分12秒 = □ 秒

③ 2分34秒 = □ 秒

④ 2分54秒 = □ 秒

⑤ 3分29秒 = □ 秒

⑥ 3分55秒 = □ 秒



時こくと時間の  
もとめかた 16

○分△秒を秒で表す



日にち：            月            日

名まえ \_\_\_\_\_

・ □ にあてはまる<sup>かず</sup>数を答えましょう。

① 2分17秒 =  秒

② 1分35秒 =  秒

③ 3分10秒 =  秒

④ 1分57秒 =  秒

⑤ 2分41秒 =  秒

⑥ 3分52秒 =  秒



時こくと時間の  
もとめかた 16

○分△秒を秒で表す



日にち：            月            日

名まえ \_\_\_\_\_

・  にあてはまる<sup>かず</sup>数を答えましょう。

① 3分17秒 =  秒

② 1分57秒 =  秒

③ 1分35秒 =  秒

④ 2分10秒 =  秒

⑤ 3分41秒 =  秒

⑥ 2分52秒 =  秒



時こくと時間の  
もとめかた 16

○分△秒を秒で表す



日にち：            月            日

名まえ \_\_\_\_\_

・ □ にあてはまる数<sup>かず</sup>を答えましょう。

① 2分24秒 =  秒

② 1分5秒 =  秒

③ 3分43秒 =  秒

④ 1分18秒 =  秒

⑤ 2分56秒 =  秒

⑥ 3分19秒 =  秒



時こくと時間の  
もとめかた 16

○分△秒を秒で表す



日にち：            月            日

名まえ \_\_\_\_\_

・  にあてはまる<sup>かず</sup>数を答えましょう。

① 3分15秒 =  秒

② 1分9秒 =  秒

③ 2分52秒 =  秒

④ 1分26秒 =  秒

⑤ 2分11秒 =  秒

⑥ 3分30秒 =  秒



時こくと時間の  
もとめかた 16

● ○分 △秒を秒で表す



日にち：            月            日

名まえ \_\_\_\_\_

・ □ にあてはまる数<sup>かず</sup>を答えましょう。

① 3分45秒 =  秒

② 1分47秒 =  秒

③ 1分21秒 =  秒

④ 2分54秒 =  秒

⑤ 3分12秒 =  秒

⑥ 2分25秒 =  秒




時こくと時間の  
もとめかた 16

● ○分 △秒を秒で表す

15

めざせ100点!



名まえ

・  にあてはまる<sup>かず</sup>数を答えましょう。(各20点)

① 1分15秒 =  秒

② 3分10秒 =  秒

③ 2分46秒 =  秒

④ 1分47秒 =  秒

⑤ 2分45秒 =  秒



時こくと時間の  
もとめかた 16

○分△秒を秒で表す



めざせ100点!



名まえ \_\_\_\_\_

・ □ にあてはまる数<sup>かず</sup>を答えましょう。(各20点)

① 3分56秒 =  秒

② 1分2秒 =  秒

③ 2分48秒 =  秒

④ 1分19秒 =  秒

⑤ 3分24秒 =  秒





時こくと時間の  
もとめかた 16

○分△秒を秒で表す



日にち：            月            日

名まえ \_\_\_\_\_

・ 次の問いに答えましょう。（うすい字はなぞりましょう。）

① 1分<sup>ぶん</sup>20秒<sup>びょう</sup>は何秒ですか。

1分 = 60秒だから、

$$\underline{60 + 20 = 80} \text{ (秒)}$$



1分 = 60秒  
2分 = 120秒  
3分 = 180秒  
だったね！

答え（    80秒    ）

② 2分20秒は何秒ですか。

2分 = 120秒だから、

$$\underline{120 + 20 = 140} \text{ (秒)}$$

答え（    140秒    ）

③ 3分14秒は何秒ですか。

3分 = 180秒だから、

$$\underline{180 + 14 = 194} \text{ (秒)}$$

答え（    194秒    ）





時こくと時間の  
もとめかた 16

○分△秒を秒で表す



日にち：            月            日

名まえ \_\_\_\_\_

・ 次の問いに答えましょう。（うすい字はなぞりましょう。）

① 1分<sup>ぶん</sup>15秒<sup>びょう</sup>は何秒ですか。

1分 = 60秒だから、

$$\underline{60 + 15 = 75} \text{ (秒)}$$



1分 = 60秒  
2分 = 120秒  
3分 = 180秒  
だったね！

答え（    **75秒**    ）

② 2分30秒は何秒ですか。

2分 = 120秒だから、

$$\underline{120 + 30 = 150} \text{ (秒)}$$

答え（    **150秒**    ）

③ 3分21秒は何秒ですか。

3分 = 180秒だから、

$$\underline{180 + 21 = 201} \text{ (秒)}$$

答え（    **201秒**    ）





時こくと時間の  
もとめかた 16

○分△秒を秒で表す



日にち：            月            日

名まえ \_\_\_\_\_

・ 次の問いに答えましょう。（うすい字はなぞりましょう。）

① 1分<sup>ぶん</sup>34秒<sup>びょう</sup>は何秒ですか。

1分 = 60秒だから、

$$\underline{60 + 34 = 94} \text{ (秒)}$$



1分 = 60秒  
2分 = 120秒  
3分 = 180秒  
だったね！

答え（ **94秒** ）

② 2分46秒は何秒ですか。

2分 = 120秒だから、

$$\underline{120 + 46 = 166} \text{ (秒)}$$

答え（ **166秒** ）

③ 3分30秒は何秒ですか。

3分 = 180秒だから、

$$\underline{180 + 30 = 210} \text{ (秒)}$$

答え（ **210秒** ）





時こくと時間の  
もとめかた 16

○分△秒を秒で表す



日にち：            月            日

名まえ \_\_\_\_\_

・次の問いに答えましょう。（うすい字はなぞりましょう。）

① 1分<sup>ぶん</sup>53秒<sup>びょう</sup>は何秒ですか。

1分 = 60秒だから、

$$\underline{60 + 53 = 113} \text{ (秒)}$$



1分 = 60秒  
2分 = 120秒  
3分 = 180秒  
だったね！

答え（ 113秒 ）

② 2分15秒は何秒ですか。

2分 = 120秒だから、

$$\underline{120 + 15 = 135} \text{ (秒)}$$

答え（ 135秒 ）

③ 3分53秒は何秒ですか。

3分 = 180秒だから、

$$\underline{180 + 53 = 233} \text{ (秒)}$$

答え（ 233秒 ）





時こくと時間の  
もとめかた 16

● ○分 △秒を秒で表す



日にち：            月            日

名まえ \_\_\_\_\_

・ □ にあてはまる数<sup>かず</sup>を答えましょう。

① 1分<sup>ぶん</sup>30秒<sup>びょう</sup> =  秒

② 1分15秒 =  秒

③ 2分10秒 =  秒

④ 2分47秒 =  秒

⑤ 3分20秒 =  秒

⑥ 3分42秒 =  秒



時こくと時間の  
もとめかた 16

○分△秒を秒で表す



日にち：            月            日

名まえ \_\_\_\_\_

・  にあてはまる<sup>かず</sup>数を答えましょう。

① 1分24秒 =  秒

② 1分5秒 =  秒

③ 2分17秒 =  秒

④ 2分39秒 =  秒

⑤ 3分7秒 =  秒

⑥ 3分50秒 =  秒



時こくと時間の  
もとめかた 16

● ○分 △秒を秒で表す



日にち：            月            日

名まえ \_\_\_\_\_

・ □ にあてはまる<sup>かず</sup>数を答えましょう。

① 1分18秒 =  秒

② 1分27秒 =  秒

③ 2分41秒 =  秒

④ 2分55秒 =  秒

⑤ 3分16秒 =  秒

⑥ 3分45秒 =  秒



時こくと時間の  
もとめかた 16

● ○分 △秒を秒で表す



日にち：            月            日

名まえ \_\_\_\_\_

・ □ にあてはまる<sup>かず</sup>数を答えましょう。

① 1分25秒 =  秒

② 1分32秒 =  秒

③ 2分19秒 =  秒

④ 2分33秒 =  秒

⑤ 3分46秒 =  秒

⑥ 3分28秒 =  秒





時こくと時間の  
もとめかた 16

● ○分△秒を秒で表す



日にち：            月            日

名まえ \_\_\_\_\_

・ □ にあてはまる<sup>かず</sup>数を答えましょう。

① 1分20秒 =  秒

② 1分12秒 =  秒

③ 2分34秒 =  秒

④ 2分54秒 =  秒

⑤ 3分29秒 =  秒

⑥ 3分55秒 =  秒



時こくと時間の  
もとめかた 16

● ○分 △秒を秒で表す



日にち：            月            日

名まえ \_\_\_\_\_

・ □ にあてはまる数<sup>かず</sup>を答えましょう。

① 2分17秒 =  秒

② 1分35秒 =  秒

③ 3分10秒 =  秒

④ 1分57秒 =  秒

⑤ 2分41秒 =  秒

⑥ 3分52秒 =  秒



時こくと時間の  
もとめかた 16

○分△秒を秒で表す



日にち：            月            日

名まえ \_\_\_\_\_

・ □ にあてはまる数<sup>かず</sup>を答えましょう。

① 3分17秒 =  秒

② 1分57秒 =  秒

③ 1分35秒 =  秒

④ 2分10秒 =  秒

⑤ 3分41秒 =  秒

⑥ 2分52秒 =  秒





時こくと時間の  
もとめかた 16

○分△秒を秒で表す



日にち：            月            日

名まえ \_\_\_\_\_

・ □ にあてはまる<sup>かず</sup>数を答えましょう。

① 2分24秒 =  秒

② 1分5秒 =  秒

③ 3分43秒 =  秒

④ 1分18秒 =  秒

⑤ 2分56秒 =  秒

⑥ 3分19秒 =  秒



時こくと時間の  
もとめかた 16

● ○分 △秒を秒で表す



日にち：            月            日

名まえ \_\_\_\_\_

・ □ にあてはまる<sup>かず</sup>数を答えましょう。

① 3分15秒 =  秒

② 1分9秒 =  秒

③ 2分52秒 =  秒

④ 1分26秒 =  秒

⑤ 2分11秒 =  秒

⑥ 3分30秒 =  秒



時こくと時間の  
もとめかた 16

● ○分 △秒を秒で表す



日にち：            月            日

名まえ \_\_\_\_\_

・ □ にあてはまる<sup>かず</sup>数を答えましょう。

① 3分45秒 =  秒

② 1分47秒 =  秒

③ 1分21秒 =  秒

④ 2分54秒 =  秒

⑤ 3分12秒 =  秒

⑥ 2分25秒 =  秒




時こくと時間の  
もとめかた 16

15

● ○分 △秒を秒で表す

めざせ100点!



名まえ

---

・  にあてはまる<sup>かず</sup>数を答えましょう。(各20点)

① 1分15秒 =  秒

② 3分10秒 =  秒

③ 2分46秒 =  秒

④ 1分47秒 =  秒

⑤ 2分45秒 =  秒




時こくと時間の  
もとめかた 16

○分△秒を秒で表す

16

めざせ100点!



名まえ \_\_\_\_\_

・  にあてはまる<sup>かず</sup>数を答えましょう。(各20点)

① 3分56秒 =  秒

② 1分2秒 =  秒

③ 2分48秒 =  秒

④ 1分19秒 =  秒

⑤ 3分24秒 =  秒