



時こくと時間の
もとめかた 14

○時間△分+○分 (時間の和)



日にち： 月 日

名まえ _____

・次の問いに答えましょう。(うすい字はなぞりましょう。)

ゆたかさんは、^{でんしゃ}電車と^{つか}バスを使って^{ゆうえんち}遊園地に行きました。

まず、電車に^{じかん}1時間^{ぶん}50分^の乗り、その後バスに^{あと}20分^の乗りました。乗り
^{もの}物に乗った時間は、あわせて何時間何分ですか。

式： 1時間50分+20分

$$\begin{array}{r}
 \begin{array}{l}
 \text{↑ くり上がる} \\
 \text{1 時間 70 分} \\
 \downarrow +1 \qquad \downarrow -60 \\
 \text{2 時間 10 分}
 \end{array}
 \end{array}$$

<筆算>

| |
|---|
| $ \begin{array}{r} \text{1 時 50 分} \\ + \qquad \text{20 分} \\ \hline \text{1 時 70 分} \end{array} $ |
|---|

答え (2時間10分)





時くと時間の
もとめかた 14



○時間△分+○分(時間の和)

日にち： 月 日

名まえ

・ 次の問いに答えましょう。(うすい字はなぞりましょう。)

- ① けんじさんは、^{てんしゃ}電車と^{つか}バスを使って^{ゆうえんち}遊園地に行きました。
まず、電車に2時間30分^{ぶん}乗り、その後バスに40分^{あと}乗りました。乗り^{もの}物に乗った時間は、あわせて何時間何分ですか。

式： 2時間30分+40分

$$\begin{array}{r} \begin{array}{r} \text{時間} \quad \text{分} \\ \downarrow +1 \quad \downarrow -60 \\ \text{時間} \quad \text{分} \end{array} \end{array}$$

↑ くり上がる

<筆算>

| | |
|-------|-----|
| 2時 | 30分 |
| + | 40分 |
| <hr/> | |
| 時 | 分 |

答え ()

- ② ゆかりさんは、^{てんしゃ}電車と^{つか}バスを使って^{うみ}海に行きました。
まず、電車に1時間50分^{ぶん}乗り、その後バスに30分^{あと}乗りました。乗り^{もの}物に乗った時間は、あわせて何時間何分ですか。

式： 1時間50分+30分

$$\begin{array}{r} \text{時間} \quad \text{分} \\ \text{時間} \quad \text{分} \end{array}$$

<筆算>

| | |
|-------|-----|
| 1時 | 50分 |
| + | 30分 |
| <hr/> | |
| 時 | 分 |

答え ()



時くと時間の
もとめかた 14

○時間△分+○分 (時間の和)



日にち： 月 日

名まえ _____

・ 次の問いに答えましょう。

- ① しょうさんは、^{じてんしゃ}自転車と^{つか}バスを使って^{ゆうえんち}遊園地に行きました。
 まず、^{じかん}自転車に1時間^{ふん}25分^の乗り、その後^{あと}バスに50分^の乗りました。乗
 り物^{もの}に乗った時間は、あわせて何時間何分ですか。

式： 1時間25分+50分

$$\begin{array}{r}
 \text{時間} \quad \text{分} \\
 \text{= 1時間} \quad 25 \text{分} + 50 \text{分} \\
 \text{= 2時間} \quad 15 \text{分}
 \end{array}$$

Diagram showing the conversion of 25 minutes to 1 hour and 5 minutes. An arrow labeled "くり上がる" (carry over) points from 25 minutes to 1 hour. Below, a "+1" arrow points to the hour column, and a "-60" arrow points from the hour column to the minute column.

<筆算>

| | |
|-------|-----|
| 1時 | 25分 |
| + | 50分 |
| <hr/> | |
| 2時 | 15分 |

答え ()

- ② ゆたかさんは、^{てんしゃ}電車と^{つか}バスを使って^{やま}山に行きました。
 まず、^{じかん}電車に2時間^{ふん}35分^の乗り、その後^{あと}バスに50分^の乗りました。乗
 物^{もの}に乗った時間は、あわせて何時間何分ですか。

式： 2時間35分+50分

$$\begin{array}{r}
 \text{時間} \quad \text{分} \\
 \text{= 2時間} \quad 35 \text{分} + 50 \text{分} \\
 \text{= 3時間} \quad 25 \text{分}
 \end{array}$$

<筆算>

| | |
|-------|-----|
| 2時 | 35分 |
| + | 50分 |
| <hr/> | |
| 3時 | 25分 |

答え ()



時こくと時間の
もとめかた 14

◎時間△分+○分(時間の和)



日にち： 月 日

名まえ _____

・次の問いに答えましょう。

- ① まさきさんは、電車とバスを使って魚つりに行きました。
まず、電車で1時間45分乗り、その後バスに30分乗りました。乗り物に乗った時間は、あわせて何時間何分ですか。

式：

<筆算>

| | | |
|---|-----|-------|
| | 1 時 | 4 5 分 |
| + | | 3 0 分 |
| | | |
| | 時 | 分 |

- ② しゅんさんは、車とバスを使って海に行きました。
まず、車に2時間50分乗り、その後バスに20分乗りました。乗り物に乗った時間は、あわせて何時間何分ですか。

式：

<筆算>

| | | |
|---|-----|-------|
| | 2 時 | 5 0 分 |
| + | | 2 0 分 |
| | | |
| | 時 | 分 |

答え ()



時こくと時間の
もとめかた 14

◎時間△分+○分 (時間の和)



日にち： 月 日

名まえ _____

・ 次の問いに答えましょう。

- ① まさきさんは、^{でんしゃ}電車と^{つか}バスを使って^{さかな}魚つりに^い行きました。
まず、^{じかん}電車に2時間^の45分乗り、^{あと}その後^{バス}バスに40分乗りました。乗り^{もの}物に乗った時間は、あわせて何時間何分ですか。

式：

<筆算>

| | | |
|-------|----|-----|
| | 2時 | 45分 |
| + | | 40分 |
| <hr/> | | |
| | 時 | 分 |

答え ()

- ② しゅんさんは、^{くるま}車と^{つか}バスを使って^{うみ}海に行きました。
まず、^{じかん}車に1時間^の20分乗り、^{あと}その後^{バス}バスに55分乗りました。乗り^{もの}物に乗った時間は、あわせて何時間何分ですか。

式：

<筆算>

| | | |
|-------|----|-----|
| | 1時 | 20分 |
| + | | 55分 |
| <hr/> | | |
| | 時 | 分 |

答え ()



時ごとと時間の
もとめかた 14



○時間△分+○分（時間の和）

日にち： 月 日

名まえ _____

・ 次の問いに答えましょう。

- ① ゆうこさんは、電車^{でんしゃ}とバス^{つか}を使って山^{やま}に行きます。
 まず、電車に1時間^{じかん}40分^の乗り、その後バスに50分^{あと}乗ります。乗り物^{もの}に
 乗る時間は、あわせて何時間何分ですか。

式：

<筆算>

| | | |
|---|---|---|
| | 時 | 分 |
| + | | 分 |
| | | |
| | 時 | 分 |

答え（ ）

- ② けんじさんは、車とバスを使って海に行きました。
 まず、車に1時間50分乗り、その後バスに30分乗りました。乗り物
 に乗った時間は、あわせて何時間何分ですか。

式：

<筆算>

| | | |
|---|---|---|
| | 時 | 分 |
| + | | 分 |
| | | |
| | 時 | 分 |

答え（ ）



時こくと時間の
もとめかた 14

● ○時間△分+○分 (時間の和)



日にち： 月 日

名まえ _____

・ 次の問いに答えましょう。

- ① けんたさんは、電車^{でんしゃ}とバス^{つか}を使って山^{やま}に行きます。
まず、電車に1時間^{じかん}25分^の乗り、その後バスに45分^{あと}乗ります。乗り物^{もの}に乗る時間は、あわせて何時間何分ですか。

式：

<筆算>

| | | |
|-------|---|---|
| | 時 | 分 |
| + | | 分 |
| <hr/> | | |
| | 時 | 分 |

答え（ ）

- ② はなこさんは、飛行機^{ひこうき}とバスを使って海に行きました。
まず、飛行機に1時間50分乗り、その後バスに35分乗りました。乗り物に乗った時間は、あわせて何時間何分ですか。

式：

<筆算>

| | | |
|-------|---|---|
| | 時 | 分 |
| + | | 分 |
| <hr/> | | |
| | 時 | 分 |

答え（ ）





時こくと時間の
もとめかた 14

◎時間△分+○分(時間の和)



日にち： 月 日

名まえ _____

・次の問いに答えましょう。

- ① しょうさんは、^{じてんしゃ}自転車と^{つか}バスを使って^{ゆうえんち}遊園地に行きました。
まず、自転車に1時間^{じかん}50分^の乗り、その後^{あと}バスに25分乗りました。乗
り物^{もの}に乗った時間は、あわせて何時間何分ですか。

式：

<筆算>

| | | |
|---|---|---|
| | 時 | 分 |
| + | | 分 |
| | 時 | 分 |

答え ()

- ② ゆたかさんは、^{てんしや}電車とバスを使って山に行きました。
まず、電気に2時間45分乗り、その後バスに40分乗りました。乗
り物に乗った時間は、あわせて何時間何分ですか。

式：

<筆算>

| | | |
|---|---|---|
| | 時 | 分 |
| + | | 分 |
| | 時 | 分 |

答え ()




時こくと時間の
もとめかた 14

15

○時間△分+○分 (時間の和)

めざせ75点!



名まえ _____

・次の問いに答えましょう。(式・答え 各25点)

- ① みなさんは、電車とバスを使って川に行きます。
 まず、電車で1時間50分乗り、その後バスに30分乗ります。乗り物
 に乗る時間は、あわせて何時間何分ですか。

式：

<筆算>

| | | |
|-------|---|---|
| | 時 | 分 |
| + | | 分 |
| <hr/> | | |
| | 時 | 分 |

答え ()

- ② けんさんは、飛行機と電車を使って遊園地に行きました。
 まず、飛行機に1時間40分乗り、その後電車に50分乗りました。乗
 り物に乗った時間は、あわせて何時間何分ですか。

式：

<筆算>

| | | |
|-------|---|---|
| | 時 | 分 |
| + | | 分 |
| <hr/> | | |
| | 時 | 分 |

そろえる⇒

答え ()




時こくと時間の
もとめかた 14

16

○時間△分+○分 (時間の和)

めざせ75点!



名まえ _____

・次の問いに答えましょう。(式・答え 各25点)

- ① まさきさんは、電車とバスを使って魚つりに行きました。
 まず、電車に1時間55分乗り、その後バスに35分乗りました。乗り
 物に乗った時間は、あわせて何時間何分ですか。

式：

<筆算>

| | | |
|-------|---|---|
| | 時 | 分 |
| + | | 分 |
| <hr/> | | |
| | 時 | 分 |

答え ()

- ② ゆたかさんは、電車とバスを使って山に行きました。
 まず、電車に2時間45分乗り、その後バスに40分乗りました。乗り
 物に乗った時間は、あわせて何時間何分ですか。

式：

<筆算>

| | | |
|-------|---|---|
| | 時 | 分 |
| + | | 分 |
| <hr/> | | |
| | 時 | 分 |

答え ()



時こくと時間の もとめかた 14

○時間△分+○分 (時間の和)



日にち： 月 日

名まえ _____

・ 次の問いに答えましょう。(うすい字はなぞりましょう。)

ゆたかさんは、^{でんしゃ}電車と^{つか}バスを使って^{ゆうえんち}遊園地に行きました。

まず、電車に1時間50分^{じ かん ぶん の}乗り、その後バスに20分^{あと}乗りました。乗り^{もの}物に乗った時間は、あわせて何時間何分ですか。

式： 1時間50分+20分

$$\begin{array}{r}
 \begin{array}{l}
 \text{↑} \\
 \text{くり上がる} \\
 \text{↓}
 \end{array} \\
 = \begin{array}{l}
 1 \text{ 時間 } 70 \text{ 分} \\
 \downarrow +1 \qquad \downarrow -60 \\
 2 \text{ 時間 } 10 \text{ 分}
 \end{array}
 \end{array}$$

<筆算>

| |
|--------------------|
| 1 時 5 0 分 |
| + 2 0 分 |
| 1 時 7 0 分 |

答え (2 時間 1 0 分)





時こくと時間の
もとめかた 14

○時間△分+○分 (時間の和)



日にち： 月 日

名まえ _____

・ 次の問いに答えましょう。(うすい字はなぞりましょう。)

- ① けんじさんは、電車とバスを使って遊園地に行きました。
まず、電車に2時間30分乗り、その後バスに40分乗りました。乗り物に乗った時間は、あわせて何時間何分ですか。

式： 2時間30分+40分

$$\begin{array}{r}
 \begin{array}{r}
 \text{くり上がる} \\
 \curvearrowright \\
 2 \text{ 時間 } 30 \text{ 分} \\
 \downarrow +1 \qquad \downarrow -60 \\
 3 \text{ 時間 } 10 \text{ 分}
 \end{array} \\
 = \\
 =
 \end{array}$$

<筆算>

| |
|--------|
| 2時 30分 |
| + |
| 40分 |
| 2時 70分 |

答え (3時間10分)

- ② ゆかりさんは、電車とバスを使って海に行きました。
まず、電車に1時間50分乗り、その後バスに30分乗りました。乗り物に乗った時間は、あわせて何時間何分ですか。

式： 1時間50分+30分

$$\begin{array}{r}
 \begin{array}{r}
 \text{くり上がる} \\
 \curvearrowright \\
 1 \text{ 時間 } 50 \text{ 分} \\
 \downarrow +1 \qquad \downarrow -60 \\
 2 \text{ 時間 } 20 \text{ 分}
 \end{array} \\
 = \\
 =
 \end{array}$$

<筆算>

| |
|--------|
| 1時 50分 |
| + |
| 30分 |
| 1時 80分 |

答え (2時間20分)



時こくと時間の
もとめかた 14

○時間△分+○分 (時間の和)



日にち： 月 日

名まえ _____

・ 次の問いに答えましょう。

- ① はるかさんは、^{じてんしゃ}自転車と^{つか}バスを使って^{ゆうえんち}遊園地に行きました。
まず、自転車に1時間^{じかん}30分^{ぶんの}乗り、その後バスに50分^{あと}乗りました。乗
り物^{もの}に乗った時間は、あわせて何時間何分ですか。

式： 1時間30分+50分

$$\begin{array}{r}
 \begin{array}{r}
 \text{↑} \\
 \text{くり上がる} \\
 \text{↓}
 \end{array} \\
 = \begin{array}{r}
 1 \text{ 時間 } 30 \text{ 分} \\
 + \\
 \hline
 1 \text{ 時間 } 80 \text{ 分} \\
 \begin{array}{r}
 \text{↓} +1 \\
 \text{↓} -60
 \end{array} \\
 2 \text{ 時間 } 20 \text{ 分}
 \end{array}
 \end{array}$$

<筆算>

| |
|-------------------|
| 1 時 30 分 |
| + 50 分 |
| 1 時 80 分 |

答え (2 時間 20 分)

- ② ゆかりさんは、^{てんしゃ}電車と^{つか}バスを使って^{やま}山に行きました。
まず、電車に2時間^{じかん}40分^{ぶんの}乗り、その後バスに50分^{あと}乗りました。乗
り物^{もの}に乗った時間は、あわせて何時間何分ですか。

式： 2時間40分+50分

$$\begin{array}{r}
 \begin{array}{r}
 \text{↑} \\
 \text{くり上がる} \\
 \text{↓}
 \end{array} \\
 = \begin{array}{r}
 2 \text{ 時間 } 40 \text{ 分} \\
 + \\
 \hline
 2 \text{ 時間 } 90 \text{ 分} \\
 \begin{array}{r}
 \text{↓} +1 \\
 \text{↓} -60
 \end{array} \\
 3 \text{ 時間 } 30 \text{ 分}
 \end{array}
 \end{array}$$

<筆算>

| |
|-------------------|
| 2 時 40 分 |
| + 50 分 |
| 2 時 90 分 |

答え (3 時間 30 分)



時くと時間の
もとめかた 14

○時間△分+○分 (時間の和)



日にち： 月 日

名まえ _____

・ 次の問いに答えましょう。

- ① しょうさんは、自転車とバスを使って遊園地に行きました。
まず、自転車に1時間25分乗り、その後バスに50分乗りました。乗り物に乗った時間は、あわせて何時間何分ですか。

式： 1時間25分+50分

$$\begin{array}{r}
 \begin{array}{r}
 \text{くり上がる} \\
 \curvearrowright \\
 1 \text{ 時間 } 25 \text{ 分} \\
 \downarrow +1 \qquad \downarrow -60 \\
 2 \text{ 時間 } 15 \text{ 分}
 \end{array} \\
 = \\
 1 \text{ 時間 } 25 \text{ 分} \\
 + \\
 50 \text{ 分} \\
 \hline
 1 \text{ 時間 } 75 \text{ 分}
 \end{array}$$

<筆算>

| |
|-------------------|
| 1 時 25 分 |
| + 50 分 |
| 1 時 75 分 |

答え (2 時間 15 分)

- ② ゆたかさんは、電車とバスを使って山に行きました。
まず、電車に2時間35分乗り、その後バスに50分乗りました。乗り物に乗った時間は、あわせて何時間何分ですか。

式： 2時間35分+50分

$$\begin{array}{r}
 \begin{array}{r}
 \text{くり上がる} \\
 \curvearrowright \\
 2 \text{ 時間 } 35 \text{ 分} \\
 \downarrow +1 \qquad \downarrow -60 \\
 3 \text{ 時間 } 25 \text{ 分}
 \end{array} \\
 = \\
 2 \text{ 時間 } 35 \text{ 分} \\
 + \\
 50 \text{ 分} \\
 \hline
 2 \text{ 時間 } 85 \text{ 分}
 \end{array}$$

<筆算>

| |
|-------------------|
| 2 時 35 分 |
| + 50 分 |
| 2 時 85 分 |

答え (3 時間 25 分)



時こくと時間の
もとめかた 14

○時間△分+○分 (時間の和)



日にち： 月 日

名まえ _____

・ 次の問いに答えましょう。

- ① じゅんさんは、^{でんしゃ}電車と^{つか}バスを使って^{やま}山に行きました。
まず、電車に1時間^{じかん}35分^{ふん}乗り、その後^{あと}バスに50分乗りました。乗り^{もの}物に乗った時間は、あわせて何時間何分ですか。

式： 1時間35分 + 50分

= 1時間85分

= 2時間25分

<筆算>

| | |
|---|--------|
| | 1時 35分 |
| + | 50分 |
| | |
| | 1時 85分 |

答え (2時間25分)

- ② けんじさんは、^{くるま}車と^{つか}バスを使って^{うみ}海に行きました。
まず、車に1時間^{じかん}50分^{ふん}乗り、その後^{あと}バスに20分乗りました。乗り^{もの}物に乗った時間は、あわせて何時間何分ですか。

式： 1時間50分 + 20分

= 1時間70分

= 2時間10分

<筆算>

| | |
|---|--------|
| | 1時 50分 |
| + | 20分 |
| | |
| | 1時 70分 |

答え (2時間10分)



時こくと時間の
もとめかた 14

○時間△分+○分 (時間の和)



日にち： 月 日

名まえ _____

・ 次の問いに答えましょう。

- ① まさきさんは、電車とバスを使って魚つりに行きました。
まず、電車に1時間45分乗り、その後バスに30分乗りました。乗り物に乗った時間は、あわせて何時間何分ですか。

式： 1時間45分 + 30分

= 1時間75分

= 2時間15分

<筆算>

| | | |
|-------|----|-----|
| | 1時 | 45分 |
| + | | 30分 |
| <hr/> | | |
| | 1時 | 75分 |

答え (2時間15分)

- ② しゅんさんは、車とバスを使って海に行きました。
まず、車に2時間50分乗り、その後バスに20分乗りました。乗り物に乗った時間は、あわせて何時間何分ですか。

式： 2時間50分 + 20分

= 2時間70分

= 3時間10分

<筆算>

| | | |
|-------|----|-----|
| | 2時 | 50分 |
| + | | 20分 |
| <hr/> | | |
| | 2時 | 70分 |

答え (3時間10分)



時こくと時間の
もとめかた 14

○時間△分+○分 (時間の和)



日にち： 月 日

名まえ _____

・ 次の問いに答えましょう。

- ① まさきさんは、電車とバスを使って魚つりに行きました。
まず、電車で2時間45分乗り、その後バスに40分乗りました。乗り物に乗った時間は、あわせて何時間何分ですか。

式： 2時間45分 + 40分

= 2時間85分

= 3時間25分

<筆算>

| | | |
|-------|----|-----|
| | 2時 | 45分 |
| + | | 40分 |
| <hr/> | | |
| | 1時 | 85分 |

答え (3時間25分)

- ② しゅんさんは、車とバスを使って海に行きました。
まず、車に1時間20分乗り、その後バスに55分乗りました。乗り物に乗った時間は、あわせて何時間何分ですか。

式： 1時間20分 + 55分

= 1時間75分

= 2時間15分

<筆算>

| | | |
|-------|----|-----|
| | 1時 | 20分 |
| + | | 55分 |
| <hr/> | | |
| | 1時 | 75分 |

答え (2時間15分)





時こくと時間の
もとめかた 14

○時間△分+○分 (時間の和)



日にち： 月 日

名まえ _____

・ 次の問いに答えましょう。

- ① ゆたかさんは、電車とバスを使ってスキーに行きました。
まず、電車に1時間55分乗り、その後バスに20分乗りました。乗り物に乗った時間は、あわせて何時間何分ですか。

式： 1時間55分 + 25分

= 1時間80分

= 2時間20分

<筆算>

| | | |
|-------|----|-----|
| | 1時 | 55分 |
| + | | 25分 |
| <hr/> | | |
| | 1時 | 80分 |

答え (2時間20分)

- ② しゅんさんは、飛行機とバスを使って海に行きました。
まず、飛行機に2時間45分乗り、その後バスに45分乗りました。乗り物に乗った時間は、あわせて何時間何分ですか。

式： 2時間45分 + 45分

= 2時間90分

= 3時間30分

<筆算>

| | | |
|-------|----|-----|
| | 2時 | 45分 |
| + | | 45分 |
| <hr/> | | |
| | 2時 | 90分 |

答え (3時間30分)



時こくと時間の
もとめかた 14

○時間△分+○分 (時間の和)



日にち： 月 日

名まえ _____

・ 次の問いに答えましょう。

- ① まさきさんは、電車とバスを使って魚つりに行きました。
まず、電車に1時間25分乗り、その後バスに50分乗りました。乗り物に乗った時間は、あわせて何時間何分ですか。

式： 1時間25分 + 50分

= 1時間75分

= 2時間15分

<筆算>

| | |
|---|--------|
| | 1時 25分 |
| + | 50分 |
| | |
| | 1時 75分 |

答え (2時間15分)

- ② はるかさんは、車とバスを使って山に行きました。
まず、車に2時間25分乗り、その後バスに45分乗りました。乗り物に乗った時間は、あわせて何時間何分ですか。

式： 2時間25分 + 45分

= 2時間70分

= 3時間10分

<筆算>

| | |
|---|--------|
| | 2時 25分 |
| + | 45分 |
| | |
| | 2時 70分 |

答え (3時間10分)



時こくと時間の
もとめかた 14

○時間△分+○分 (時間の和)



日にち： 月 日

名まえ _____

・ 次の問いに答えましょう。

- ① ゆうこさんは、電車とバスを使って山に行きます。
まず、電車に1時間40分乗り、その後バスに50分乗ります。乗り物に乗る時間は、あわせて何時間何分ですか。

$$\begin{aligned} \text{式：} & \quad 1 \text{ 時間 } 40 \text{ 分} + 50 \text{ 分} \\ & = 1 \text{ 時間 } 90 \text{ 分} \\ & = 2 \text{ 時間 } 30 \text{ 分} \end{aligned}$$

<筆算>

| | |
|-------|----------|
| | 1 時 40 分 |
| + | 50 分 |
| <hr/> | |
| | 1 時 90 分 |

答え (2 時間 30 分)

- ② けんじさんは、車とバスを使って海に行きました。
まず、車に1時間50分乗り、その後バスに30分乗りました。乗り物に乗った時間は、あわせて何時間何分ですか。

$$\begin{aligned} \text{式：} & \quad 1 \text{ 時間 } 50 \text{ 分} + 30 \text{ 分} \\ & = 1 \text{ 時間 } 80 \text{ 分} \\ & = 2 \text{ 時間 } 20 \text{ 分} \end{aligned}$$

<筆算>

| | |
|-------|----------|
| | 1 時 50 分 |
| + | 30 分 |
| <hr/> | |
| | 1 時 80 分 |

答え (2 時間 20 分)



時こくと時間の
もとめかた 14

○時間△分+○分 (時間の和)



日にち： 月 日

名まえ _____

・ 次の問いに答えましょう。

- ① ゆうこさんは、電車とバスを使って山に行きます。
まず、電車に2時間45分乗り、その後バスに35分乗ります。乗り物に乗る時間は、あわせて何時間何分ですか。

式： 2時間45分 + 35分

= 2時間80分

= 3時間20分

<筆算>

| | |
|----|-----|
| 2時 | 45分 |
| + | 35分 |
| | |
| 2時 | 80分 |

答え (3時間20分)

- ② ゆりこさんは、車とバスを使って海に行きました。
まず、車に1時間50分乗り、その後バスに45分乗りました。乗り物に乗った時間は、あわせて何時間何分ですか。

式： 1時間50分 + 45分

= 1時間95分

= 2時間35分

<筆算>

| | |
|----|-----|
| 1時 | 50分 |
| + | 45分 |
| | |
| 1時 | 95分 |

答え (2時間35分)



時こくと時間の
もとめかた 14

○時間△分+○分 (時間の和)



日にち： 月 日

名まえ _____

・ 次の問いに答えましょう。

- ① ゆうこさんは、電車とバスを使って山に行きます。
 まず、電車に2時間40分乗り、その後バスに45分乗ります。乗り物
 に乗る時間は、あわせて何時間何分ですか。

$$\begin{aligned} \text{式：} & \quad 2 \text{ 時間 } 40 \text{ 分} + 45 \text{ 分} \\ & = 2 \text{ 時間 } 85 \text{ 分} \\ & = 3 \text{ 時間 } 25 \text{ 分} \end{aligned}$$

<筆算>

| |
|-----------|
| 2 時 4 0 分 |
| + |
| 4 5 分 |
| 2 時 8 5 分 |

答え (3 時間 2 5 分)

- ② しゅんさんは、飛行機とバスを使って海に行きました。
 まず、飛行機に2時間55分乗り、その後バスに25分乗りました。乗
 り物に乗った時間は、あわせて何時間何分ですか。

$$\begin{aligned} \text{式：} & \quad 2 \text{ 時間 } 55 \text{ 分} + 25 \text{ 分} \\ & = 2 \text{ 時間 } 80 \text{ 分} \\ & = 3 \text{ 時間 } 20 \text{ 分} \end{aligned}$$

<筆算>

| |
|-----------|
| 2 時 5 5 分 |
| + |
| 2 5 分 |
| 2 時 8 0 分 |

答え (3 時間 2 0 分)



時こくと時間の
もとめかた 14

○時間△分+○分 (時間の和)



日にち： 月 日

名まえ _____

・ 次の問いに答えましょう。

- ① けんたさんは、電車とバスを使って山に行きます。
まず、電車に1時間25分乗り、その後バスに45分乗ります。乗り物
に乗る時間は、あわせて何時間何分ですか。

$$\begin{aligned} \text{式：} & \quad 1 \text{ 時間 } 25 \text{ 分} + 45 \text{ 分} \\ & = 1 \text{ 時間 } 70 \text{ 分} \\ & = 2 \text{ 時間 } 10 \text{ 分} \end{aligned}$$

<筆算>

| | |
|-------|----------|
| | 1 時 25 分 |
| + | 45 分 |
| <hr/> | |
| | 1 時 70 分 |

答え (2 時間 10 分)

- ② はなこさんは、飛行機とバスを使って海に行きました。
まず、飛行機に1時間50分乗り、その後バスに35分乗りました。乗
り物に乗った時間は、あわせて何時間何分ですか。

$$\begin{aligned} \text{式：} & \quad 1 \text{ 時間 } 50 \text{ 分} + 35 \text{ 分} \\ & = 1 \text{ 時間 } 85 \text{ 分} \\ & = 2 \text{ 時間 } 25 \text{ 分} \end{aligned}$$

<筆算>

| | |
|-------|----------|
| | 1 時 50 分 |
| + | 35 分 |
| <hr/> | |
| | 1 時 85 分 |

答え (2 時間 25 分)



時こくと時間の
もとめかた 14

○時間△分+○分 (時間の和)



日にち： 月 日

名まえ _____

・ 次の問いに答えましょう。

- ① しょうさんは、自転車とバスを使って遊園地に行きました。
まず、自転車に1時間50分乗り、その後バスに25分乗りました。乗り物に乗った時間は、あわせて何時間何分ですか。

式： 1時間50分 + 25分

= 1時間75分

= 2時間15分

<筆算>

| | |
|---|-------|
| | 1時50分 |
| + | 25分 |
| | |
| | 1時75分 |

答え (2時間15分)

- ② ゆたかさんは、電車とバスを使って山に行きました。
まず、電車に2時間45分乗り、その後バスに40分乗りました。乗り物に乗った時間は、あわせて何時間何分ですか。

式： 2時間45分 + 40分

= 2時間85分

= 3時間25分

<筆算>

| | |
|---|-------|
| | 2時45分 |
| + | 40分 |
| | |
| | 3時25分 |

答え (3時間25分)




時こくと時間の
もとめかた 14

15

○時間△分+○分 (時間の和)

めざせ75点!



名まえ _____

・次の問いに答えましょう。(式・答え 各25点)

- ① みなさんは、電車とバスを使って川に行きます。
まず、電車に1時間50分乗り、その後バスに30分乗ります。乗り物
に乗る時間は、あわせて何時間何分ですか。

$$\begin{aligned} \text{式：} & \quad 1 \text{ 時間 } 50 \text{ 分} + 30 \text{ 分} \\ & = 1 \text{ 時間 } 80 \text{ 分} \\ & = 2 \text{ 時間 } 20 \text{ 分} \end{aligned}$$

<筆算>

| | |
|---|----------|
| | 1 時 50 分 |
| + | 30 分 |
| | |
| | 1 時 80 分 |

答え (2 時間 20 分)

- ② けんさんは、飛行機と電車を使って遊園地に行きました。
まず、飛行機に1時間40分乗り、その後電車に50分乗りました。乗
り物に乗った時間は、あわせて何時間何分ですか。

$$\begin{aligned} \text{式：} & \quad 1 \text{ 時間 } 40 \text{ 分} + 50 \text{ 分} \\ & = 1 \text{ 時間 } 90 \text{ 分} \\ & = 2 \text{ 時間 } 30 \text{ 分} \end{aligned}$$

<筆算>

| | |
|---|----------|
| | 1 時 40 分 |
| + | 50 分 |
| | |
| | 1 時 90 分 |

答え (2 時間 30 分)




時こくと時間の
もとめかた 14

○時間△分+○分 (時間の和)



めざせ75点!



名まえ _____

・次の問いに答えましょう。(式・答え 各25点)

- ① まさきさんは、電車とバスを使って魚つりに行きました。
まず、電車に1時間55分乗り、その後バスに35分乗りました。乗り物に乗った時間は、あわせて何時間何分ですか。

$$\begin{aligned} \text{式：} & \quad 1 \text{ 時間 } 55 \text{ 分} + 35 \text{ 分} \\ & = 1 \text{ 時間 } 90 \text{ 分} \\ & = 2 \text{ 時間 } 30 \text{ 分} \end{aligned}$$

<筆算>

| | |
|---|----------|
| | 1 時 55 分 |
| + | 35 分 |
| | |
| | 1 時 90 分 |

答え (2 時間 30 分)

- ② ゆたかさんは、電車とバスを使って山に行きました。
まず、電車に2時間45分乗り、その後バスに40分乗りました。乗り物に乗った時間は、あわせて何時間何分ですか。

$$\begin{aligned} \text{式：} & \quad 2 \text{ 時間 } 45 \text{ 分} + 40 \text{ 分} \\ & = 2 \text{ 時間 } 85 \text{ 分} \\ & = 3 \text{ 時間 } 25 \text{ 分} \end{aligned}$$

<筆算>

| | |
|---|----------|
| | 2 時 45 分 |
| + | 40 分 |
| | |
| | 2 時 85 分 |

答え (3 時間 25 分)