



時こくと時間の
もとめかた 5

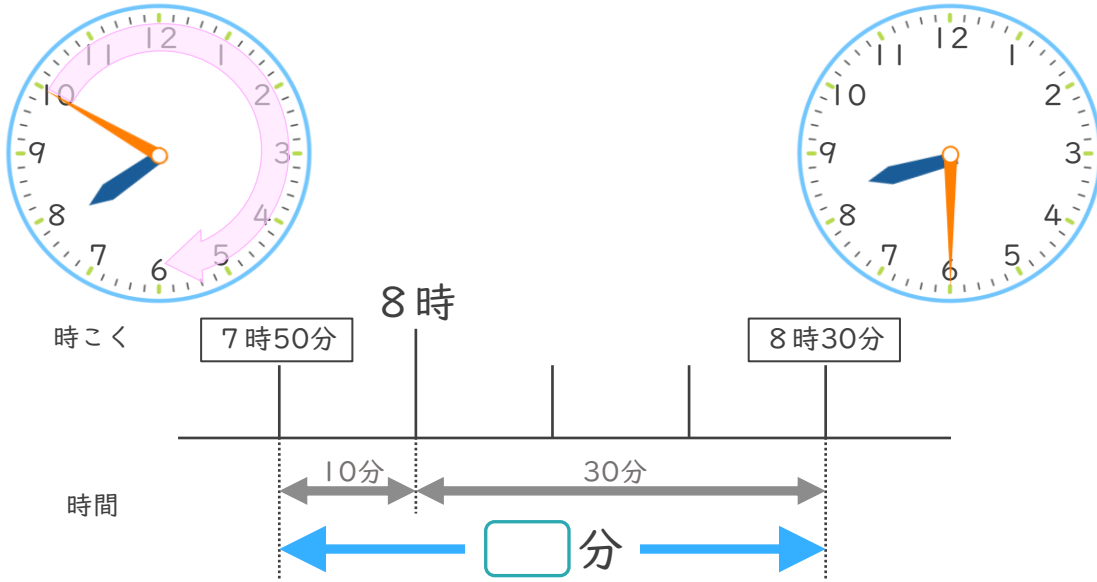
● かかった時間を
もとめる (時計)



日にち： 月 日

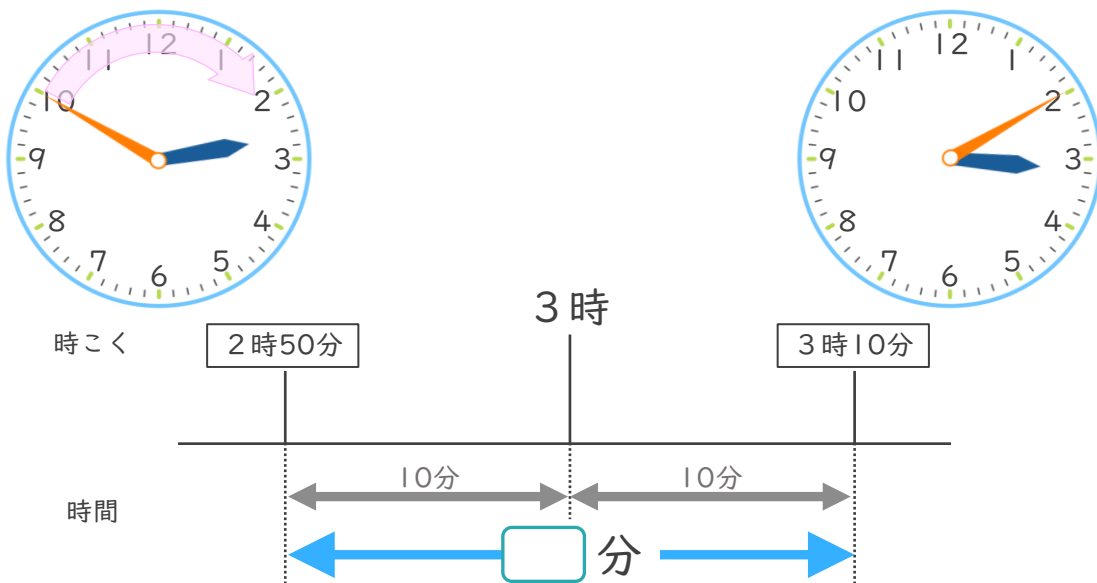
名まえ _____

- ① 学校を7時50分に出て、公園に8時30分に着きました。学校から公園まで、かかった時間は何分ですか。



答え ()

- ② 駅を2時50分に出て、図書館に3時10分に着きました。駅から図書館まで、かかった時間は何分ですか。



答え ()



時こくと時間の
もとめかた 5

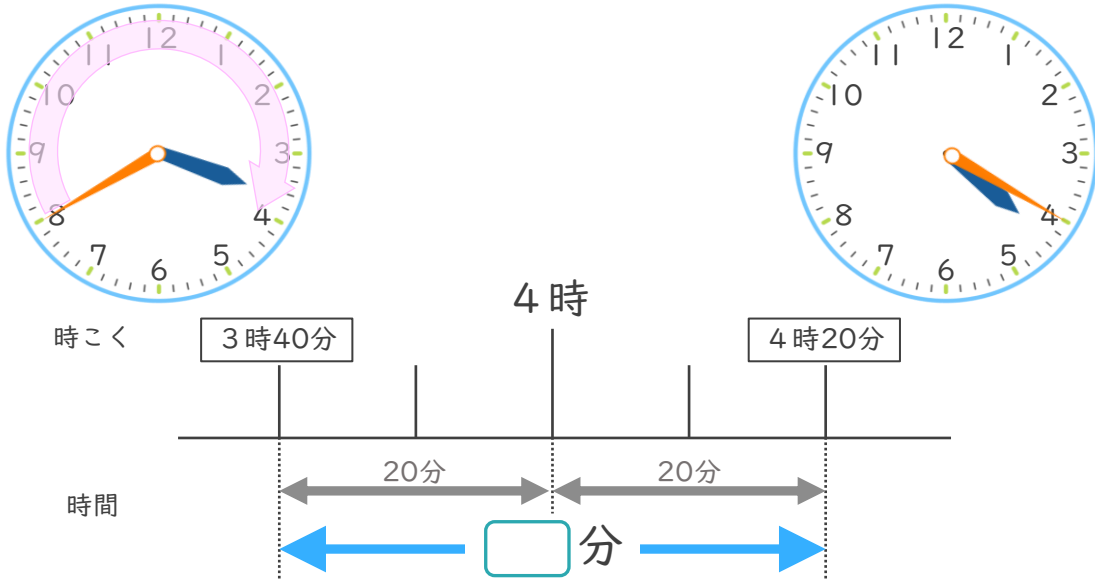
● かかった時間を
もとめる (時計)



日にち： 月 日

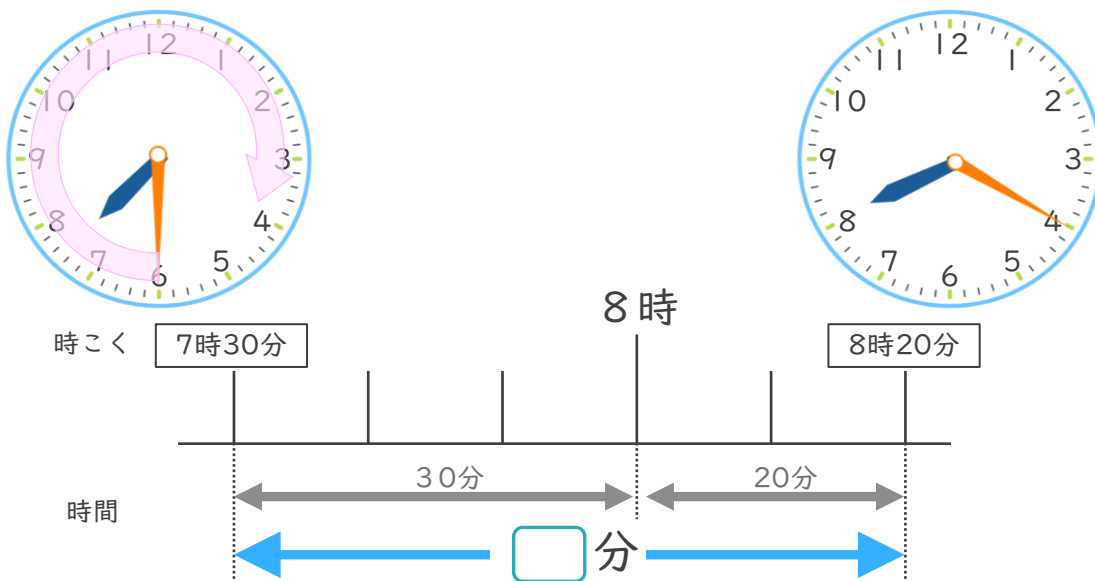
名まえ _____

- ① 学校を3時40分に出て、公園に4時20分に着きました。学校から公園まで、かかった時間は何分ですか。



答え ()

- ② 家を7時30分に出て、病院に8時20分に着きました。家から病院まで、かかった時間は何分ですか。



答え ()



時こくと時間の
もとめかた 5

● かかった時間を
もとめる (時計)

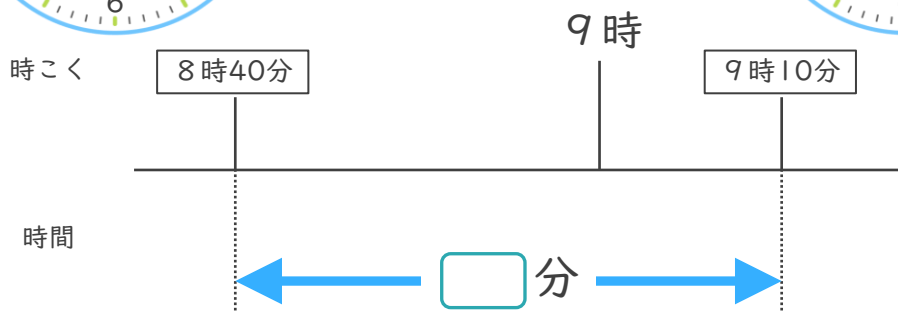


めざせ75点!



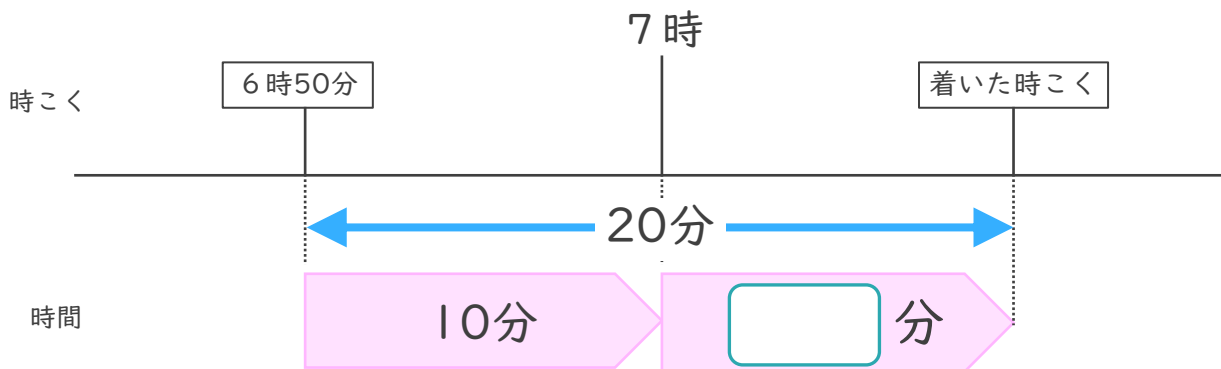
名まえ _____

1 学校を8時40分に出て、交番に9時10分に着きました。学校から交番まで、かかった時間は何分ですか。(50点)



答え ()

2 家を午前6時50分に出て、20分歩くと公園に着きました。



① にあてはまる数を書きましょう。(25点)

② 公園に着いた時こくは何時何分ですか。(25点)

答え ()



時こくと時間の もとめかた 5

● かかった時間を
もとめる (時計)

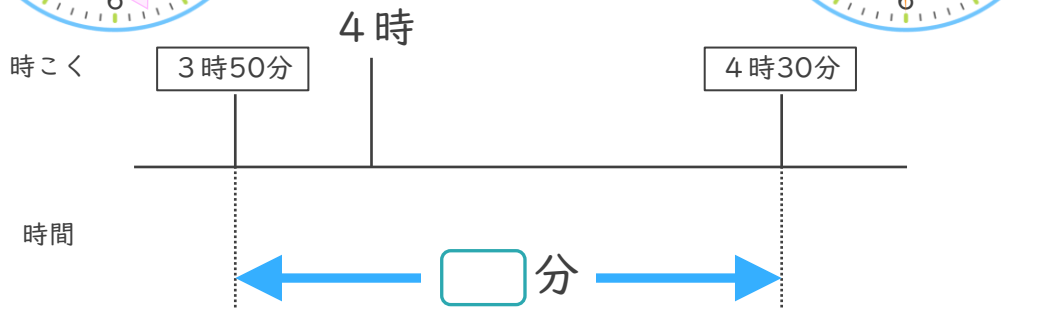
16

めざせ75点!



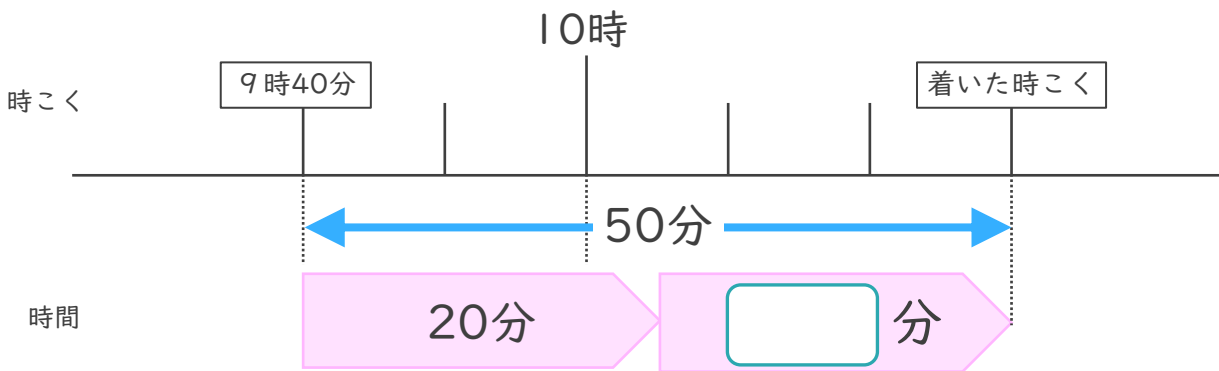
名まえ

1 学校を3時50分に出て、公園に4時30分に着きました。学校から公園まで、かかった時間は何分ですか。(50点)



答え ()

2 家を午前9時40分に出て、50分歩くと公園に着きました。



① にあてはまる数を書きましょう。(25点)

② 公園に着いた時こくは何時何分ですか。(25点)

答え ()



時こくと時間の
もとめかた 5

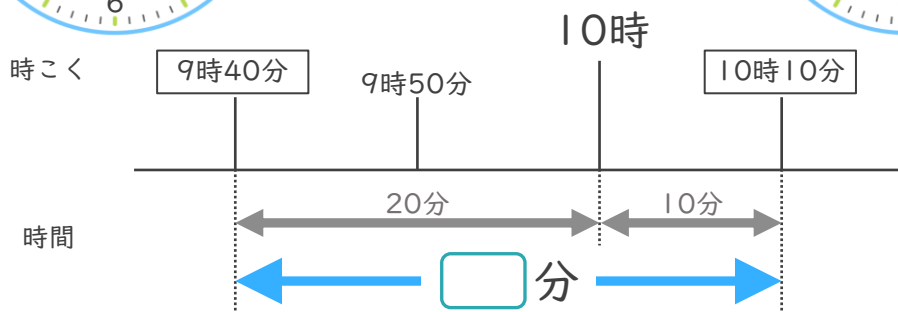
● かかった時間を
もとめる (時計)



日にち： 月 日

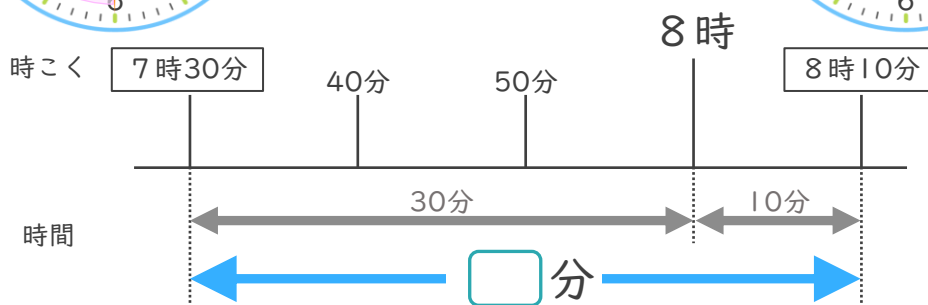
名まえ _____

- ① 学校を9時40分に出て、公園に10時10分に着きました。学校から公園まで、かかった時間は何分ですか。(うすい字はなぞりましよう。)



答え (30分)

- ② 駅を7時30分に出て、図書館に8時10分に着きました。駅から図書館まで、かかった時間は何分ですか。



答え (40分)





時こくと時間の
もとめかた 5

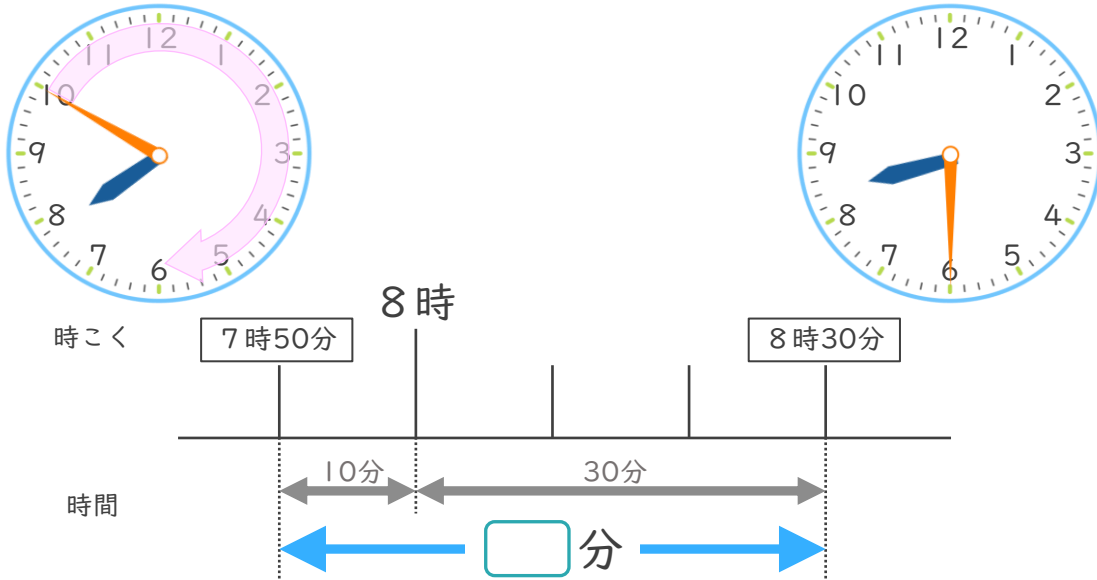
● かかった時間を
もとめる (時計)



日にち： 月 日

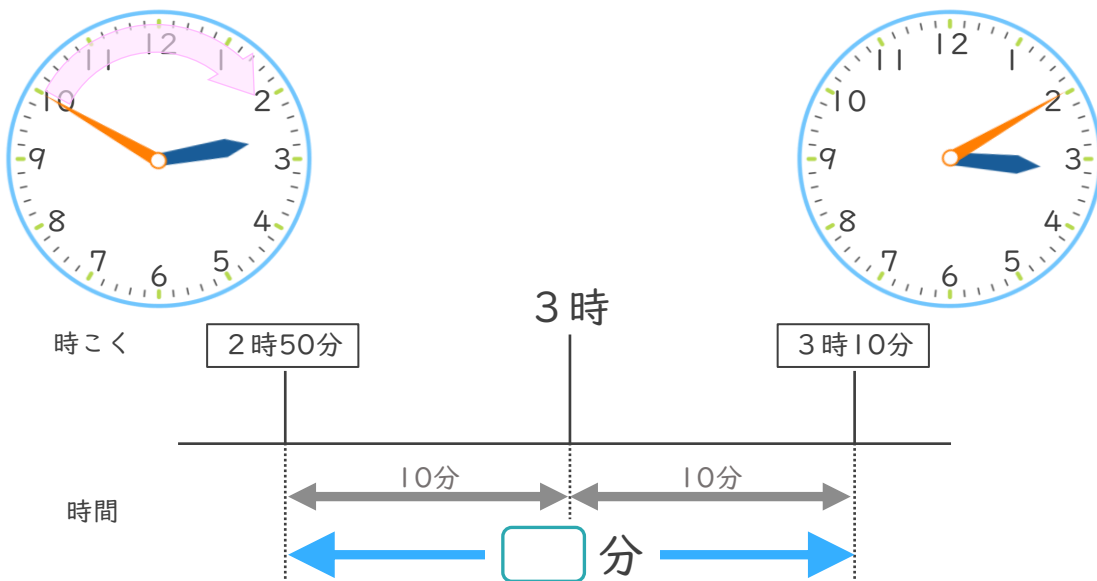
名まえ _____

- ① 学校を7時50分に出て、公園に8時30分に着きました。学校から公園まで、かかった時間は何分ですか。



答え (40分)

- ② 駅を2時50分に出て、図書館に3時10分に着きました。駅から図書館まで、かかった時間は何分ですか。



答え (20分)





時こくと時間の
もとめかた 5

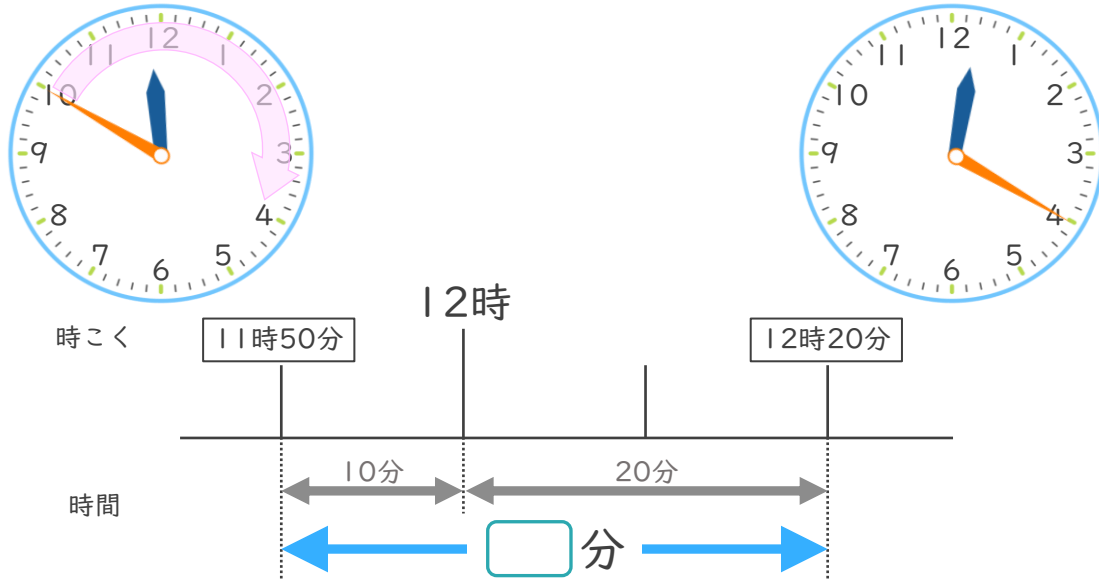
● かかった時間を
もとめる (時計)



日にち： 月 日

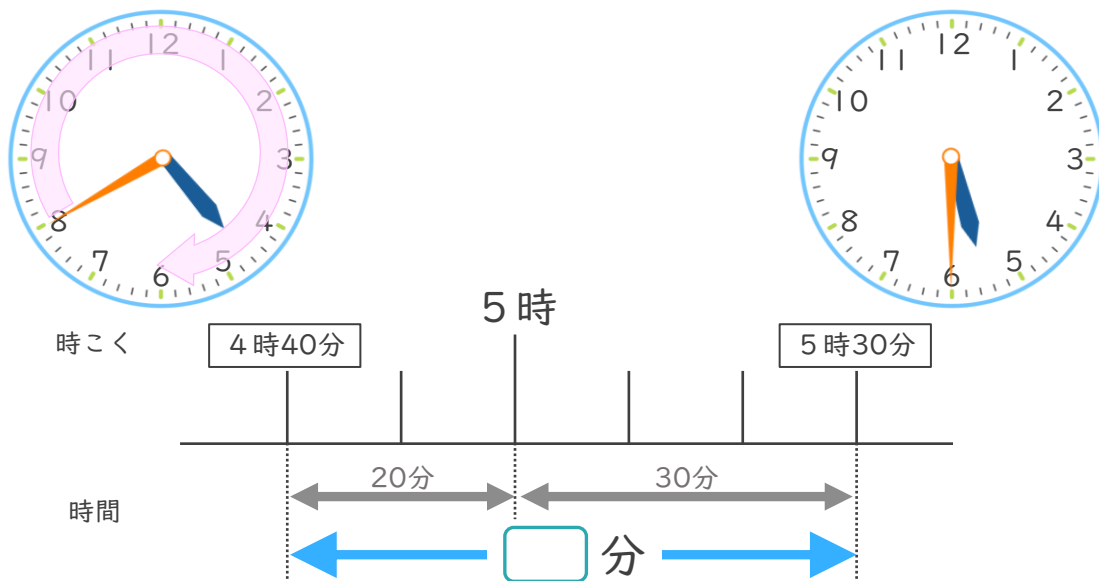
名まえ _____

- ① 本屋を11時50分に出て、公園に12時20分に着きました。本屋から公園まで、かかった時間は何分ですか。



答え (30分)

- ② 駅を4時40分に出て、図書館に5時30分に着きました。駅から図書館まで、かかった時間は何分ですか。



答え (50分)





時こくと時間の
もとめかた 5

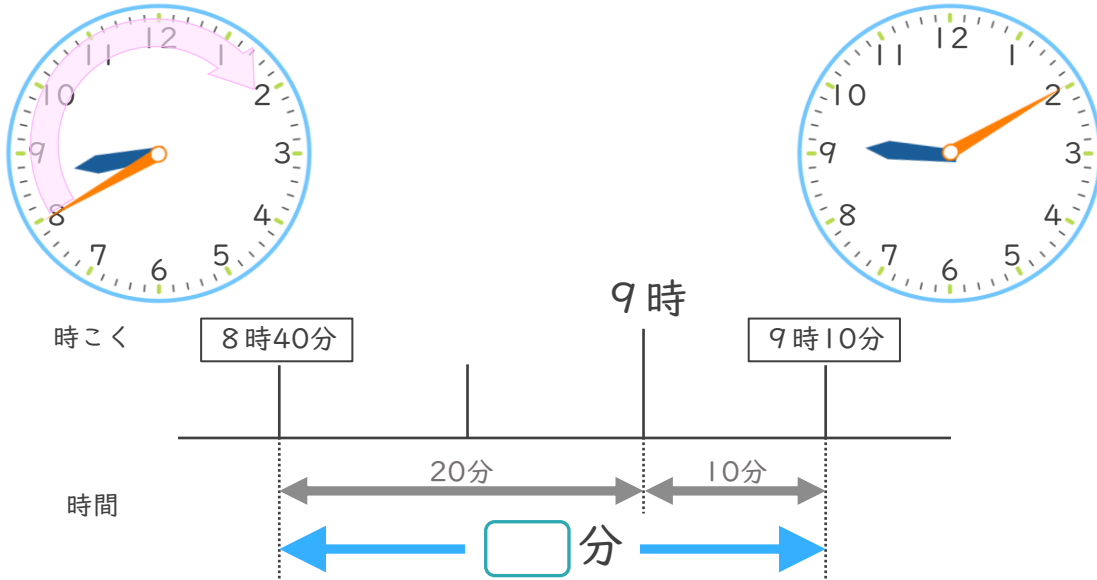
● かかった時間を
もとめる (時計)



日にち： 月 日

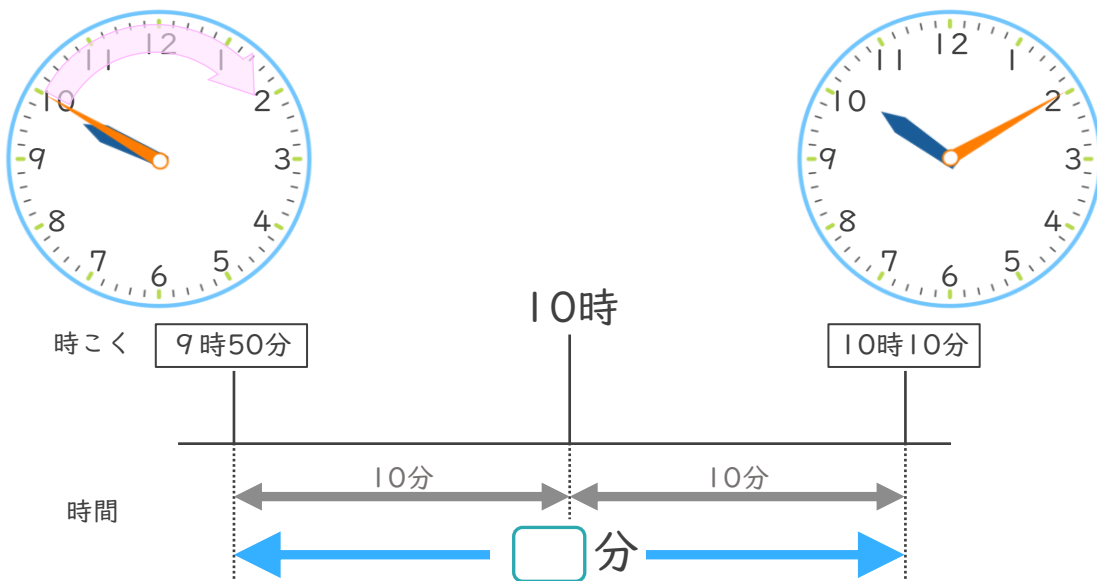
名まえ _____

- ① 学校を8時40分に出て、公園に9時10分に着きました。学校から公園まで、かかった時間は何分ですか。



答え (30分)

- ② 家を9時50分に出て、公民館に10時10分に着きました。家から公民館まで、かかった時間は何分ですか。



答え (20分)





時こくと時間の
もとめかた 5

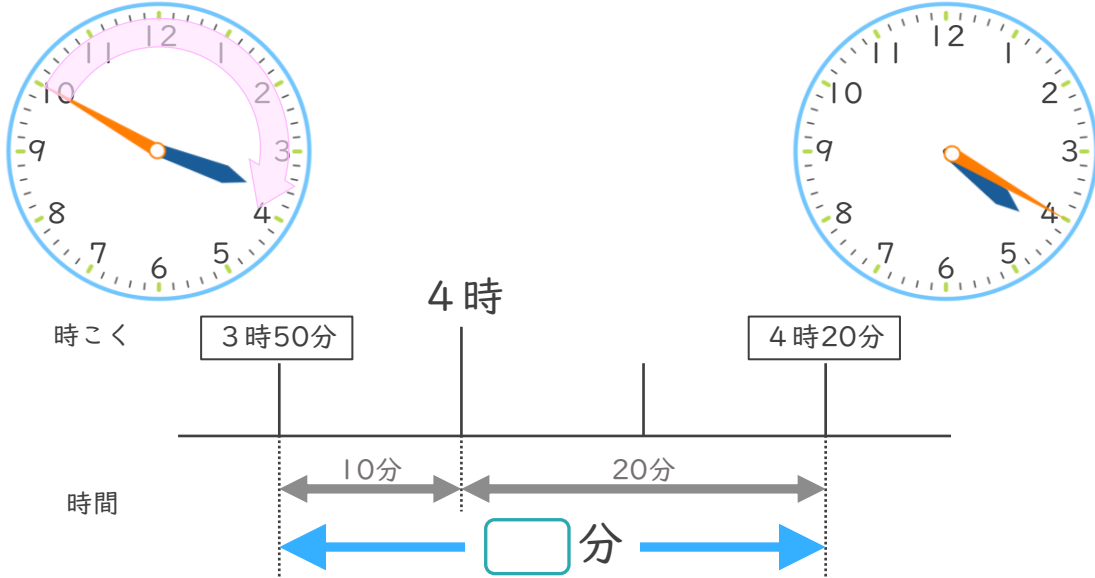
● かかった時間を
もとめる (時計)



日にち： 月 日

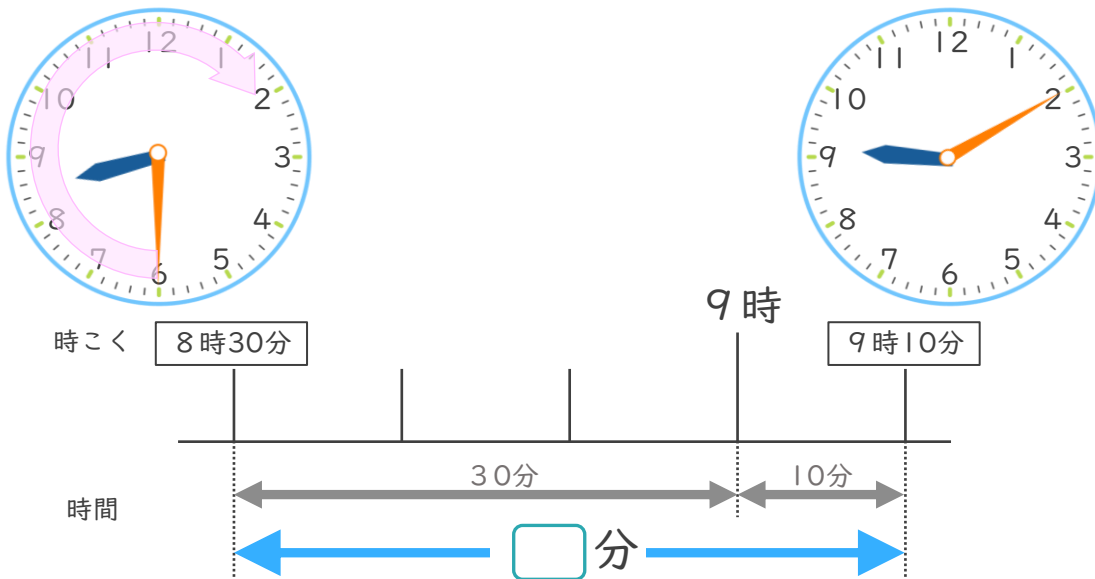
名まえ _____

- ① 学校を 3 時 50 分に出て、公園に 4 時 20 分に着きました。学校から公園まで、かかった時間は何分ですか。



答え (3 0 分)

- ② 家を 8 時 30 分に出て、公園に 9 時 10 分に着きました。家から公園まで、かかった時間は何分ですか。



答え (4 0 分)





時こくと時間の
もとめかた 5

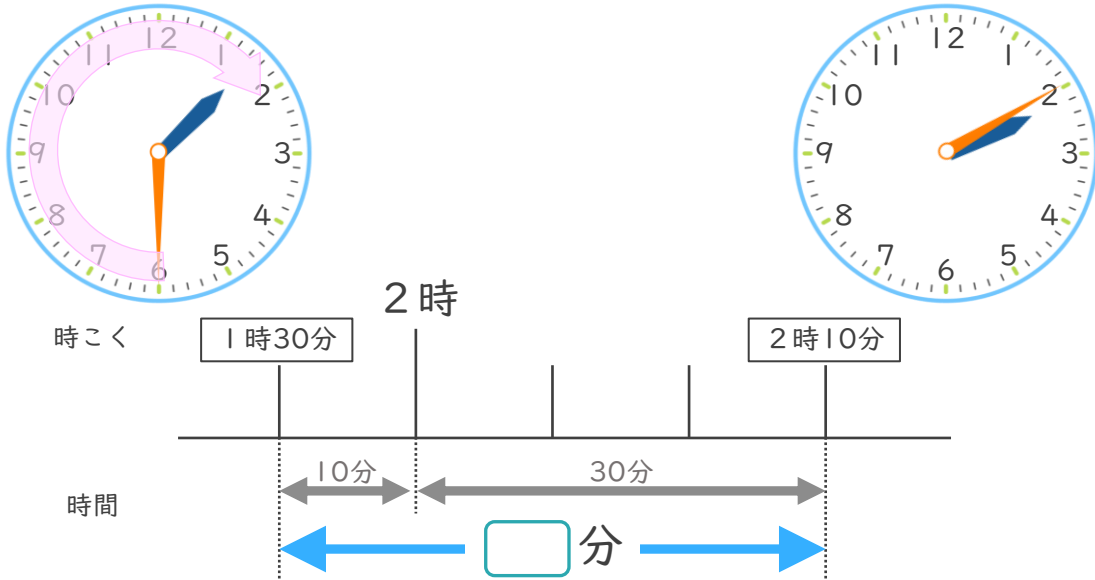
● かかった時間を
もとめる (時計)



日にち： 月 日

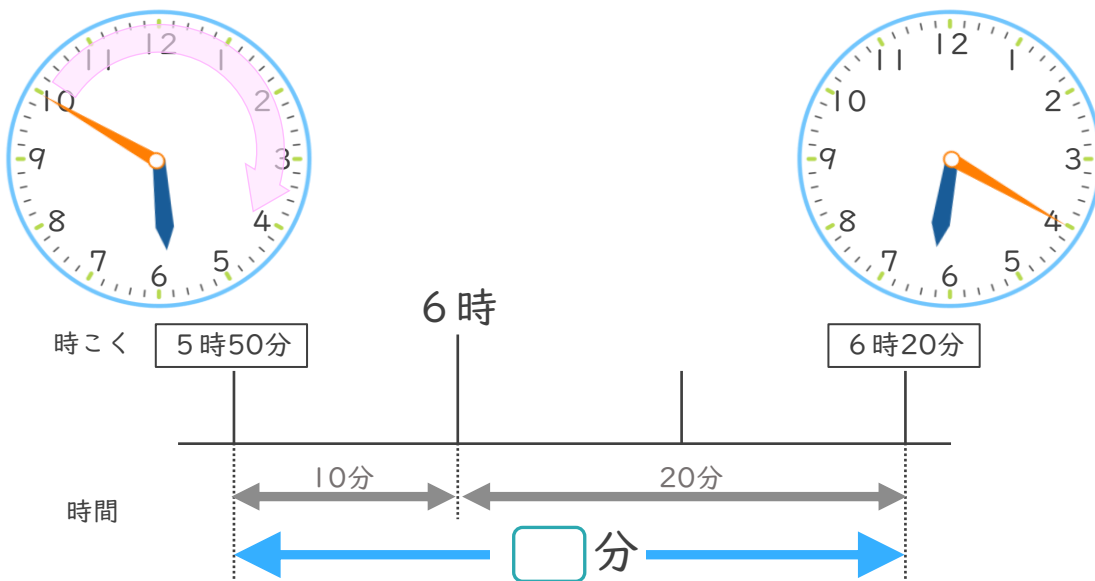
名まえ _____

- ① 学校を1時30分に出て、本屋に2時10分に着きました。学校から本屋まで、かかった時間は何分ですか。



答え (40分)

- ② 家を5時50分に出て、公園に6時20分に着きました。家から公園まで、かかった時間は何分ですか。



答え (30分)



時こくと時間の
もとめかた 5

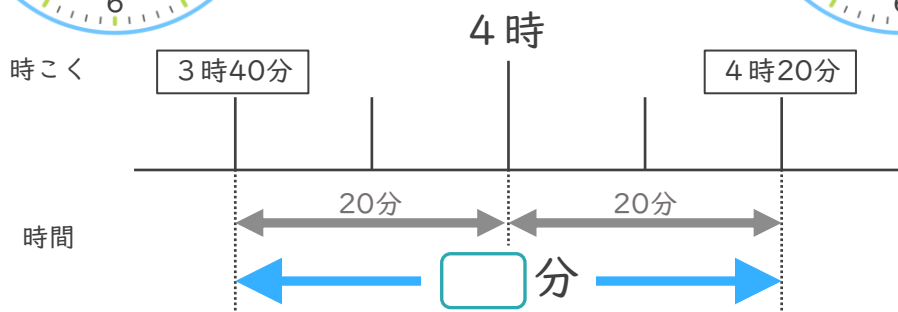
● かかった時間を
もとめる (時計)



日にち： 月 日

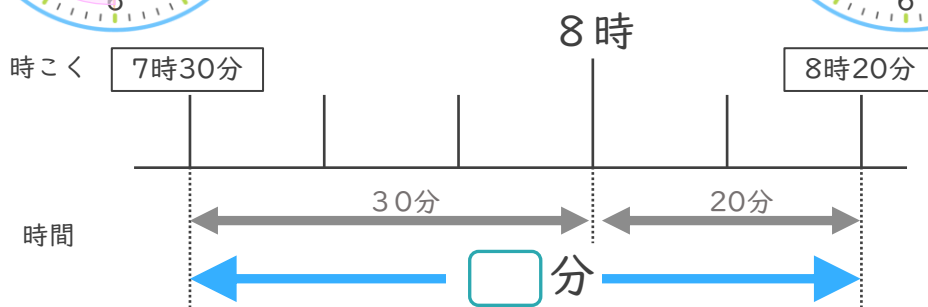
名まえ _____

- ① 学校を3時40分に出て、公園に4時20分に着きました。学校から公園まで、かかった時間は何分ですか。



答え (40分)

- ② 家を7時30分に出て、病院に8時20分に着きました。家から病院まで、かかった時間は何分ですか。



答え (50分)





時こくと時間の
もとめかた 5

● かかった時間を
もとめる (時計)



日にち： 月 日

名まえ _____

1 駅を7時30分に出て、公園に8時10分に着きました。駅から図書館まで、かかった時間は何分ですか。



時こく 7時30分



8時

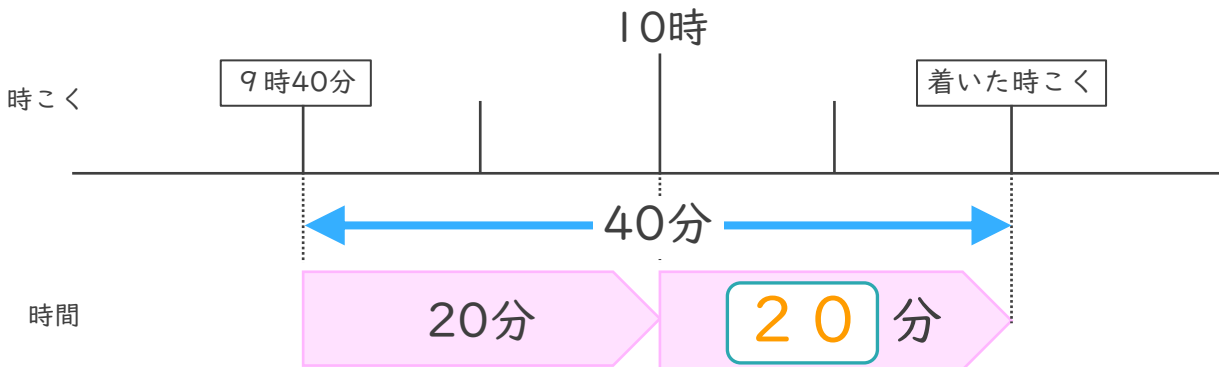
8時10分

時間



答え (40分)

2 家を午前9時40分に出て、40分歩くと公園に着きました。



① にあてはまる数を書きましょう。

② 公園に着いた時こくは何時何分ですか。

答え (10時20分)



時こくと時間の
もとめかた 5

● かかった時間を
もとめる (時計)



日にち： 月 日

名まえ _____

1 駅を9時20分に出て、公園に10時10分に着きました。駅から図書館まで、かかった時間は何分ですか。



時こく 9時20分



10時

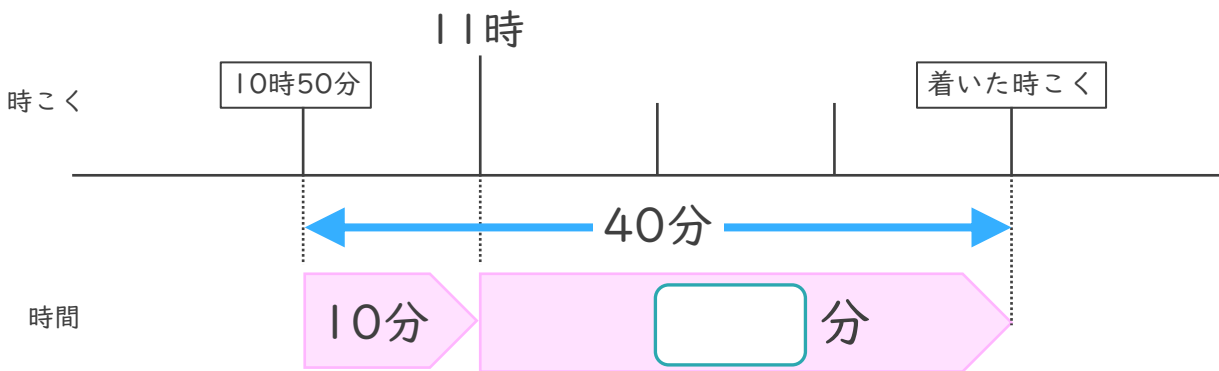
10時10分

時間



答え (50分)

2 家を午前10時50分に出て、40分歩くと公園に着きました。



① にあてはまる数を書きましょう。

② 公園に着いた時こくは何時何分ですか。

答え (11時30分)





時こくと時間の
もとめかた 5

● かかった時間を
もとめる (時計)



日にち： 月 日

名まえ _____

1 駅を4時30分に出て、公園に5時20分に着きました。駅から図書館まで、かかった時間は何分ですか。



時こく 4時30分



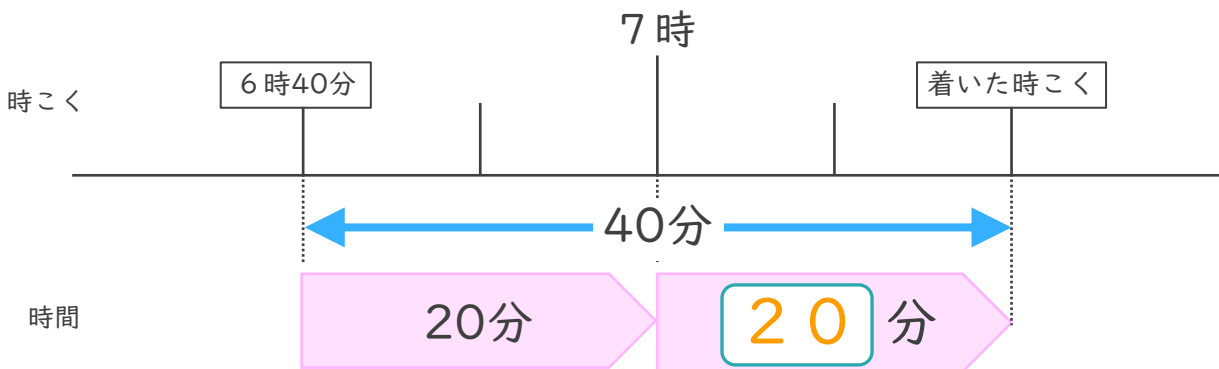
5時 5時20分

時間



答え (50分)

2 家を午前6時40分に出て、40分歩くと公園に着きました。



① にあてはまる数を書きましょう。

② 公園に着いた時こくは何時何分ですか。

答え (7時20分)





時こくと時間の
もとめかた 5

● かかった時間を
もとめる (時計)

13

日にち： 月 日

名まえ _____

1 駅を5時40分に出て、公園に6時10分に着きました。駅から図書館まで、かかった時間は何分ですか。



時こく 5時40分



6時10分

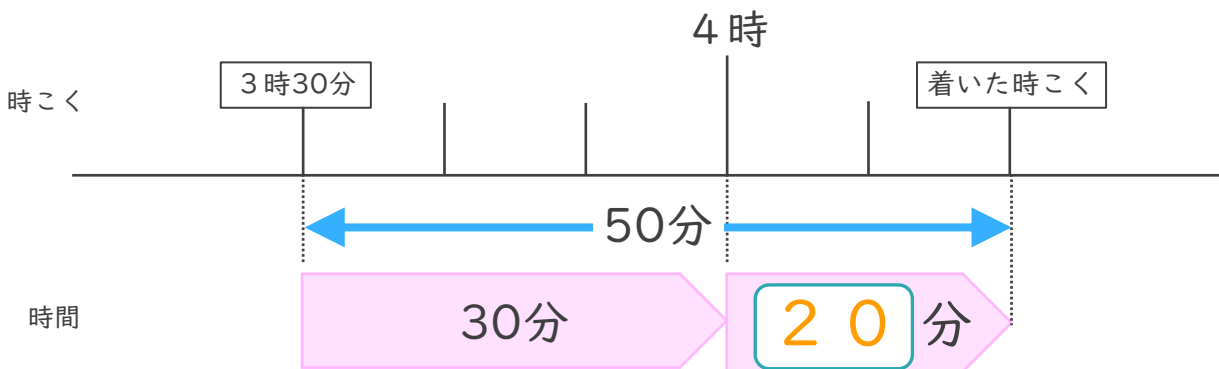
6時

時間



答え (30分)

2 家を午後3時30分に出て、50分歩くと公園に着きました。



① にあてはまる数を書きましょう。

② 公園に着いた時こくは何時何分ですか。

答え (4時20分)



時こくと時間の
もとめかた 5

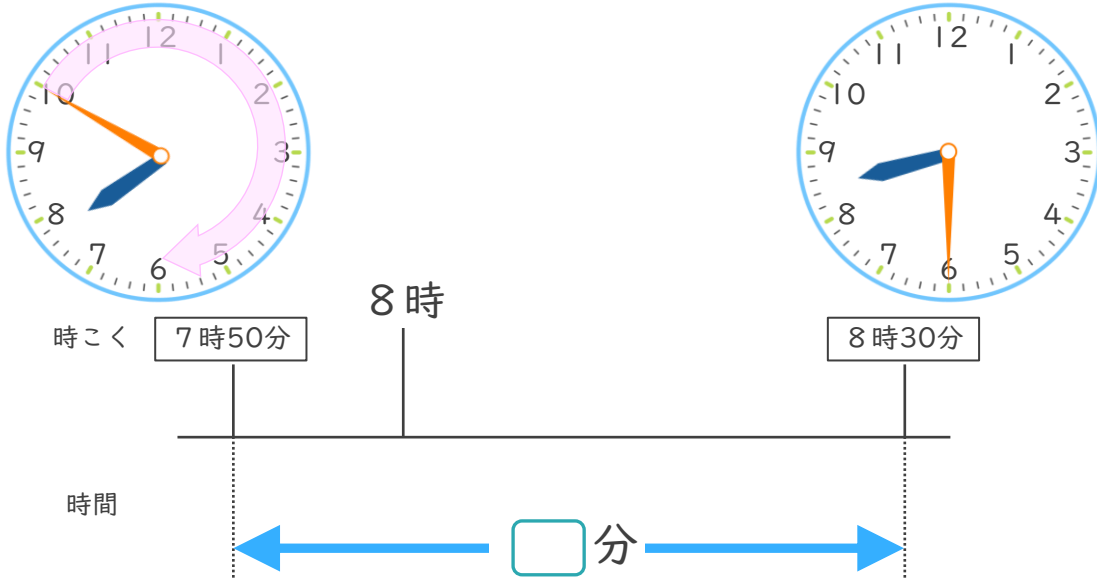
● かかった時間を
もとめる (時計)

14

日にち： 月 日

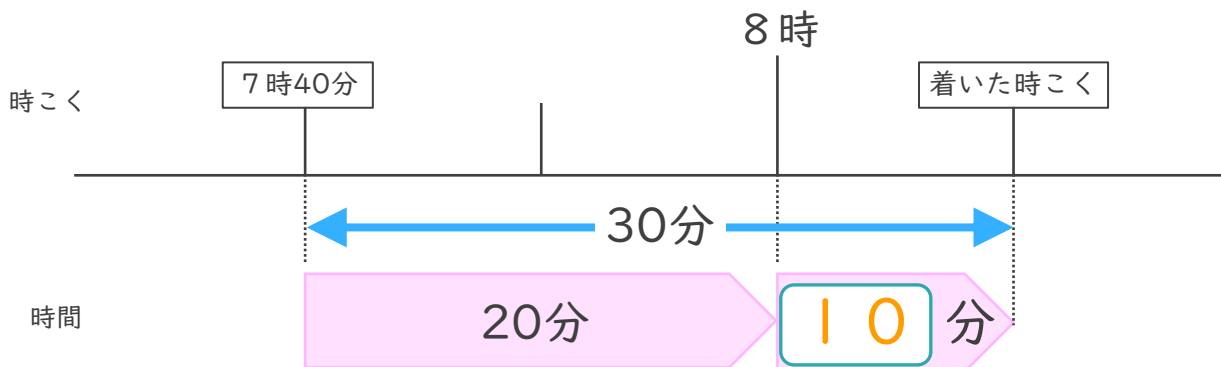
名まえ _____

1 駅を7時50分に出て、公園に8時30分に着きました。駅から図書館まで、かかった時間は何分ですか。



答え (40分)

2 家を午前7時40分に出て、30分歩くと公園に着きました。



① □ にあてはまる数を書きましょう。

② 公園に着いた時こくは何時何分ですか。

答え (8時10分)




時こくと時間の もとめかた 5

● かかった時間を
もとめる (時計)

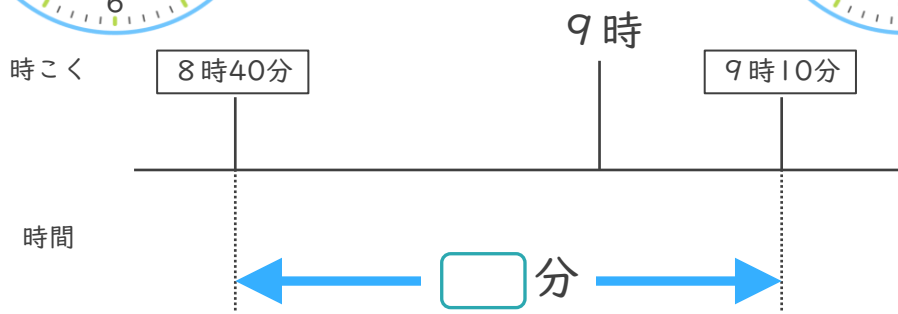
15

めざせ75点!



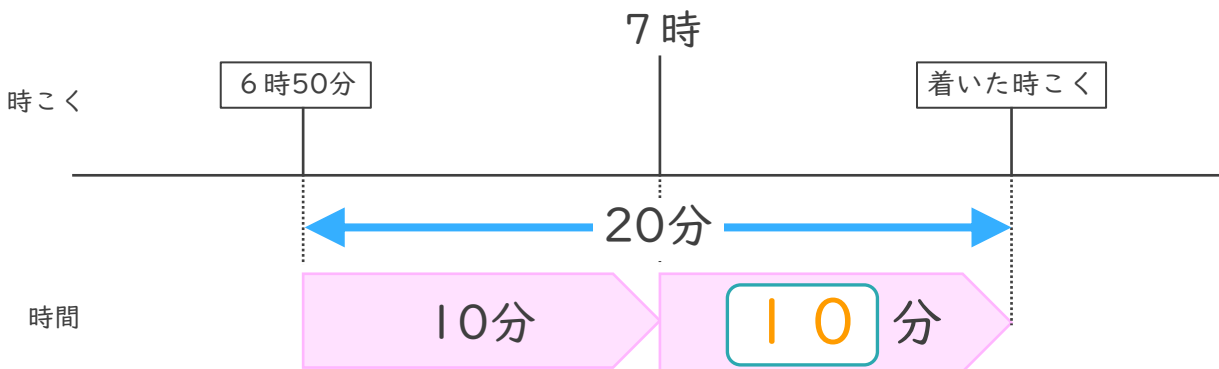
名まえ _____

1 学校を8時40分に出て、交番に9時10分に着きました。学校から交番まで、かかった時間は何分ですか。(50点)



答え (30分)

2 家を午前6時50分に出て、20分歩くと公園に着きました。



① にあてはまる数を書きましょう。(25点)

② 公園に着いた時こくは何時何分ですか。(25点)

答え (7時10分)





時こくと時間の もとめかた 5

● かかった時間を
もとめる (時計)

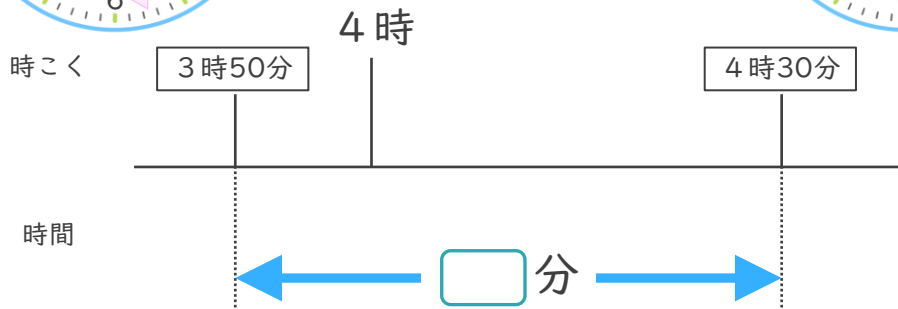
16

めざせ75点!



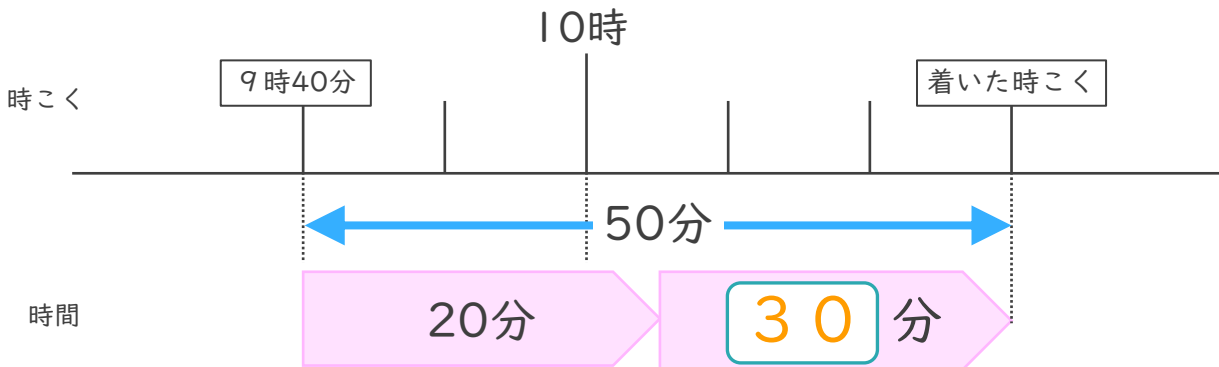
名まえ

1 学校を3時50分に出て、公園に4時30分に着きました。学校から公園まで、かかった時間は何分ですか。(50点)



答え (40分)

2 家を午前9時40分に出て、50分歩くと公園に着きました。



① にあてはまる数を書きましょう。(25点)

② 公園に着いた時こくは何時何分ですか。(25点)

答え (10時30分)

