



重さのたんいと はかりかた 17

◎ 重さのたんい (トン)



日にち： 月 日

名まえ _____

・ 重いものを表すたんいに、トンがあります。

トンはtと書き、1tは1000kgです。

(うすい字はなぞりましょう。)

1 tの書き方を練習しよう。6こ書いてみよう。



2 にあてはまる数を書きましょう。(うすい字はなぞりましょう。)

① 1 t = kg

1tと1000kgは
同じだね

② 1000kg = t



③ 2 t = kg

④ 3000kg = t





重さのたんいと
はかりかた 17



◎ 重さのたんい (トン)

日にち： 月 日

名まえ _____

- ・ 重いものを表すたんいに、トンがあります。
トン は t と書き、1 t は 1000 kg です。
(うすい字はなぞりましょう。)

1 t の書き方を練習しよう。6 こ書いてみよう。

1 t 1 t

2 にあてはまる数を書きましょう。

① 1000 kg = t

1 t と 1000 kg は
同じだね

② 1 t = kg



③ 5000 kg = t

④ 6 t = kg





重さのたんいと
はかりかた 17

◎ 重さのたんい (トン)



日にち： 月 日

名まえ _____

- ・ 重いものを表すたんいに、トンがあります。
トン は t と書き、1 t は 1000 kg です。

1 t の書き方を練習しよう。6 こ書いてみよう。

t

2 にあてはまる数を書きましょう。

① 1 t = kg

② 1000 kg = t

③ 7000 kg = t

④ 9 t = kg





重さのたんいと
はかりかた 17

◎ 重さのたんい (トン)



日にち： 月 日

名まえ _____

- ・ 重いものを表すたんいに、トンがあります。
トン は t と書き、1 t は 1000 kg です。

1 t の書き方を練習しよう。6 こ書いてみよう。

t

2 にあてはまる数を書きましょう。

① 1000 kg = t

② 1 t = kg

③ 8 t = kg

④ 3000 kg = t





重さのたんいと
はかりかた 17

◎ 重さのたんい (トン)



日にち： 月 日

名まえ _____

- ・ 重いものを表すたんいに、トンがあります。
トン は t と書き、1 t は 1000 kg です。
(うすい字はなぞりましょう。)

1 t の書き方を練習しよう。6 こ書いてみよう。

1 t 1 t 1 t 1 t 1 t 1 t 1 t

2 にあてはまる数を書きましょう。(うすい字はなぞりましょう。)

① 1 t = kg

1 t と 1000 kg は
同じだね

② 1000 kg = t



③ 2 t = kg

④ 3000 kg = t





重さのたんいと
はかりかた 17



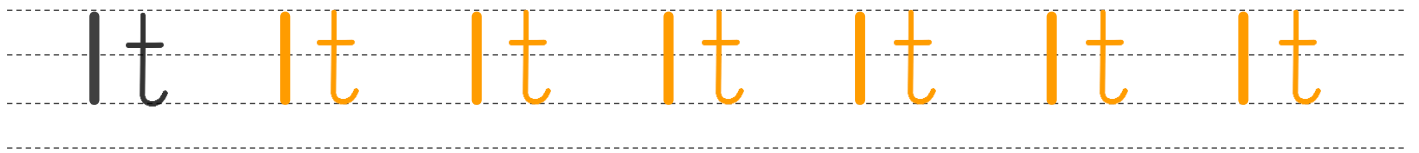
◎ 重さのたんい (トン)

日にち： 月 日

名まえ _____

- ・ 重いものを表すたんいに、トンがあります。
トン は t と書き、1 t は 1000 kg です。
(うすい字はなぞりましょう。)

1 t の書き方を練習しよう。6 こ書いてみよう。



2 にあてはまる数を書きましょう。

① 1000 kg = t

1 t と 1000 kg は
同じだね

② 1 t = kg



③ 5000 kg = t

④ 6 t = kg





重さのたんいと
はかりかた 17

◎ 重さのたんい (トン)

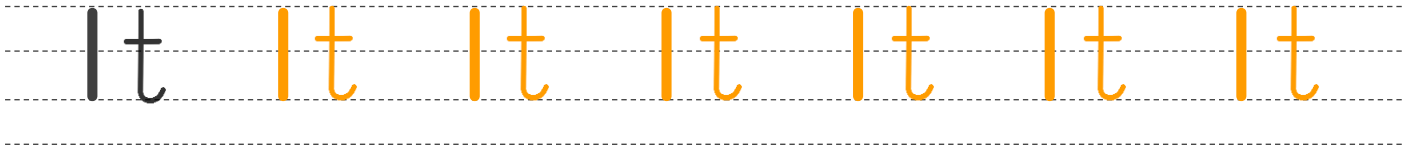


日にち： 月 日

名まえ _____

- ・ 重いものを表すたんいに、トンがあります。
トン は t と書き、1 t は 1000 kg です。

1 t の書き方を練習しよう。6 こ書いてみよう。



2 にあてはまる数を書きましょう。

① 1 t = kg

② 1000 kg = t

③ 7000 kg = t

④ 9 t = kg





重さのたんいと
はかりかた 17

◎ 重さのたんい (トン)

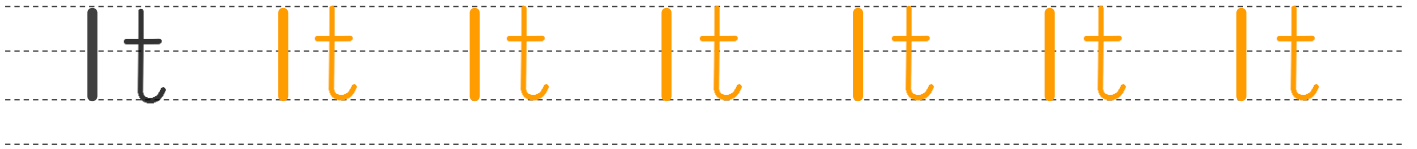


日にち： 月 日

名まえ _____

- ・ 重いものを表すたんいに、トンがあります。
トン は t と書き、1 t は 1000 kg です。

1 t の書き方を練習しよう。6 こ書いてみよう。



2 にあてはまる数を書きましょう。

① 1000 kg = t

② 1 t = kg

③ 8 t = kg

④ 3000 kg = t

