



# 長いものの長さの はかり方と表し方 2

● まきじゃくへの書きこみ



日にち：            月            日

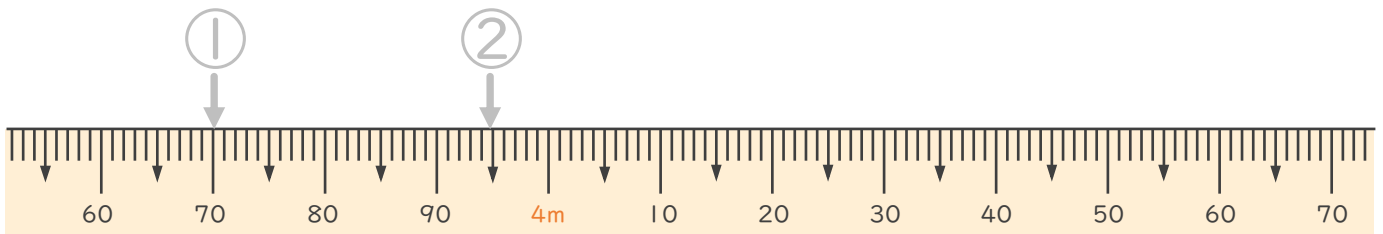
名まえ \_\_\_\_\_

1 次のまきじゃくで、①～③の長さを表すメモりに ↓ をかきましょう。  
(うすい字はなぞりましょう。)

① 3 m 7 0 c m

② 3 m 9 5 c m

③ 4 m 4 0 c m

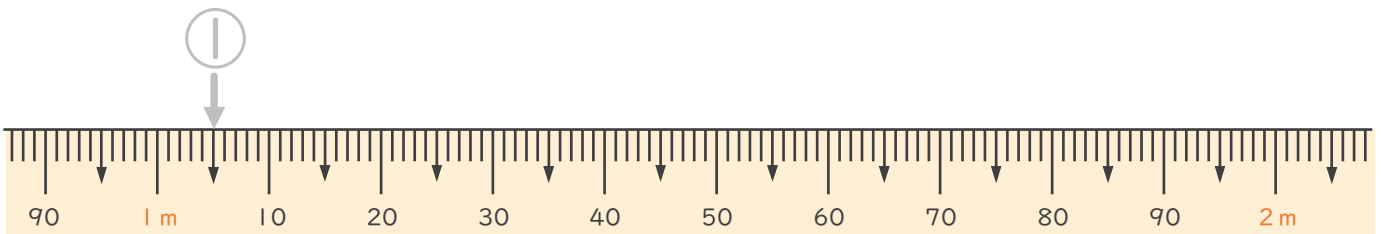


2 次のまきじゃくで、①～③の長さを表すメモりに ↓ をかきましょう。  
(うすい字はなぞりましょう。)

① 1 m 5 c m

② 1 m 2 0 c m

③ 1 m 7 5 c m





# 長いものの長さの はかり方と表し方 2

● まきじゃくへの書きこみ



日にち：            月            日

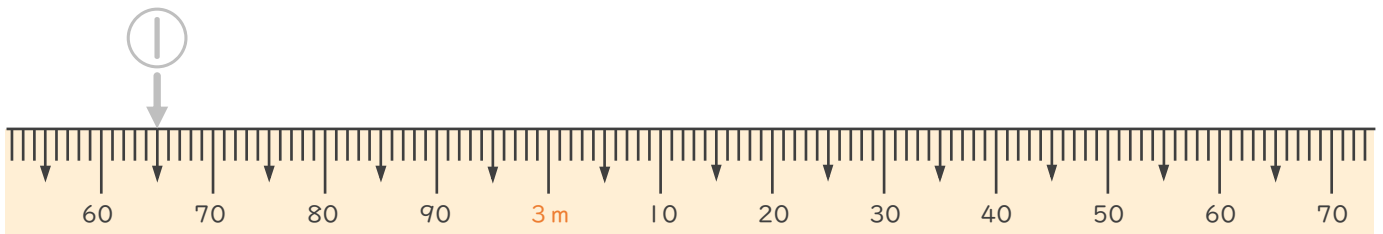
名まえ \_\_\_\_\_

1 次のまきじゃくで、①～③の長さを表すメモりに ↓ をかきましょう。  
(うすい字はなぞりましょう。)

① 2 m 65 cm

② 2 m 84 cm

③ 3 m 5 cm

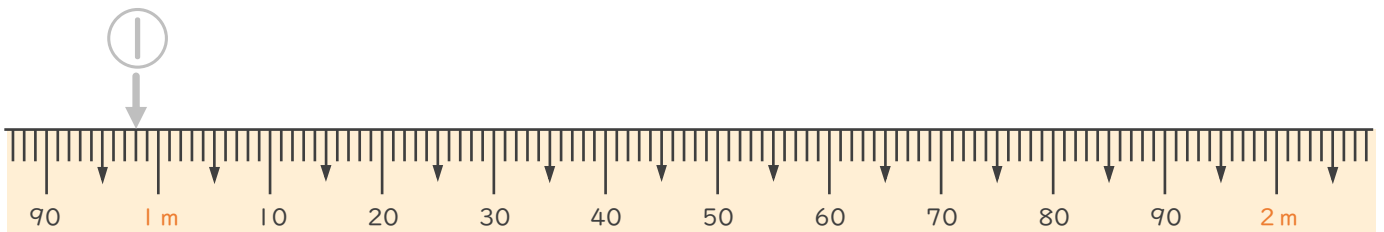


2 次のまきじゃくで、①～③の長さを表すメモりに ↓ をかきましょう。  
(うすい字はなぞりましょう。)

① 98 cm

② 1 m 38 cm

③ 1 m 85 cm





# 長いものの長さの はかり方と表し方 2

● まきじゃくへの書きこみ



日にち：            月            日

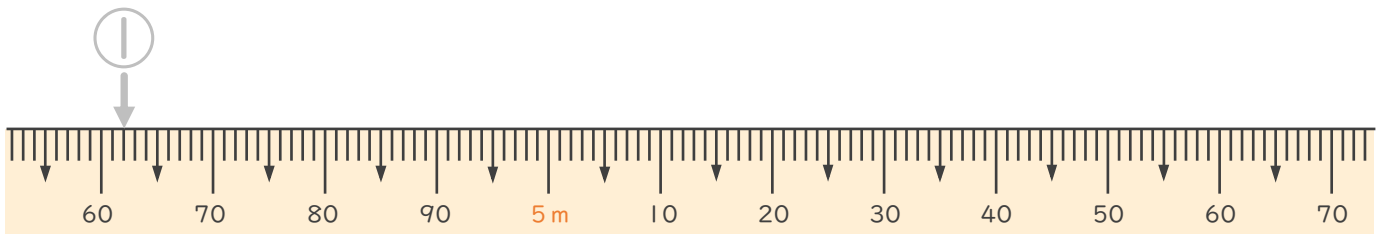
名まえ \_\_\_\_\_

1 次のまきじゃくで、①～③の長さを表すメモりに ↓ をかきましょう。  
(うすい字はなぞりましょう。)

① 4 m 6 2 cm

② 5 m 3 cm

③ 5 m 4 5 cm

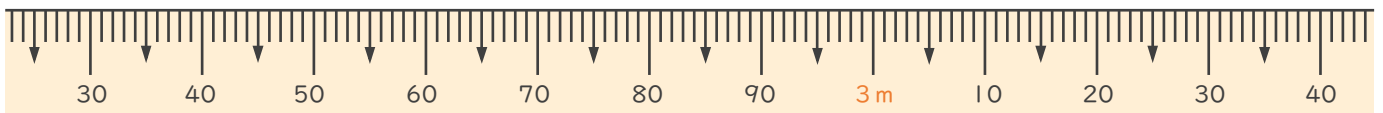


2 次のまきじゃくで、①～③の長さを表すメモりに ↓ をかきましょう。

① 2 m 3 5 cm

② 2 m 9 6 cm

③ 3 m 1 5 cm





# 長いものの長さの はかり方と表し方 2

● まきじゃくへの書きこみ



日にち：            月            日

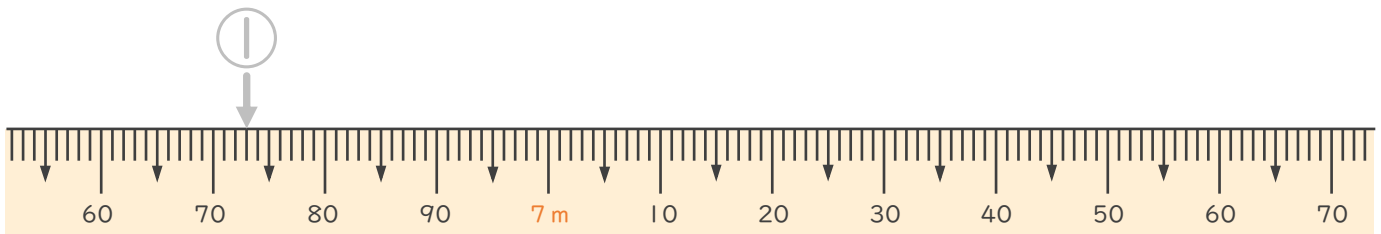
名まえ \_\_\_\_\_

1 次のまきじゃくで、①～③の長さを表すメモりに ↓ をかきましょう。  
(うすい字はなぞりましょう。)

① 6 m 73 cm

② 7 m 8 cm

③ 7 m 52 cm

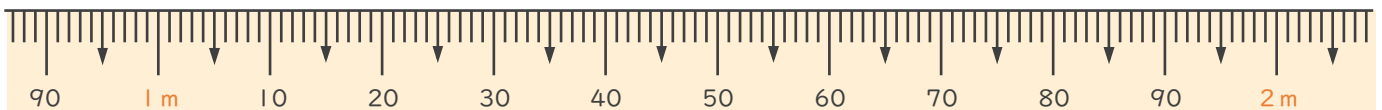


2 次のまきじゃくで、①～③の長さを表すメモりに ↓ をかきましょう。

① 95 cm

② 1 m 55 cm

③ 1 m 95 cm





長いものの長さの  
はかり方と表し方 2

5

● まきじゃくへの書きこみ

日にち：            月            日

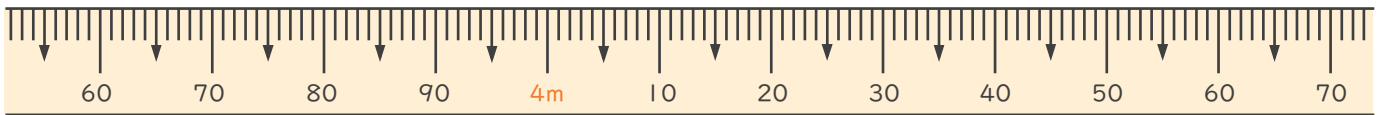
名まえ \_\_\_\_\_

1 次のまきじゃくで、①～③の長さながを表すあらわめもりに ↓ をかきましょう。

① 3 m 6 5 c m

② 4 m 1 2 c m

③ 4 m 4 0 c m

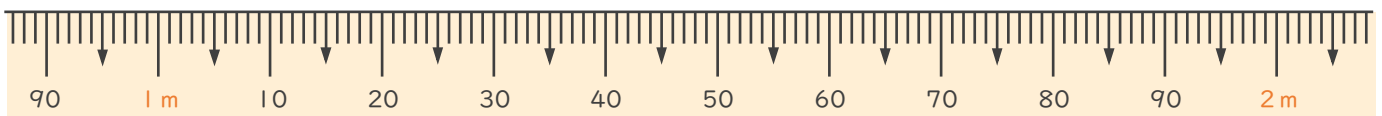


2 次のまきじゃくで、①～③の長さながを表すあらわめもりに ↓ をかきましょう。

① 1 m 9 c m

② 1 m 1 7 c m

③ 1 m 8 5 c m





# 長いものの長さの はかり方と表し方 2

● まきじゃくへの書きこみ



日にち：            月            日

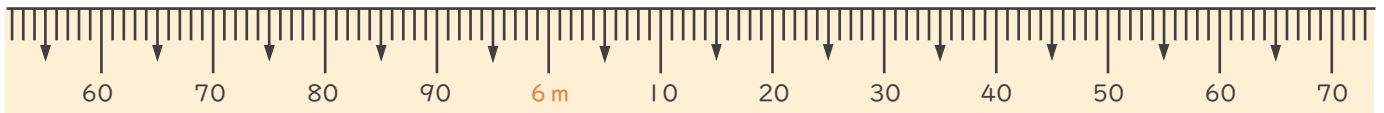
名まえ \_\_\_\_\_

1 次のまきじゃくで、①～③の長さながを表すあらわめもりに ↓ をかきましょう。

① 5 m 7 4 c m

② 6 m 2 c m

③ 6 m 5 5 c m

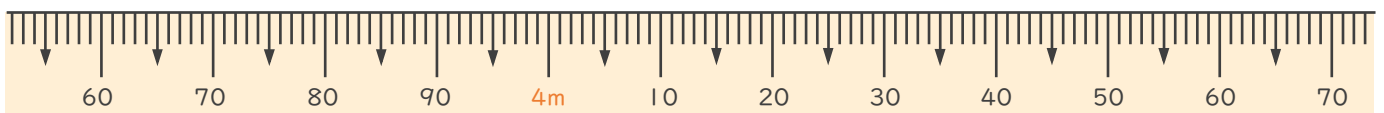


2 次のまきじゃくで、①～③の長さながを表すあらわめもりに ↓ をかきましょう。

① 3 m 7 9 c m

② 3 m 9 7 c m

③ 4 m 3 5 c m





# 長いものの長さの はかり方と表し方 2

● まきじゃくへの書きこみ



日にち：            月            日

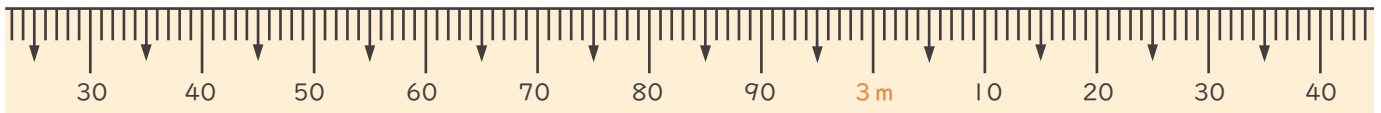
名まえ \_\_\_\_\_

1 次のまきじゃくで、①～③の長さ<sup>なが</sup>を表す<sup>あらわ</sup>メモりに ↓ をかきましょう。

① 2 m 4 5 c m

② 2 m 5 5 c m

③ 3 m 5 c m

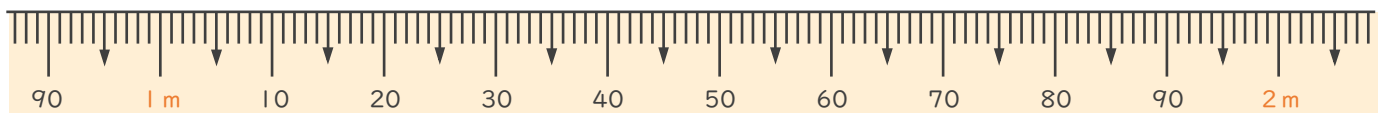


2 次のまきじゃくで、①～③の長さ<sup>なが</sup>を表す<sup>あらわ</sup>メモりに ↓ をかきましょう。

① 1 m 9 c m

② 1 m 5 7 c m

③ 1 m 8 3 c m





# 長いものの長さの はかり方と表し方 2

● まきじゃくへの書きこみ



日にち：            月            日

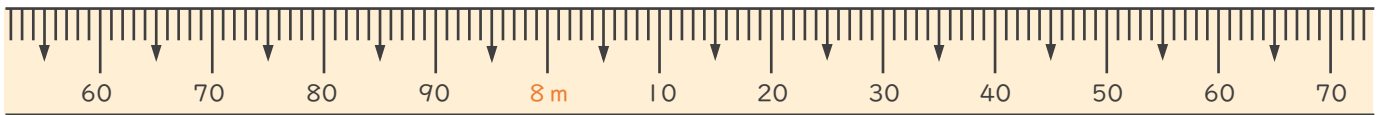
名まえ \_\_\_\_\_

1 次のまきじゃくで、①～③の長さ<sup>なが</sup>を表す<sup>あらわ</sup>めもりに ↓ をかきましょう。

① 7 m 7 5 c m

② 7 m 9 6 c m

③ 8 m 1 0 c m

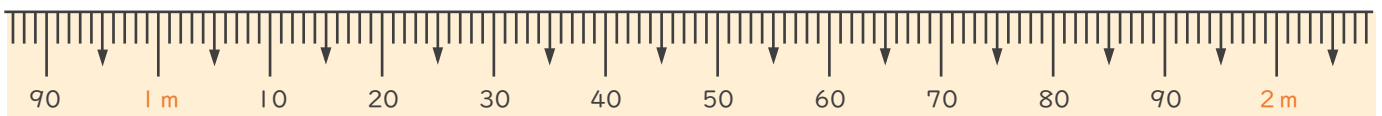


2 次のまきじゃくで、①～③の長さ<sup>なが</sup>を表す<sup>あらわ</sup>めもりに ↓ をかきましょう。

① 1 m 1 5 c m

② 1 m 6 3 c m

③ 2 m 3 c m







# 長いものの長さの はかり方と表し方 2

● まきじゃくへの書きこみ



日にち：            月            日

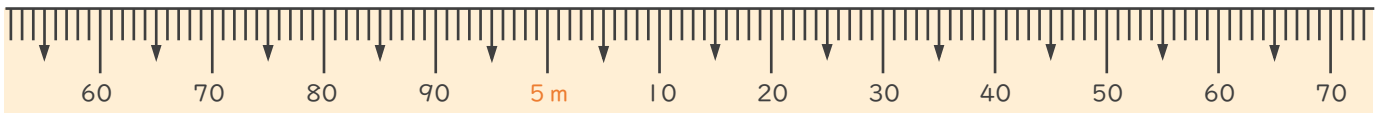
名まえ \_\_\_\_\_

1 次のまきじゃくで、①～③の長さ<sup>なが</sup>を表す<sup>あらわ</sup>めもりに ↓ をかきましょう。

① 4 m 7 3 c m

② 4 m 9 5 c m

③ 5 m 5 0 c m

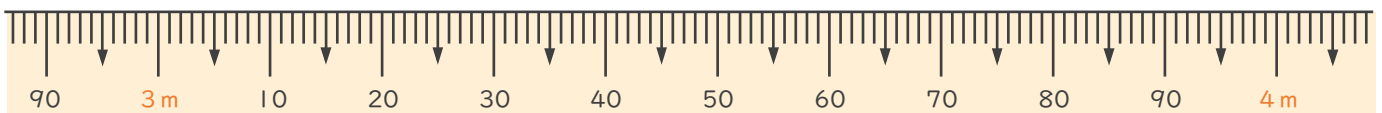


2 次のまきじゃくで、①～③の長さ<sup>なが</sup>を表す<sup>あらわ</sup>めもりに ↓ をかきましょう。

① 2 m 9 5 c m

② 3 m 4 7 c m

③ 4 m 3 c m
















長いものの長さの  
はかり方と表し方 2

15

● まきじゃくへの書きこみ

めざせ85点!



名まえ \_\_\_\_\_

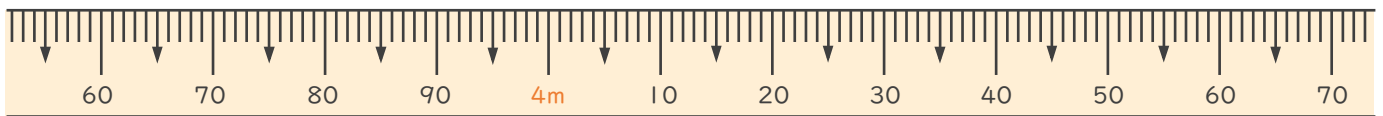
1 次のまきじゃくで、①～③の長さを表すメモりに ↓ をかきましょう。

(各15点)

① 3 m 6 4 c m

② 4 m 1 0 c m

③ 4 m 4 5 c m



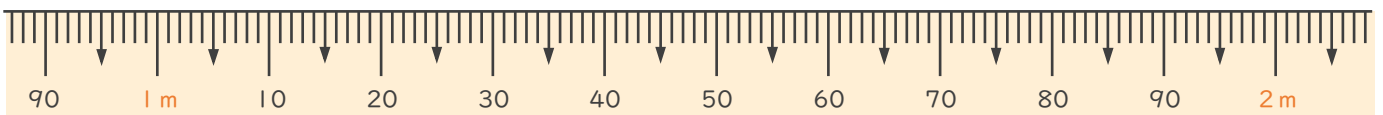
2 次のまきじゃくで、①～③の長さを表すメモりに ↓ をかきましょう。

(各15点)

① 1 m 1 2 c m

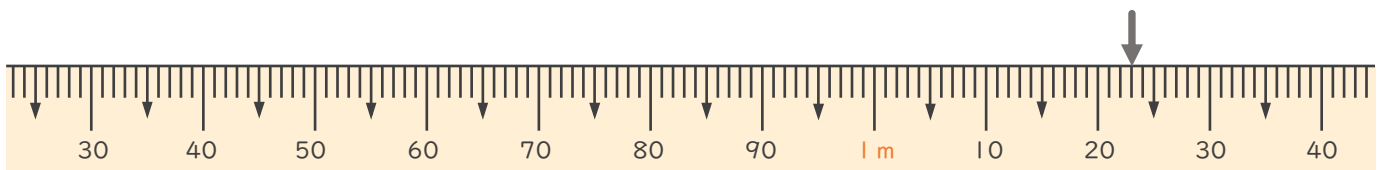
② 1 m 3 8 c m

③ 1 m 8 4 c m



3 次のまきじゃくで、↓のメモ리가表している長さを読み取りましょう。

(10点)



答え ( )



長いものの長さの  
はかり方と表し方 2

16

● まきじゃくへの書きこみ

めざせ85点!



名まえ \_\_\_\_\_

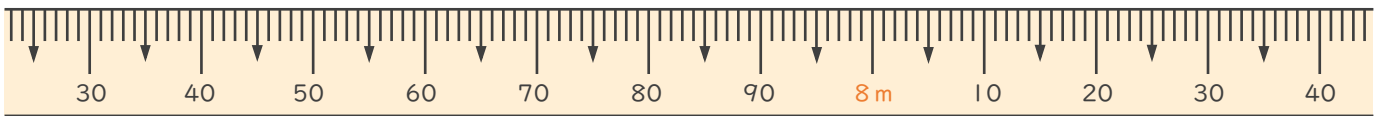
1 次のまきじゃくで、①～③の長さを表すメモりに ↓ をかきましょう。

(各15点)

① 7 m 3 5 c m

② 7 m 9 0 c m

③ 8 m 5 c m



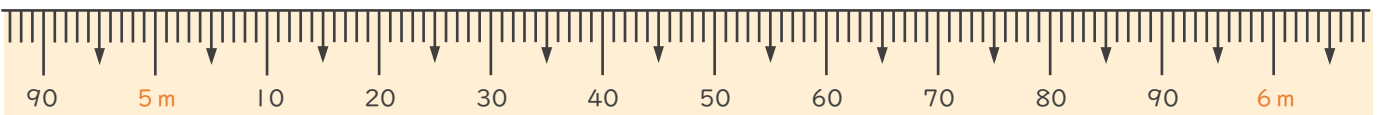
2 次のまきじゃくで、①～③の長さを表すメモりに ↓ をかきましょう。

(各15点)

① 5 m 2 2 c m

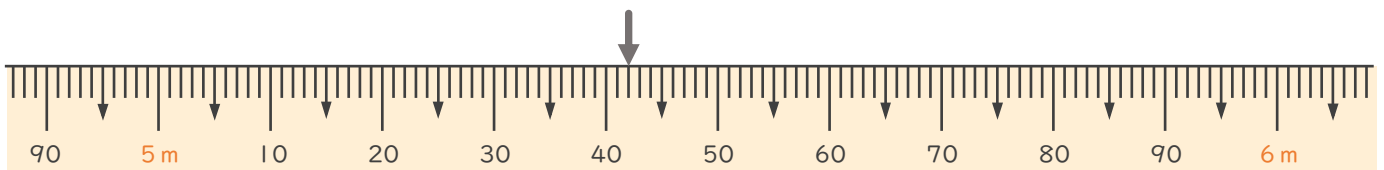
② 5 m 3 8 c m

③ 5 m 9 7 c m



3 次のまきじゃくで、 ↓ のメモ리가表している長さを読み取りましょう。

(10点)



答え ( )





# 長いものの長さの はかり方と表し方 2

● まきじゃくへの書きこみ



日にち：            月            日

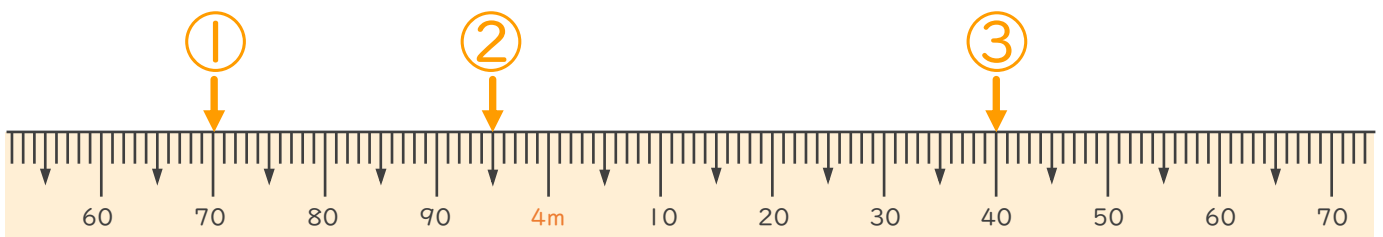
名まえ \_\_\_\_\_

1 次のまきじゃくで、①～③の長さを表すメモりに ↓ をかきましょう。  
(うすい字はなぞりましょう。)

① 3 m 70 cm

② 3 m 95 cm

③ 4 m 40 cm

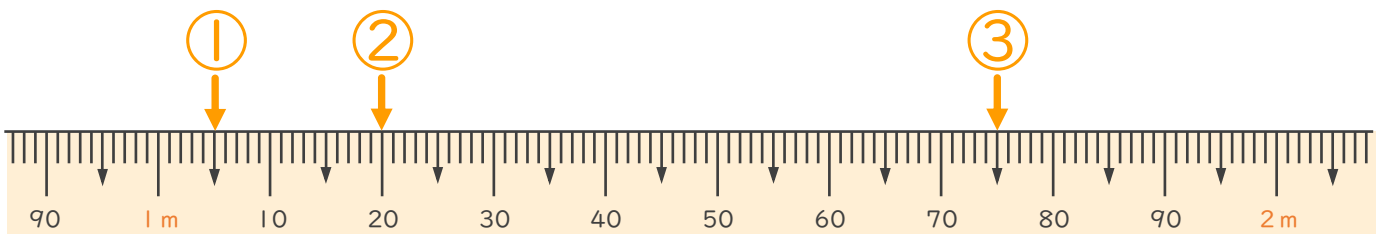


2 次のまきじゃくで、①～③の長さを表すメモりに ↓ をかきましょう。  
(うすい字はなぞりましょう。)

① 1 m 5 cm

② 1 m 20 cm

③ 1 m 75 cm





# 長いものの長さの はかり方と表し方 2

● まきじゃくへの書きこみ



日にち：            月            日

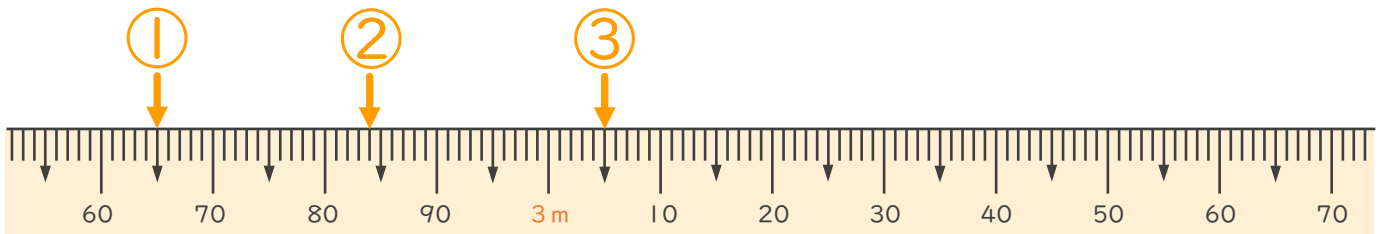
名まえ \_\_\_\_\_

1 次のまきじゃくで、①～③の長さを表すメモりに ↓ をかきましょう。  
(うすい字はなぞりましょう。)

① 2 m 65 cm

② 2 m 84 cm

③ 3 m 5 cm

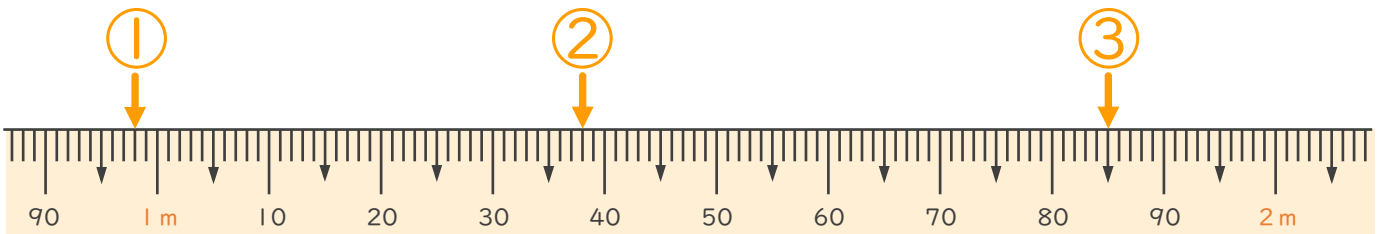


2 次のまきじゃくで、①～③の長さを表すメモりに ↓ をかきましょう。  
(うすい字はなぞりましょう。)

① 98 cm

② 1 m 38 cm

③ 1 m 85 cm





# 長いものの長さの はかり方と表し方 2

● まきじゃくへの書きこみ



日にち：            月            日

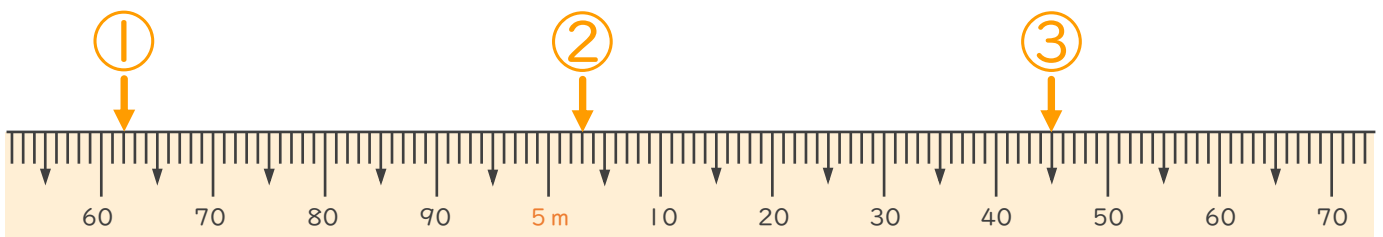
名まえ \_\_\_\_\_

1 つぎのまきじゃくで、①～③の長さ<sup>なが</sup>を表す<sup>あらわ</sup>メモりに ↓ をかきましょう。  
(うすい字はなぞりましょう。)

① 4 m 6 2 cm

② 5 m 3 cm

③ 5 m 4 5 cm

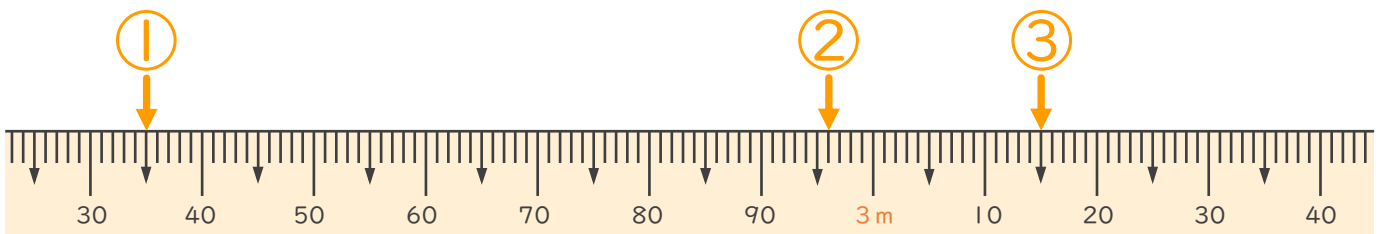


2 つぎのまきじゃくで、①～③の長さ<sup>なが</sup>を表す<sup>あらわ</sup>メモりに ↓ をかきましょう。

① 2 m 3 5 cm

② 2 m 9 6 cm

③ 3 m 1 5 cm





# 長いものの長さの はかり方と表し方 2

● まきじゃくへの書きこみ

4

日にち：            月            日

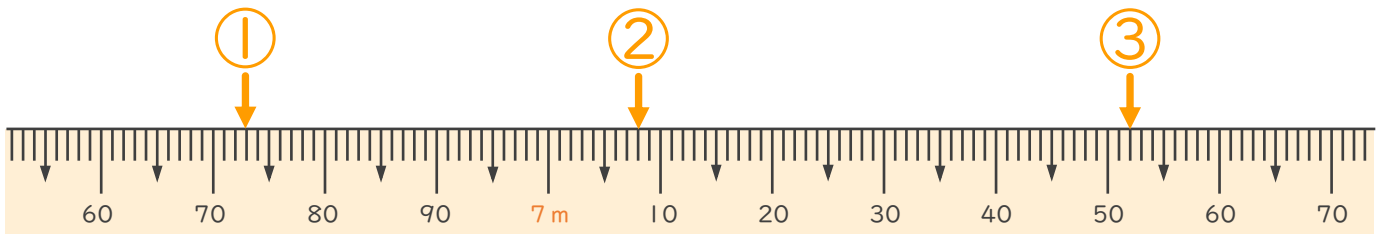
名まえ \_\_\_\_\_

1 次のまきじゃくで、①～③の長さを表すメモりに ↓ をかきましょう。  
(うすい字はなぞりましょう。)

① 6 m 73 cm

② 7 m 8 cm

③ 7 m 52 cm

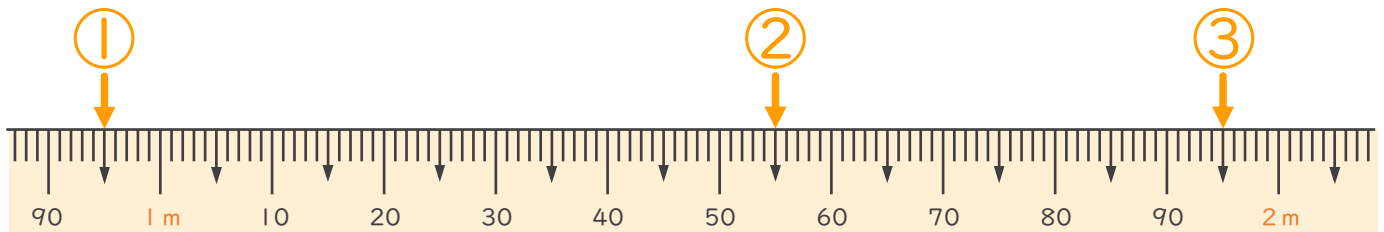


2 次のまきじゃくで、①～③の長さを表すメモりに ↓ をかきましょう。

① 95 cm

② 1 m 55 cm

③ 1 m 95 cm





# 長いものの長さの はかり方と表し方 2

● まきじゃくへの書きこみ



日にち：            月            日

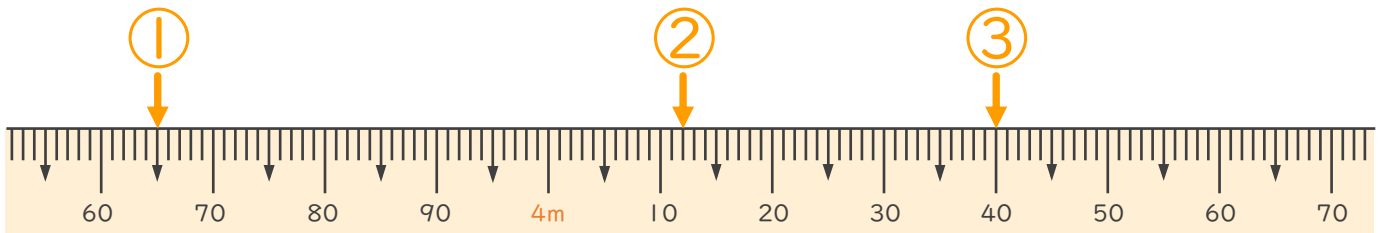
名まえ \_\_\_\_\_

1 次のまきじゃくで、①～③の長さ<sup>なが</sup>を表す<sup>あらわ</sup>メモりに ↓ をかきましょう。

① 3 m 6 5 c m

② 4 m 1 2 c m

③ 4 m 4 0 c m

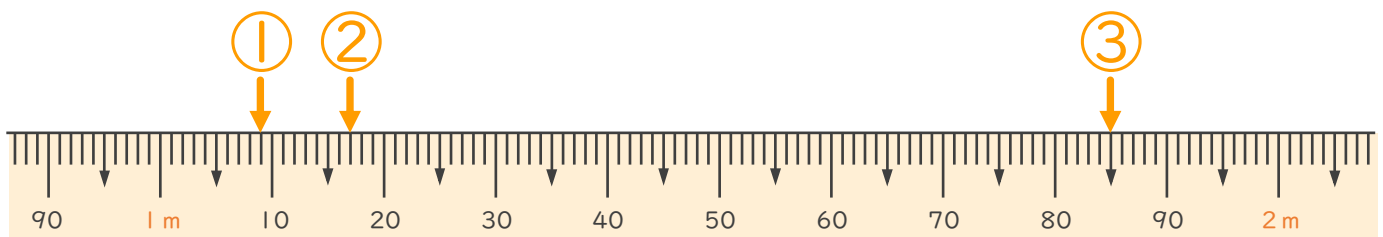


2 次のまきじゃくで、①～③の長さ<sup>なが</sup>を表す<sup>あらわ</sup>メモりに ↓ をかきましょう。

① 1 m 9 c m

② 1 m 1 7 c m

③ 1 m 8 5 c m





# 長いものの長さの はかり方と表し方 2

● まきじゃくへの書きこみ



日にち：            月            日

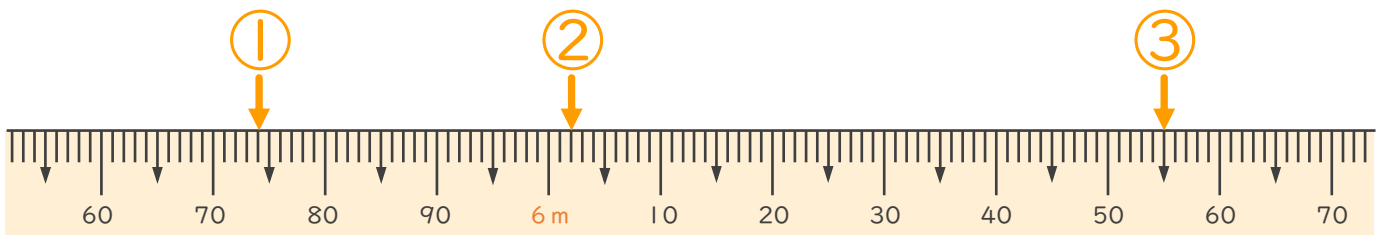
名まえ \_\_\_\_\_

1 つぎのまきじゃくで、①～③の長さ<sup>なが</sup>を表す<sup>あらわ</sup>めもりに ↓ をかきましょう。

① 5 m 7 4 c m

② 6 m 2 c m

③ 6 m 5 5 c m

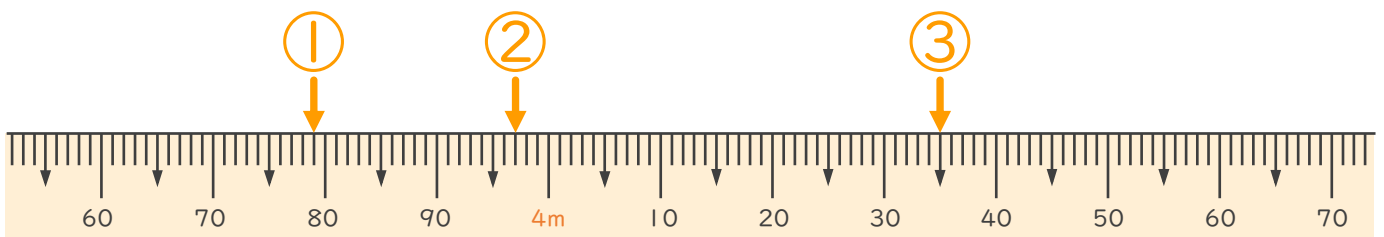


2 つぎのまきじゃくで、①～③の長さ<sup>なが</sup>を表す<sup>あらわ</sup>めもりに ↓ をかきましょう。

① 3 m 7 9 c m

② 3 m 9 7 c m

③ 4 m 3 5 c m





# 長いものの長さの はかり方と表し方 2

● まきじゃくへの書きこみ



日にち：            月            日

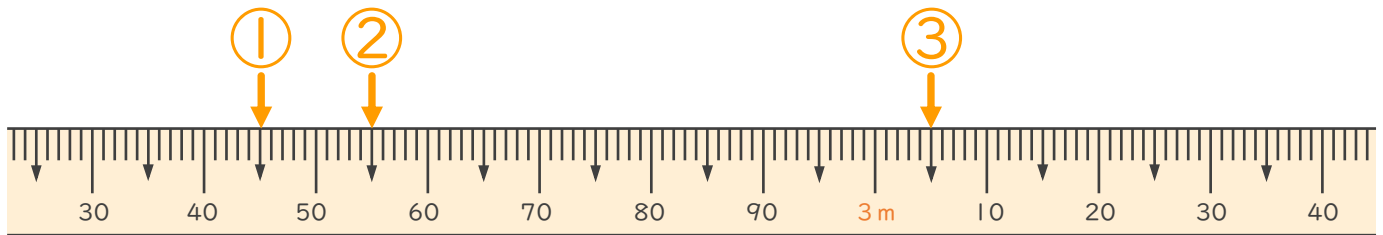
名まえ \_\_\_\_\_

1 次のまきじゃくで、①～③の長さ<sup>なが</sup>を表す<sup>あらわ</sup>めもりに ↓ をかきましょう。

① 2 m 45 cm

② 2 m 55 cm

③ 3 m 5 cm

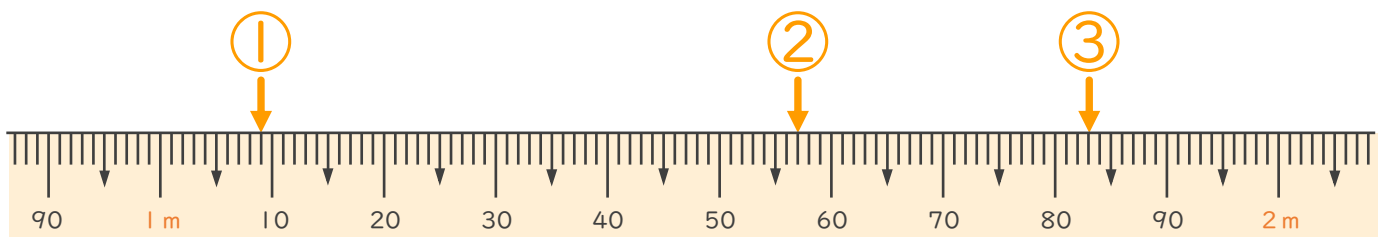


2 次のまきじゃくで、①～③の長さ<sup>なが</sup>を表す<sup>あらわ</sup>めもりに ↓ をかきましょう。

① 1 m 9 cm

② 1 m 57 cm

③ 1 m 83 cm





# 長いものの長さの はかり方と表し方 2

● まきじゃくへの書きこみ



日にち：            月            日

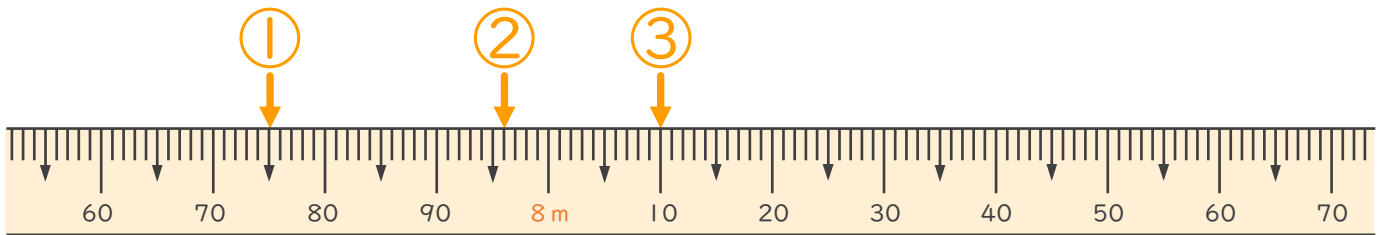
名まえ \_\_\_\_\_

1 次のまきじゃくで、①～③の長さ<sup>なが</sup>を表す<sup>あらわ</sup>めもりに ↓ をかきましょう。

① 7 m 7 5 c m

② 7 m 9 6 c m

③ 8 m 1 0 c m

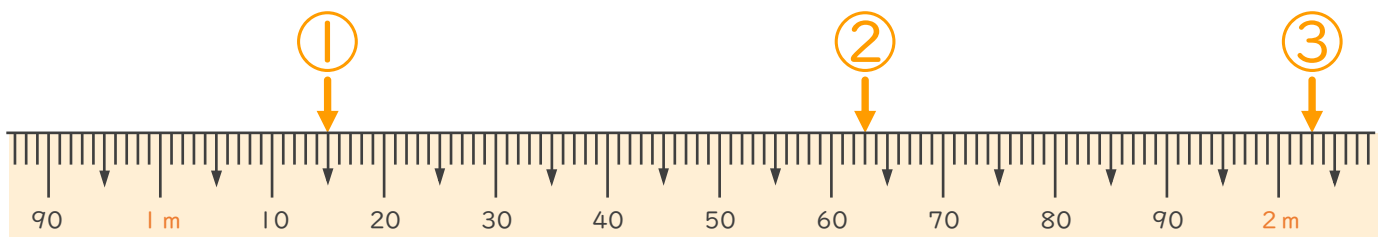


2 次のまきじゃくで、①～③の長さ<sup>なが</sup>を表す<sup>あらわ</sup>めもりに ↓ をかきましょう。

① 1 m 1 5 c m

② 1 m 6 3 c m

③ 2 m 3 c m







# 長いものの長さの はかり方と表し方 2

● まきじゃくへの書きこみ



日にち：            月            日

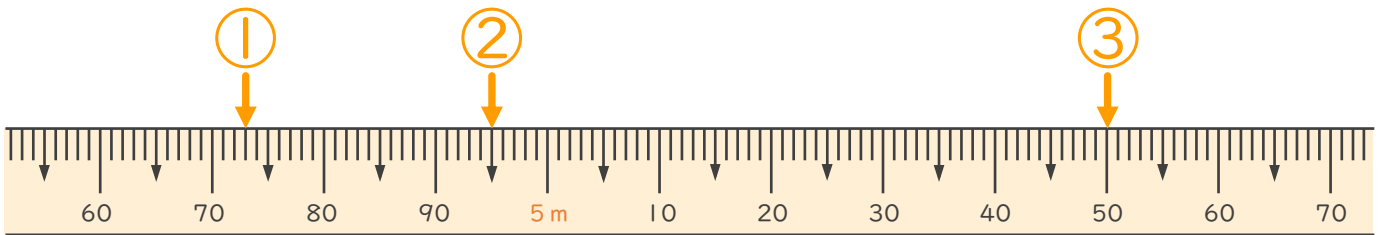
名まえ \_\_\_\_\_

1 次のまきじゃくで、①～③の長さ<sup>なが</sup>を表す<sup>あらわ</sup>めもりに ↓ をかきましょう。

① 4 m 7 3 c m

② 4 m 9 5 c m

③ 5 m 5 0 c m

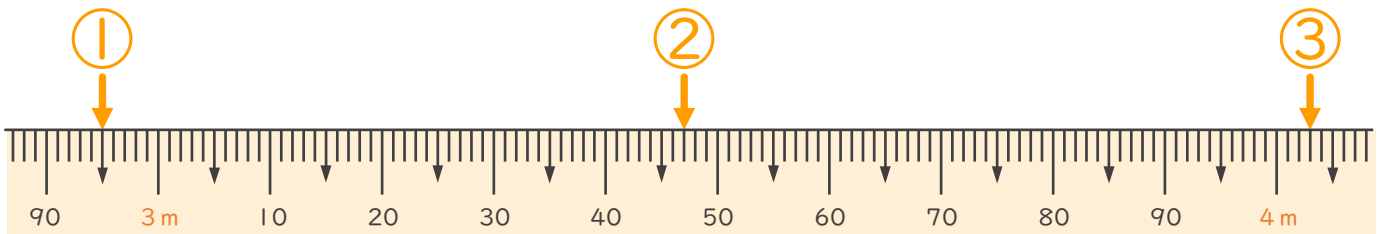


2 次のまきじゃくで、①～③の長さ<sup>なが</sup>を表す<sup>あらわ</sup>めもりに ↓ をかきましょう。

① 2 m 9 5 c m

② 3 m 4 7 c m

③ 4 m 3 c m





# 長いものの長さの はかり方と表し方 2

まきじゃくへの書きこみ



日にち： 月 日

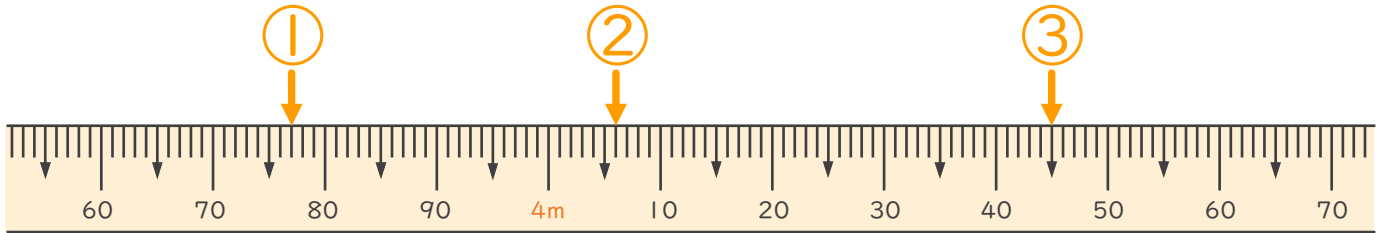
名まえ \_\_\_\_\_

1 次のまきじゃくで、①～③の長さながを表すあらわメモリに↓をかきましょう。

① 3 m 77 cm

② 4 m 6 cm

③ 4 m 45 cm

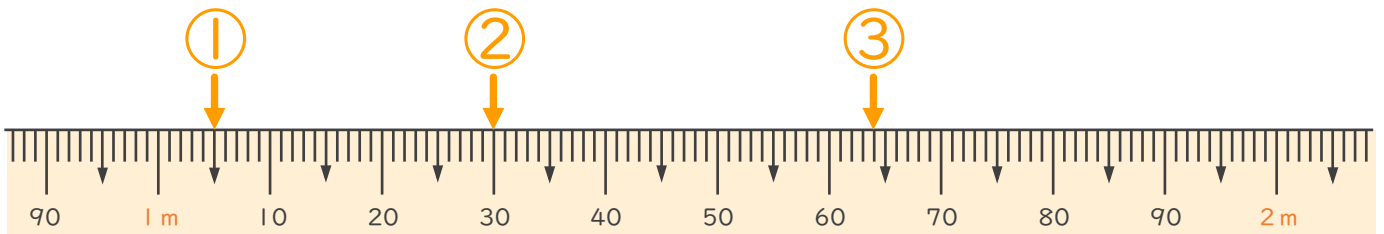


2 次のまきじゃくで、①～③の長さながを表すあらわメモリに↓をかきましょう。

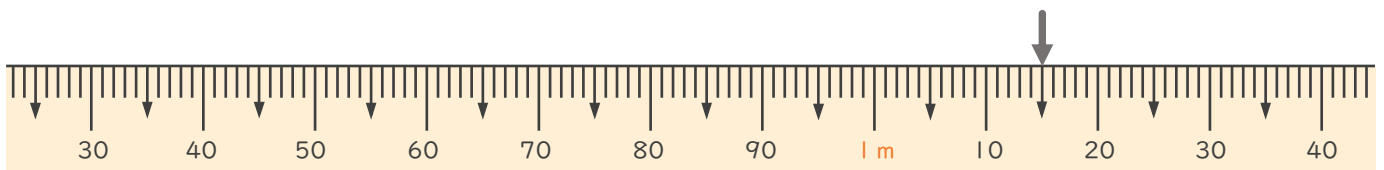
① 1 m 5 cm

② 1 m 30 cm

③ 1 m 64 cm



3 次のまきじゃくで、↓のメモリあらわが表している長さながを読み取りよましょう。



こた 答え ( 1 m 15 cm )





# 長いものの長さの はかり方と表し方 2

まきじゃくへの書きこみ



日にち： 月 日

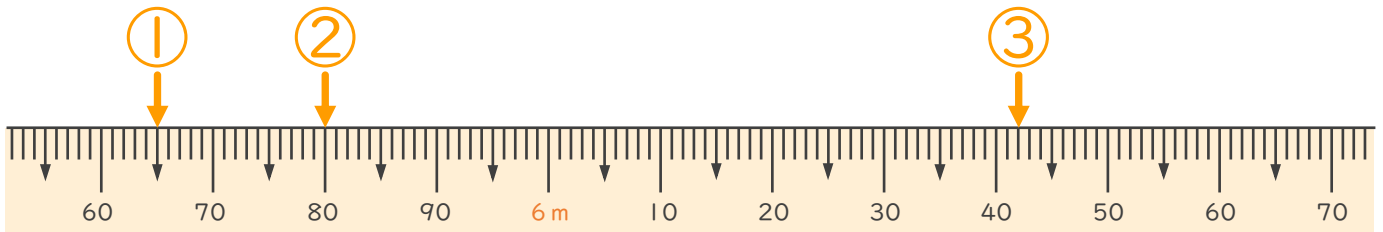
名まえ \_\_\_\_\_

1 次のまきじゃくで、①～③の長さを表すメモリに ↓ をかきましょう。

① 5 m 6 5 c m

② 5 m 8 0 c m

③ 6 m 4 2 c m

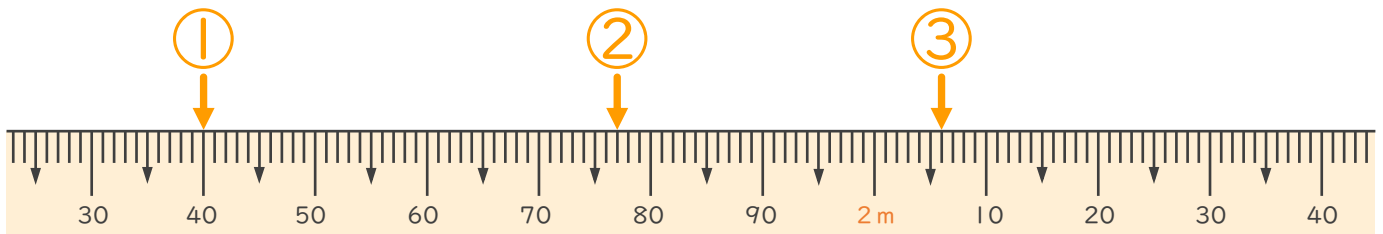


2 次のまきじゃくで、①～③の長さを表すメモリに ↓ をかきましょう。

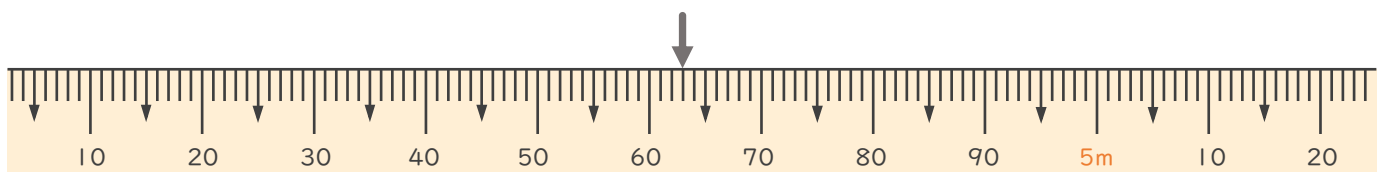
① 1 m 4 0 c m

② 1 m 7 7 c m

③ 2 m 6 c m



3 次のまきじゃくで、↓ のメモリが表している長さを読み取りましょう。



答え ( 4 m 6 3 c m )





# 長いものの長さの はかり方と表し方 2

まきじゃくへの書きこみ

12

日にち： 月 日

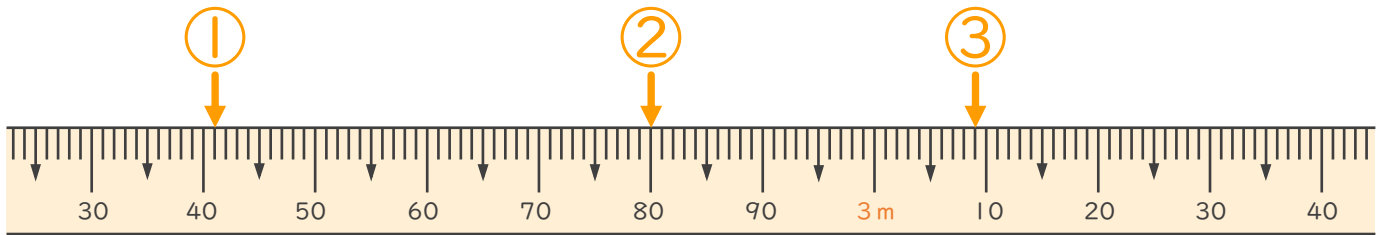
名まえ \_\_\_\_\_

1 次のまきじゃくで、①～③の長さながを表すあらかメモリに↓をかきましょう。

① 2 m 41 cm

② 2 m 80 cm

③ 3 m 9 cm

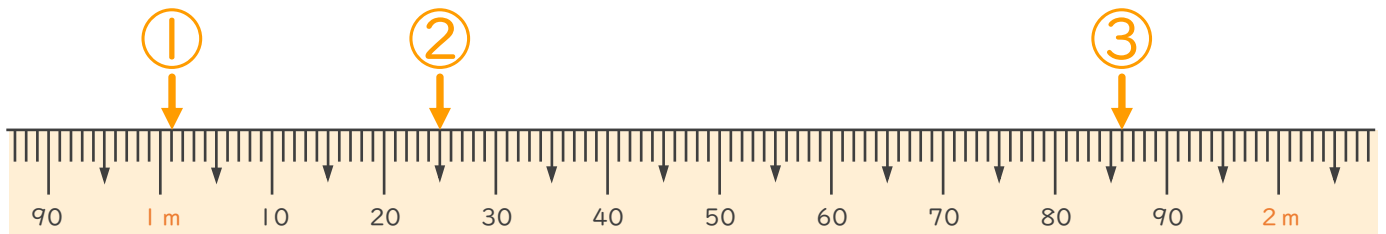


2 次のまきじゃくで、①～③の長さながを表すあらかメモリに↓をかきましょう。

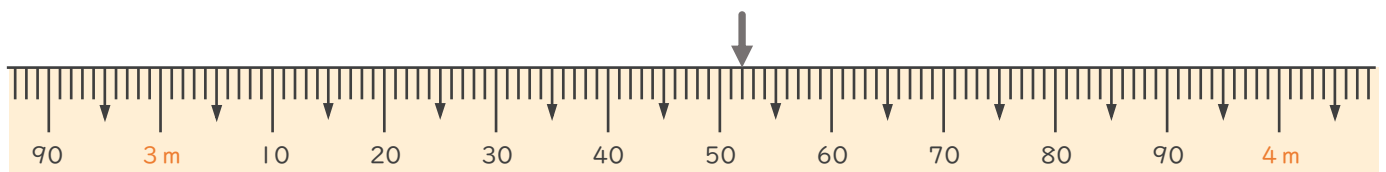
① 1 m 1 cm

② 1 m 25 cm

③ 1 m 86 cm



3 次のまきじゃくで、↓のメモリあらかが表している長さながを読み取りよましょう。



答え ( 3 m 52 cm )





# 長いものの長さの はかり方と表し方 2

● まきじゃくへの書きこみ

13

日にち： 月 日

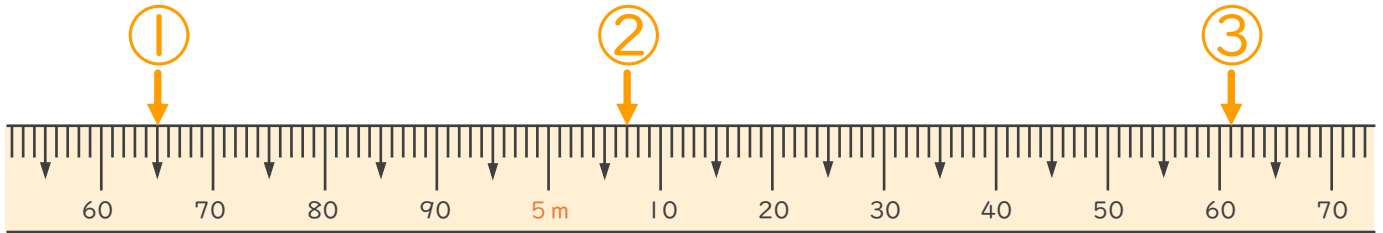
名まえ \_\_\_\_\_

1 次のまきじゃくで、①～③の長さを表すメモリに ↓ をかきましょう。

① 4 m 6 5 c m

② 5 m 7 c m

③ 5 m 6 1 c m

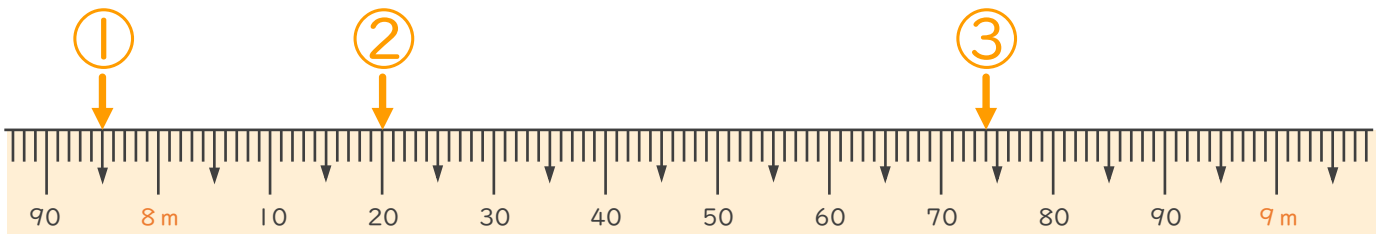


2 次のまきじゃくで、①～③の長さを表すメモリに ↓ をかきましょう。

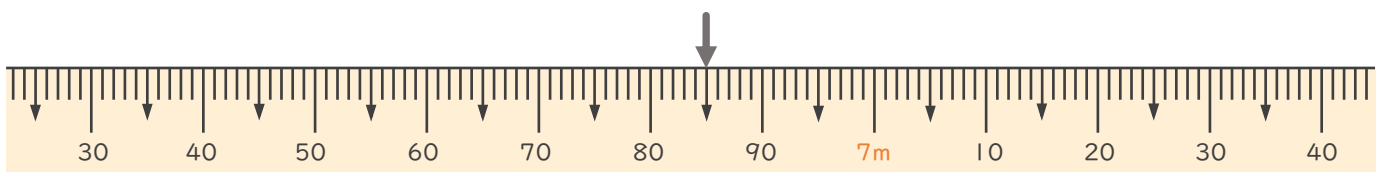
① 7 m 9 5 c m

② 8 m 2 0 c m

③ 8 m 7 4 c m



3 次のまきじゃくで、↓ のメモリが表している長さを読み取りましょう。



答え ( 6 m 8 5 c m )





# 長いものの長さの はかり方と表し方 2

● まきじゃくへの書きこみ

14

日にち：            月            日

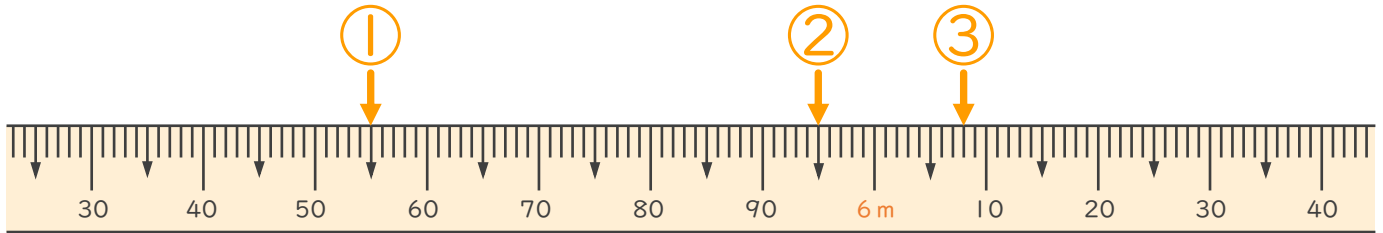
名まえ \_\_\_\_\_

1 次のまきじゃくで、①～③の長さを表す ために ↓ をかきましょう。

① 5 m 5 5 c m

② 5 m 9 5 c m

③ 6 m 8 c m

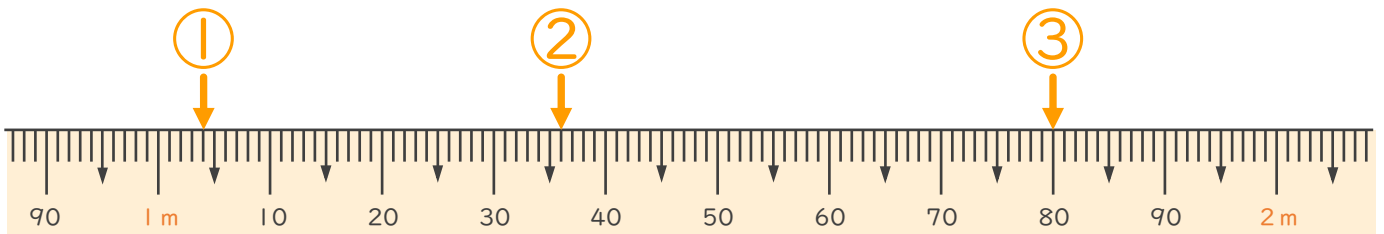


2 次のまきじゃくで、①～③の長さを表す ために ↓ をかきましょう。

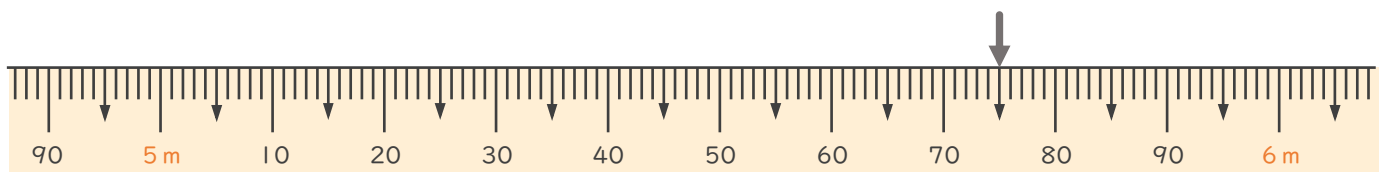
① 1 m 4 c m

② 1 m 3 6 c m

③ 1 m 8 0 c m



3 次のまきじゃくで、↓ のメモリが表している長さを読み取りましょう。



答え ( 5 m 7 5 c m )






長いものの長さの  
はかり方と表し方 2

15

● まきじゃくへの書きこみ

めざせ85点!



名まえ

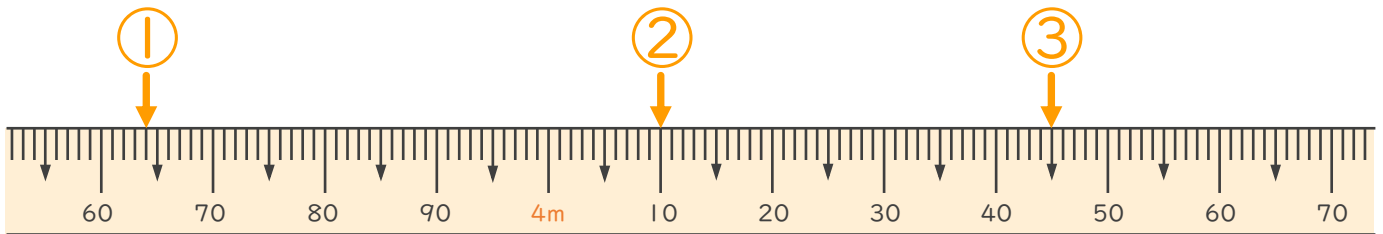
1 次のまきじゃくで、①～③の長さを表すメモりに ↓ をかきましょう。

(各15点)

① 3 m 6 4 c m

② 4 m 1 0 c m

③ 4 m 4 5 c m



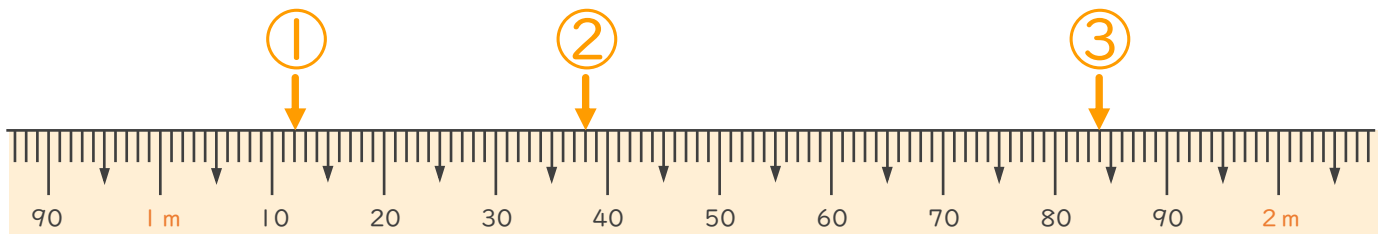
2 次のまきじゃくで、①～③の長さを表すメモりに ↓ をかきましょう。

(各15点)

① 1 m 1 2 c m

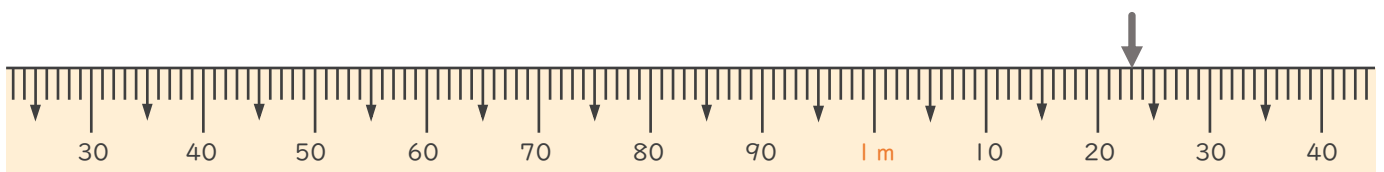
② 1 m 3 8 c m

③ 1 m 8 4 c m



3 次のまきじゃくで、↓のメモりが表している長さを読み取りましょう。

(10点)



答え ( 1 m 2 3 c m )



長いものの長さの  
はかり方と表し方 2

16

● まきじゃくへの書きこみ

めざせ85点!



名まえ \_\_\_\_\_

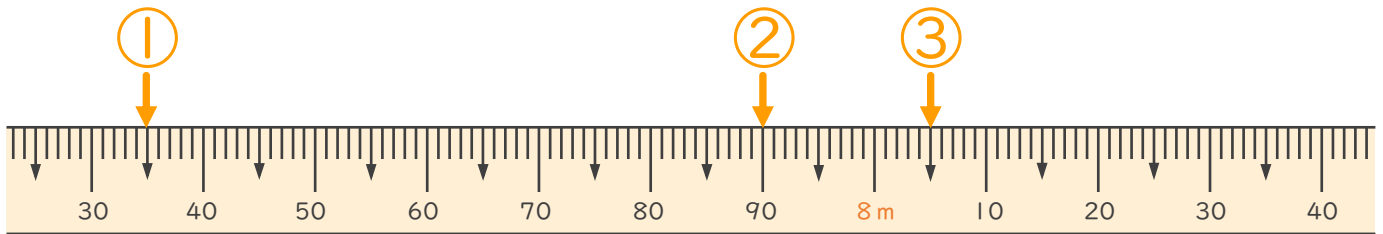
1 次のまきじゃくで、①～③の長さを表すメモリに ↓ をかきましょう。

(各15点)

① 7 m 35 c m

② 7 m 90 c m

③ 8 m 5 c m



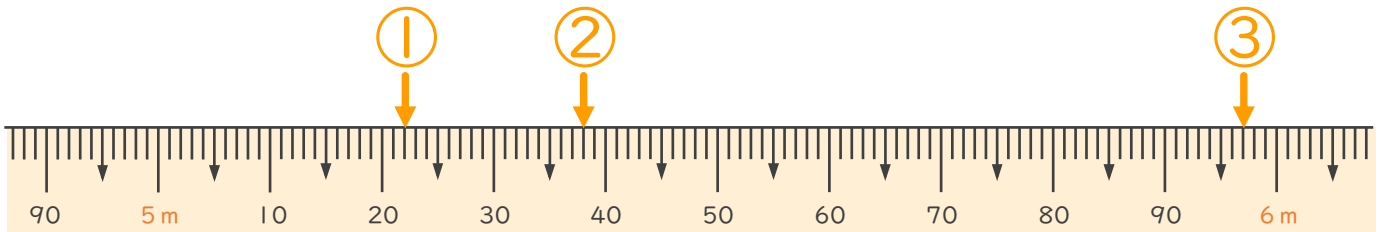
2 次のまきじゃくで、①～③の長さを表すメモリに ↓ をかきましょう。

(各15点)

① 5 m 22 c m

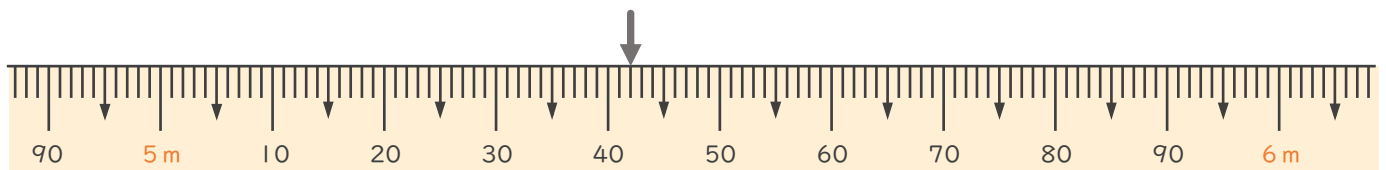
② 5 m 38 c m

③ 5 m 97 c m



3 次のまきじゃくで、↓のメモリが表している長さを読み取りましょう。

(10点)



答え ( 5 m 42 c m )

