



# 長いものの長さの はかり方と表し方 3

● 長さをはかる道具



日にち：            月            日

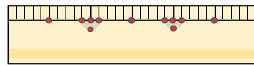
名まえ \_\_\_\_\_

・ 次の長さをはかります。①、②、③ のどれを使いますか。  
(うすい字は なぞりましょう。)

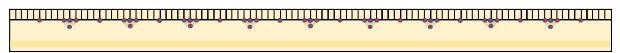
① まきじゃく



② 30cmものさし



③ 1mものさし



① ボールペンの長さ

答え (            ②            )

② 花だんの長さ

答え (            )

③ つくえのたての長さ

答え (            )

④ 木のまわりの長さ

答え (            )





















長いものの長さの  
はかり方と表し方 3

● 長さをはかる道具



日にち： 月 日

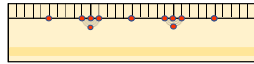
名まえ \_\_\_\_\_

・ 次の長さをはかります。①、②、③ のどれを使いますか。

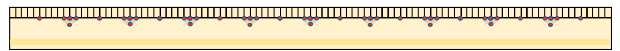
① まきじゃく



② 30cmものさし



③ 1mものさし



① 教室のたての長さ

答え ( )

② はがきのたての長さ

答え ( )

③ ドラムかんのまわりの長さ

答え ( )

④ つくえの横の長さ

答え ( )





# 長いものの長さの はかり方と表し方 3

● 長さをはかる道具

10

日にち： 月 日

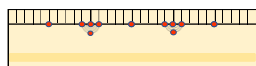
名まえ \_\_\_\_\_

1 次の長さをはかります。(ア)、(イ)、(ウ) のどれを使いますか。

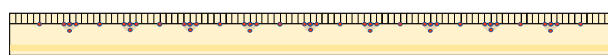
(ア) まきじゃく



(イ) 30cmものさし



(ウ) 1mものさし



① ボールペンの長さ

答え ( )

② ろう下の長さ

答え ( )

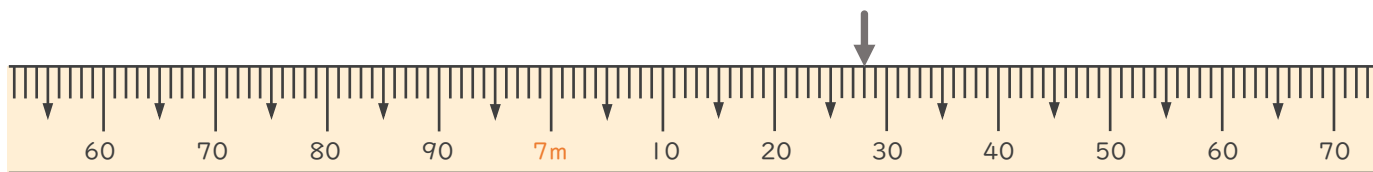
③ つくえの横の長さ

答え ( )

④ ドラムかんのまわりの長さ

答え ( )

2 次のまきじゃくで、↓のめもりが表している長さを読み取りましょ  
う。



答え ( )



長いものの長さの  
はかり方と表し方 3

● 長さをはかる道具



日にち： 月 日

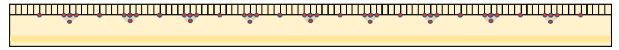
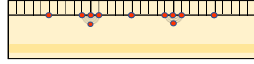
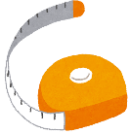
名まえ \_\_\_\_\_

1 次の長さをはかります。ア、イ、ウのどれを使いますか。

ア まきじゃく

イ 30cmものさし

ウ 1mものさし



① えん筆の長さ

答え ( )

② カーテンの長さ

答え ( )

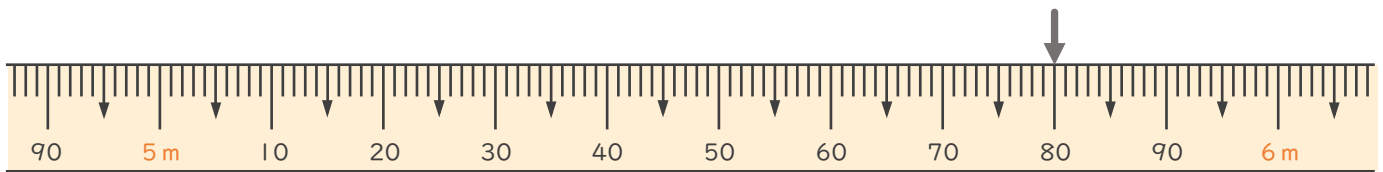
③ かだんの横の長さ

答え ( )

④ 教科書のたての長さ

答え ( )

2 次のまきじゃくで、↓のめもりが表している長さを読み取りましょ  
う。



答え ( )





# 長いものの長さの はかり方と表し方 3

● 長さをはかる道具

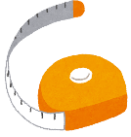
12

日にち：        月        日

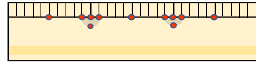
名まえ \_\_\_\_\_

1 次の長さをはかります。(ア)、(イ)、(ウ) のどれを使いますか。

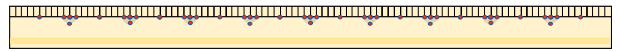
(ア) まきじゃく



(イ) 30cmものさし



(ウ) 1mものさし



① つくえの横の長さ

答え (                      )

② ろう下の長さ

答え (                      )

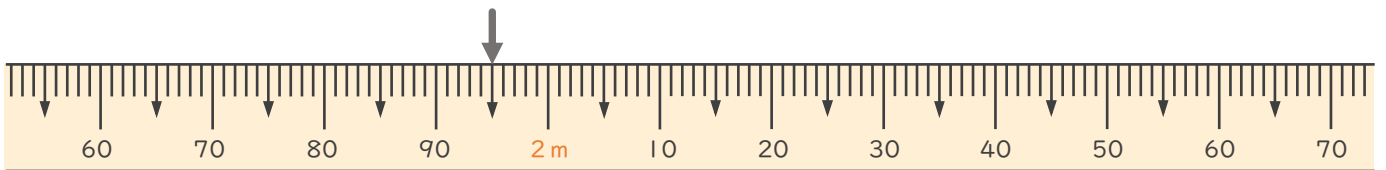
③ ボールペンの長さ

答え (                      )

④ ドラムかんのまわりの長さ

答え (                      )

2 次のまきじゃくで、↓のめもりが表している長さを読み取りましよう。



答え (                      )





長いものの長さの  
はかり方と表し方 3

● 長さをはかる道具

13

日にち： 月 日

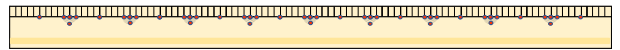
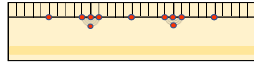
名まえ \_\_\_\_\_

1 次の長さをはかります。(ア)、(イ)、(ウ) のどれを使いますか。

(ア) まきじゃく

(イ) 30cmものさし

(ウ) 1mものさし



① ドラムかんのまわりの長さ

答え ( )

② ろう下の長さ

答え ( )

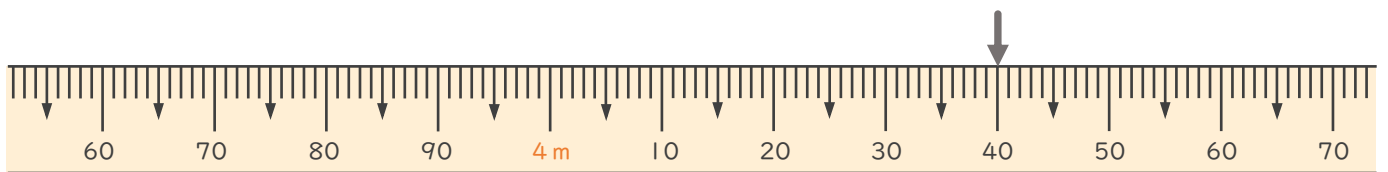
③ つくえの横の長さ

答え ( )

④ ボールペンの長さ

答え ( )

2 次のまきじゃくで、↓のめもりが表している長さを読み取りましよう。



答え ( )



# 長いものの長さの はかり方と表し方 3

● 長さをはかる道具

14

日にち： 月 日

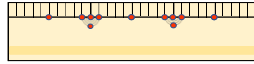
名まえ \_\_\_\_\_

1 次の長さをはかります。(ア)、(イ)、(ウ) のどれを使いますか。

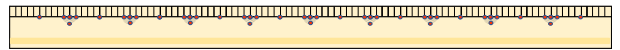
(ア) まきじゃく



(イ) 30cmものさし



(ウ) 1mものさし



① つくえの横の長さ

答え ( )

② ろう下の長さ

答え ( )

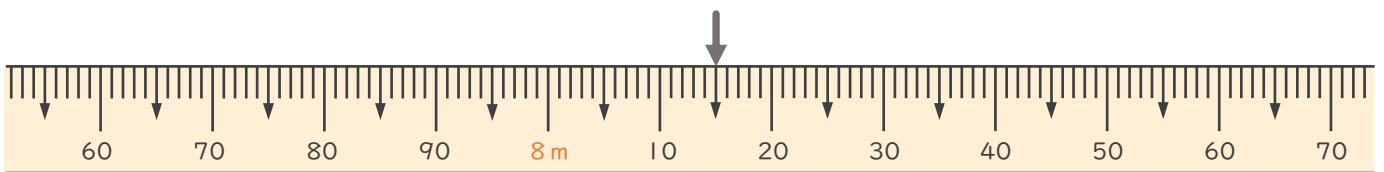
③ 色えん筆の長さ

答え ( )

④ ドラムかんのまわりの長さ

答え ( )

2 次のまきじゃくで、↓のめもりが表している長さを読み取りましよう。



答え ( )




# 長いものの長さの はかり方と表し方 3

● 長さをはかる道具

# 15

めざせ80点!



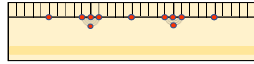
名まえ

1 次の長さをはかります。(ア)、(イ)、(ウ) のどれを使いますか。(各20点)

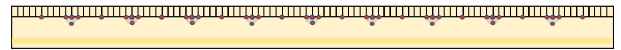
(ア) まきじゃく



(イ) 30cmものさし



(ウ) 1mものさし



① ボールペンの長さ

答え ( )

② ろう下の長さ

答え ( )

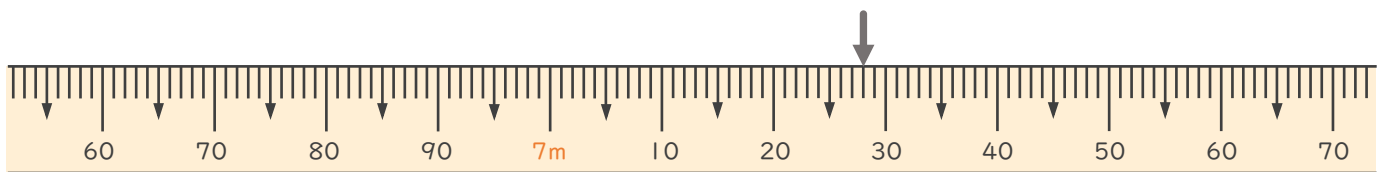
③ れいぞうこの横の長さ

答え ( )

④ ドラムかんのまわりの長さ

答え ( )

2 次のまきじゃくで、↓のめもりが表している長さを読み取りましよう。(20点)



答え ( )




# 長いものの長さの はかり方と表し方 3

# 16

● 長さをはかる道具

めざせ80点!



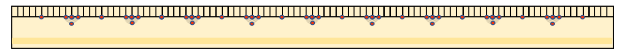
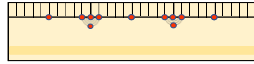
名まえ \_\_\_\_\_

1 次の長さをはかります。(ア)、(イ)、(ウ) のどれを使いますか。(各20点)

(ア) まきじゃく

(イ) 30cmものさし

(ウ) 1mものさし



① ドラムかんのまわりの長さ

答え ( )

② ろう下の長さ

答え ( )

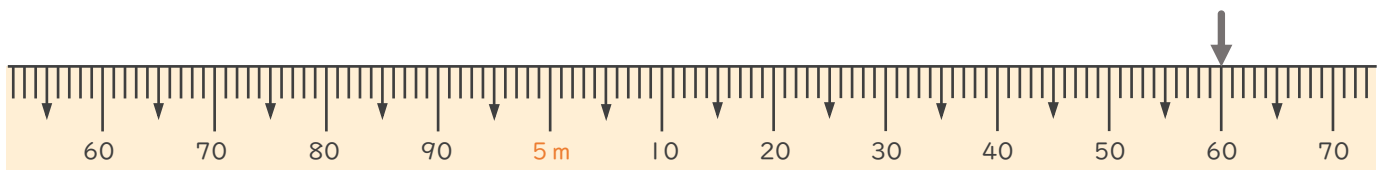
③ つくえの横の長さ

答え ( )

④ えん筆の長さ

答え ( )

2 次のまきじゃくで、↓のめもりが表している長さを読み取りましよう。(20点)



答え ( )





# 長いものの長さの はかり方と表し方 3

● 長さをはかる道具



日にち：            月            日

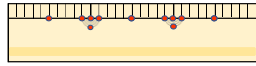
名まえ \_\_\_\_\_

・ 次の長さをはかります。①、②、③ のどれを使いますか。  
(うすい字は なぞりましょう。)

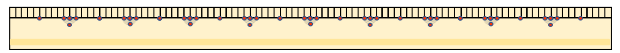
① まきじゃく



② 30cmものさし



③ 1mものさし



① ボールペンの長さ

答え (      ②      )

② 花だんの長さ

答え (      ①      )

③ つくえのたての長さ

答え (      ③      )

④ 木のまわりの長さ

答え (      ①      )





# 長いものの長さの はかり方と表し方 3

● 長さをはかる道具

## 2

日にち：            月            日

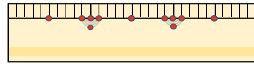
名まえ \_\_\_\_\_

・ 次の長さをはかります。①、②、③ のどれを使いますか。

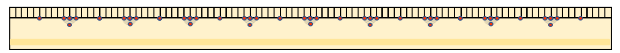
① まきじゃく



② 30cmものさし



③ 1mものさし



① 電柱のまわりの長さ

答え (      ①      )

② つくえのたての長さ

答え (      ③      )

③ へいきん台の長さ

答え (      ①      )

④ ノートのたての長さ

答え (      ②      )





# 長いものの長さの はかり方と表し方 3

● 長さをはかる道具

3

日にち：            月            日

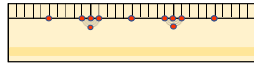
名まえ \_\_\_\_\_

・ 次の長さをはかります。①、②、③ のどれを使いますか。

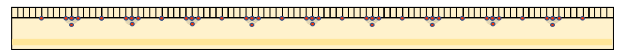
① まきじゃく



② 30cmものさし



③ 1mものさし



① つくえのたての長さ

答え (      ③      )

② プールの長さ

答え (      ①      )

③ ペンの長さ

答え (      ②      )

④ バケツのまわりの長さ

答え (      ①      )





# 長いものの長さの はかり方と表し方 3

● 長さをはかる道具

4

日にち：            月            日

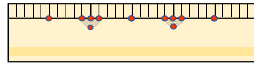
名まえ \_\_\_\_\_

・ 次の長さをはかります。①、②、③ のどれを使いますか。

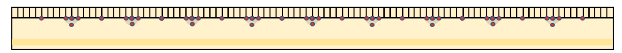
① まきじゃく



② 30cmものさし



③ 1mものさし



① 電柱のまわりの長さ

答え (      ①      )

② つくえのたての長さ

答え (      ③      )

③ 教科書のたての長さ

答え (      ②      )

④ へいきん台の長さ

答え (      ①      )





# 長いものの長さの はかり方と表し方 3

● 長さをはかる道具

5

日にち：            月            日

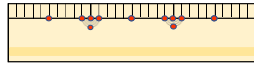
名まえ \_\_\_\_\_

・ 次の長さをはかります。①、②、③ のどれを使いますか。

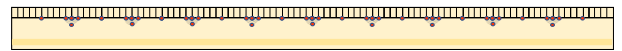
① まきじゃく



② 30cmものさし



③ 1mものさし



① えん筆の長さ

答え (      ②      )

② ろう下の長さ

答え (      ①      )

③ れいぞうこの横の長さ

答え (      ③      )

④ ドラムかんのまわりの長さ

答え (      ①      )





# 長いものの長さの はかり方と表し方 3

● 長さをはかる道具

6

日にち：            月            日

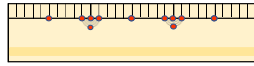
名まえ \_\_\_\_\_

・ 次の長さをはかります。①、②、③ のどれを使いますか。

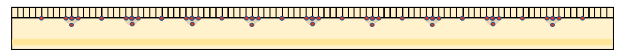
① まきじゃく



② 30cmものさし



③ 1mものさし



① 教室のたての長さ

答え (      ①      )

② はがきのたての長さ

答え (      ②      )

③ ドラムかんのまわりの長さ

答え (      ①      )

④ つくえの横の長さ

答え (      ③      )





# 長いものの長さの はかり方と表し方 3

● 長さをはかる道具



日にち：            月            日

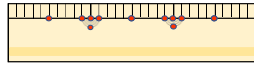
名まえ \_\_\_\_\_

・ 次の長さをはかります。①、②、③ のどれを使いますか。

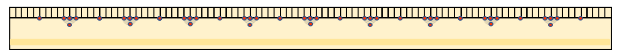
① まきじゃく



② 30cmものさし



③ 1mものさし



① えん筆の長さ

答え (            ②            )

② 電柱のまわりの長さ

答え (            ①            )

③ れいぞうこの横の長さ

答え (            ③            )

④ 花だんの横の長さ

答え (            ①            )





# 長いものの長さの はかり方と表し方 3

● 長さをはかる道具

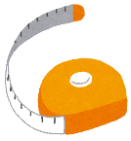


日にち：            月            日

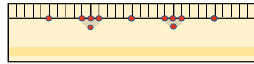
名まえ \_\_\_\_\_

・ 次の長さをはかります。①、②、③ のどれを使いますか。

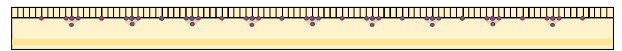
① まきじゃく



② 30cmものさし



③ 1mものさし



① ノートのたての長さ

答え (      ②      )

② 教室のたての長さ

答え (      ①      )

③ ドラムかんのまわりの長さ

答え (      ①      )

④ つくえの横の長さ

答え (      ③      )







# 長いものの長さの はかり方と表し方 3

● 長さをはかる道具



日にち：            月            日

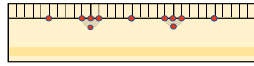
名まえ \_\_\_\_\_

・ 次の長さをはかります。①、②、③ のどれを使いますか。

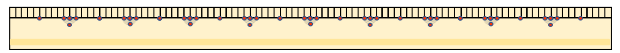
① まきじゃく



② 30cmものさし



③ 1mものさし



① 教室のたての長さ

答え (      ①      )

② はがきのたての長さ

答え (      ②      )

③ ドラムかんのまわりの長さ

答え (      ①      )

④ つくえの横の長さ

答え (      ③      )





# 長いものの長さの はかり方と表し方 3

● 長さをはかる道具

10

日にち：            月            日

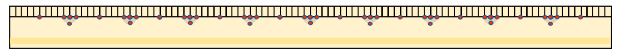
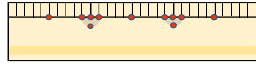
名まえ \_\_\_\_\_

1 次の長さをはかります。(ア)、(イ)、(ウ) のどれを使いますか。

(ア) まきじゃく

(イ) 30cmものさし

(ウ) 1mものさし



① ボールペンの長さ

答え (    (イ)    )

② ろう下の長さ

答え (    (ア)    )

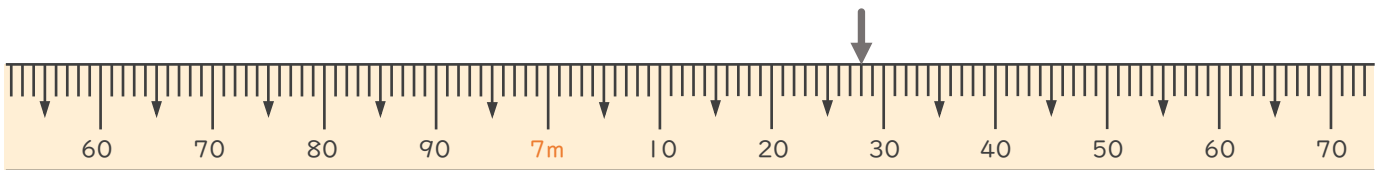
③ つくえの横の長さ

答え (    (ウ)    )

④ ドラムかんのまわりの長さ

答え (    (ア)    )

2 次のまきじゃくで、↓のめもりが表している長さを読み取りましよう。



答え (    7m28cm    )





# 長いものの長さの はかり方と表し方 3

● 長さをはかる道具



日にち：            月            日

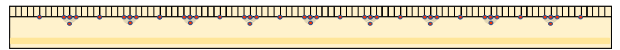
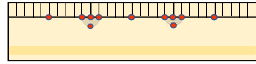
名まえ \_\_\_\_\_

1 次の長さをはかります。(ア)、(イ)、(ウ) のどれを使いますか。

(ア) まきじゃく

(イ) 30cmものさし

(ウ) 1mものさし



① えん筆の長さ

答え (            (イ)            )

② カーテンの長さ

答え (            (ア)            )

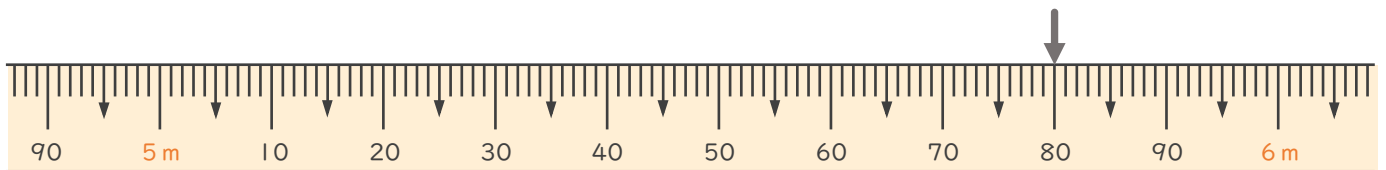
③ かだんの横の長さ

答え (            (ア)            )

④ 教科書のたての長さ

答え (            (イ)            )

2 次のまきじゃくで、↓のめもりが表している長さを読み取りましよう。



答え (            5m80cm            )





# 長いものの長さの はかり方と表し方 3

● 長さをはかる道具

12

日にち：            月            日

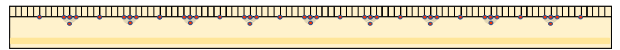
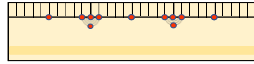
名まえ \_\_\_\_\_

1 次の長さをはかります。(ア)、(イ)、(ウ) のどれを使いますか。

(ア) まきじゃく

(イ) 30cmものさし

(ウ) 1mものさし



① つくえの横の長さ

答え (            (ウ)            )

② ろう下の長さ

答え (            (ア)            )

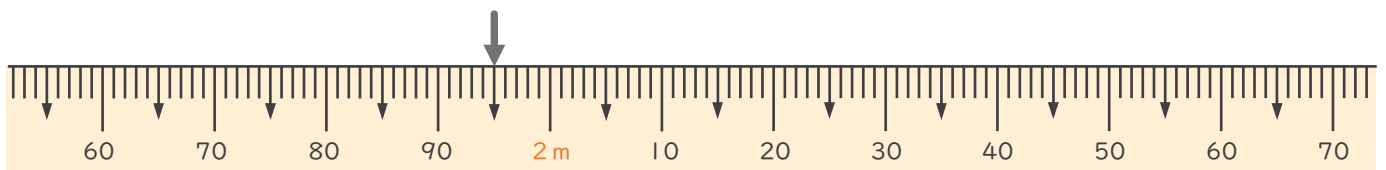
③ ボールペンの長さ

答え (            (イ)            )

④ ドラムかんのまわりの長さ

答え (            (ア)            )

2 次のまきじゃくで、↓のめもりが表している長さを読み取りましよう。



答え (            1m95cm            )





長いものの長さの  
はかり方と表し方 3

● 長さをはかる道具

13

日にち： 月 日

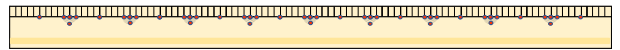
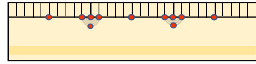
名まえ \_\_\_\_\_

1 次の長さをはかります。(ア)、(イ)、(ウ) のどれを使いますか。

(ア) まきじゃく

(イ) 30cmものさし

(ウ) 1mものさし



① ドラムかんのまわりの長さ

答え ( (ア) )

② ろう下の長さ

答え ( (ア) )

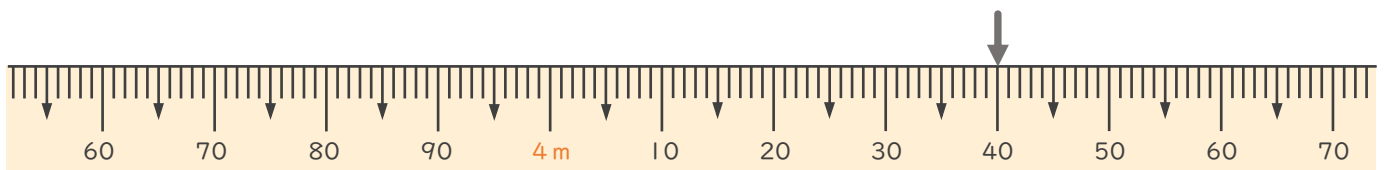
③ つくえの横の長さ

答え ( (ウ) )

④ ボールペンの長さ

答え ( (イ) )

2 次のまきじゃくで、↓のめもりが表している長さを読み取りましよう。



答え ( 4m40cm )



# 長いものの長さの はかり方と表し方 3

● 長さをはかる道具

14

日にち：            月            日

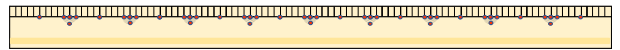
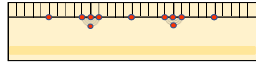
名まえ \_\_\_\_\_

1 次の長さをはかります。(ア)、(イ)、(ウ) のどれを使いますか。

(ア) まきじゃく

(イ) 30cmものさし

(ウ) 1mものさし



① つくえの横の長さ

答え (            (ウ)            )

② ろう下の長さ

答え (            (ア)            )

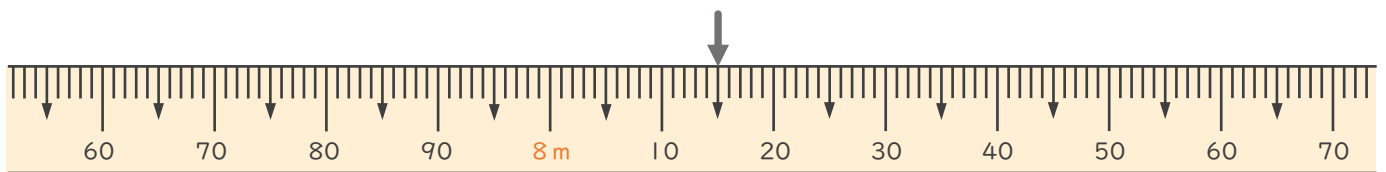
③ 色えん筆の長さ

答え (            (イ)            )

④ ドラムかんのまわりの長さ

答え (            (ア)            )

2 次のまきじゃくで、↓のめもりが表している長さを読み取りましよう。



答え (            8m 15cm            )






# 長いものの長さの はかり方と表し方 3

● 長さをはかる道具

15

めざせ80点!



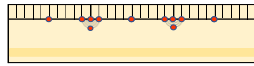
名まえ

1 次の長さをはかります。①、②、③ のどれを使いますか。(各20点)

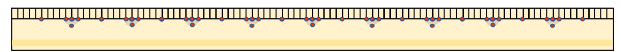
① まきじゃく



② 30cmものさし



③ 1mものさし



① ボールペンの長さ

答え ( ② )

② ろう下の長さ

答え ( ① )

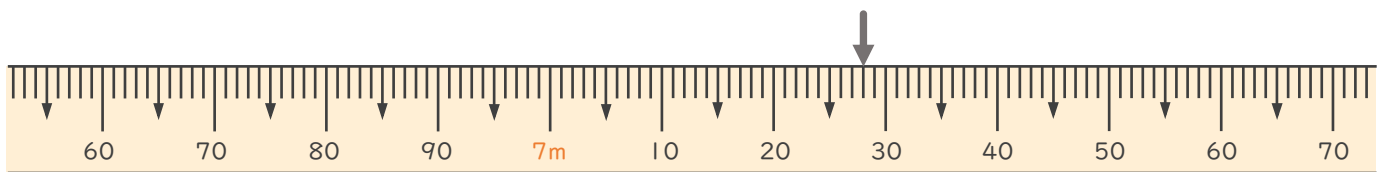
③ れいぞうこの横の長さ

答え ( ③ )

④ ドラムかんのまわりの長さ

答え ( ① )

2 次のまきじゃくで、↓のめもりが表している長さを読み取りましょ  
う。(20点)



答え ( 7m28cm )






# 長いものの長さの はかり方と表し方 3

● 長さをはかる道具

# 16

めざせ80点!



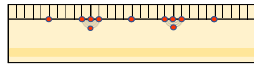
名まえ \_\_\_\_\_

1 次の長さをはかります。①、②、③ のどれを使いますか。(各20点)

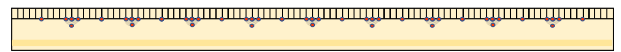
① まきじゃく



② 30cmものさし



③ 1mものさし



① ドラムかんのまわりの長さ

答え ( ① )

② ろう下の長さ

答え ( ① )

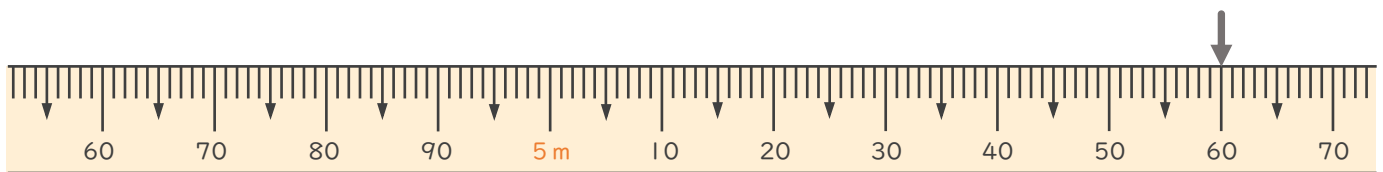
③ つくえの横の長さ

答え ( ③ )

④ えん筆の長さ

答え ( ② )

2 次のまきじゃくで、↓のめもりが表している長さを読み取りましょ  
う。(20点)



答え ( 5m60cm )

