



長いものの長さの はかり方と表し方 4

● きよりと道のり (メートル)

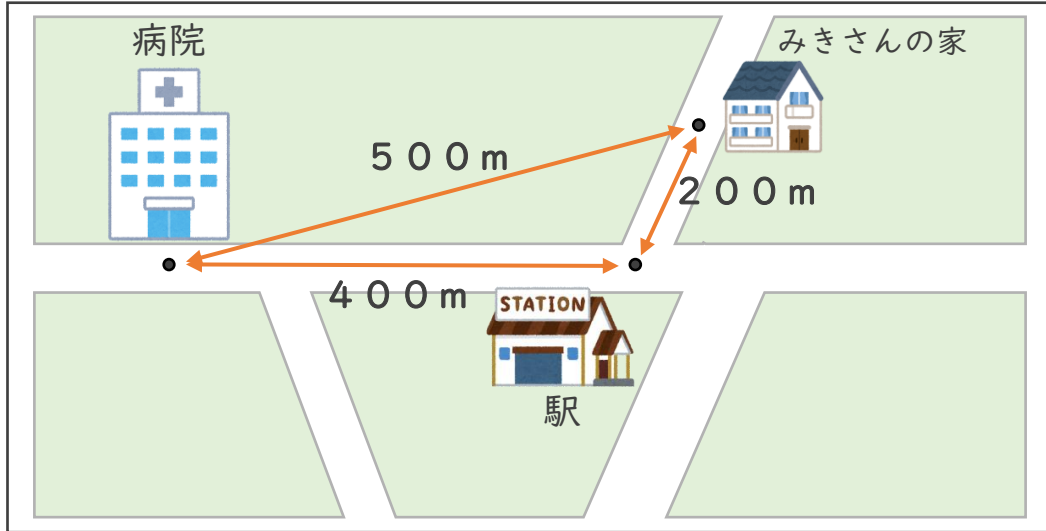
15

めざせ80点!



名まえ _____

I 下の絵地図を見て、次の長さをもとめましょう。(各20点)



① みきさんの家から病院までのきよりは、何mですか。

答え ()

② みきさんの家から病院までの道のりは、何mですか。

式：

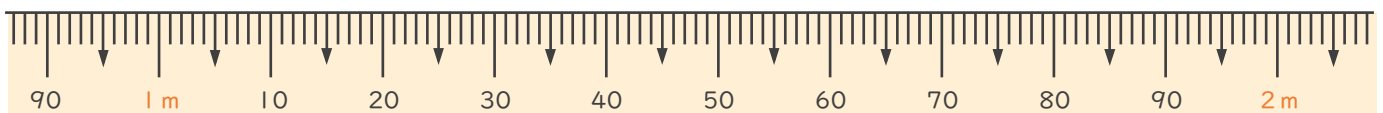
答え ()

2 次のまきじゃくで、①～③の長さを表すメモリに↓をかきましょう。
(各20点)

① 1 m 10 cm

② 1 m 24 cm

③ 1 m 98 cm





長いものの長さの はかり方と表し方 4

● きよりと道のり (メートル)

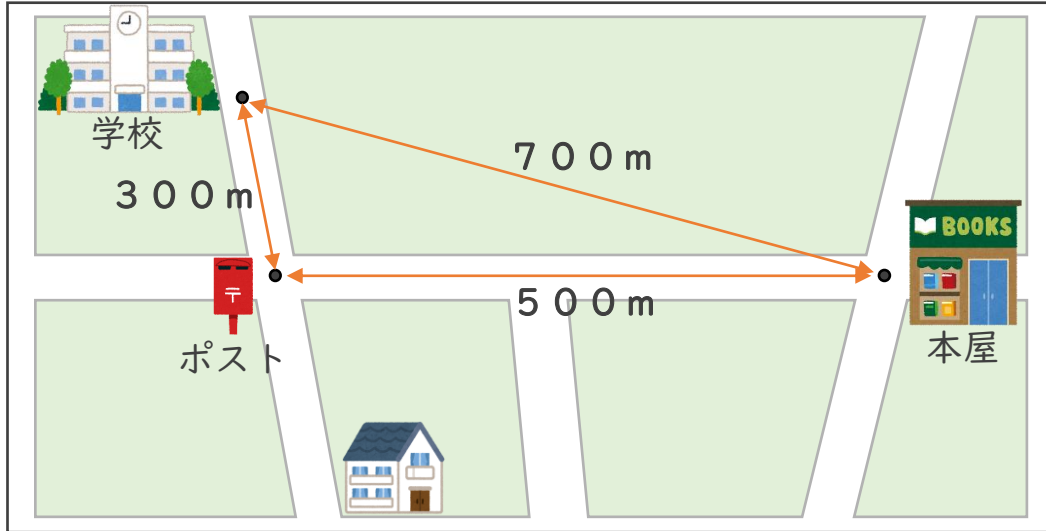
16

めざせ80点!



名まえ _____

1 下の絵地図を見て、次の長さをもとめましょう。(各20点)



① 学校から本屋までのきよりは、何mですか。

答え ()

② 学校から本屋までの道のりは、何mですか。

式：

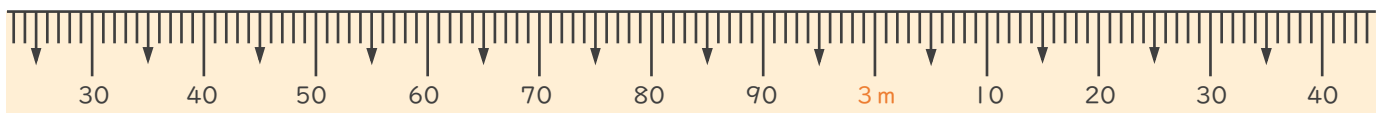
答え ()

2 次のまきじゃくで、①～③の長さを表すメモリに↓をかきましょう。
(各20点)

① 2m35cm

② 2m96cm

③ 3m15cm





長いものの長さの はかり方と表し方 4

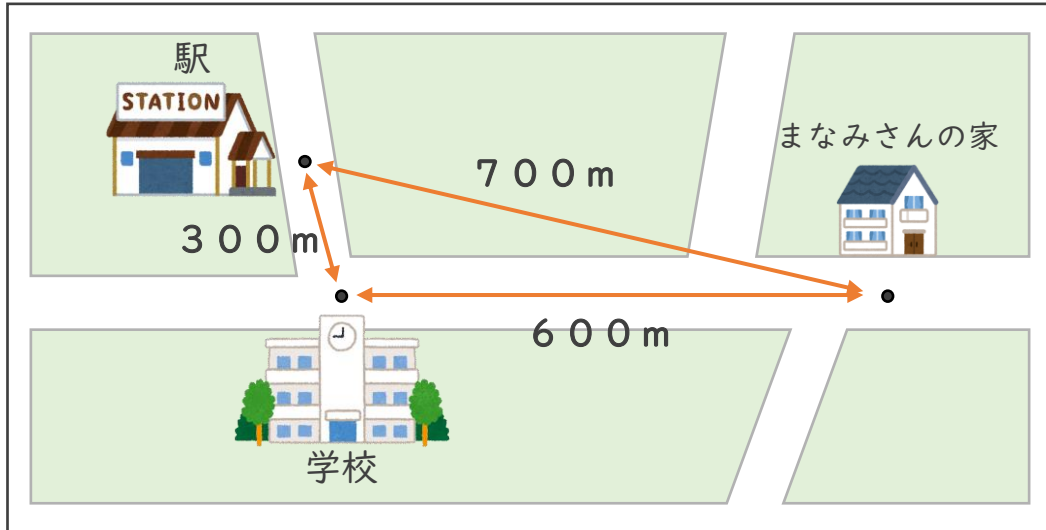
● きよりと道のり (メートル)



日にち： 月 日

名まえ _____

- ・ 下の絵地図を見て、次の長さをもとめましょう。
(うすい字はなぞりましょう。)



- ① まなみさんの家から駅までのきよりは、何mですか。

答え (700m)

- ② まなみさんの家から駅までの道のりは、何mですか。

式： $600m + 300m = 900m$

答え (900m)



長いものの長さの はかり方と表し方 4

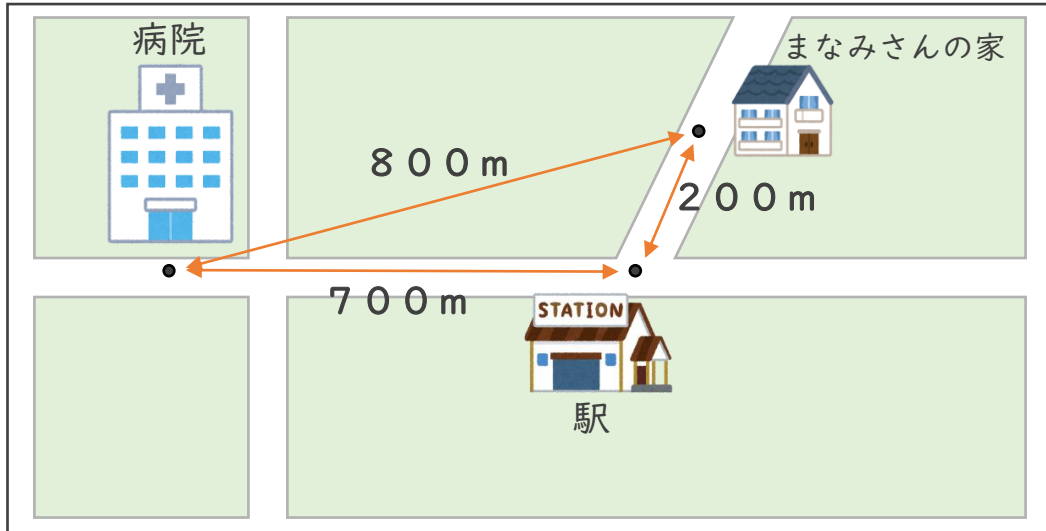
● きよりと道のり (メートル)

2

日にち： 月 日

名まえ _____

・ 下の絵地図を見て、次の長さをもとめましょう。



① まなみさんの家から病院までのきよりは、何mですか。

答え (800 m)

② まなみさんの家から病院までの道のりは、何mですか。

式： $200\text{ m} + 700\text{ m} = 900\text{ m}$

答え (900 m)





長いものの長さの はかり方と表し方 4

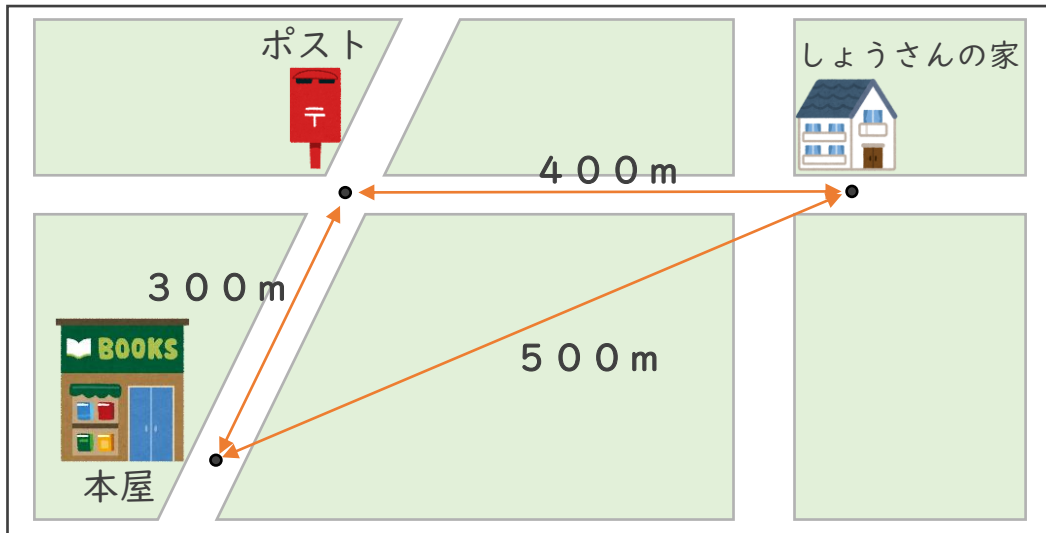
● きよりと道のり (メートル)



日にち： 月 日

名まえ _____

・ 下の絵地図を見て、次の長さをもとめましょう。



① しょうさんの家から本屋までのきよりは、何mですか。

こた 答え (500m)

② しょうさんの家から本屋までの道のりは、何mですか。

しき 式： $400m + 300m = 700m$

こた 答え (700m)



長いものの長さの はかり方と表し方 4

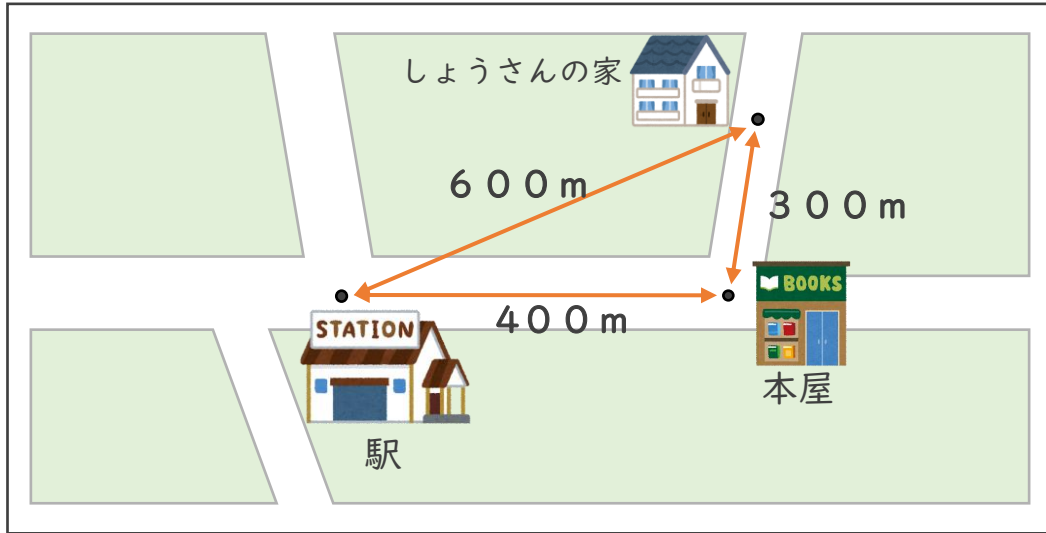
● きよりと道のり (メートル)

4

日にち： 月 日

名まえ _____

・ 下の絵地図を見て、次の長さをもとめましょう。



① しょうさんの家から駅までのきよりは、何mですか。

答え (600 m)

② しょうさんの家から駅までの道のりは、何mですか。

式： $300\text{ m} + 400\text{ m} = 700\text{ m}$

答え (700 m)



長いものの長さの はかり方と表し方 4

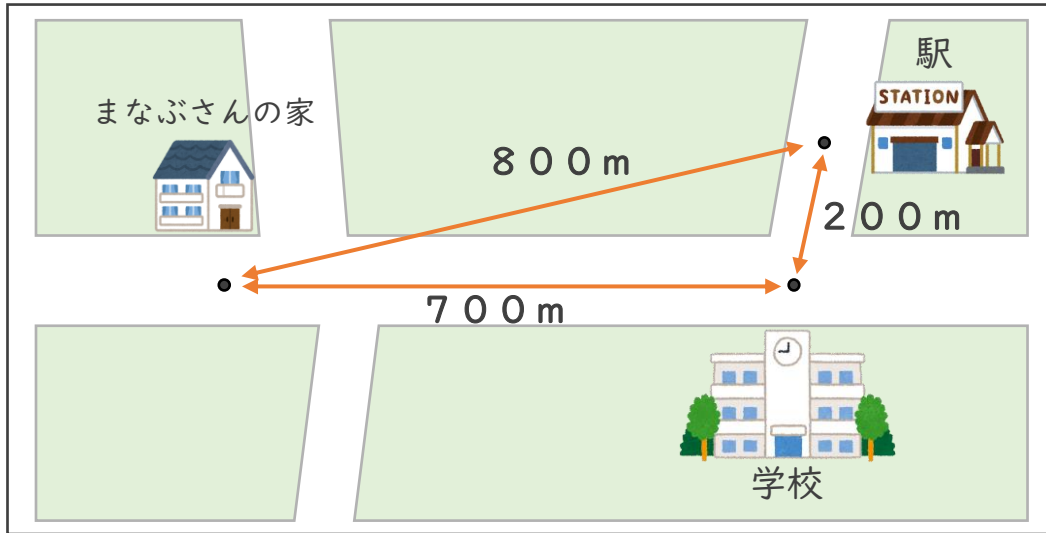
● きよりと道のり (メートル)

5

日にち： 月 日

名まえ _____

した えちず つぎ なが
・ 下の絵地図を見て、次の長さをもとめましょう。



① まなぶさんの家から駅までのきよりは、何mですか。

こた 答え (800m)

② まなぶさんの家から駅までの道のりは、何mですか。

しき 式： $700\text{m} + 200\text{m} = 900\text{m}$

こた 答え (900m)



長いものの長さの はかり方と表し方 4

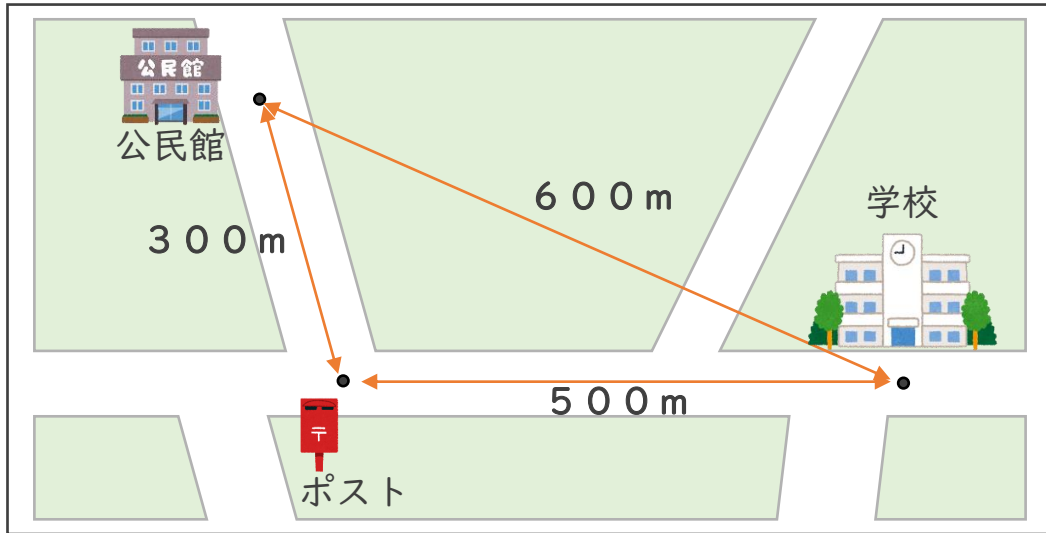
● きよりと道のり (メートル)

6

日にち： 月 日

名まえ _____

・ 下の絵地図を見て、次の長さをもとめましょう。



① 公民館から学校までのきよりは、何mですか。

答え (600m)

② 公民館から学校までの道のりは、何mですか。

式： $300\text{m} + 500\text{m} = 800\text{m}$

答え (800m)



長いものの長さの
はかり方と表し方 4

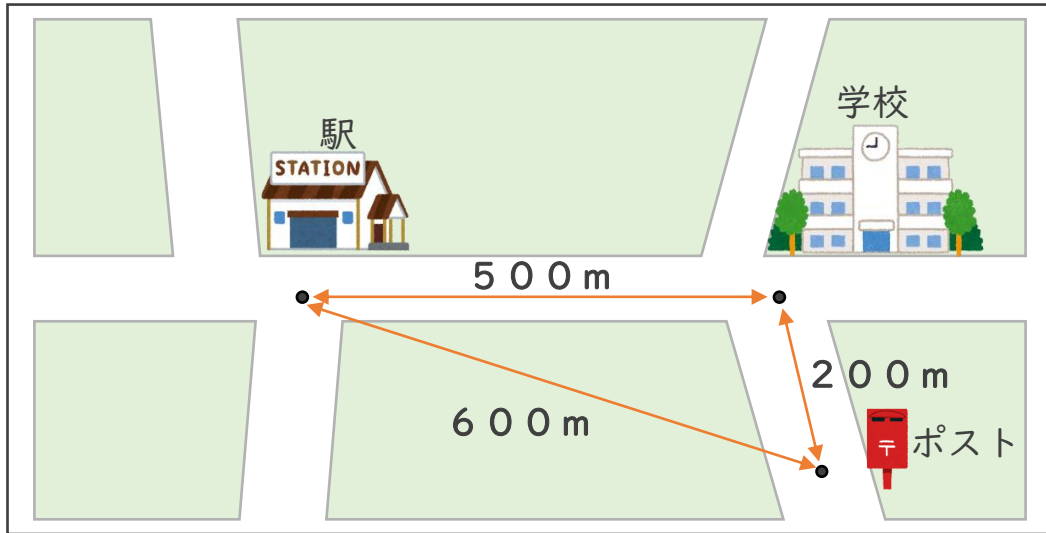
● きよりと道のり (メートル)



日にち： 月 日

名まえ _____

した えちず つぎ なが
・ 下の絵地図を見て、次の長さをもとめましょう。



① ポストから駅までのきよりは、何mですか。

答え (600 m)

② ポストから駅までの道のりは、何mですか。

式： $200\text{ m} + 500\text{ m} = 700\text{ m}$

答え (700 m)



長いものの長さの
はかり方と表し方 4

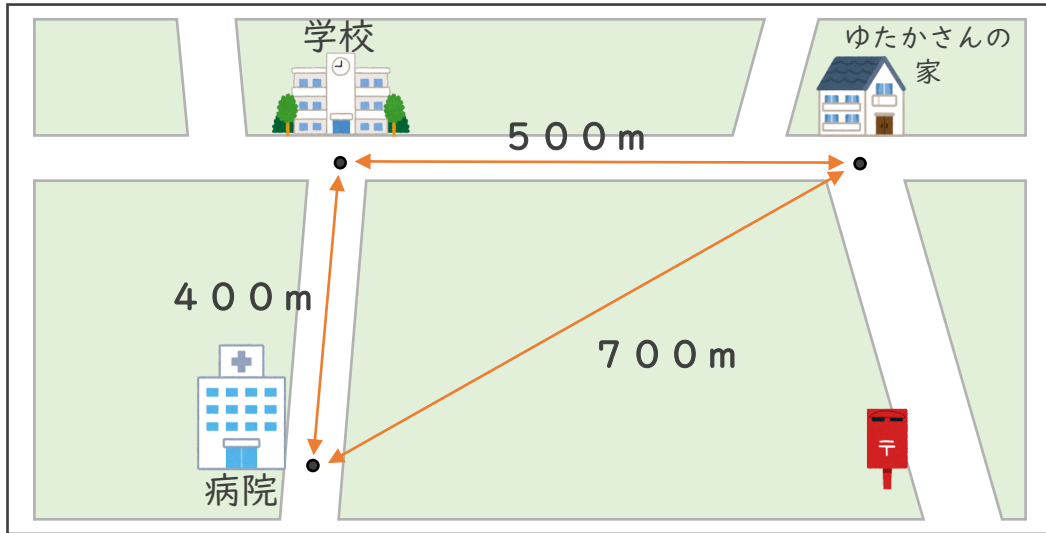
● きよりと道のり (メートル)



日にち： 月 日

名まえ _____

- ・ 下の絵地図を見て、次の長さをもとめましょう。



- ① ゆたかさんの家から病院までのきよりは、何mですか。

答え (700m)

- ② ゆたかさんの家から病院までの道のりは、何mですか。

式： $500\text{m} + 400\text{m} = 900\text{m}$

答え (900m)





長いものの長さの はかり方と表し方 4

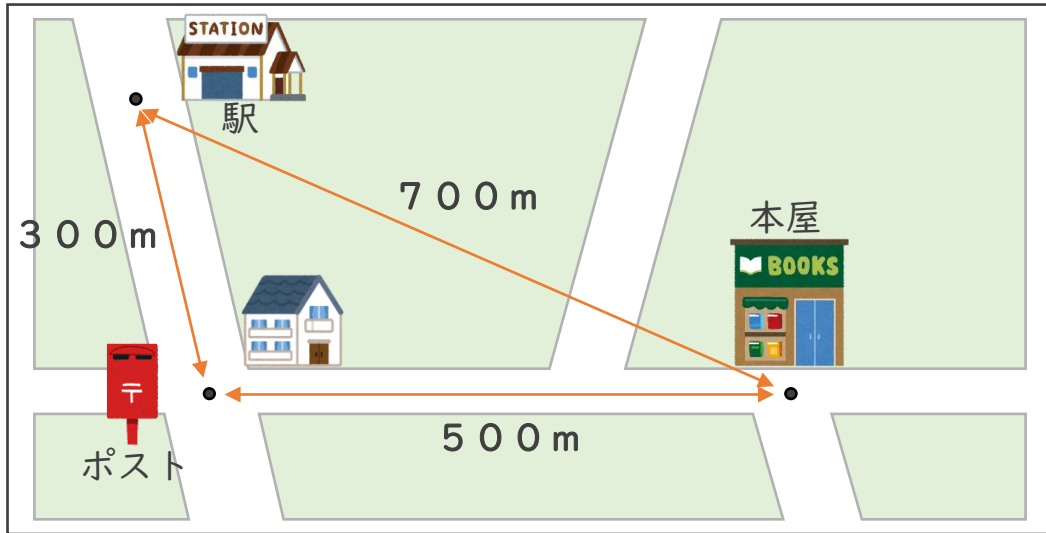
● きよりと道のり (メートル)



日にち： 月 日

名まえ _____

・ 下の絵地図を見て、次の長さをもとめましょう。



① 駅から本屋までのきよりは、何mですか。

答え (700m)

② 駅から本屋までの道のりは、何mですか。

式： $300m + 500m = 800m$

答え (800m)



長いものの長さの はかり方と表し方 4

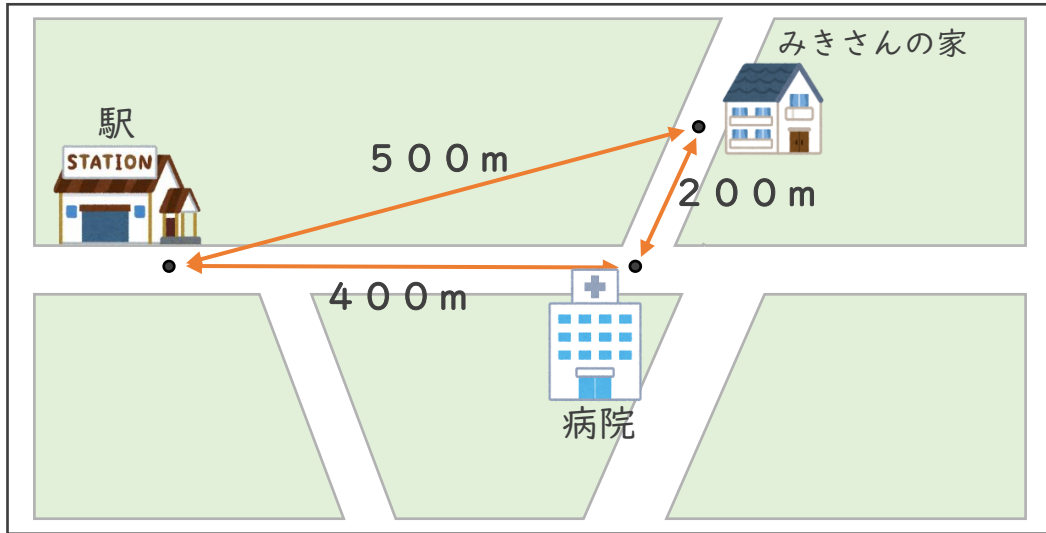
● きよりと道のり (メートル)



日にち： 月 日

名まえ _____

1 下の絵地図を見て、次の長さをもとめましょう。



① みきさんの家から駅までのきよりは、何mですか。

答え (500m)

② みきさんの家から駅までの道のりは、何mですか。

式： $200\text{m} + 400\text{m} = 600\text{m}$

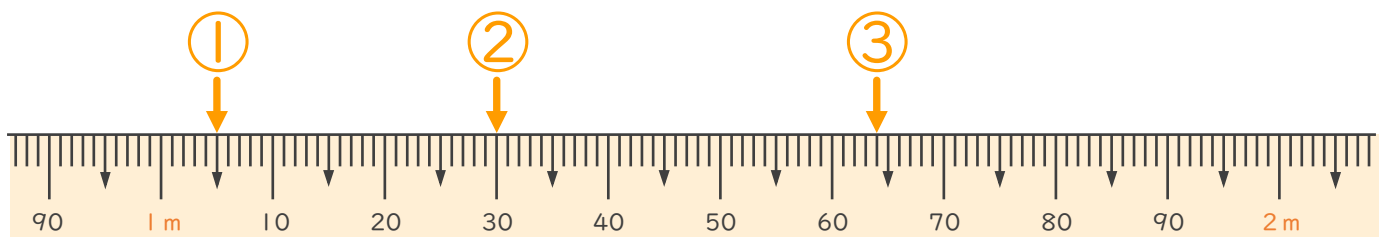
答え (600m)

2 次のまきじゃくで、①～③の長さを表すめもりに ↓ をかきましょう。

① 1m 5cm

② 1m 30cm

③ 1m 64cm





長いものの長さの はかり方と表し方 4

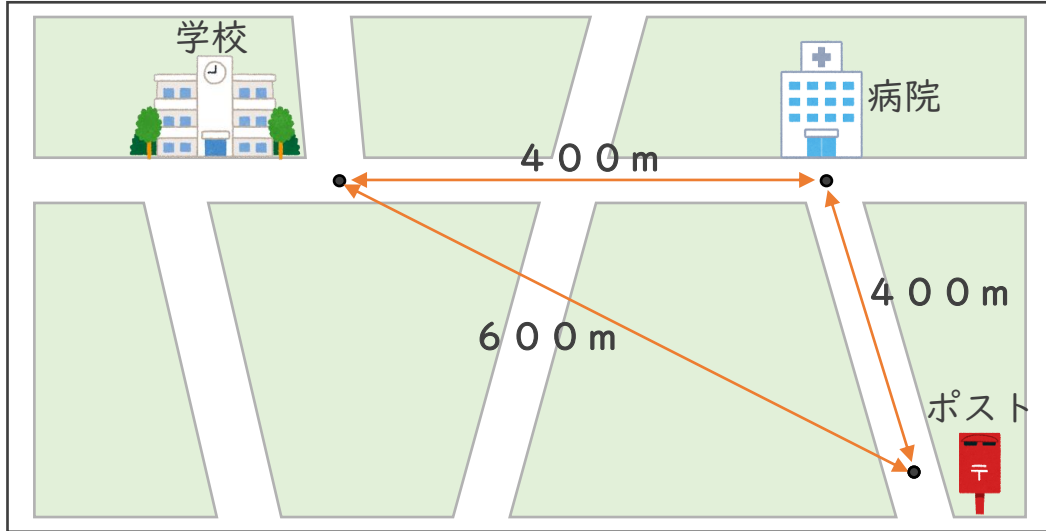
● きよりと道のり (メートル)



日にち： 月 日

名まえ _____

1 下の絵地図を見て、次の長さをもとめましょう。



① 学校からポストまでのきよりは、何mですか。

答え (600m)

② 学校からポストまでの道のりは、何mですか。

式： $400m + 400m = 800m$

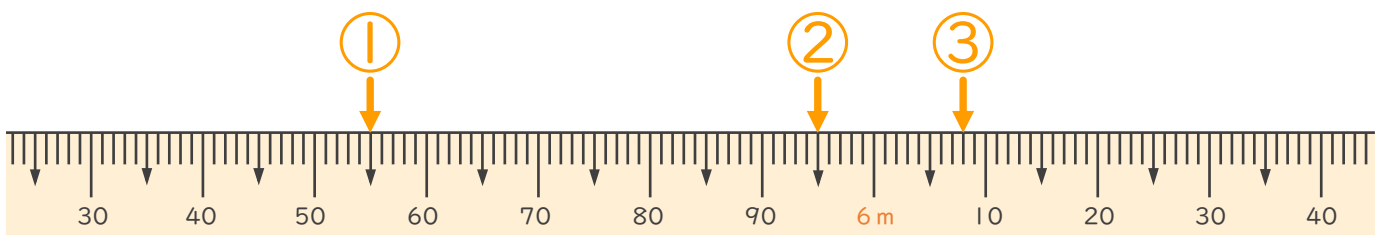
答え (800m)

2 次のまきじゃくで、①～③の長さを表すめもりに ↓ をかきましょう。

① 5m55cm

② 5m95cm

③ 6m8cm





長いものの長さの はかり方と表し方 4

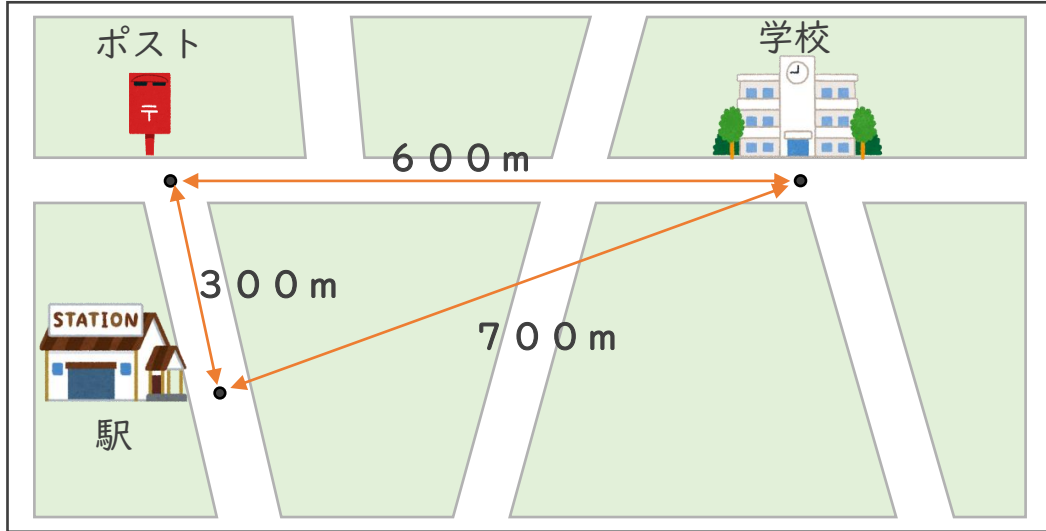
● きよりと道のり (メートル)

12

日にち： 月 日

名まえ _____

1 下の絵地図を見て、次の長さをもとめましょう。



① 学校から駅までのきよりは、何mですか。

答え (700m)

② 学校から駅までの道のりは、何mですか。

式： $600m + 300m = 900m$

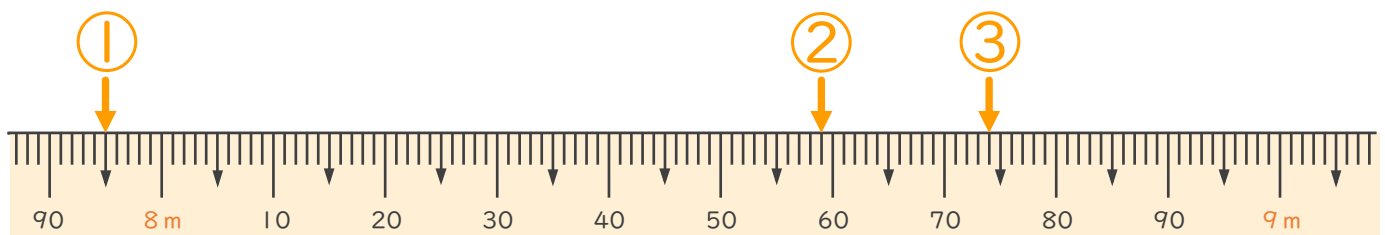
答え (900m)

2 次のまきじゃくで、①～③の長さを表すめもりに ↓ をかきましょう。

① 7m95cm

② 8m59cm

③ 8m74cm





長いものの長さの はかり方と表し方 4

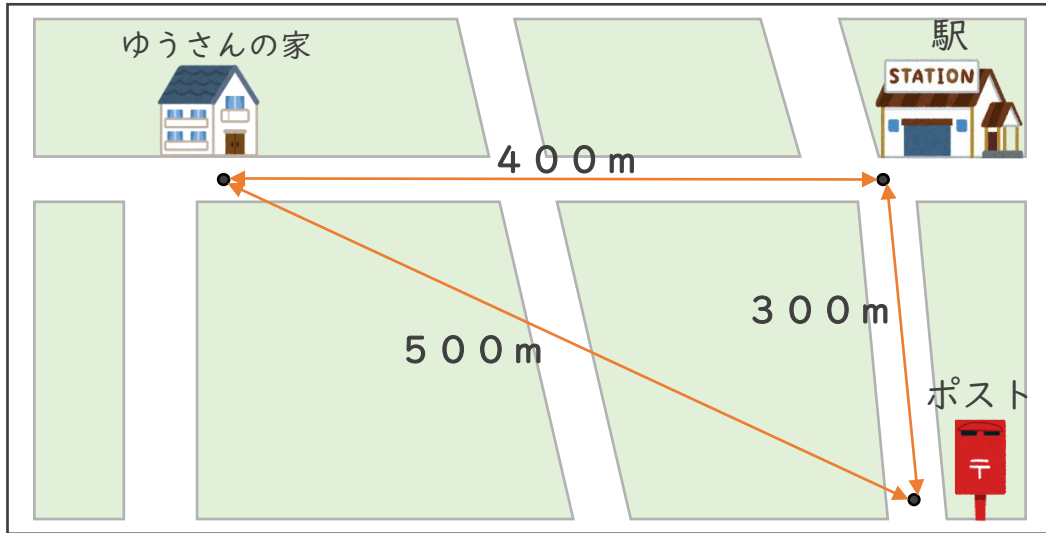
● きよりと道のり (メートル)

13

日にち： 月 日

名まえ _____

1 下の絵地図を見て、次の長さをもとめましょう。



① ゆうさんの家からポストまでのきよりは、何mですか。

答え (500m)

② ゆうさんの家からポストまでの道のりは、何mですか。

式： $400m + 300m = 700m$

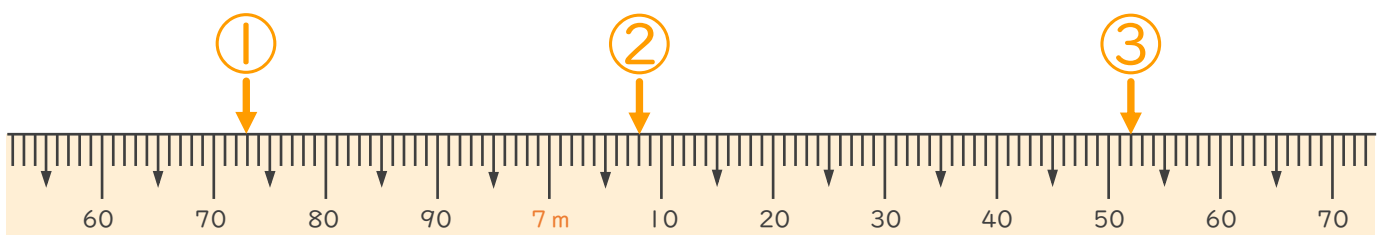
答え (700m)

2 次のまきじゃくで、①～③の長さを表すめもりに ↓ をかきましょう。

① 6m73cm

② 7m8cm

③ 7m52cm





長いものの長さの はかり方と表し方 4

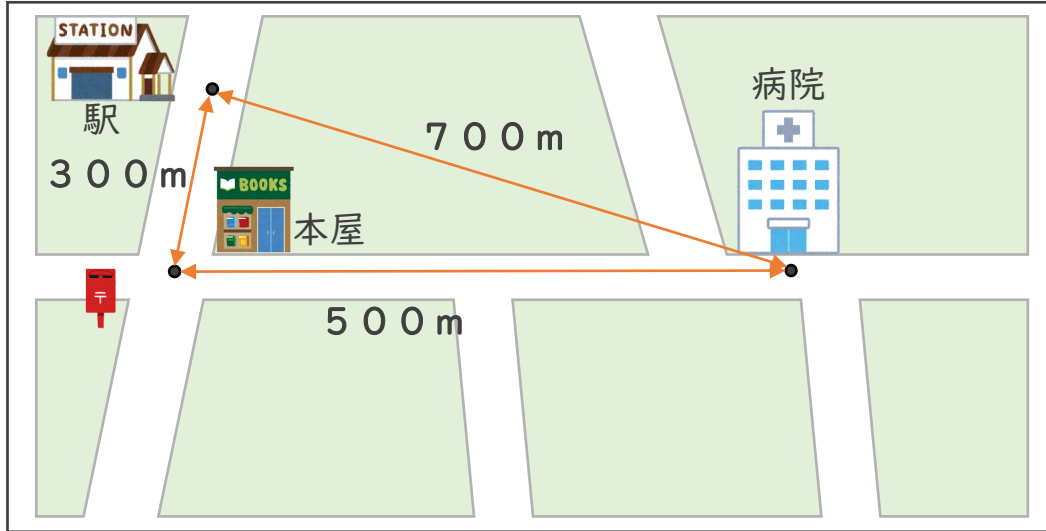
● きよりと道のり (メートル)

14

日にち： 月 日

名まえ _____

1 下の絵地図を見て、次の長さをもとめましょう。



① 病院から駅までのきよりは、何mですか。

答え (700m)

② 病院から駅までの道のりは、何mですか。

式： $500\text{m} + 300\text{m} = 800\text{m}$

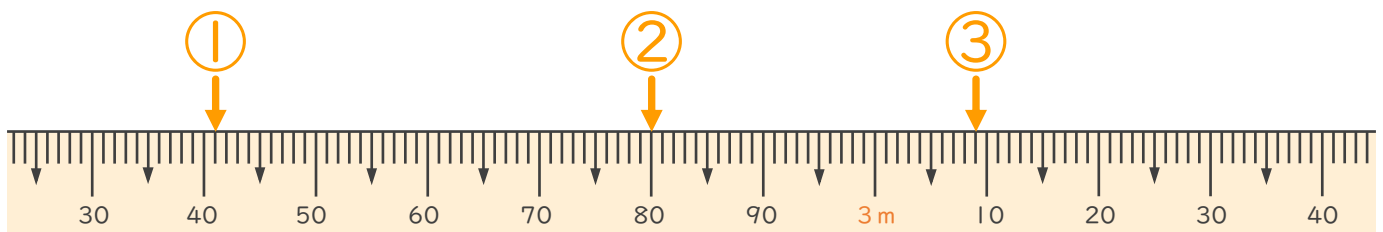
答え (800m)

2 次のまきじゃくで、①～③の長さを表すめもりに ↓ をかきましょう。

① 2m 41cm

② 2m 80cm

③ 3m 9cm





長いものの長さの はかり方と表し方 4

● きよりと道のり (メートル)

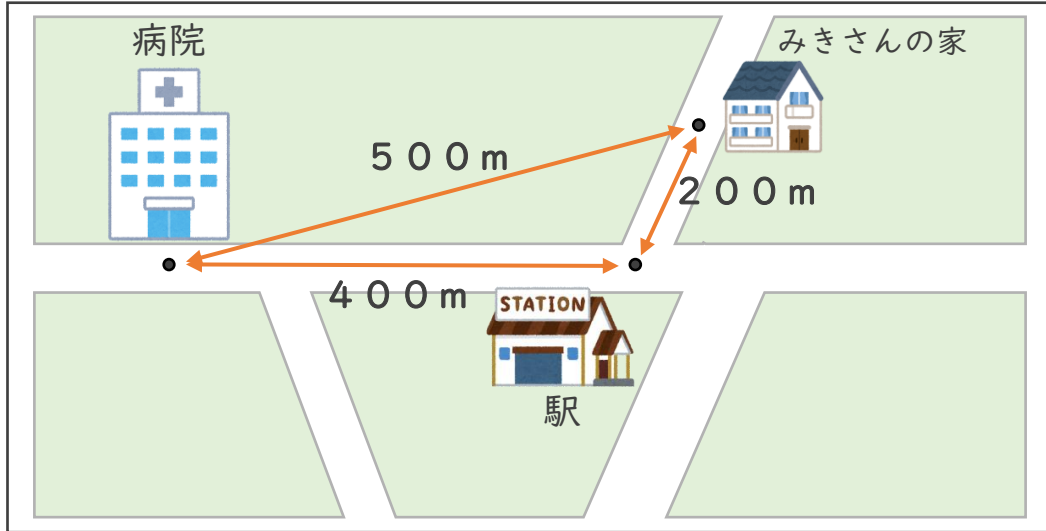
15

めざせ80点!



名まえ _____

1 下の絵地図を見て、次の長さをもとめましょう。(各20点)



① みきさんの家から病院までのきよりは、何mですか。

答え (500m)

② みきさんの家から病院までの道のりは、何mですか。

式: $200m + 400m = 600m$

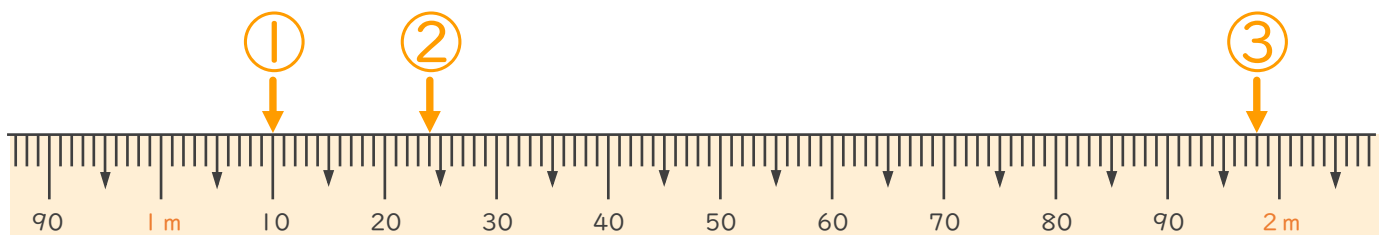
答え (600m)

2 次のまきじゃくで、①～③の長さを表すメモリに↓をかきましょう。
(各20点)

① 1m10cm

② 1m24cm

③ 1m98cm





長いものの長さの はかり方と表し方 4

16

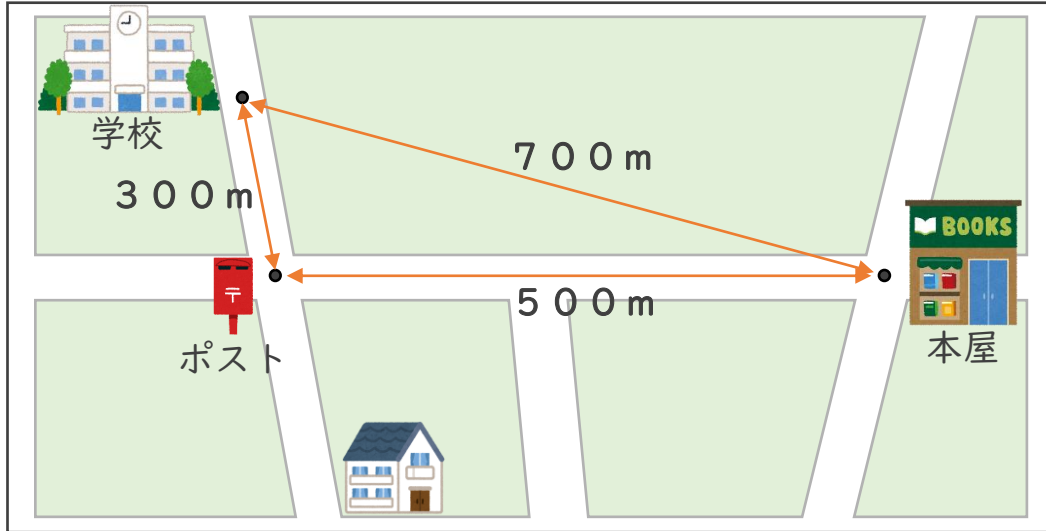
● きよりと道のり (メートル)

めざせ80点!



名まえ

1 下の絵地図を見て、次の長さをもとめましょう。(各20点)



① 学校から本屋までのきよりは、何mですか。

答え (700m)

② 学校から本屋までの道のりは、何mですか。

式: $300m + 500m = 800m$

答え (800m)

2 次のまきじゃくで、①～③の長さを表すメモリに↓をかきましょう。(各20点)

① 2m35cm

② 2m96cm

③ 3m15cm

