



小数の意味と表し方3

◎ 水のかさ (帯小数)

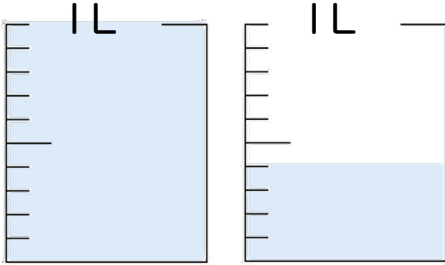


日にち： 月 日

名まえ _____

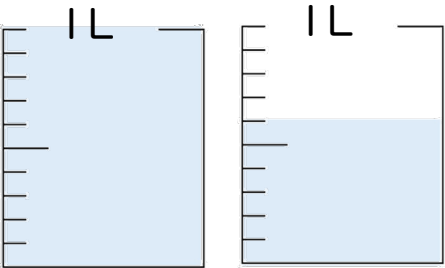
・ 水のかさは、何Lでしょう。(うすい字はなぞりましょう。)

①



答え 1.4 L

②



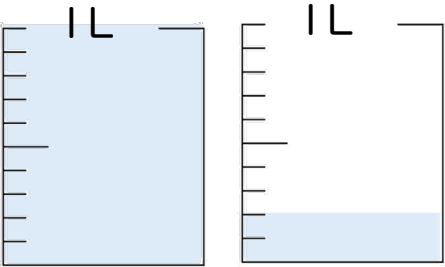
答え _____ L

③



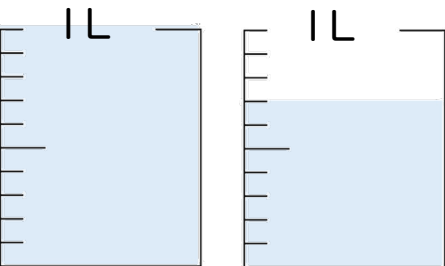
答え _____ L

④



答え _____ L

⑤



答え _____ L





小数の意味と表し方3

◎ 水のかさ (帯小数)

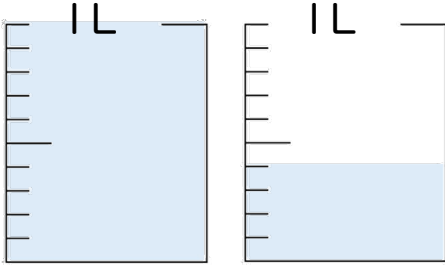


日にち： 月 日

名まえ _____

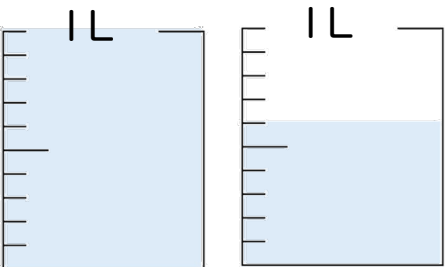
・ 水のかさは、何Lでしょう。(うすい字はなぞりましょう。)

①



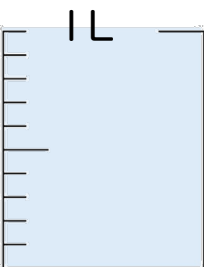
答え 1.4 L

②



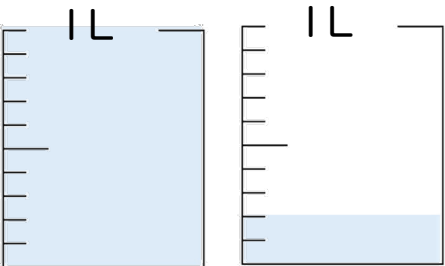
答え 1.6 L

③



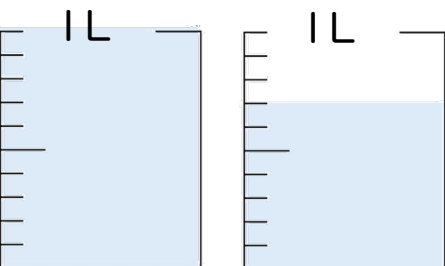
答え 1 L

④



答え 1.2 L

⑤



答え 1.7 L

