



# □を使った式 6

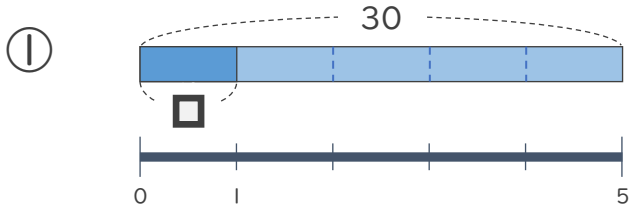
● □ × 数, 数 × □ の  
□ をもとめる計算



日にち：            月            日

名まえ \_\_\_\_\_

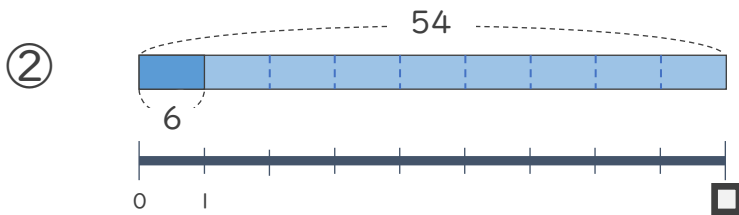
・ □ にあてはまる数をもとめましょう。(うすい字はなぞりましょう。)



$$\square \times 5 = 30$$

$$\square = 30 \div 5$$

$$\square = 6$$



$$6 \times \square = 54$$

$$\square = 54 \div 6$$

$$\square =$$



## □を使った式 6

● □ × 数, 数 × □ の  
□ をもとめる計算

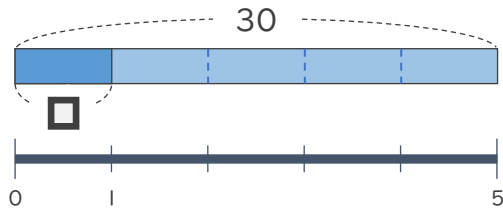


日にち：        月        日

名まえ \_\_\_\_\_

・ □ にあてはまる数をもとめましょう。(うすい字はなぞりましょう。)

①

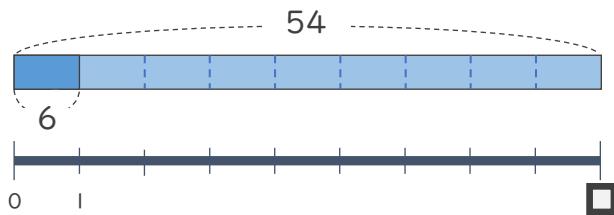


$$\square \times 5 = 30$$

$$\square = 30 \div 5$$

$$\square = 6$$

②



$$6 \times \square = 54$$

$$\square = 54 \div 6$$

$$\square = 9$$

