



# □を使った式 9

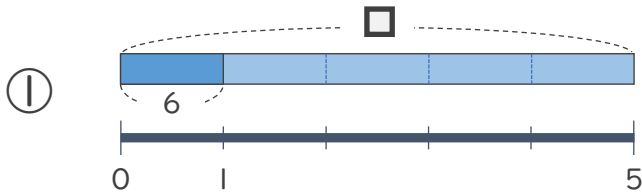
● □ ÷ 数の  
□ をもとめる計算



日にち：            月            日

名まえ \_\_\_\_\_

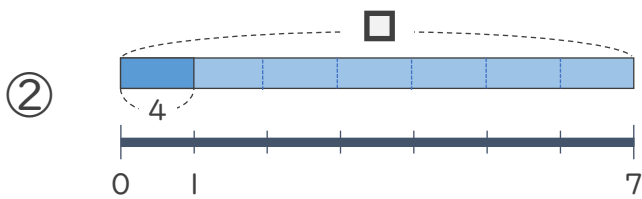
・ □ にあてはまる数をもとめましょう。(うすい字はなぞりましょう)



$$\square \div 6 = 5$$

$$\square = 5 \times 6$$

$$\square = 30$$



$$\square \div 4 = 7$$

$$\square = 7 \times 4$$

$$\square =$$





## □を使った式 9

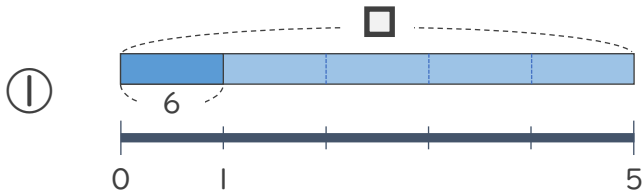
- □ ÷ 数の  
□ をもとめる計算



日にち：            月            日

名まえ \_\_\_\_\_

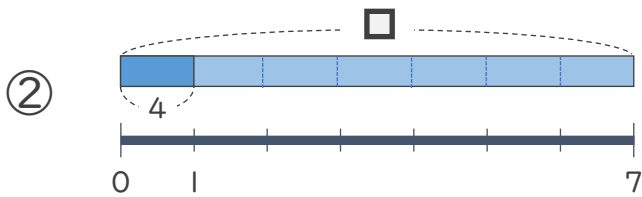
- にあてはまる数をもとめましょう。(うすい字はなぞりましょう)



$$\square \div 5 = 6$$

$$\square = 6 \times 5$$

$$\square = 30$$



$$\square \div 4 = 7$$

$$\square = 7 \times 4$$

$$\square = 28$$

