



□を使った式 2

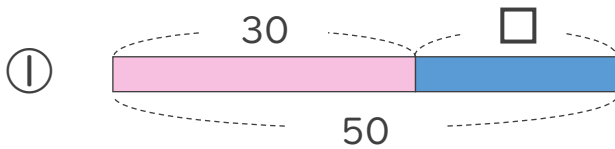
● □+数, 数+□ の
□をもとめる計算



日にち： 月 日

名まえ _____

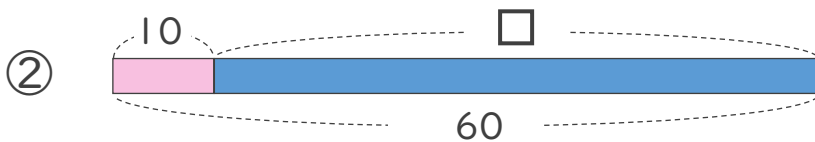
- にあてはまる数をもとめましょう。(うすい字はなぞりましょう)



$$30 + \square = 50$$

$$\square = 50 - 30$$

$$\square = 20$$



$$10 + \square = 60$$

$$\square = 60 - 10$$

$$\square =$$



□を使った式 2

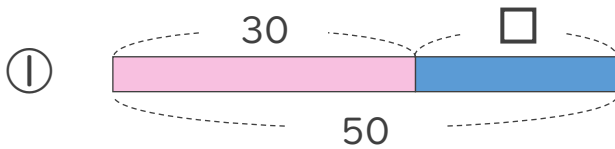
● □+数, 数+□ の
□をもとめる計算



日にち： 月 日

名まえ _____

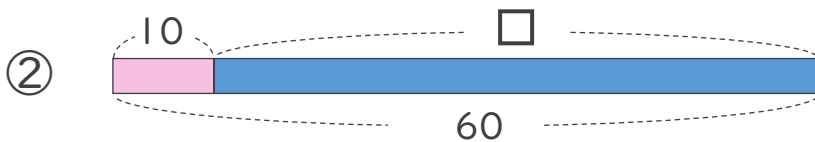
- にあてはまる数をもとめましょう。(うすい字はなぞりましょう)



$$30 + \square = 50$$

$$\square = 50 - 30$$

$$\square = 20$$



$$10 + \square = 60$$

$$\square = 60 - 10$$

$$\square = 50$$

