



# □を使った式 4

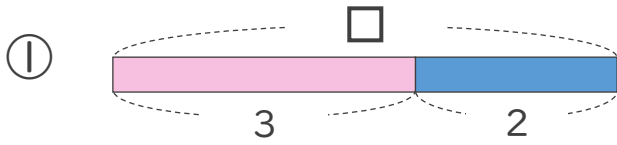
● □-数の□を  
もとめる計算



日にち：        月        日

名まえ \_\_\_\_\_

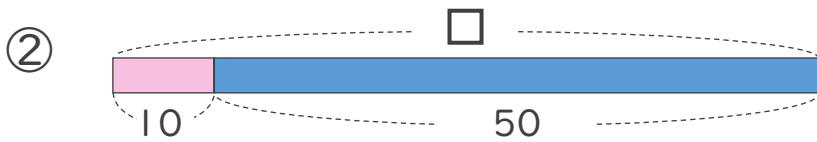
・ □にあてはまる数をもとめましょう。(うすい字はなぞりましょう。)



$$\square - 3 = 2$$

$$\square = 2 + 3$$

$$\square = 5$$



$$\square - 10 = 50$$

$$\square = 50 + 10$$

$$\square =$$





## □を使った式 4

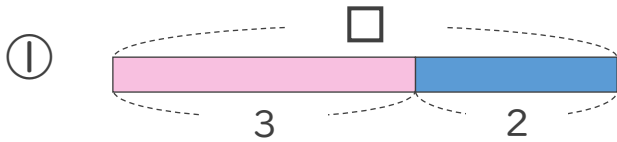
● □-数の□を  
もとめる計算



日にち：        月        日

名まえ \_\_\_\_\_

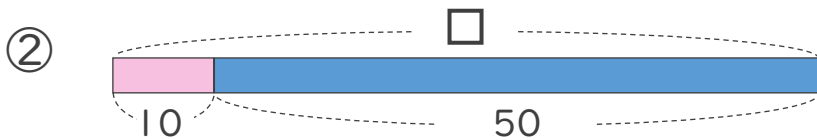
・ □にあてはまる数をもとめましょう。(うすい字はなぞりましょう。)



$$\square - 3 = 2$$

$$\square = 2 + 3$$

$$\square = 5$$



$$\square - 10 = 50$$

$$\square = 50 + 10$$

$$\square = 60$$

