



時こくと時間の
もとめかた 10

○分前の時こく (数直線)

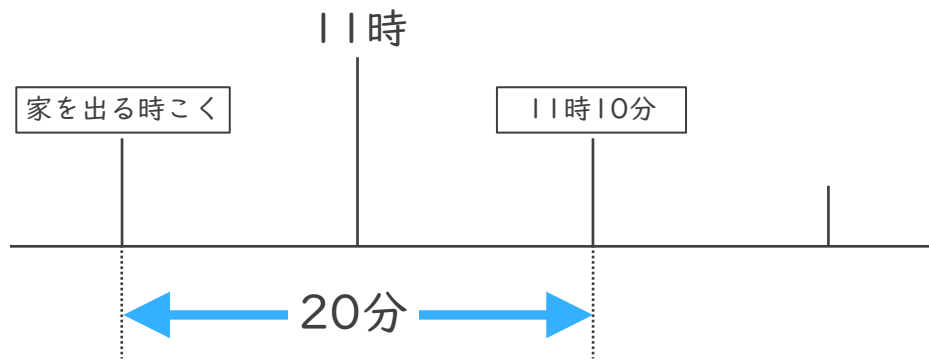


日にち： 月 日

名まえ _____

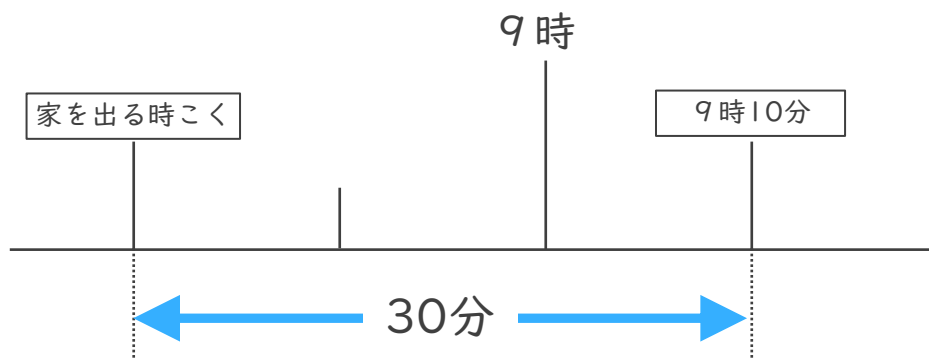
・ 次の問いに答えましょう。(うすい字はなぞりましょう。)

- ① まきさんの家から学校まで20分かかります。11時10分までに学校に着くためには、おそくとも何時何分までに家を出なければならないでしょうか。



答え (10時50分)

- ② けんさんの家から病院まで30分かかります。9時10分までに病院に着くためには、おそくとも何時何分までに家を出なければならないでしょうか。



答え ()



時こくと時間の
もとめかた 10

○分前の時こく (数直線)

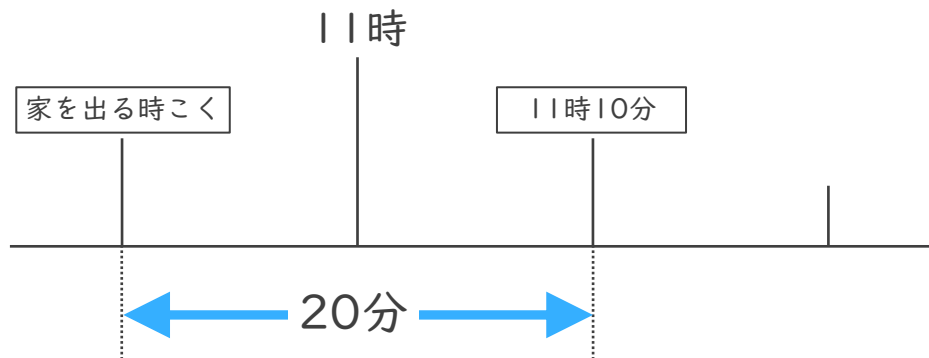


日にち： 月 日

名まえ _____

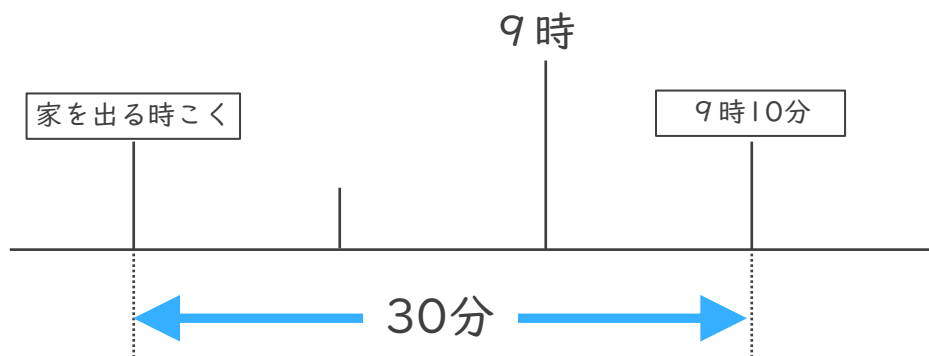
・ 次の問いに答えましょう。(うすい字はなぞりましょう。)

- ① まきさんの家から学校まで20分かかります。11時10分までに学校に着くためには、おそくとも何時何分までに家を出なければならないでしょうか。



答え (10時50分)

- ② けんさんの家から病院まで30分かかります。9時10分までに病院に着くためには、おそくとも何時何分までに家を出なければならないでしょうか。



答え (8時40分)