



時こくと時間の
もとめかた 13

○分+△分 (時間の和)

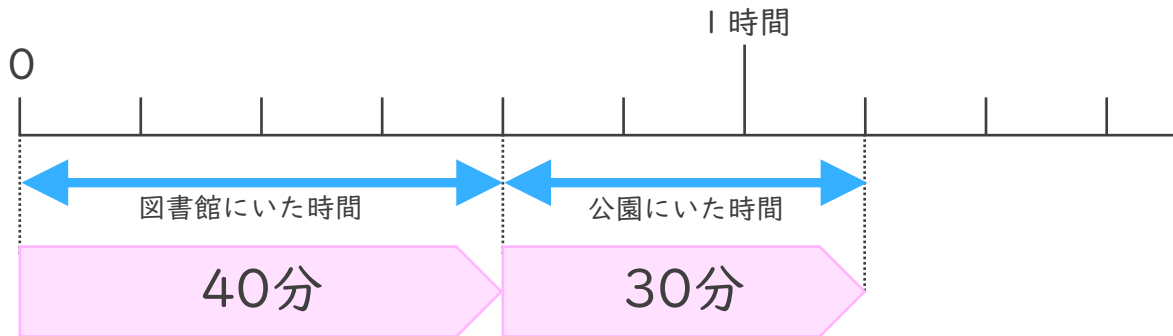


日にち： 月 日

名まえ _____

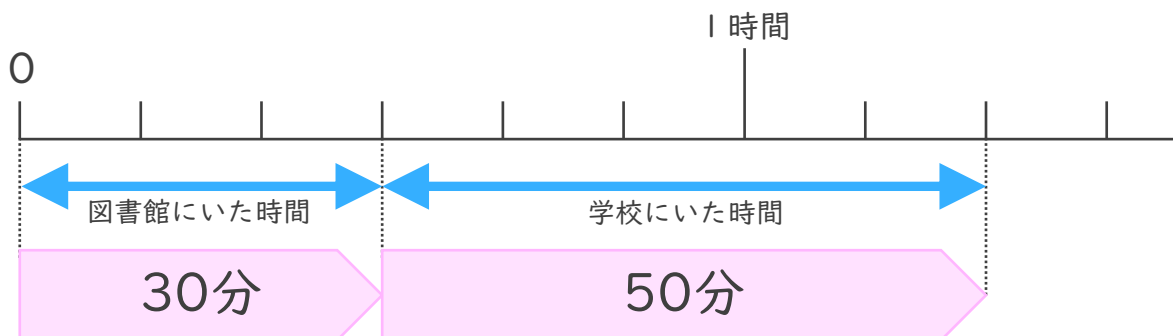
・ 次の問いに答えましょう。(うすい字はなぞりましょう。)

- ① 図書館にいた時間は40分、公園にいた時間は30分です。あわせて何時間何分ですか。



答え (1 時間 1 0 分)

- ② 図書館にいた時間は30分、学校にいた時間は50分です。あわせて何時間何分ですか。



答え ()



時こくと時間の
もとめかた 13

○分+△分 (時間の和)

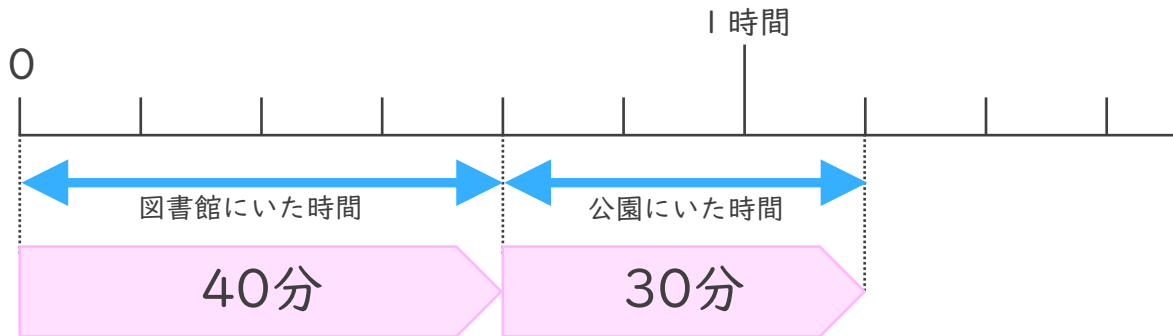


日にち： 月 日

名まえ _____

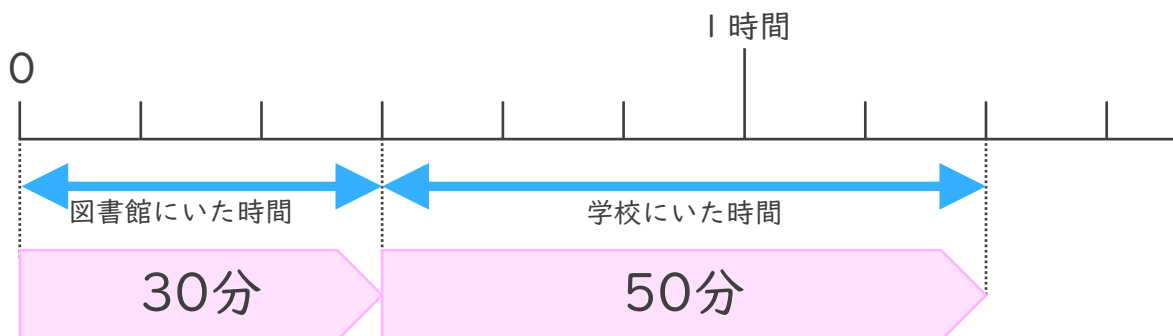
・ 次の問いに答えましょう。(うすい字はなぞりましょう。)

- ① 図書館にいた時間は40分、公園にいた時間は30分です。あわせて何時間何分ですか。



答え (1 時間 1 0 分)

- ② 図書館にいた時間は30分、学校にいた時間は50分です。あわせて何時間何分ですか。



答え (1 時間 2 0 分)

