



大きい数のわり算 3

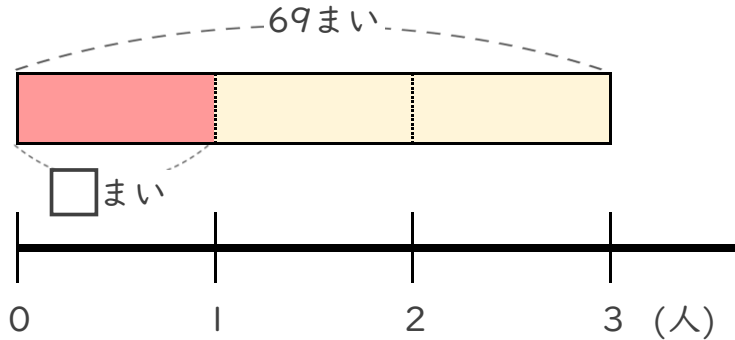
◎ 69まいの色紙を
3人でわける



日にち： 月 日

名まえ _____

- ・ 69まいの色紙を、3人で同じ数ずつ分けます。
1人分は何まいになりますか。
(うすい字はなぞりましょう。)

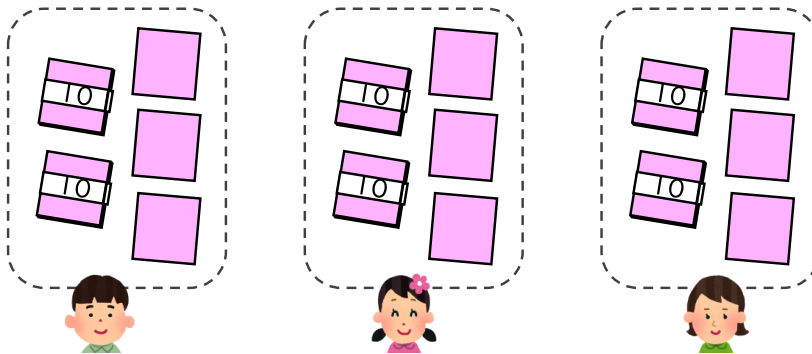


① 計算の式を書きましょう。

全部の まい数	÷	分ける 人数
------------	---	-----------

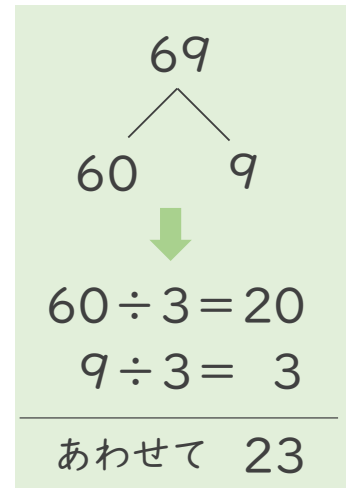
式 _____

② 下の図をもとに計算してみましょう。



全部の まい数	÷	分ける 人数	=	1人分の まい数
------------	---	-----------	---	-------------

式: 69 ÷ 3 =



答え _____ まい



大きい数のわり算 3

◎ 69まいの色紙を
3人でわける

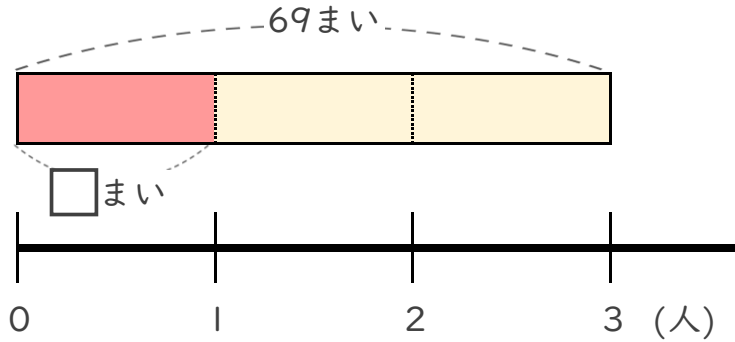


日にち： 月 日

名まえ _____

- ・ 69まいの色紙を、3人で同じ数ずつ分けます。
1人分は何まいになりますか。

(うすい字はなぞりましょう。)

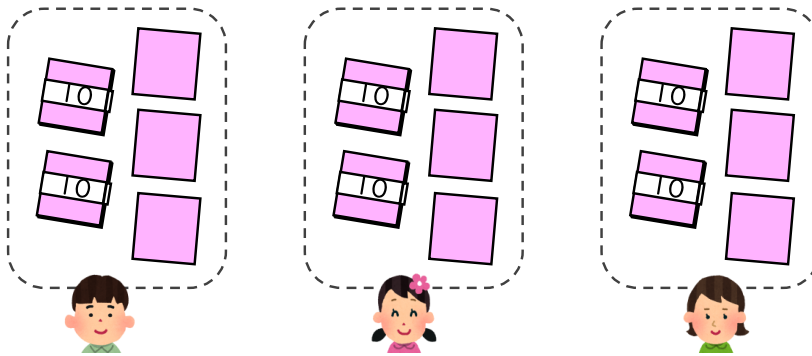


- ① 計算の式を書きましょう。

全部の まい数	÷	分ける 人数
------------	---	-----------

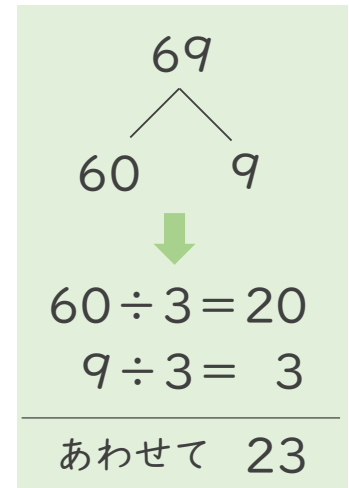
式 $69 \div 3$

- ② 下の図をもとに計算してみましょう。



全部の まい数	÷	分ける 人数	=	1人分の まい数
------------	---	-----------	---	-------------

式: $69 \div 3 = 23$



答え 23 まい