



三角形と角 12

◎ おった紙で作る三角形

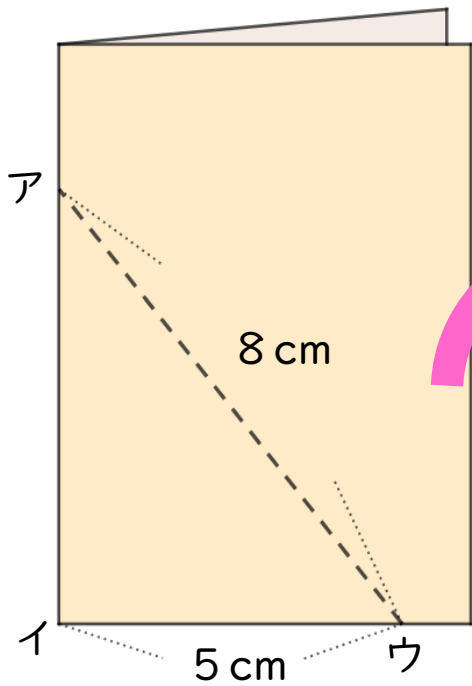


日にち： 月 日

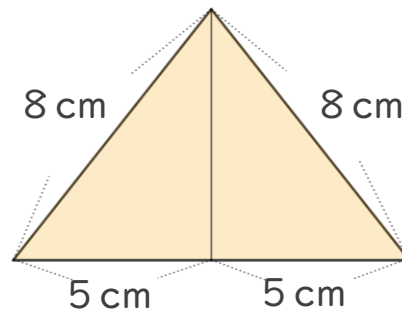
名まえ _____

・ 次の図のように、紙を2つにおいて点線のところで切ります。

(うすい字はしっかりなぞりましょう。)

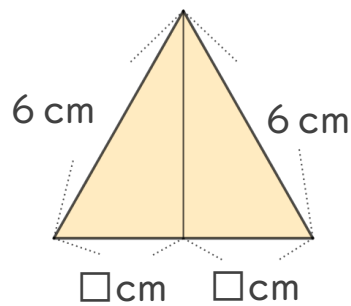
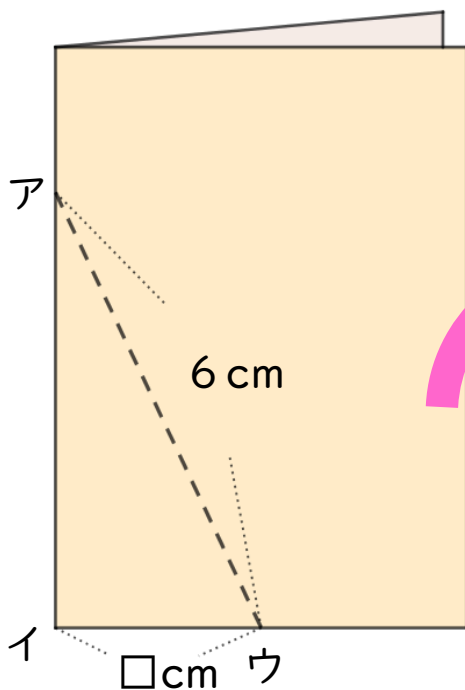


① 広げた形は、何という三角形になりますか。



答え： _____

② 広げた形が正三角形になるのは、
イウが何cmのときですか。



答え： 3 cm



三角形と角 12

◎ おった紙で作る三角形

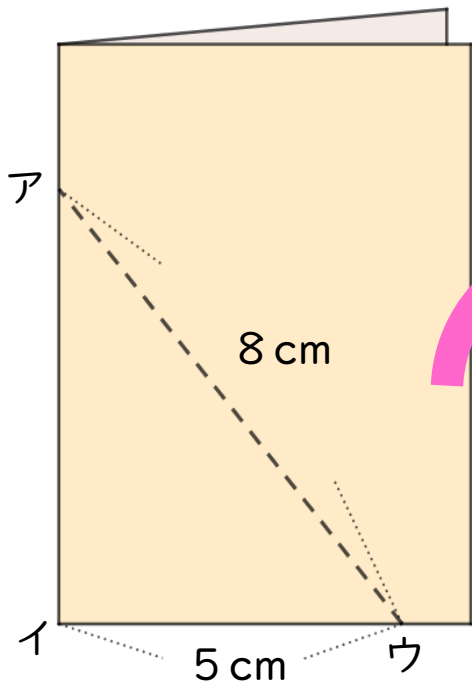


日にち： 月 日

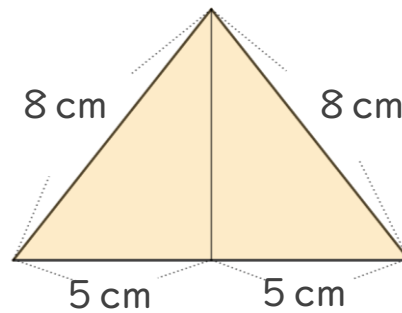
名まえ _____

・ 次の図のように、紙を2つにおいて点線のところで切ります。

(うすい字はしっかりなぞりましょう。)

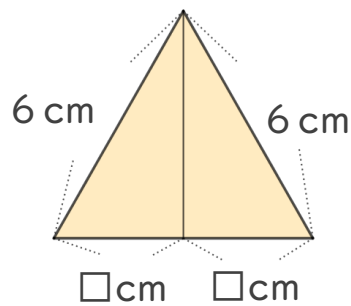
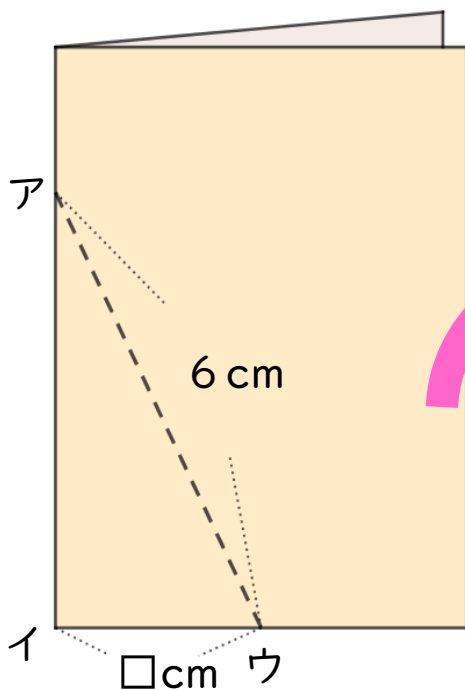


① 広げた形は、何という三角形になりますか。



答え： **二等辺三角形**

② 広げた形が正三角形になるのは、
イウが何cmのときですか。



答え： **3 cm**

