



# 時こくと時間の もとめかた 5

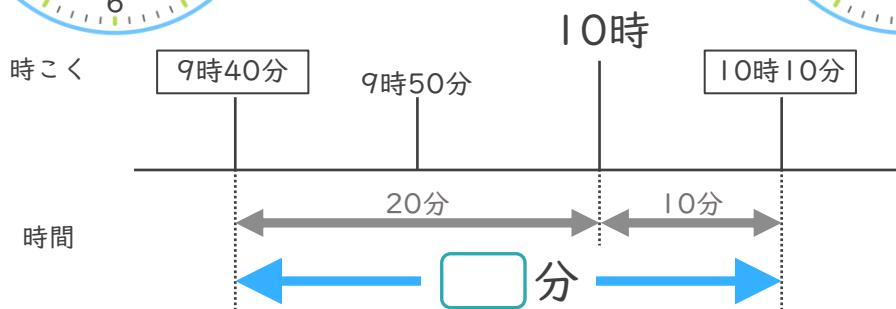
● かかった時間を  
もとめる (時計)



日にち：      月      日

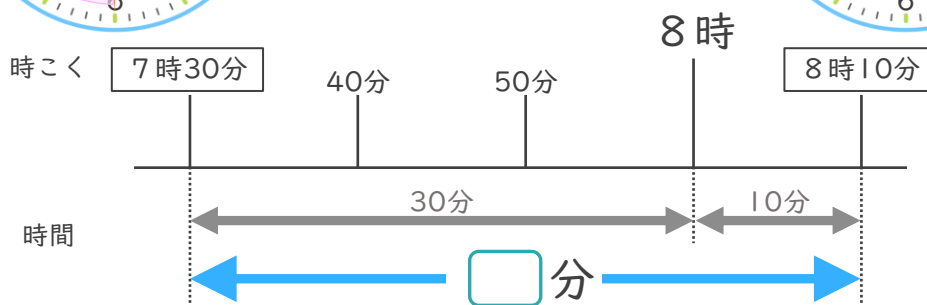
名まえ \_\_\_\_\_

- ① 学校を9時40分に出て、公園に10時10分に着きました。学校から公園まで、かかった時間は何分ですか。(うすい字はなぞりましよう。)



答え (      30分      )

- ② 駅を7時30分に出て、図書館に8時10分に着きました。駅から図書館まで、かかった時間は何分ですか。



答え (      )





# 時こくと時間の もとめかた 5

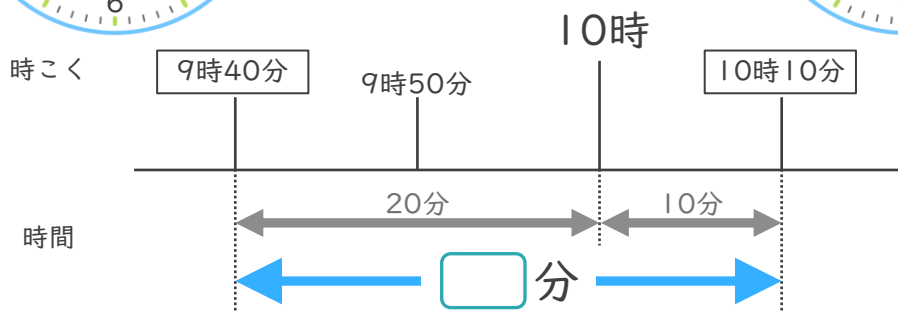
● かかった時間を  
もとめる (時計)



日にち：            月            日

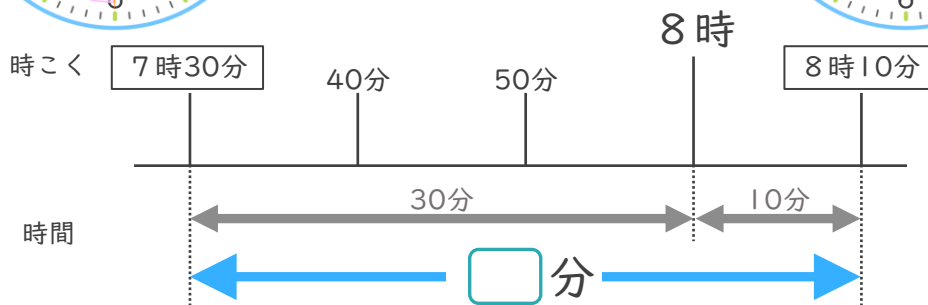
名まえ \_\_\_\_\_

- ① 学校を9時40分に出て、公園に10時10分に着きました。学校から公園まで、かかった時間は何分ですか。(うすい字はなぞりましよう。)



答え (            30分            )

- ② 駅を7時30分に出て、図書館に8時10分に着きました。駅から図書館まで、かかった時間は何分ですか。



答え (            40分            )

