



かけ算 4


● かける数が
1小さくなると・・・



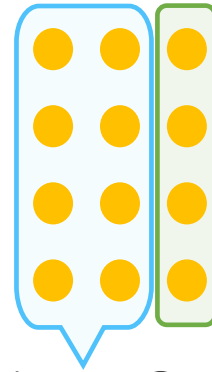
日にち： 月 日

名まえ _____

・ 下の図を見て、4のだんについて考えましょう。
(うすい字はなぞりましょう)



㊦ 4×3



㊧ $4 \times 2 + 4$

① 次の に数を書きましょう。

㊦ $4 \times \boxed{3} = 12$

㊧ $4 \times \boxed{2} + 4 = 12$

② ㊦ の式も ㊧ の式も答えが、12になります。

次の に数を書きましょう。

$$4 \times 3 = 4 \times 2 + \boxed{4}$$





かけ算 4


● かける数が
1小さくなると・・・



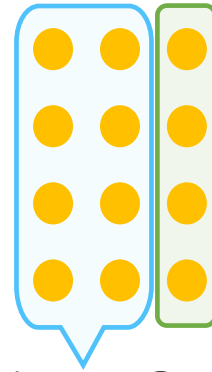
日にち： 月 日

名まえ _____

・ 下の図を見て、4のだんについて考えましょう。
(うすい字はなぞりましょう)



㊦ 4×3



㊧ $4 \times 2 + 4$

① 次の に数を書きましょう。

㊦ $4 \times \boxed{3} = 12$

㊧ $4 \times \boxed{2} + 4 = 12$

② ㊦ の式も ㊧ の式も答えが、12になります。

次の に数を書きましょう。

$$4 \times 3 = 4 \times 2 + \boxed{4}$$

