



# 長いものの長さの はかり方と表し方

まきじゃくの読み取り

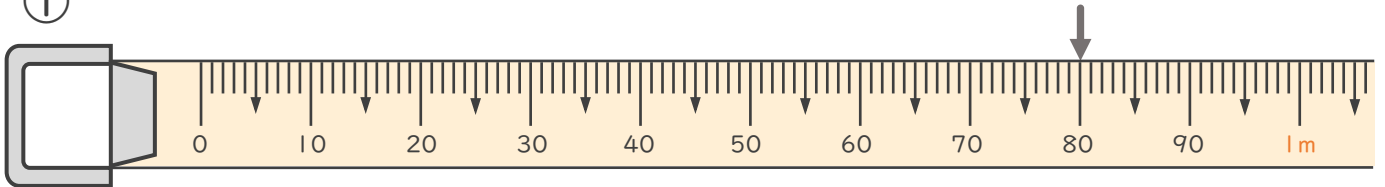


日にち： 月 日

名まえ \_\_\_\_\_

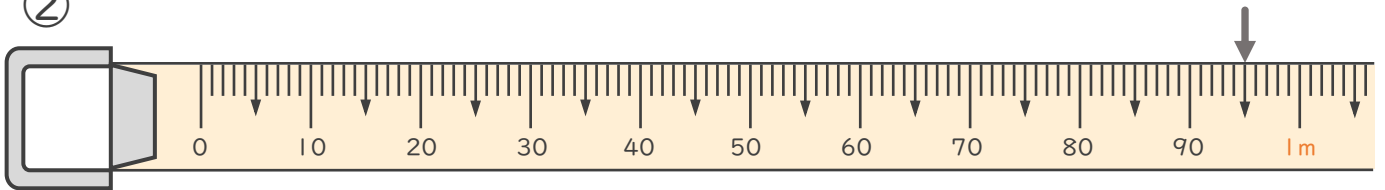
- 次のまきじゃくで、↓のめもりが表している長さを読み取りましょう。  
(うすい字はなぞりましょう。)

①



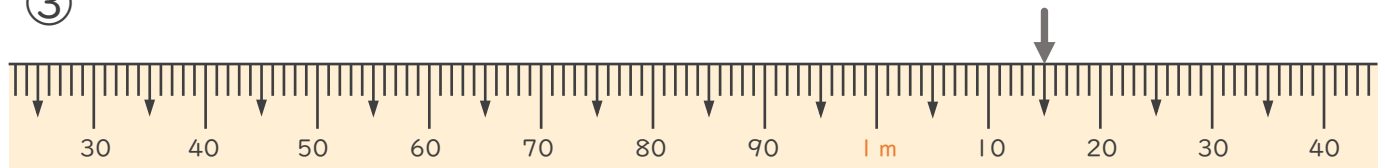
答え ( 80 cm )

②



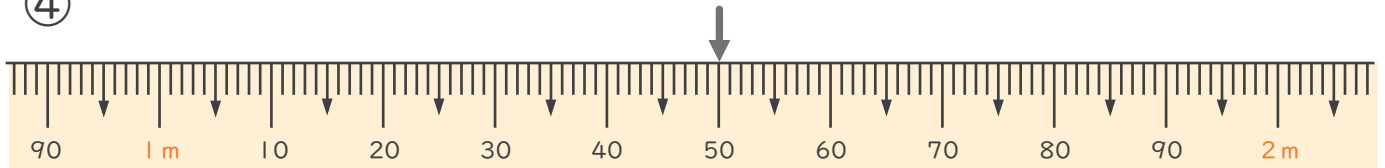
答え (      cm )

③



答え ( 1 m 15 cm )

④



答え (      m      cm )





# 長いものの長さの はかり方と表し方

まきじゃくの読み取り

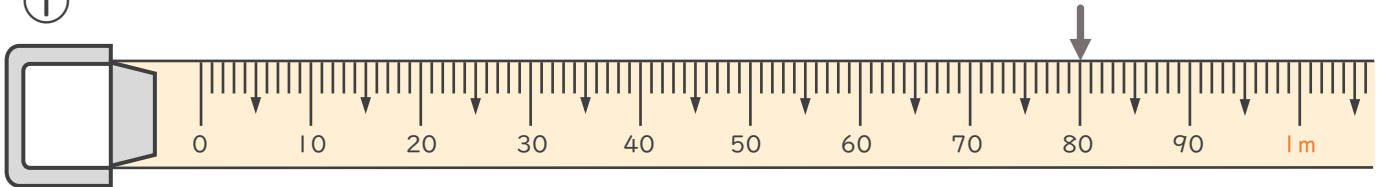


日にち： 月 日

名まえ \_\_\_\_\_

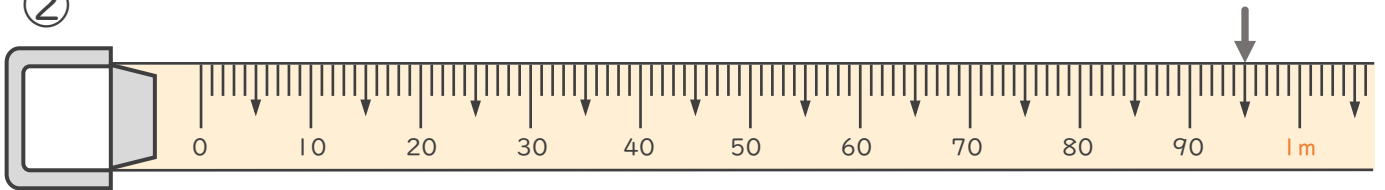
- 次のまきじゃくで、↓のめもりが表している長さを読み取りましょう。  
(うすい字はなぞりましょう。)

①



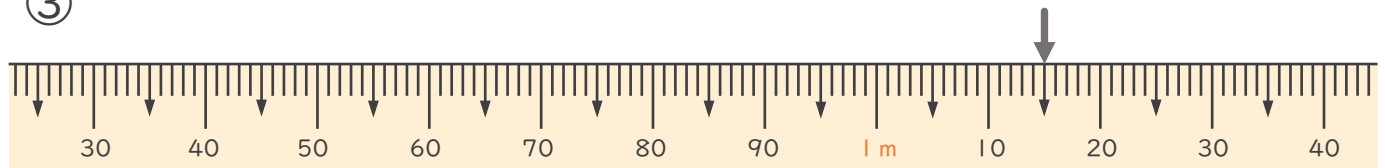
答え ( 80 cm )

②



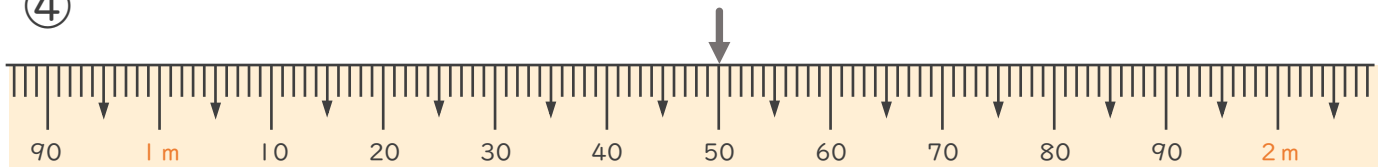
答え ( 95 cm )

③



答え ( 1 m 15 cm )

④



答え ( 1 m 50 cm )

