



長いものの長さの はかり方と表し方 2

● まきじゃくへの書きこみ



日にち： 月 日

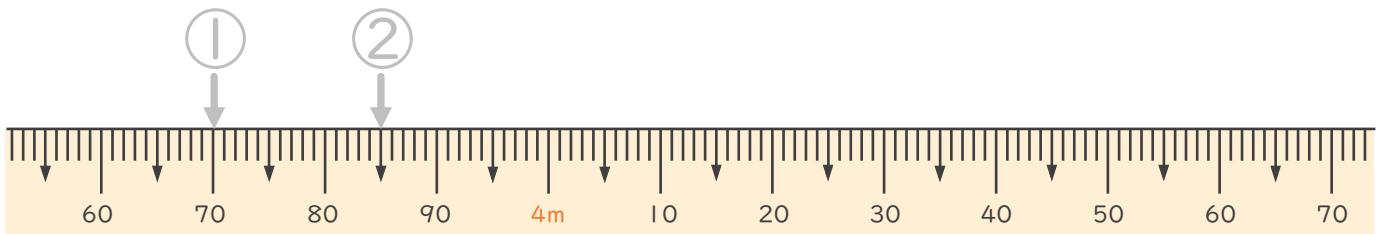
名まえ _____

1 次のまきじゃくで、①～③の長さを表すメモりに ↓ をかきましょう。
(うすい字はなぞりましょう。)

① 3 m 70 cm

② 3 m 85 cm

③ 4 m 40 cm

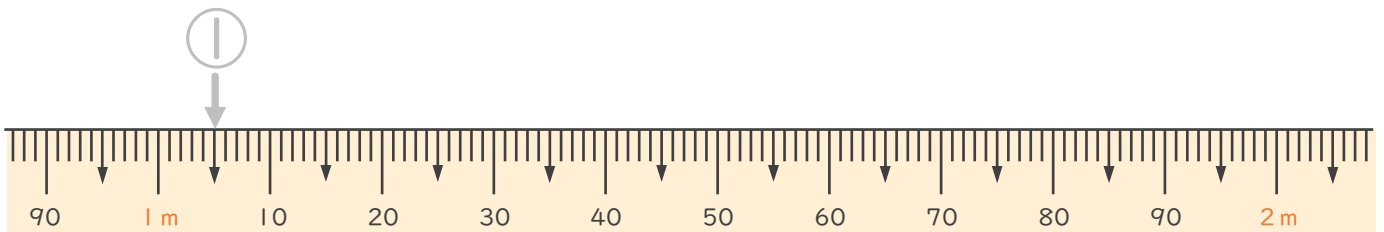


2 次のまきじゃくで、①～③の長さを表すメモりに ↓ をかきましょう。
(うすい字はなぞりましょう。)

① 1 m 5 cm

② 1 m 20 cm

③ 1 m 75 cm





長いものの長さの はかり方と表し方 2

● まきじゃくへの書きこみ



日にち： 月 日

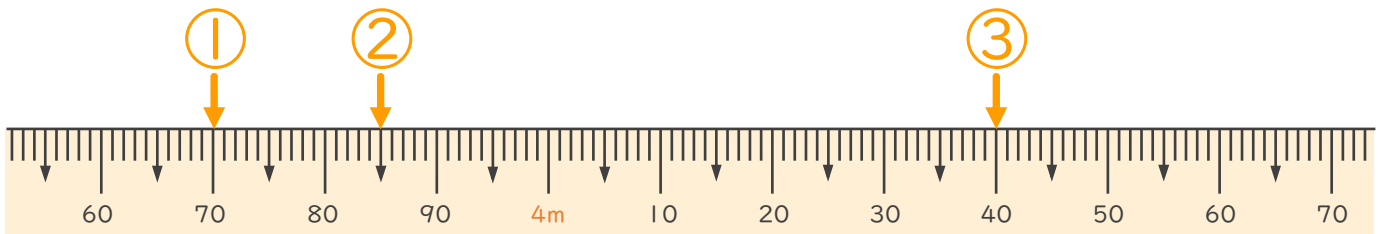
名まえ _____

1 次のまきじゃくで、①～③の長さ^{なが}を表す^{あらわ}メモりに ↓ をかきましょう。
(うすい字^じはなぞりましょう。)

① 3 m 70 cm

② 3 m 85 cm

③ 4 m 40 cm



2 次のまきじゃくで、①～③の長さ^{なが}を表す^{あらわ}メモりに ↓ をかきましょう。
(うすい字^じはなぞりましょう。)

① 1 m 5 cm

② 1 m 20 cm

③ 1 m 75 cm

