



長いものの長さの はかり方と表し方 2

● まきじゃくへの書きこみ



日にち： 月 日

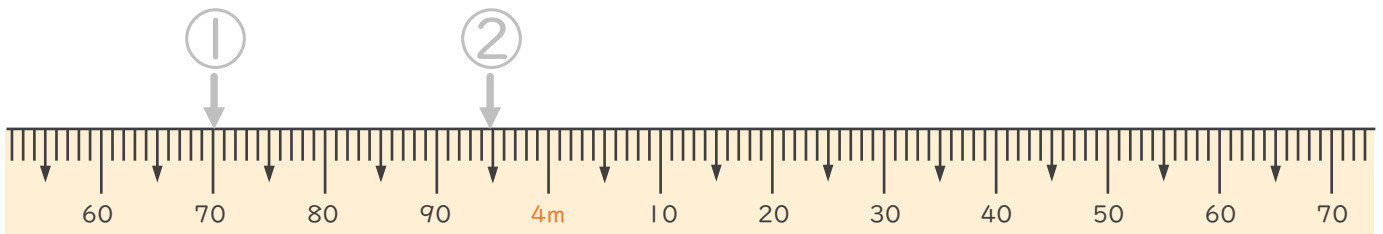
名まえ _____

1 次のまきじゃくで、①～③の長さを表すメモりに ↓ をかきましょう。
(うすい字はなぞりましょう。)

① 3 m 7 0 c m

② 3 m 9 5 c m

③ 4 m 4 0 c m

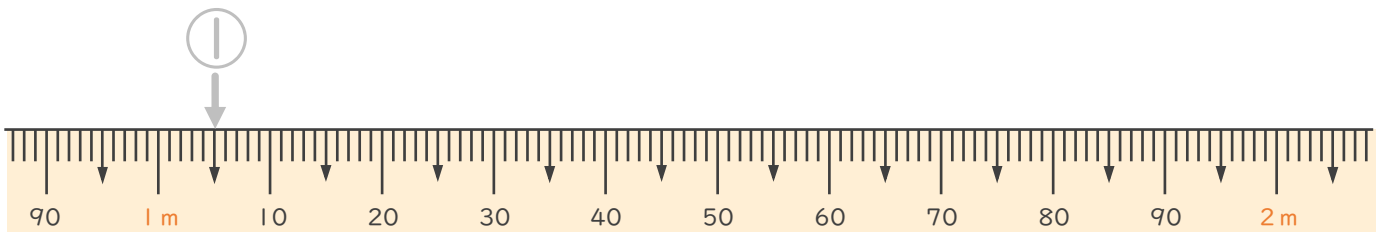


2 次のまきじゃくで、①～③の長さを表すメモりに ↓ をかきましょう。
(うすい字はなぞりましょう。)

① 1 m 5 c m

② 1 m 2 0 c m

③ 1 m 7 5 c m





長いものの長さの はかり方と表し方 2

● まきじゃくへの書きこみ



日にち： 月 日

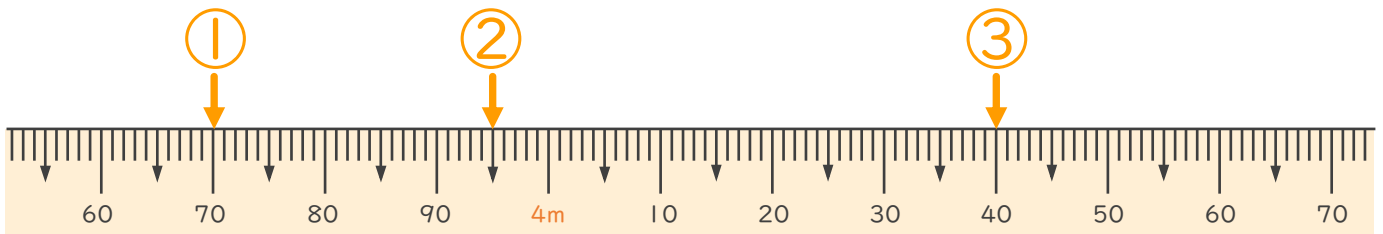
名まえ _____

1 次のまきじゃくで、①～③の長さを表すメモりに ↓ をかきましょう。
(うすい字はなぞりましょう。)

① 3 m 70 cm

② 3 m 95 cm

③ 4 m 40 cm



2 次のまきじゃくで、①～③の長さを表すメモりに ↓ をかきましょう。
(うすい字はなぞりましょう。)

① 1 m 5 cm

② 1 m 20 cm

③ 1 m 75 cm

