



重さのたんいと  
はかりかた 5

● グラムのはかりの  
読み取り練習

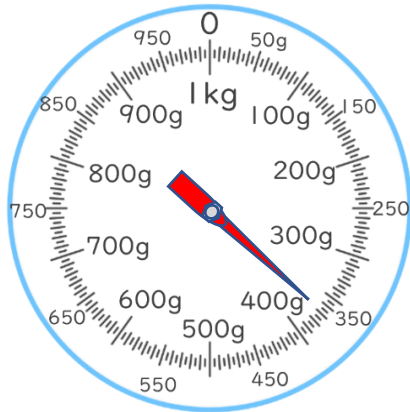


日にち：            月            日

名まえ \_\_\_\_\_

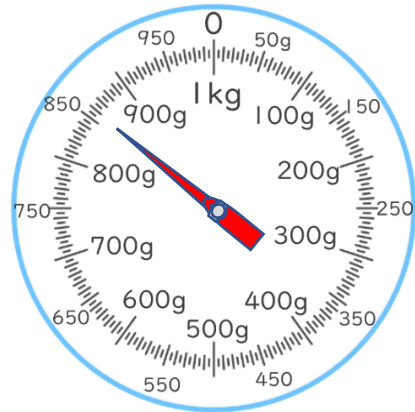
・ はりのさしている重さを書きましょう。(うすい字はなぞりましょう。)

①



答え： 370 g

②



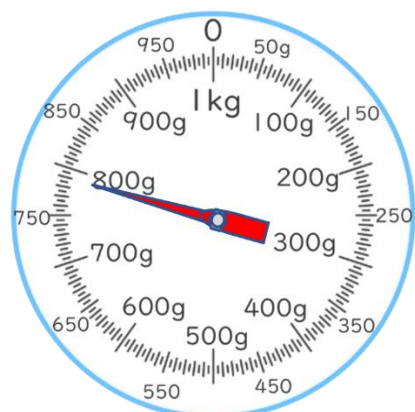
答え： 860 g

③



答え： 450 g

④



答え： \_\_\_\_\_



重さのたんいと  
はかりかた 5

● グラムのはかりの  
読み取り練習

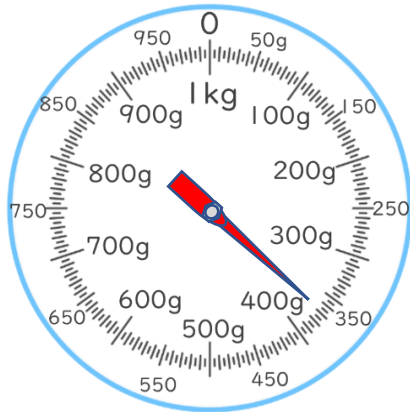


日にち：            月            日

名まえ \_\_\_\_\_

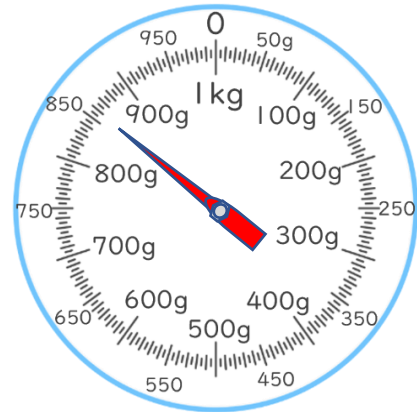
・ はりのさしている重さを書きましょう。(うすい字はなぞりましょう。)

①



答え： 370 g

②



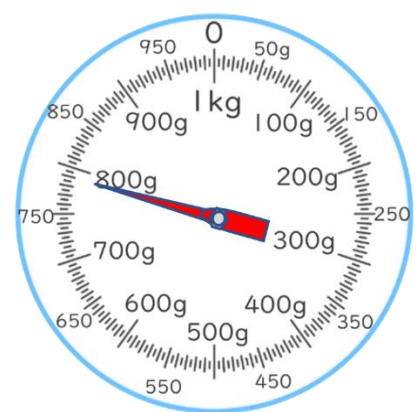
答え： 860 g

③



答え： 450 g

④



答え： 790 g