

三角形と角4

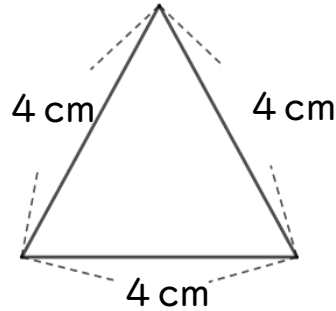
● コンパスを使った
正三角形のかき方



日にち： 月 日


名まえ _____

・ 次の正三角形をかきましょう。(うすい線はしっかりなぞろう。)



① 4 cmの辺を引く。


② コンパスで4 cmのところにしるしをつける。



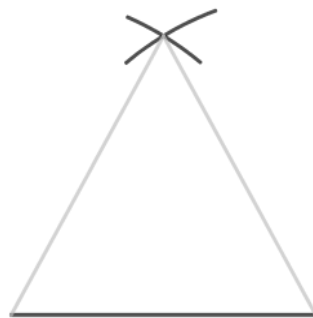
はりはここに
さすよ！

③ 反対がわも4 cmのしるしと
交わるようにしるしをつける。

④ 交わったところと辺のはしを
線でむすぶ。



はりはここに
さすよ！





三角形と角4

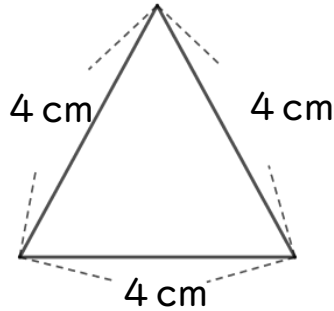
● コンパスを使った
正三角形のかき方



日にち： 月 日

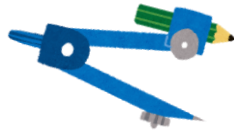
名まえ _____

・ 次の正三角形をかきましょう。(うすい線はしっかりなぞろう。)



① 4 cmの辺を引く。

② コンパスで4 cmのところにしるしをつける。



はりはここに
さすよ！



③ 反対がわも4 cmのしるしと
交わるようにしるしをつける。

④ 交わったところと辺のはしを
線でむすぶ。

