



円と球 8

● コンパスで
直線の長さを区切る

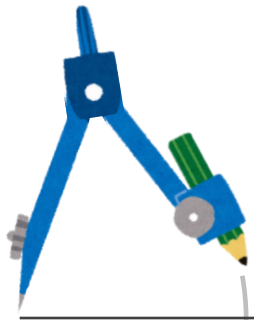
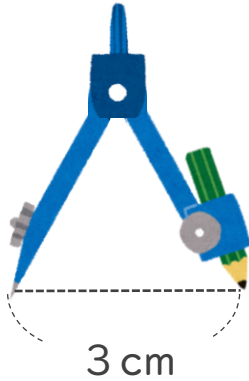


日にち： 月 日

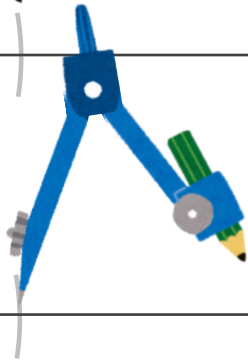
名まえ _____

- ・コンパスを使って、下の直線を3cmずつに区切りましょう。
(うすい字はなぞりましょう。)

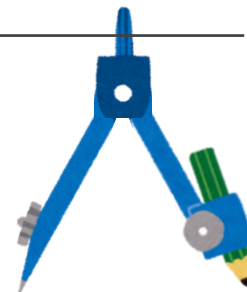
① コンパスを3cmにする



② 直線のはしから3cmのところに コンパスでしるしをつける



③ しるしから3cmのところに コンパスでしるしをつけていく



④ さい後のしるしから直線のはしが 3cmだったらかんせい！



円と球 8

● コンパスで
直線の長さを区切る


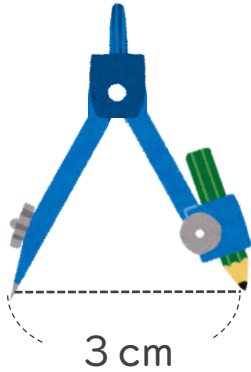


日にち： 月 日

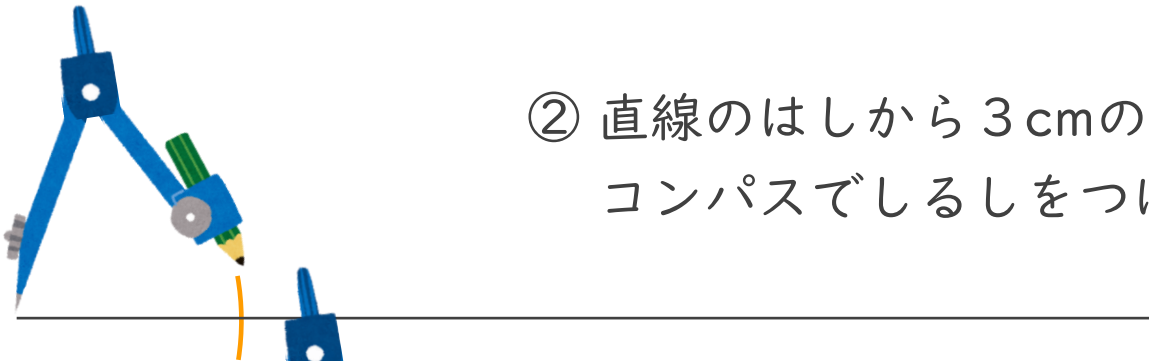
名まえ _____

- ・ コンパスを使って、下の直線を 3cm ずつに区切りましょう。
(うすい字はなぞりましょう。)

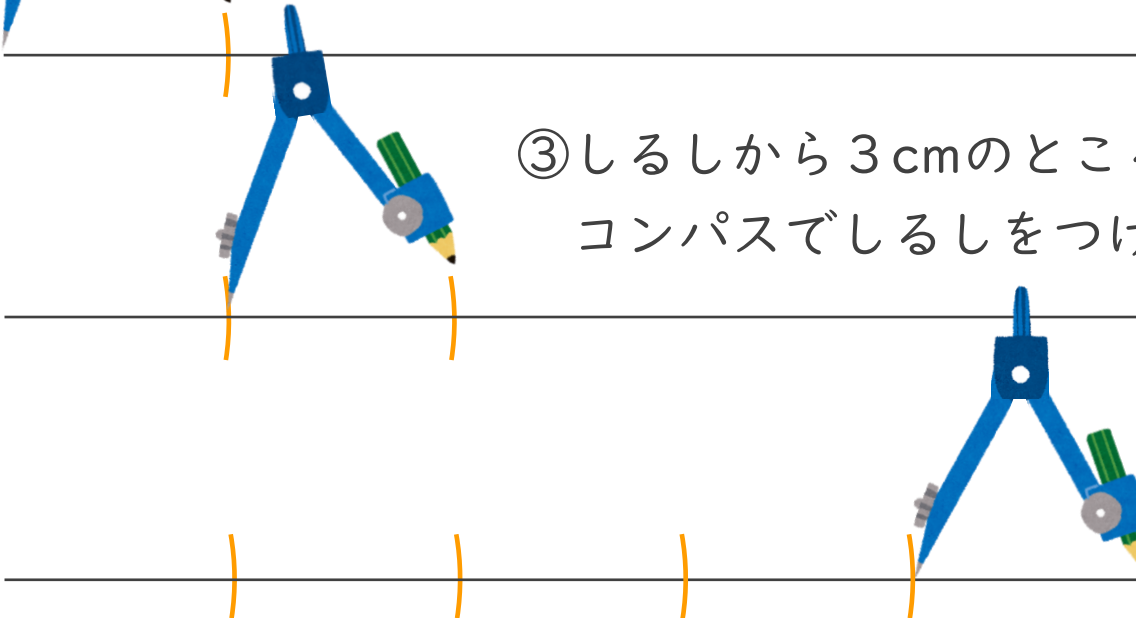
① コンパスを 3cm にする



② 直線のはしから 3cm のところに コンパスでしるしをつける



③ しるしから 3cm のところに コンパスでしるしをつけていく



④ さいご後の印しるしから直線のはしが 3cm だったらかんせい！

