



三角形と角 3

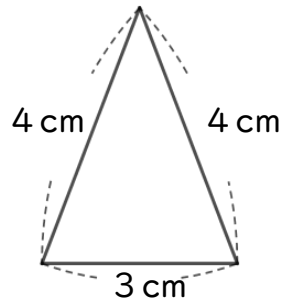
● コンパスを使った
二等辺三角形のかき方



日にち： 月 日



名まえ _____

・ 次の二等辺三角形をかきましょう。(うすい線はしっかりなぞろう。)



① 3 cmの辺を引く。

② コンパスで4 cmのところ
にしるしをつける。



はりはここに
さすよ!



③ 反対がわも4 cmのしるしと
交わるようにしるしをつける。

④ 交わったところと辺のはしを
線でおすぶ。



はりはここに
さすよ!





三角形と角 3

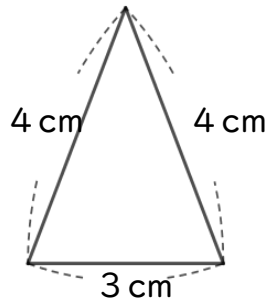
● コンパスを使った
二等辺三角形のかき方




日にち： 月 日

名まえ _____

・ 次の二等辺三角形をかきましょう。(うすい線はしっかりなぞろう。)



① 3 cmの辺を引く。



② コンパスで4 cmのところにするしをつける。



③ 反対がわも4 cmのしるしと交わるようにしるしをつける。



④ 交わったところと辺のはしを線でおすぶ。

