



円と球 3

● 円の中の一番長い線（直径）

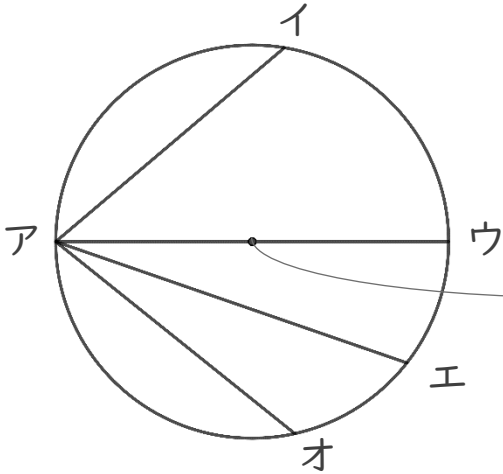


日にち： 月 日

名まえ _____

- ・ 円の中にひいた直線で一番長い直線はどれですか。
(うすい字は、なぞりましょう。)

①

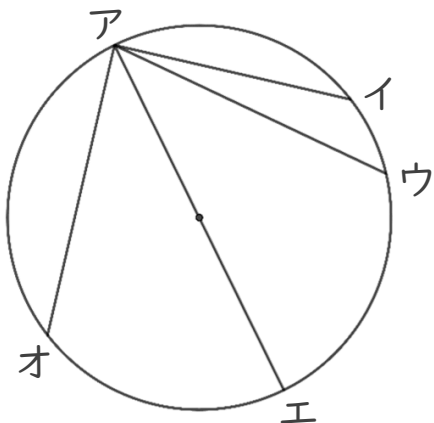


直径が一番長い。

直径は、**中心**を通っている線！

答え： 直線アウ

②



答え： 直線アエ



円と球 3

● 円の中の一番長い線（直径）

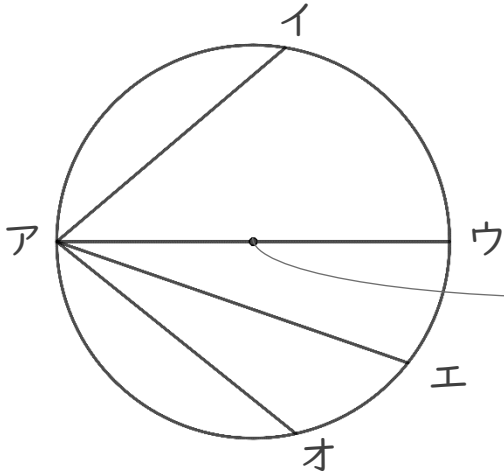


日にち： 月 日

名まえ _____

- ・ 円の中にひいた直線で一番長い直線はどれですか。
(うすい字は、なぞりましょう。)

①

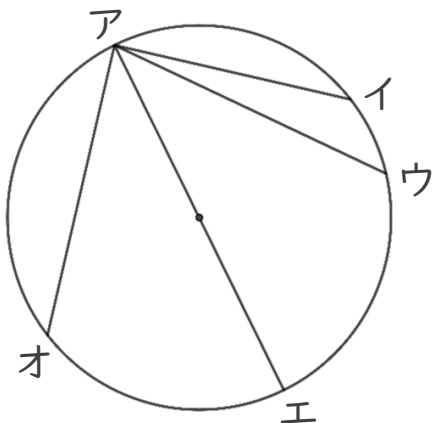


直径が一番長い。

直径は、**中心** を通っている線！

答え： 直線アウ

②



答え： 直線アエ