



# 円と球 1

● 円の中心・半径・直径とは

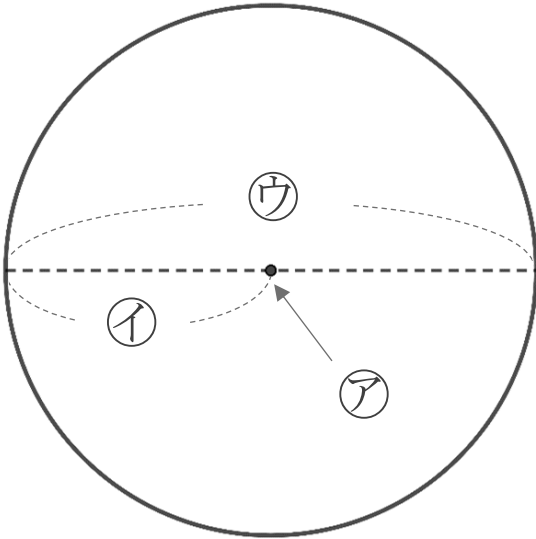


日にち：            月            日

名まえ \_\_\_\_\_

・ 次の㉠～㉣の名前を答えましょう。(うすい字は、なぞりましょう。)

①

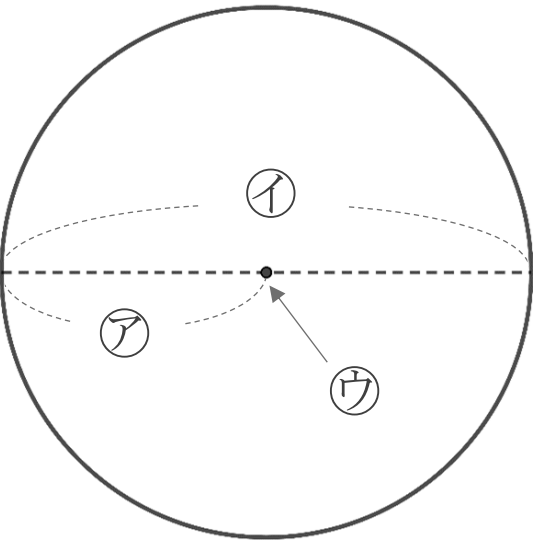


㉠：            中心

㉡：            半径

㉢：            直径

②



㉠： \_\_\_\_\_

㉡： \_\_\_\_\_

㉢： \_\_\_\_\_



# 円と球 1

● 円の中心・半径・直径とは

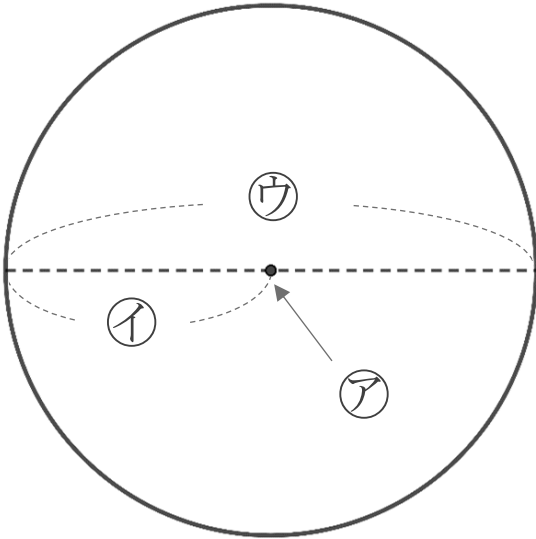


日にち：            月            日

名まえ \_\_\_\_\_

・ 次のア～ウの名前を答えましょう。(うすい字は、なぞりましょう。)

①



ア：

中心

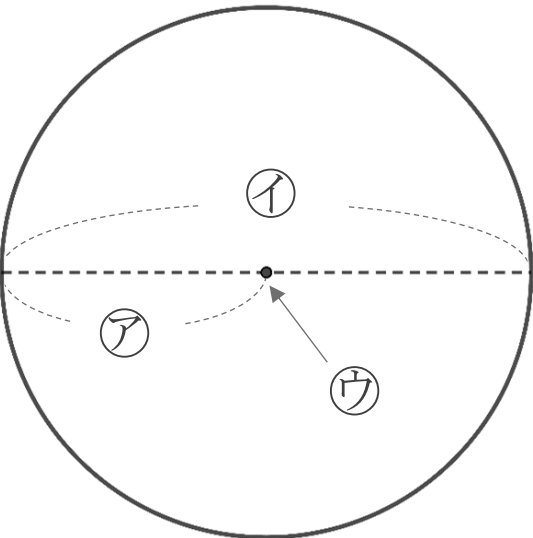
イ：

半径

ウ：

直径

②



ア：

半径

イ：

直径

ウ：

中心