



分数 9

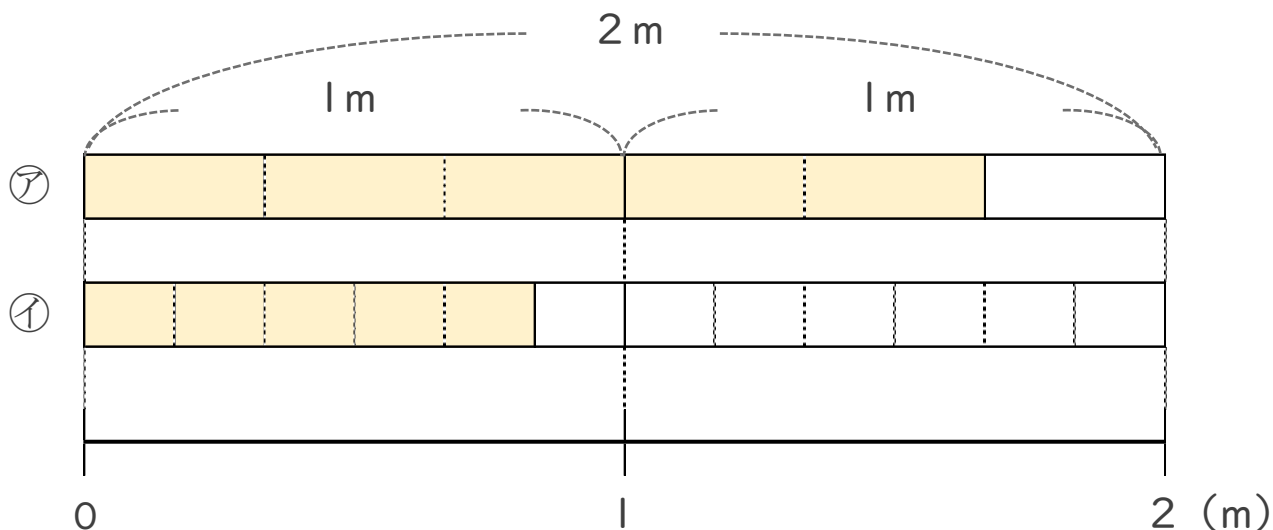
● 分数で表される
りょうとわり合



日にち： 月 日

名まえ _____

・ 次の図を見て答えましょう。(うすい字はなぞりましょう。)



① ①, ②のテープはそれぞれ2mを何等分していますか。

① 6 等分 ② 等分

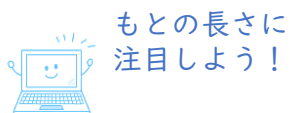
② 色のついた長さを「2mの $\frac{\quad}{\quad}$ 」と表してみましよう。

① 2mの $\frac{5}{6}$ ② 2mの _____

③ ①, ②のテープはそれぞれ1mを何等分していますか。

① 3 等分 ② 等分

④ ①, ②の色のついたテープの長さはそれぞれ何mですか。



① $\frac{5}{3}$ m ② m



分数 9

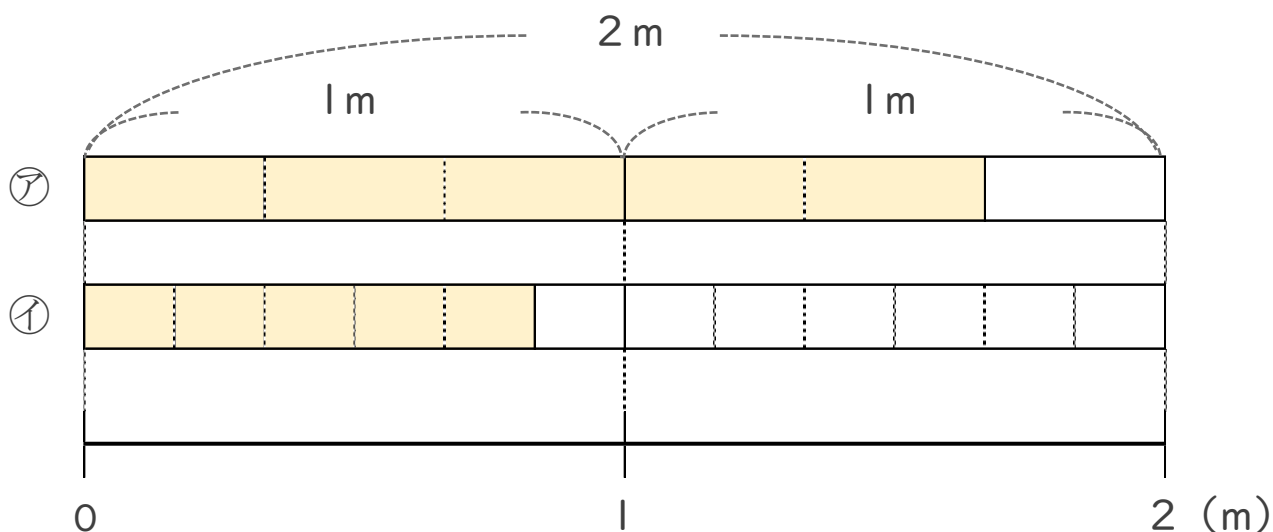
● 分数で表される
りょうとわり合



日にち： 月 日

名まえ _____

・ 次の図を見て答えましょう。(うすい字はなぞりましょう。)



① ①, ②のテープはそれぞれ2mを何等分していますか。

① 6 等分 ② 12 等分

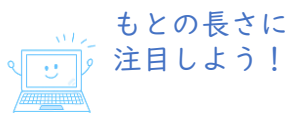
② 色のついた長さを「2mの $\frac{\quad}{\quad}$ 」と表してみましよう。

① 2mの $\frac{5}{6}$ ② 2mの $\frac{5}{12}$

③ ①, ②のテープはそれぞれ1mを何等分していますか。

① 3 等分 ② 6 等分

④ ①, ②の色のついたテープの長さはそれぞれ何mですか。



① $\frac{5}{3}$ m ② $\frac{5}{6}$ m