



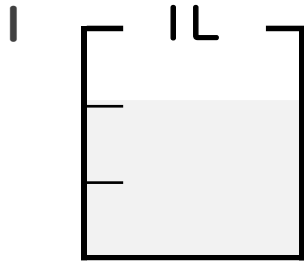
分数 5

● 分数の水のかさの色ぬり



日にち： 月 日

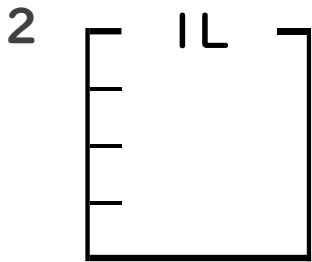
名まえ _____



- ① $\frac{1}{3}$ Lの 2 分だけ色をぬりましょう。
(うすいところはなぞりましょう。)

- ② 色をぬったところのかさは何Lですか。
(うすい字はなぞりましょう。)

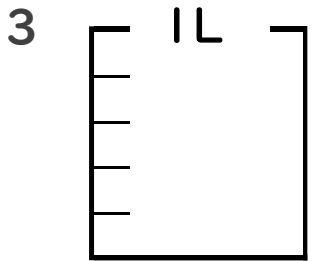
 $\frac{2}{3}$ L



- ① $\frac{1}{4}$ Lの 3 分だけ色をぬりましょう。

- ② 色をぬったところのかさは何Lですか。

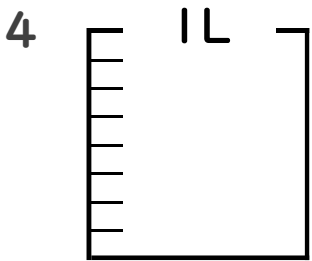
 L



- ① $\frac{1}{5}$ Lの 4 分だけ色をぬりましょう。

- ② 色をぬったところのかさは何Lですか。

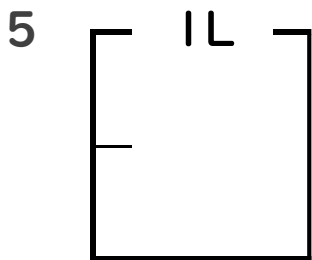
 L



- ① $\frac{1}{8}$ Lの 5 分だけ色をぬりましょう。

- ② 色をぬったところのかさは何Lですか。

 L



- ① $\frac{1}{2}$ Lの 1 分だけ色をぬりましょう。

- ② 色をぬったところのかさは何Lですか。

 L





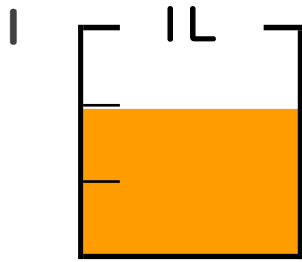
分数 5

◎ 分数の水のかさの色ぬり



日にち： 月 日

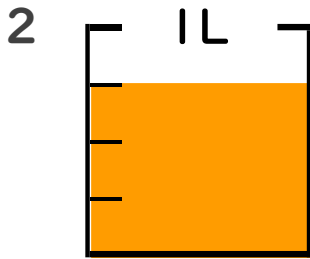
名まえ _____



- ① $\frac{1}{3}$ Lの 2 ぶんだけ色をぬりましょう。
(うすいところはなぞりましょう。)

- ② 色をぬったところのかさは何Lですか。
(うすい字はなぞりましょう。)

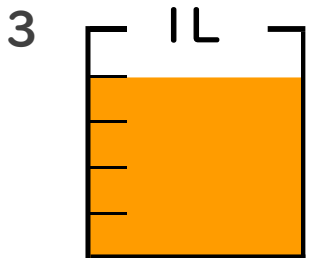
$$\frac{2}{3} \text{ L}$$



- ① $\frac{1}{4}$ Lの 3 ぶんだけ色をぬりましょう。

- ② 色をぬったところのかさは何Lですか。

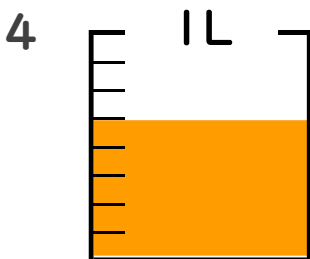
$$\frac{3}{4} \text{ L}$$



- ① $\frac{1}{5}$ Lの 4 ぶんだけ色をぬりましょう。

- ② 色をぬったところのかさは何Lですか。

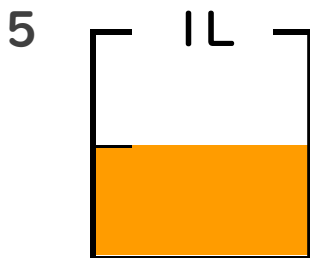
$$\frac{4}{5} \text{ L}$$



- ① $\frac{1}{8}$ Lの 5 ぶんだけ色をぬりましょう。

- ② 色をぬったところのかさは何Lですか。

$$\frac{5}{8} \text{ L}$$



- ① $\frac{1}{2}$ Lの 1 ぶんだけ色をぬりましょう。

- ② 色をぬったところのかさは何Lですか。

$$\frac{1}{2} \text{ L}$$

