



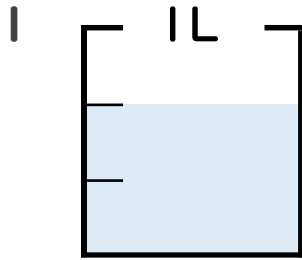
# 分数 4

● 分数の水のかさの読み取り



日にち： 月 日

名まえ \_\_\_\_\_



① 図の水のかさは1めもりの何こ分ですか？

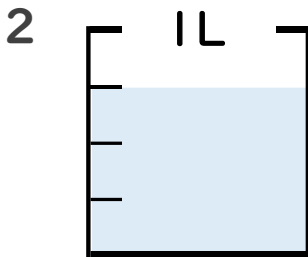
2 共分

(うすい字はなぞりましょう。)

② 水のかさは、何<sup>リットル</sup>Lですか？

$\frac{2}{3}$  L

(うすい字はなぞりましょう。)

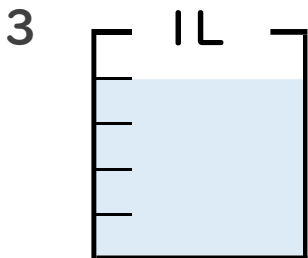


① 図の水のかさは1めもりの何こ分ですか？

\_\_\_\_\_ 共分

② 水のかさは、何Lですか？

\_\_\_\_\_ L

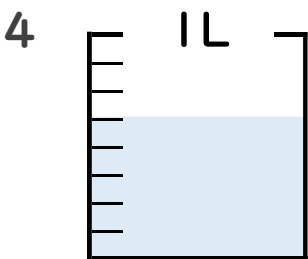


① 図の水のかさは1めもりの何こ分ですか？

\_\_\_\_\_ 共分

② 水のかさは、何Lですか？

\_\_\_\_\_ L

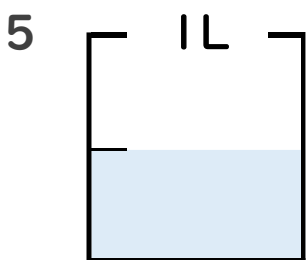


① 図の水のかさは1めもりの何こ分ですか？

\_\_\_\_\_ 共分

② 水のかさは、何Lですか？

\_\_\_\_\_ L



① 図の水のかさは1めもりの何こ分ですか？

\_\_\_\_\_ 共分

② 水のかさは、何Lですか？

\_\_\_\_\_ L





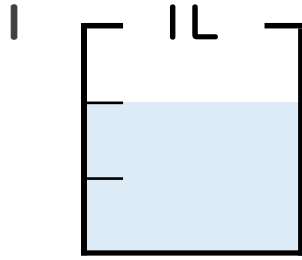
# 分数 4

● 分数の水のかさの読み取り



日にち： 月 日

名まえ \_\_\_\_\_

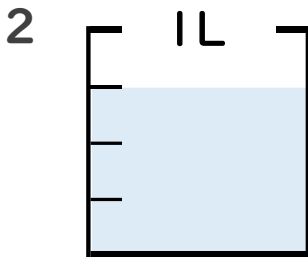


① 図の水のかさは1めもりの何こ分ですか？ 2 共分

(うすい字はなぞりましょう。)

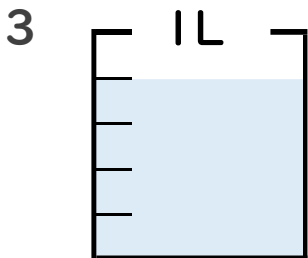
② 水のかさは、何<sup>リットル</sup>Lですか？  $\frac{2}{3}$  L

(うすい字はなぞりましょう。)



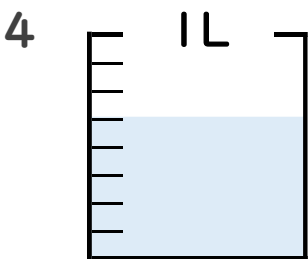
① 図の水のかさは1めもりの何こ分ですか？ 3 共分

② 水のかさは、何<sup>リットル</sup>Lですか？  $\frac{3}{4}$  L



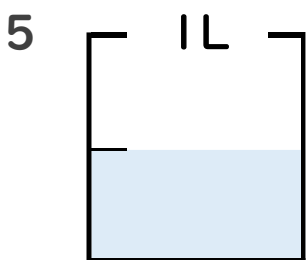
① 図の水のかさは1めもりの何こ分ですか？ 4 共分

② 水のかさは、何<sup>リットル</sup>Lですか？  $\frac{4}{5}$  L



① 図の水のかさは1めもりの何こ分ですか？ 5 共分

② 水のかさは、何<sup>リットル</sup>Lですか？  $\frac{5}{8}$  L



① 図の水のかさは1めもりの何こ分ですか？ 1 共分

② 水のかさは、何<sup>リットル</sup>Lですか？  $\frac{1}{2}$  L

