



分数 2

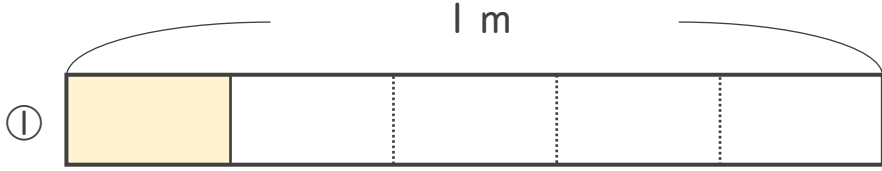
● 分数の長さの読み取り



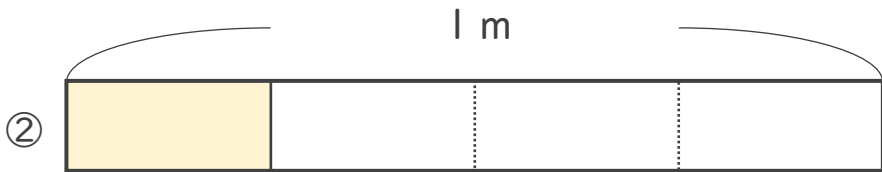
日にち： 月 日

名まえ _____


いろ
・色をぬったところのながさは、何mでしょう。なん



こたえ： $\frac{1}{5}\text{ m}$



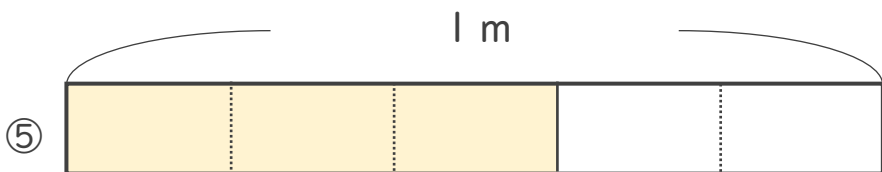
こたえ： $\frac{1}{4}\text{ m}$



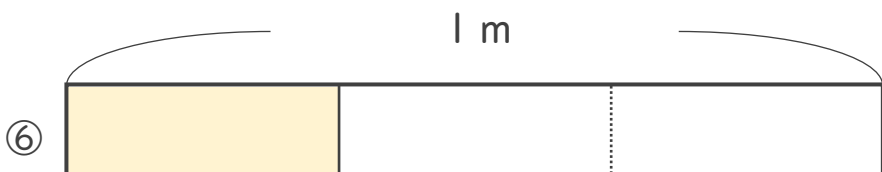
こたえ： $\frac{2}{3}\text{ m}$



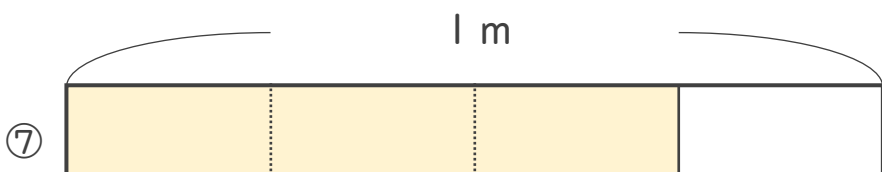
こたえ：_____ m



こたえ：_____ m



こたえ：_____ m



こたえ：_____ m





分数 2

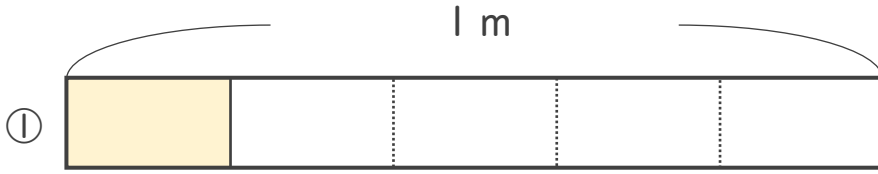
● 分数の長さの読み取り



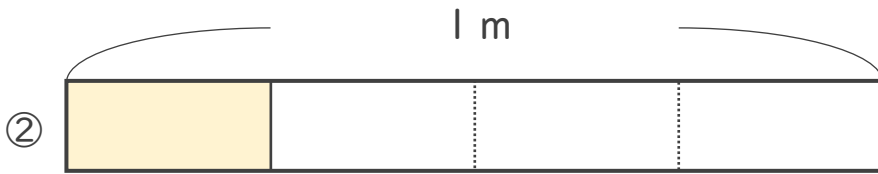
日にち： 月 日

名まえ _____


いろ
・色をぬったところのながは、なん
mでしょう。



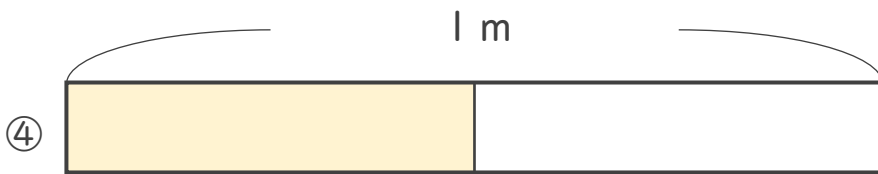
こたえ： $\frac{1}{5}$ m



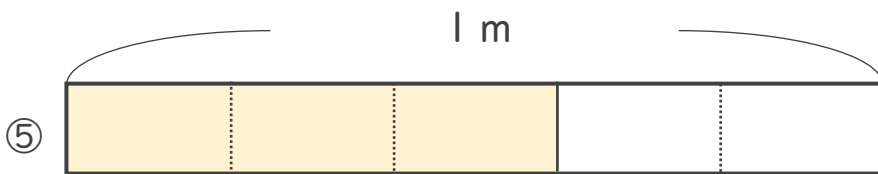
こたえ： $\frac{1}{4}$ m



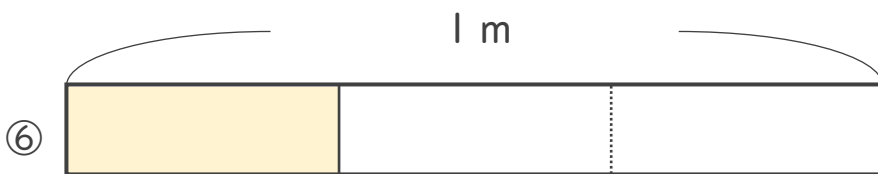
こたえ： $\frac{2}{3}$ m



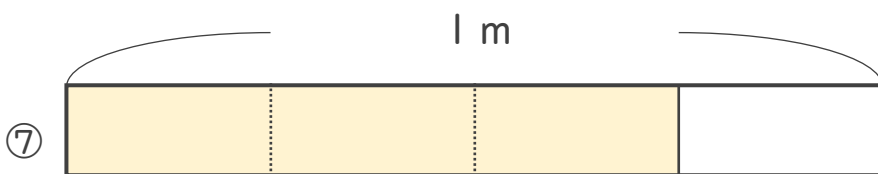
こたえ： $\frac{1}{2}$ m



こたえ： $\frac{3}{5}$ m



こたえ： $\frac{1}{3}$ m



こたえ： $\frac{3}{4}$ m

