



## 円と球 4

● 半径の長さから円をかく

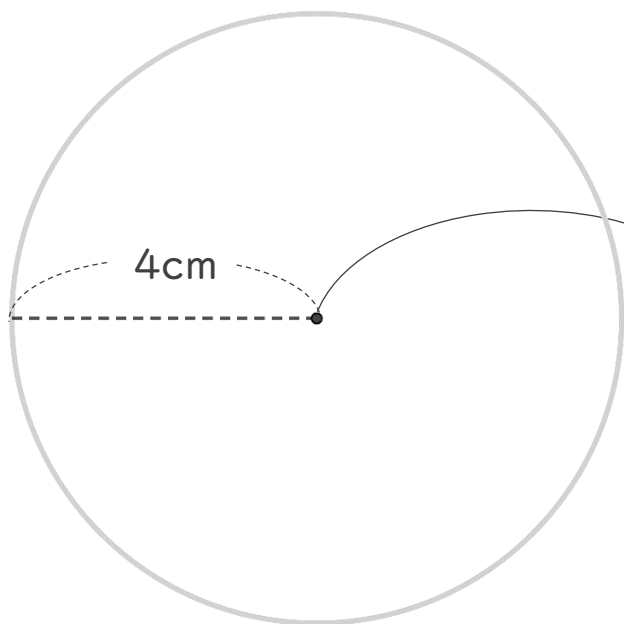


日にち：            月            日

名まえ \_\_\_\_\_

- ・コンパスを使って、次の円をかきましょう。  
(うすい字はなぞりましょう。)

### ① 半径が4 cmの円



① コンパスを 4cm に開いて  
中心にはりをさして  
円をかく

② かいた円の直径が  
8 cm になっているか  
チェックしよう

### ② 半径が3 cm 5 mmの円



① コンパスを 3cm5mm  
に開いて円をかく

② かいた円の直径が  
7cm になっているか  
チェックしよう



## 円と球 4

● 半径の長さから円をかく

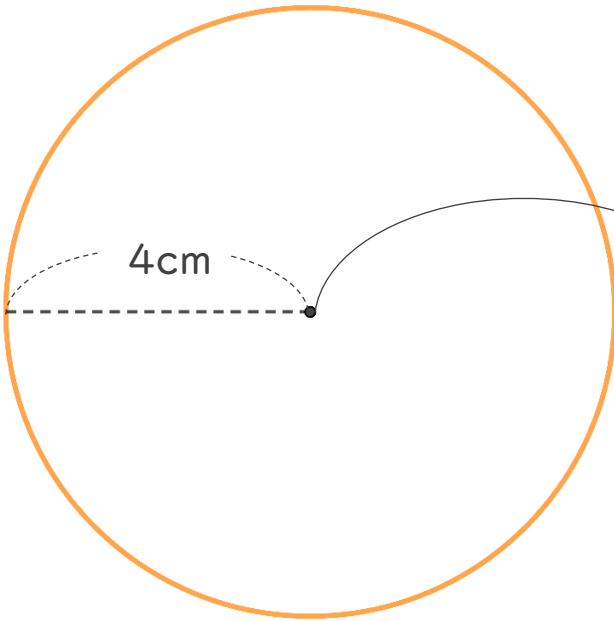


日にち：            月            日

名まえ \_\_\_\_\_

- ・コンパスを使って、次の円をかきましょう。  
(うすい字はなぞりましょう。)

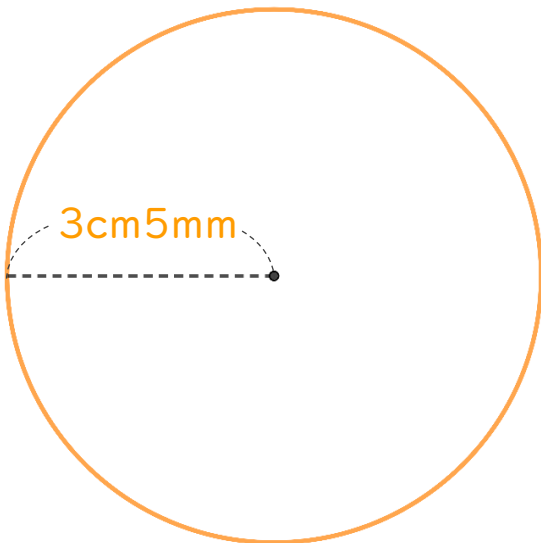
### ① 半径が4 cmの円



① コンパスを 4cm に開いて  
中心にはりをさして  
円をかく

② かいた円の直径が  
8cmになっているか  
チェックしよう

### ② 半径が3 cm 5 mmの円



① コンパスを 3cm5mm  
に開いて円をかく

② かいた円の直径が  
7cm になっているか  
チェックしよう