



わり算 7

● 商が0や1になるわり算



日にち： 月 日


名まえ _____

・箱に入っているクッキーを4人で同じ数ずつ分けます。

1人分は何こになりますか。

(うすい字はなぞりましょう。)

① 8こ入っているとき





$$\square \div 4 = \square$$

答え

こ

② 4こ入っているとき




$$4 \div 4 = 1$$

答え

こ

③ 入っていないとき



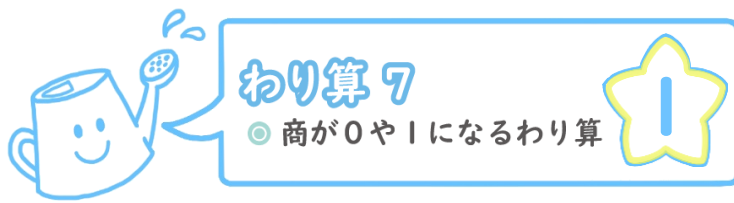
$$0 \div 4 = 0$$

答え

こ

0をどんな数でわっても、
答えはいつも0になるよ！






日にち： 月 日

名まえ _____

- 箱に入っているクッキーを4人で同じ数ずつ分けます。
1人分は何こになりますか。(うすい字はなぞりましょう。)

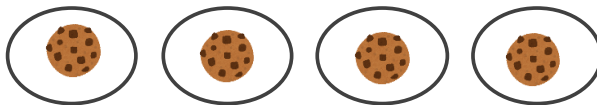
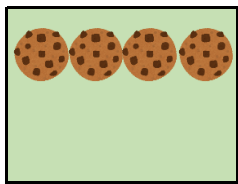
① 8こ入っているとき



$$\boxed{8} \div 4 = \boxed{2}$$

答え 2こ


② 4こ入っているとき



$$\boxed{4} \div 4 = \boxed{1}$$

答え 1こ

③ 入っていないとき



$$\boxed{0} \div 4 = \boxed{0}$$

答え 0こ

0をどんな数でわっても、
答えはいつも0になるよ！

