



# 小数の意味と表し方7

● 小数で表す1cmより短い長さ

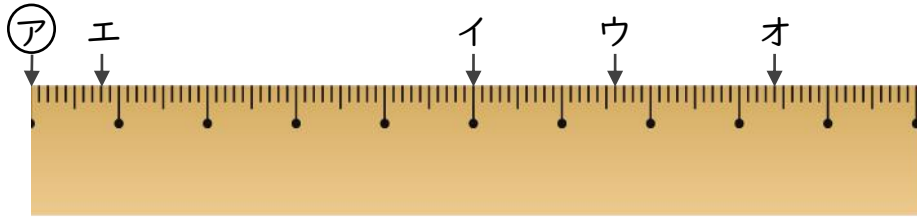


日にち： 月 日

名まえ \_\_\_\_\_

・ ㊦からイ、ウ、エ、オまでの長さは、それぞれ何cmですか。  
(うすい字はなぞりましょう。)

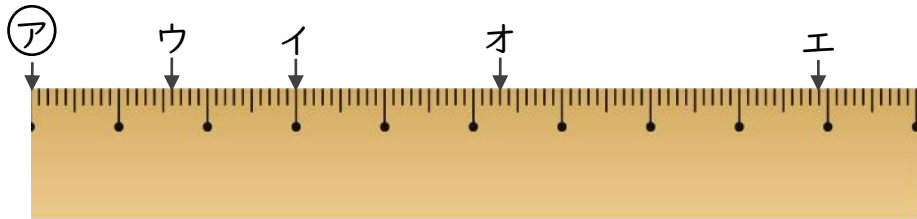
①



答え ㊦からイ 5 cm ㊦からウ 6.6 cm

㊦からエ 0.8 cm ㊦からオ 8.4 cm

②



答え ㊦からイ ㊦からウ

㊦からエ ㊦からオ



# 小数の意味と表し方7

● 小数で表す1cmより短い長さ

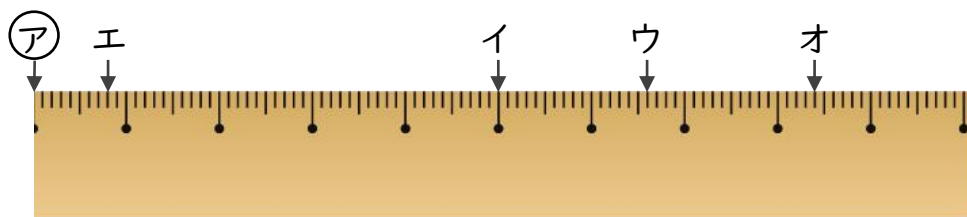


日にち：            月            日

名まえ \_\_\_\_\_

・ ㊦からイ、ウ、エ、オまでの長さは、それぞれ何cmですか。  
(うすい字はなぞりましょう。)

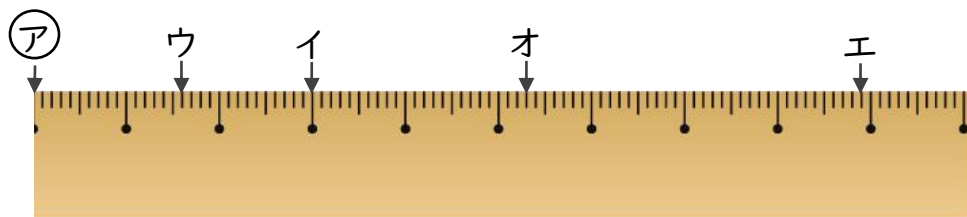
①



答え    ㊦からイ    5    cm            ㊦からウ    6.6    cm

          ㊦からエ    0.8    cm            ㊦からオ    8.4    cm

②



答え    ㊦からイ    3    cm            ㊦からウ    1.6    cm

          ㊦からエ    8.9    cm            ㊦からオ    5.3    cm