



小数のたし算とひき算 13

● 小数のたし算の文章問題

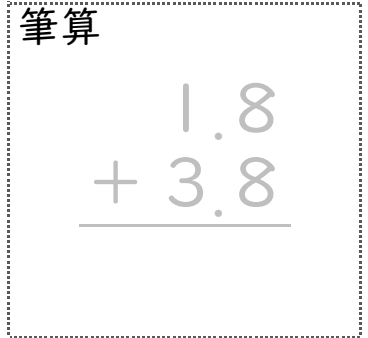


日にち： 月 日

名まえ _____

・ 次の問いに答えましょう。(うすい字はなぞりましょう。)



- 1 びんには1.8L、バケツには3.8Lの水が入っています。
 水は合わせて何Lありますか。



式： $1.8 + 3.8 =$

答え： _____

- 2 びんには1.8L、バケツにはびんより3.2L多く水が入っています。
 バケツには何Lの水が入っていますか。



式： $1.8 + 3.2 =$

答え： _____





小数のたし算とひき算 13

● 小数のたし算の文章問題

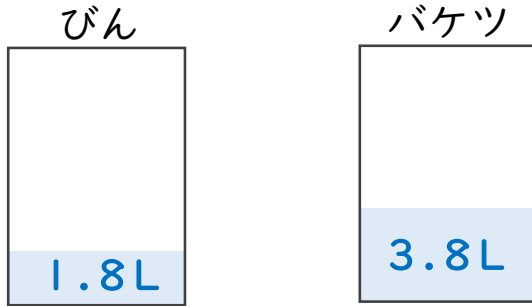


日にち： 月 日

名まえ _____

・ 次の問いに答えましょう。（うすい字はなぞりましょう。）

- 1 びんには1.8L、バケツには3.8Lの水が入っています。水は合わせて何Lありますか。



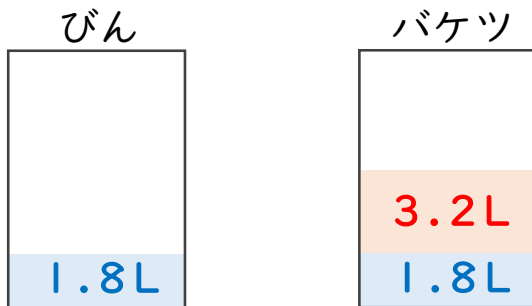
筆算

$$\begin{array}{r} 1.8 \\ + 3.8 \\ \hline 5.6 \end{array}$$

式： $1.8 + 3.8 = 5.6$

答え： 5.6L

- 2 びんには1.8L、バケツにはびんより3.2L多く水が入っています。バケツには何Lの水が入っていますか。



筆算

$$\begin{array}{r} 1.8 \\ + 3.2 \\ \hline 5.0 \end{array}$$

式： $1.8 + 3.2 = 5$

答え： 5L

