



小数のたし算とひき算 14

● 小数のひき算の文章問題

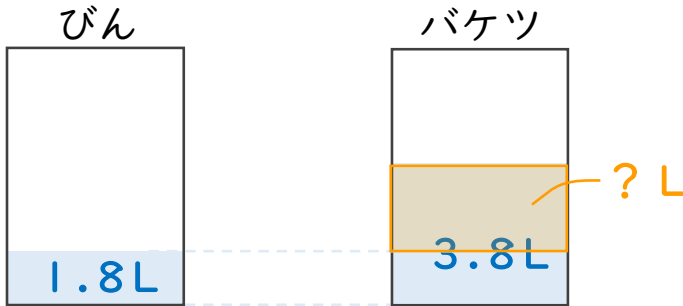


日にち： 月 日

名まえ _____

・ 次の問いに答えましょう。（うすい字はなぞりましょう。）

- 1 びんには1.8L、バケツには3.8Lの水が入っています。バケツには、びんより何L多く水が入っていますか。

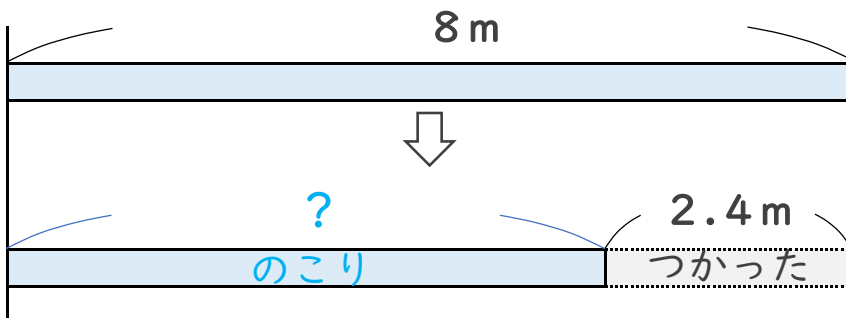


筆算

式： $3.8 - 1.8 =$

答え： _____

- 2 8mのリボンがあります。今日2.4m使うと、のこりのリボンの長さは何mになりますか。



筆算

式： $8 - 2.4 =$

答え： _____





小数のたし算とひき算 14

● 小数のひき算の文章問題

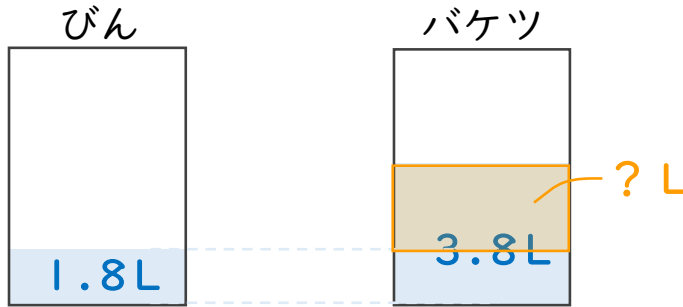


日にち： 月 日

名まえ _____

・ 次の問いに答えましょう。（うすい字はなぞりましょう。）

- 1 びんには1.8L、バケツには3.8Lの水が入っています。バケツには、びんより何L多く水が入っていますか。



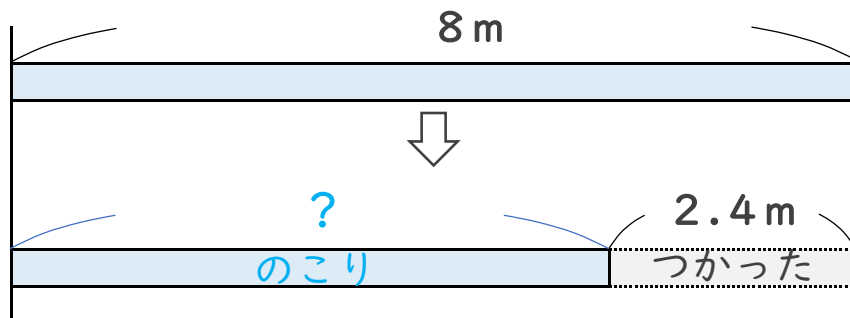
筆算

$$\begin{array}{r} 3.8 \\ - 1.8 \\ \hline 2.0 \end{array}$$

式： $3.8 - 1.8 = 2$

答え： 2L

- 2 8mのリボンがあります。今日2.4m使うと、のこりのリボンの長さは何mになりますか。



筆算

$$\begin{array}{r} 8.0 \\ - 2.4 \\ \hline 5.6 \end{array}$$

式： $8 - 2.4 = 5.6$

答え： 5.6 m

