



小数の意味と表し方 ①

● 小数の位置を数直線へ書きこむ



日にち： 月 日

名まえ _____

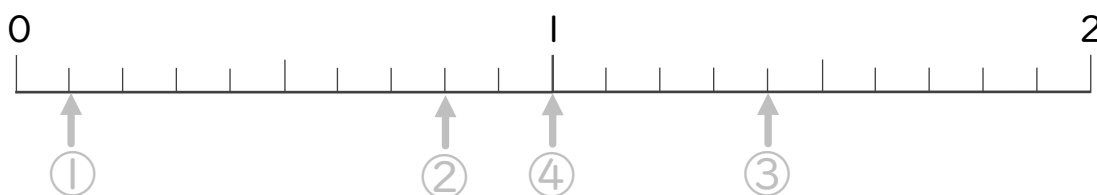
・ 次の数を表すメモリに ↑ を書きましょう。
(うすい字はなぞりましょう。)

① 0.1

② 0.8

③ 1.4

④ 1.0

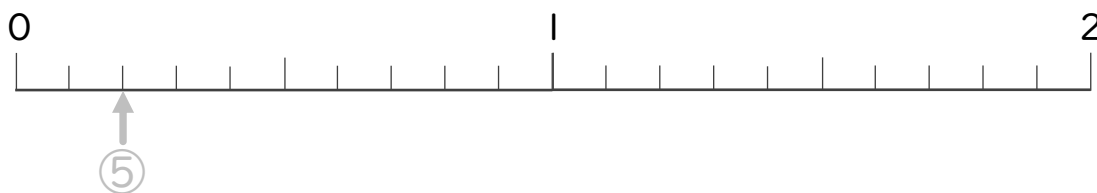


⑤ 0.2

⑥ 0.4

⑦ 1.4

⑧ 0.7



⑨ 0.8

⑩ 0.6

⑪ 1.3

⑫ 1.7





小数の意味と表し方II

● 小数の位置を数直線へ書きこむ



日にち： 月 日

名まえ _____

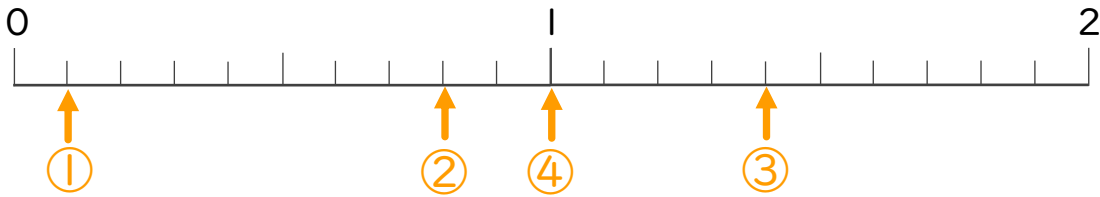
・ 次の数を表すめもりに ↑ を書きましょう。
(うすい字はなぞりましょう。)

① 0.1

② 0.8

③ 1.4

④ 1.0

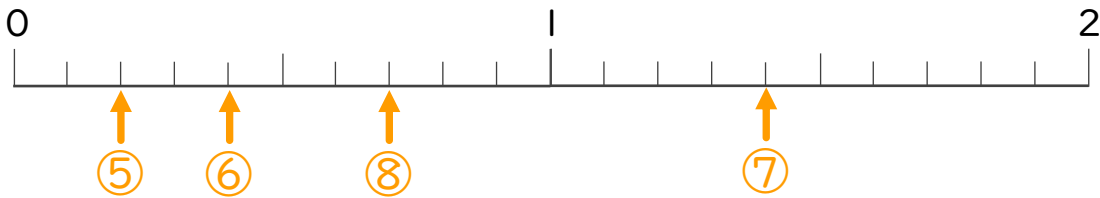


⑤ 0.2

⑥ 0.4

⑦ 1.4

⑧ 0.7



⑨ 0.8

⑩ 0.6

⑪ 1.3

⑫ 1.7

