



□を使った式 10

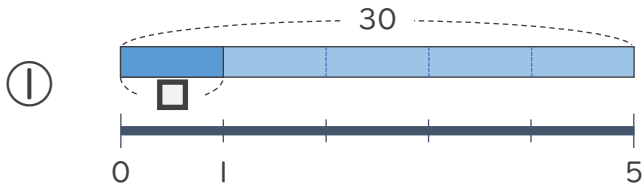
● 数 ÷ □ の
□ をもとめる計算



日にち： 月 日

名まえ _____

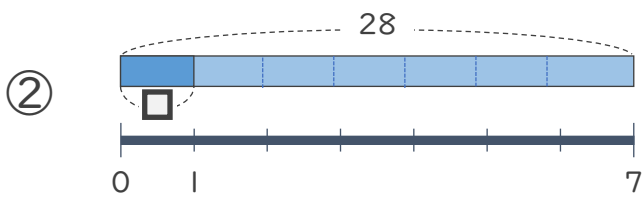
・ □ にあてはまる数をもとめましょう。(うすい字はなぞりましょう)



$$30 \div \square = 5$$

$$\square = 30 \div 5$$

$$\square = 6$$



$$28 \div \square = 7$$

$$\square = 28 \div 7$$

$$\square =$$



□を使った式 10

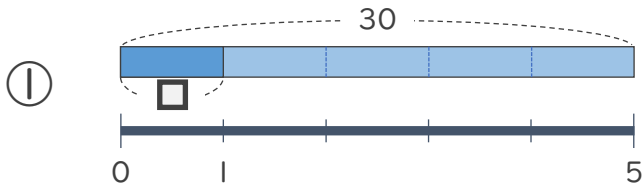
● 数 ÷ □ の
□ をもとめる計算



日にち： 月 日

名まえ _____

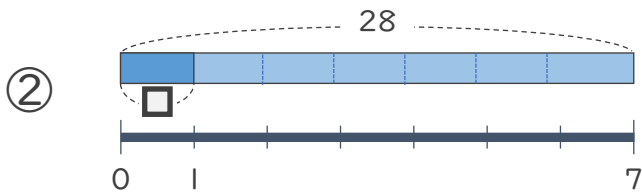
- にあてはまる数をもとめましょう。(うすい字はなぞりましょう)



$$30 \div \square = 5$$

$$\square = 30 \div 5$$

$$\square = 6$$



$$28 \div \square = 7$$

$$\square = 28 \div 7$$

$$\square = 4$$

