



小数の意味と表し方 10

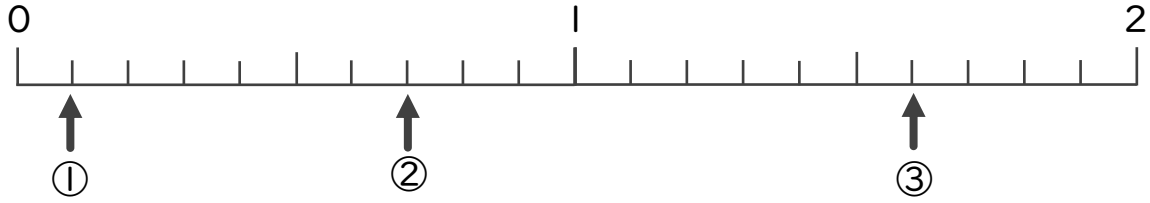
● 数直線の小数の読みとり



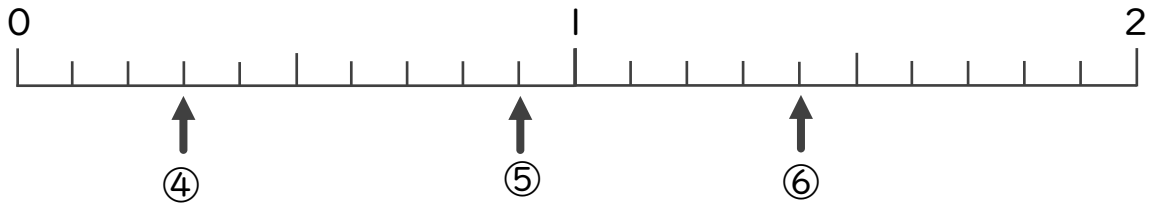
日にち： 月 日

名まえ _____

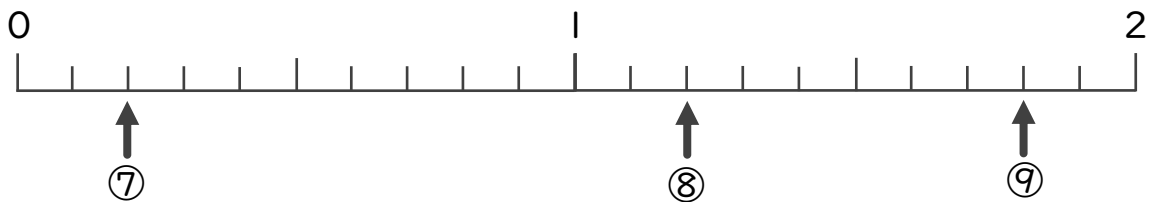
・ 下の数直線を見て ↑ のめもりが表す数を書きましょう。
(うすい字はしっかりなぞりましょう。)



① 0.1 ② 0.7 ③ 1.6



④ 0.3 ⑤ ⑥



⑦ ⑧ ⑨



小数の意味と表し方 10

数直線の小数の読みとり



日にち： 月 日

名まえ _____

・下の数直線を見て ↑ のめもりが表す数を書きましょう。
(うすい字はしっかりなぞりましょう。)

