



小数の意味と表し方 10

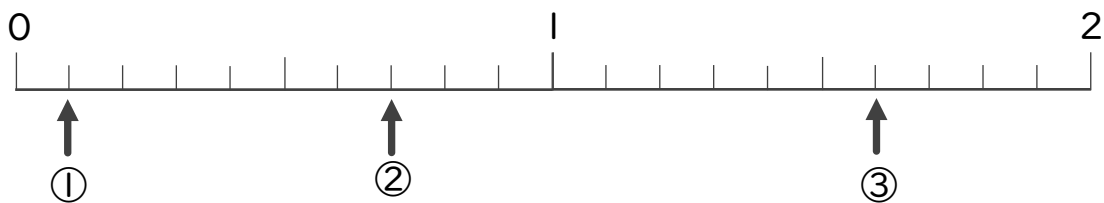
数直線の小数の読みとり



日にち： 月 日

名まえ _____

・下の数直線を見て ↑ のめもりが表す数を書きましょう。
(うすい字はなぞりましょう。)



①

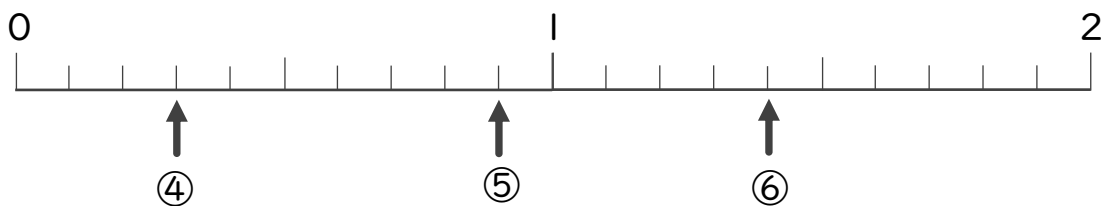
0.1

②

0.7

③

1.6

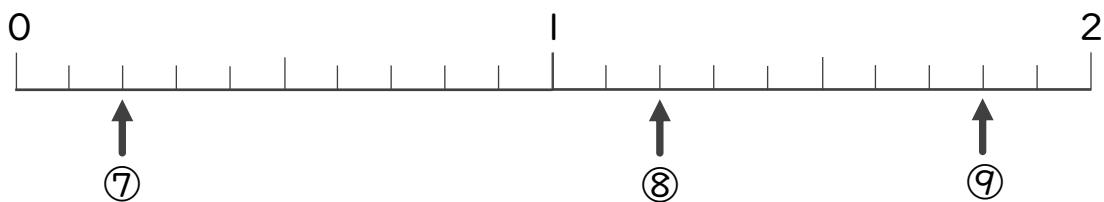


④

0.3

⑤

⑥



⑦

⑧

⑨



小数の意味と表し方 10

● 数直線の小数の読みとり



日にち： 月 日

名まえ _____

・ 下の数直線を見て ↑ のめもりが表す数を書きましょう。
(うすい字はなぞりましょう。)

